



ATIVIDADE PEDAGÓGICA COMPLEMENTAR- APC
ESCOLA RURAL MUNICIPAL ELEODORO ÉBANO PEREIRA

E-mail escolaeleodoro@outlook.com Fone: (44) 3413-1140

Componente Curricular: Língua Portuguesa

Habilidade da BNCC:

Semana:08 – De 17 /05/2021 à 28/05/2021.

Nome do aluno (a):

Turma: 4º e 5º Ano.

Professora-Shirley do Carmo Raitz

6) LEIA O TEXTO COM ATENÇÃO.

POR QUE DORMIMOS?

GENTE DORME, CACHORRO DORME, PASSARINHO DORME, ATÉ MOSCA DORME!...

MAS VOCÊ JÁ PAROU PARA SE PERGUNTAR POR QUÊ?!

TUDO MUNDO SABE POR EXPERIÊNCIA PRÓPRIA QUE AQUELAS OITO HORINHAS NOTURNAS DE SONO SÃO IMPORTANTES. DÁ PARA NÃO DORMIR UMA NOITE OU OUTRA, MAS FICAR SEM DORMIR NÃO DÁ, A GENTE NÃO AGUENTA!

A - FAÇA UM X NA RESPOSTA QUE MOSTRA SOBRE O QUE O TEXTO FALA:

- () A NOITE.
- () OS PASSARINHOS.
- () O SONO.
- () OS CACHORROS.

7) FAÇA UM X ONDE ESTÁ ESCRITO O NOME DO DESENHO:

- A () LARANJADO
- B () LARANJAL
- C () LARANJA
- D () LARANJADA



8) FAÇA UM X NA PALAVRA QUE RIMA COM O NOME DO DESENHO:

- A () JOELHO
- B () CORAÇÃO
- C () COLAR
- D () ÓLEO



9) VEJA AS FIGURAS E FAÇA UM X NO QUADRINHO ABAIXO DA REVISTA.



A



B



C



D



ATIVIDADE PEDAGÓGICA COMPLEMENTAR- APC
ESCOLA RURAL MUNICIPAL ELEODORO ÉBANO PEREIRA

E-mail escolaeleodoro@outlook.com Fone: (44) 3413-1140

Componente Curricular: Língua Portuguesa

Habilidade da BNCC:

Semana:08 – De 17 /05/2021 à 28/05/2021.

Nome do aluno (a):

Turma: 4º e 5º Ano.

Professora-Shirley do Carmo Raitz

Leia e copie.

O passarinho travesso

O passarinho travesso viu a massa

já prontinha naquela assadeira.

Pousou, então, para bicá-la

e acabou fazendo uma sujeira!

A cozinheira esperta e apressada

afugentou-o com uma vassourada.



ATIVIDADE PEDAGÓGICA COMPLEMENTAR- APC
ESCOLA RURAL MUNICIPAL ELEODORO ÉBANO PEREIRA

E-mail escolaeleodoro@outlook.com Fone: (44) 3413-1140

Componente Curricular: Língua Portuguesa

Habilidade da BNCC:

Semana:08 – De 17 /05/2021 à 28/05/2021.

Nome do aluno (a):

Turma: 4º e 5º Ano.

Professora-Shirley do Carmo Raitz

LEIA COM ATENÇÃO O TEXTO EXPLICATIVO ABAIXO:

Língua Portuguesa

Aprendendo Gramática

► Sinais de pontuação

Ponto final (.)

No meu jardim há principalmente margaridas e violetas.

Esta frase termina com um sinal:
É o ponto final (.)
O ponto final indica que a frase terminou.

Exclamação (!)

Que belas flores colhemos no jardim!

► Esta frase termina com um sinal: é o ponto de exclamação (!)
► O ponto de exclamação é usado em frases que expressam alegria, tristeza, admiração, surpresa ou medo.

Interrogação (?)

Você gosta de flores?

► Esta frase termina com um sinal: é o ponto de interrogação (?)
► O ponto de interrogação é usado quando fazemos perguntas.

Vírgula (,)

No meu jardim há margaridas, violetas e cravos.

► A vírgula indica uma pequena parada na leitura de frases ou separa palavras, frases e expressões.

Travessão (—)

— No meu jardim, dizia Rute, há principalmente cravos.

► O travessão indica um diálogo entre as pessoas.



ATIVIDADE PEDAGÓGICA COMPLEMENTAR- APC
ESCOLA RURAL MUNICIPAL ELEODORO ÉBANO PEREIRA

E-mail escolaeleodoro@outlook.com Fone: (44) 3413-1140

Componente Curricular: Língua Portuguesa

Habilidade da BNCC:

Semana:08 – De 17 /05/2021 à 28/05/2021.

Nome do aluno (a):

Turma: 4º e 5º Ano.

Professora-Shirley do Carmo Raitz

QUAL É O PONTO

Pontue corretamente as frases com ? ou !

- a) Como a praça está cheia
- b) Ai Que dor de cabeça
- c) Quem é esta menina
- d) Puxa Que doce gostoso
- e) Quantos anos você tem
- f) Nossa Como você é inteligente
- g) Quantas horas são
- h) Como o céu está bonito
- i) Que dia é hoje
- j) Como você está bonita
- k) Você quer um doce



PONTUANDO

Pontue a frase abaixo com . ? ! e , .

- a) Quais são os pontos cardeais
 - _ Norte sul leste e oeste
 - _ Onde o Sol nasce
 - _ No leste
- b) Mariane de que fruta você gosta
 - _ As frutas de que mais gosto são:
laranja uva pêra e maçã
- c) Que céu azul
 - _ Quanta beleza
 - _ Lua cheia estrelas brilhantes e nuvens branquinhas dançando no céu





ATIVIDADE PEDAGÓGICA COMPLEMENTAR- APC
ESCOLA RURAL MUNICIPAL ELEODORO ÉBANO PEREIRA

E-mail escolaeleodoro@outlook.com Fone: (44) 3413-1140

Componente Curricular: Matemática

Habilidade da BNCC:

Semana:08 – De 17 /05/2021 à 28/05/2021.

Nome do aluno (a):

Turma: 4º e 5º Ano.

Professora-Shirley do Carmo Raitz

PROBLEMINHAS.



1. Numa quadra de futebol havia 136 torcedores. Chegaram mais 237. Quantos torcedores ficaram.

2 Mário tem 15 bolinhas de gude e Miguel tem o triplo dessa quantidade. Quantas bolinhas de gude Miguel possui?

3. Leandro vende salgados na feira. Veja a tabela de vendas da semana:

Tipo de salgado	Quinta - feira	Sexta - feira	Sábado	Domingo
coxinha	86	34	74	126
pastel	77	94	119	45
quibe	80	32	49	97

a. Quantos quibes Leandro vendeu no sábado?

b. Quantos salgados ele vendeu na sexta - feira?

c. Qual dia Leandro vendeu mais salgado? E menos?

d. Quantos pastéis ele vendeu ao todo no sábado e domingo?

e. Qual salgado mais vendido na semana?



ATIVIDADE PEDAGÓGICA COMPLEMENTAR- APC
ESCOLA RURAL MUNICIPAL ELEODORO ÉBANO PEREIRA

E-mail escolaeleodoro@outlook.com **Fone:** (44) 3413-1140

Componente Curricular: Matemática

Habilidade da BNCC:

Semana:08 – De 17 /05/2021 à 28/05/2021.

Nome do aluno (a):

Turma: 4º e 5º Ano.

Professora-Shirley do Carmo Raitz

1- Complete o quadro com os números que faltam.

0	1	2	3		5	6			9
10				14	15	16	17		
20	21	22		24	25		27		29
	31					36			
40	41				45		47	48	
		52	53	54		56			59
	61				65	66		68	
70	71		73				77		79
80		82	83	84	85	86			
90	91		93		95		97	98	

2- Veja esses números e escreva-os em ORDEM CRESCENTE.

75 - 28 - 67 - 81 - 37 - 50 - 4 - 43 - 92 - 15

3- Pinte o retângulo com a hora que está marcando o relógio de ponteiros.



3:10

10:15

10:03



ATIVIDADE PEDAGÓGICA COMPLEMENTAR- APC
ESCOLA RURAL MUNICIPAL ELEODORO ÉBANO PEREIRA

E-mail escolaeleodoro@outlook.com Fone: (44) 3413-1140

Componente Curricular: Matemática

Habilidade da BNCC:

Semana:08 – De 17 /05/2021 à 28/05/2021.

Nome do aluno (a):

Turma: 4º e 5º Ano.

Professora-Shirley do Carmo Raitz

CAÇA-NÚMEROS

- Encontre, no caça-números, os números abaixo:

Vinte e seis = _____

Vinte e dois = _____

Dezesseite = _____

Dez = _____

Vinte e cinco = _____

Trinta e nove = _____

Dezesseis = _____


Vinte e um = _____

Dezoito = _____

Vinte e sete = _____

Dezenove = _____

Trinta e um = _____



1	3	0	9	5	4	2	1	3	4
3	2	7	6	2	5	0	3	0	9
4	3	1	8	5	1	1	6	7	0
5	2	5	1	2	6	3	2	9	6
1	7	2	6	1	9	2	9	2	1
2	2	7	0	3	3	1	4	6	5
5	1	0	3	2	0	3	2	6	0
2	4	4	2	5	4	5	1	2	4
0	3	1	6	1	2	1	7	4	1
3	1	6	0	3	9	3	3	1	5

- Agora, escreva o antecessor e o sucessor de cada um deles:

	26			16			32			17	
	25			10			27			21	
	19			39			18			31	



ATIVIDADE PEDAGÓGICA COMPLEMENTAR- APC
ESCOLA RURAL MUNICIPAL ELEODORO ÉBANO PEREIRA

E-mail escolaeleodoro@outlook.com Fone: (44) 3413-1140

Componente Curricular: Ciências

Habilidade da BNCC:

Semana:08 – De 17 /05/2021 à 28/05/2021.

Nome do aluno (a):

Turma: 4º e 5º Ano.

Professora-Shirley do Carmo Raitz



Ciências Naturais

► O corpo humano

► **Leia:**

O nosso corpo é formado por três partes: cabeça, tronco e membros.





CABEÇA


TRONCO

MEMBROS



► Troque os desenhos por palavras e reescreva as frases.

• Na cabeça ficam os   , o  , a  e ouvidos.

• No tronco ficam o  , os pulmões, o estômago, os intestinos e outros órgãos.

• Membros superiores são os  e os inferiores são as .



ATIVIDADE PEDAGÓGICA COMPLEMENTAR- APC
ESCOLA RURAL MUNICIPAL ELEODORO ÉBANO PEREIRA

E-mail escolaeleodoro@outlook.com Fone: (44) 3413-1140

Componente Curricular: Geografia

Habilidade da BNCC:

Semana:08 – De 17 /05/2021 à 28/05/2021.

Nome do aluno (a):

Turma: 4º e 5º Ano.

Professora-Shirley do Carmo Raitz

1) Ligue corretamente:

ZONA URBANA

CAMPO

ZONA RURAL

CIDADE

2) Observe as características típicas do espaço urbano e rural. Depois organize-as no quadro abaixo dividindo-as entre rural e urbano:

Plantações	Indústrias	Lojas	Aeroporto
Trânsito intenso	Vegetação	Prédios	Matas
Criação de animais	Multidão	Rios poluídos	Hortas
Pecuária	Fazendas	Shopping	Agricultura

ESPAÇO RURAL	ESPAÇO URBANO

3) Enumere corretamente com as atividades realizadas no campo?

(A) AGROPECUÁRIA

() É a atividade que retira recursos diretamente da natureza.

(B) EXTRATIVISMO

Os recursos naturais podem ser de origem vegetal, animal ou mineral.

(C) PECUÁRIA

() É o cultivo da terra.

(D) AGRICULTURA

() É o conjunto de atividades ligadas à agricultura e à pecuária.

() É a criação de animais.

4) Cite um produto feito com cada matéria-prima de origem agropecuária citada a seguir?

MATÉRIA-PRIMA	PRODUTO
Algodão	
Trigo	
Carne	
Soja	
Leite	
Couro	
Lã	
Frutas	
Hortaliças	



ATIVIDADE PEDAGÓGICA COMPLEMENTAR- APC
ESCOLA RURAL MUNICIPAL ELEODORO ÉBANO PEREIRA

E-mail escolaeleodoro@outlook.com Fone: (44) 3413-1140

Componente Curricular: Ensino Religioso

Habilidade da BNCC:

Semana: 08 – De 17 /05/2021 à 28/05/2021.

Nome do aluno (a):

Turma: 4º e 5º Ano.

Professora-Shirley do Carmo Raitz

CONSTRUINDO VALORES

1) ENCONTRE AS PALAVRAS NO DIAGRAMA ABAIXO.



C	A	R	I	D	A	D	E	B	N	O	L
V	I	Y	N	G	E	I	P	O	B	H	E
R	E	S	P	E	I	T	O	N	L	B	A
M	T	D	E	U	F	W	Q	D	Z	C	L
T	E	R	N	U	R	A	B	A	N	M	D
B	N	K	O	P	M	B	K	D	R	T	A
U	N	I	Ã	O	B	U	R	E	A	M	D
B	T	D	Q	S	O	P	N	L	M	Ç	E
H	U	M	I	L	D	A	D	E	O	C	V
B	U	M	O	P	E	Q	Y	U	R	O	Z
O	B	E	D	I	Ê	N	C	I	A	X	W

CARIDADE- RESPEITO- TERNURA-
UNIÃO- HUMILDADE-OBEDIÊNCIA-
AMOR- BONDADE- LEALDADE



ATIVIDADE PEDAGÓGICA COMPLEMENTAR- APC
ESCOLA RURAL MUNICIPAL ELEODORO ÉBANO PEREIRA

E-mail escolaeleodoro@outlook.com Fone: (44) 3413-1140

Componente Curricular: Língua Portuguesa

Habilidade da BNCC:

Semana: 08 – De 17 /05/2021 à 28/05/2021.

Nome do aluno (a):

Turma: 4º e 5º Ano.

Professora-Shirley do Carmo Raitz

LEIA O TEXTO ABAIXO PARA RESPONDER AS QUESTÕES:

A galinha dos ovos de ouro

Um homem tinha uma galinha que punha ovos de ouro. Achando que por dentro ela era só ouro, matou-a, mas não encontrou nada de diferente das outras galinhas. Assim, em vez de descobrir o enorme tesouro que esperava, perdeu até o pequeno lucro que ela lhe dava.

ESOPO,550º. C. Fábulas de ESOPO, Porto Alegre: L&P, 2009.

A fábula " A galinha de ovos de ouro", ensina o leitor que:

- (A) não se deve ser curioso.
- (B) não se deve acreditar nas pessoas.
- (C) não se deve ferir os animais.
- (D) não se deve ser ambicioso.

QUESTÃO 3

Veja a figura abaixo e marque o número de sílabas.



- (A) 4 sílabas
- (B) 5 sílabas
- (C) 2 sílabas
- (D) 3 sílabas

QUESTÃO 4

Marque o número de palavras

MARIA PEGA A SUA BONECA

- (A) 3 palavras
- (B) 6 palavras
- (C) 7 palavras
- (D) 5 palavras



ATIVIDADE PEDAGÓGICA COMPLEMENTAR- APC
ESCOLA RURAL MUNICIPAL ELEODORO ÉBANO PEREIRA

E-mail escolaeleodoro@outlook.com Fone: (44) 3413-1140

Componente Curricular: Língua Portuguesa

Habilidade da BNCC:

Semana: 08 – De 17 /05/2021 à 28/05/2021.

Nome do aluno (a):

Turma: 4º e 5º Ano.

Professora-Shirley do Carmo Raitz



Leia e copie.



rinoceronte



carambola



rapadura



peru



refrigerante



pirulito

Descubra no diagrama 9 animais cujos nomes têm sílabas com **r**. Pode repetir sílabas. Escreva os nomes nas pautas.



JO	GI	BA	COL	PO	JA
MU	A	NHA	CO	RA	RU
	TO	CA	TA	FA	SA



ATIVIDADE PEDAGÓGICA COMPLEMENTAR- APC
ESCOLA RURAL MUNICIPAL ELEODORO ÉBANO PEREIRA

E-mail escolaeleodoro@outlook.com Fone: (44) 3413-1140

Componente Curricular: Língua Portuguesa

Habilidade da BNCC:

Semana: 08 – De 17 /05/2021 à 28/05/2021.

Nome do aluno (a):


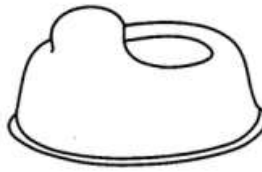
Turma: 4º e 5º Ano.

Professora-Shirley do Carmo Raitz

M

CAÇA-PALAVRAS DIVERTIDO

N



P	H	U	B	A	N	A	N	A	E	O
A	U	T	C	C	A	M	E	L	O	P
N	A	V	E	S	P	F	F	C	R	A
E	E	N	G	K	Y	A	N	D	M	M
L	P	A	L	C	O	N	E	R	A	O
A	P	E	N	I	C	O	R	T	L	N
J	S	E	N	F	D	Y	N	I	A	H
T	S	J	A	N	E	L	A	O	R	A
M	A	R	T	E	L	O	C	U	R	T
S	N	I	N	H	O	R	J	K	N	E
E	T	M	A	I	O	N	E	S	E	S
M	V	Y	A	E	V	A	N	E	C	Y
I	C	A	N	Á	R	I	O	T	M	U
N	H	H	J	E	F	S	T	S	E	M
H	I	U	C	A	M	A	A	U	S	A
O	N	D	C	W	U	M	B	T	A	R
C	E	S	A	T	I	L	L	B	E	B
A	L	W	N	Q	M	I	L	H	O	O
O	O	A	O	N	Y	T	Y	K	T	N
M	T	N	V	N	A	V	I	O	K	E
O	A	D	E	T	R	U	B	L	I	C
E	B	S	L	W	I	N	D	N	O	A
D	L	T	O	J	A	N	W	I	N	A
A	N	I	N	G	O	N	A	T	U	N



ATIVIDADE PEDAGÓGICA COMPLEMENTAR- APC
ESCOLA RURAL MUNICIPAL ELEODORO ÉBANO PEREIRA

E-mail escolaeleodoro@outlook.com Fone: (44) 3413-1140

Componente Curricular: Matemática

Habilidade da BNCC:

Semana: 08 – De 17 /05/2021 à 28/05/2021.

Nome do aluno (a):

Turma: 4º e 5º Ano.

Professora-Shirley do Carmo Raitz

RESOLVA AS ADIÇÕES COM ATENÇÃO:

$\begin{array}{r} \textcircled{1} \\ 37 \\ + 85 \\ \hline 122 \end{array}$	$\begin{array}{r} \textcircled{1} \\ 39 \\ + 29 \\ \hline 68 \end{array}$	$\begin{array}{r} \textcircled{} \\ 28 \\ + 63 \\ \hline \end{array}$	$\begin{array}{r} \textcircled{} \\ 47 \\ + 18 \\ \hline \end{array}$
$\begin{array}{r} \textcircled{} \\ 75 \\ + 26 \\ \hline \end{array}$	$\begin{array}{r} \textcircled{} \\ 25 \\ + 19 \\ \hline \end{array}$	$\begin{array}{r} \textcircled{} \\ 84 \\ + 16 \\ \hline \end{array}$	$\begin{array}{r} \textcircled{} \\ 72 \\ + 45 \\ \hline \end{array}$
$\begin{array}{r} \textcircled{} \\ 82 \\ + 46 \\ \hline \end{array}$	$\begin{array}{r} \textcircled{} \\ 57 \\ + 28 \\ \hline \end{array}$	$\begin{array}{r} \textcircled{} \\ 94 \\ + 15 \\ \hline \end{array}$	$\begin{array}{r} \textcircled{} \\ 64 \\ + 16 \\ \hline \end{array}$
$\begin{array}{r} \textcircled{} \\ 56 \\ + 85 \\ \hline \end{array}$	$\begin{array}{r} \textcircled{} \\ 79 \\ + 25 \\ \hline \end{array}$	$\begin{array}{r} \textcircled{} \\ 89 \\ + 54 \\ \hline \end{array}$	$\begin{array}{r} \textcircled{} \\ 26 \\ + 17 \\ \hline \end{array}$
$\begin{array}{r} \textcircled{} \\ 95 \\ + 26 \\ \hline \end{array}$	$\begin{array}{r} \textcircled{} \\ 33 \\ + 18 \\ \hline \end{array}$	$\begin{array}{r} \textcircled{} \\ 45 \\ + 97 \\ \hline \end{array}$	$\begin{array}{r} \textcircled{} \\ 54 \\ + 36 \\ \hline \end{array}$

Material gratuito de uso livre, proibida su venta



ATIVIDADE PEDAGÓGICA COMPLEMENTAR- APC
ESCOLA RURAL MUNICIPAL ELEODORO ÉBANO PEREIRA

E-mail escolaeleodoro@outlook.com Fone: (44) 3413-1140

Componente Curricular: Matemática

Habilidade da BNCC:

Semana: 08 – De 17 /05/2021 à 28/05/2021.

Nome do aluno (a):

Turma: 4º e 5º Ano.

Professora-Shirley do Carmo Raitz

Matemática



I. Resolva as subtrações:

$$\begin{array}{r} 20 \\ -17 \\ \hline \end{array} \quad \begin{array}{r} 96 \\ -38 \\ \hline \end{array} \quad \begin{array}{r} 48 \\ -40 \\ \hline \end{array} \quad \begin{array}{r} 12 \\ -9 \\ \hline \end{array} \quad \begin{array}{r} 67 \\ -51 \\ \hline \end{array}$$

$$\begin{array}{r} 23 \\ -5 \\ \hline \end{array} \quad \begin{array}{r} 34 \\ -24 \\ \hline \end{array} \quad \begin{array}{r} 85 \\ -39 \\ \hline \end{array} \quad \begin{array}{r} 50 \\ -9 \\ \hline \end{array} \quad \begin{array}{r} 62 \\ -45 \\ \hline \end{array}$$

$$\begin{array}{r} 78 \\ -51 \\ \hline \end{array} \quad \begin{array}{r} 77 \\ -29 \\ \hline \end{array} \quad \begin{array}{r} 83 \\ -78 \\ \hline \end{array} \quad \begin{array}{r} 35 \\ -16 \\ \hline \end{array} \quad \begin{array}{r} 51 \\ -10 \\ \hline \end{array}$$

$$\begin{array}{r} 81 \\ -61 \\ \hline \end{array} \quad \begin{array}{r} 72 \\ -71 \\ \hline \end{array} \quad \begin{array}{r} 27 \\ -10 \\ \hline \end{array} \quad \begin{array}{r} 91 \\ -39 \\ \hline \end{array} \quad \begin{array}{r} 46 \\ -46 \\ \hline \end{array}$$

$$\begin{array}{r} 35 \\ -20 \\ \hline \end{array} \quad \begin{array}{r} 64 \\ -55 \\ \hline \end{array} \quad \begin{array}{r} 32 \\ -24 \\ \hline \end{array} \quad \begin{array}{r} 41 \\ -22 \\ \hline \end{array} \quad \begin{array}{r} 53 \\ -40 \\ \hline \end{array}$$





ATIVIDADE PEDAGÓGICA COMPLEMENTAR- APC
ESCOLA RURAL MUNICIPAL ELEODORO ÉBANO PEREIRA

E-mail escolaeleodoro@outlook.com Fone: (44) 3413-1140

Componente Curricular: Ciências

Habilidade da BNCC:

Semana: 08 – De 17 /05/2021 à 28/05/2021.

Nome do aluno (a):

Turma.: 4º e 5º Ano.

Professora-Shirley do Carmo Raitz

PREVENÇÃO DE DOENÇAS



As vacinas nos protegem de várias doenças, por isso todas as crianças devem ser vacinadas.

Ordene as sílabas e descubra os nomes de doenças que podem ser prevenidas por vacinas.

ta té
no

ram sa
po

cu lo
ber se tu

xum ba
ca

que lu
co che

te gi
me nin

si a pa
ra li

la ru
béo

te ri
a dif

Olhe em seu cartão de vacinação, ou pergunte em casa, que vacinas você já tomou.



ATIVIDADE PEDAGÓGICA COMPLEMENTAR- APC
ESCOLA RURAL MUNICIPAL ELEODORO ÉBANO PEREIRA

E-mail escolaeleodoro@outlook.com **Fone:** (44) 3413-1140

Componente Curricular: Geografia

Habilidade da BNCC:

Semana: 08 – De 17 /05/2021 à 28/05/2021.

Nome do aluno (a):

Turma: 4º e 5º Ano.

Professora-Shirley do Carmo Raitz


PAISAGEM GEOGRÁFICA

O NOSSO PLANETA, A TERRA, É A NOSSA GRANDE CASA. O LUGAR ONDE TODOS NÓS MORAMOS. NELE EXISTEM DIFERENTES TIPOS DE PAISAGEM.

AS PAISAGENS FORMADAS PELA NATUREZA, COMO AS ÁRVORES, OS RIOS, AS SERRAS E AS MONTANHAS, SÃO NATURAIS.

AQUELAS EM QUE NÃO HÁ A INTERFERÊNCIA DO HOMEM.

AS PAISAGENS ESTÃO SEMPRE SE MODIFICANDO. ISSO É O RESULTADO DE DIVERSAS MUDANÇAS OCORRIDAS DURANTE OS ANOS E QUE SÃO CAUSADAS PELA AÇÃO DA PRÓPRIA NATUREZA OU PELOS SERES HUMANOS, DE VÁRIAS MANEIRAS.




Educação e Transformação



AS PAISAGENS MUDAM

1. FAÇA O QUE SE PEDE:



1



2



3



4

A) QUAL DAS IMAGENS REPRESENTA UMA PAISAGEM TOTALMENTE NATURAL? JUSTIFIQUE SUA RESPOSTA.

B) EM QUAL IMAGEM A PAISAGEM APARECE MAIS MODIFICADA? EXPLIQUE.

C) QUAL PAISAGEM SOFREU MAIS MODIFICAÇÕES: A 2 OU A 4? POR QUÊ?



ATIVIDADE PEDAGÓGICA COMPLEMENTAR- APC
ESCOLA RURAL MUNICIPAL ELEODORO ÉBANO PEREIRA

E-mail escolaeleodoro@outlook.com Fone: (44) 3413-1140

Componente Curricular: Ensino Religioso

Habilidade da BNCC:

Semana: 08 – De 17 /05/2021 à 28/05/2021.

Nome do aluno (a):

Turma: 4º e 5º

Professora-Shirley do Carmo Raitz



Educando para vida

- Faça a atividade proposta, complete e leia o poema.

Amor

Você sabe o que é?

Amar é cuidar do

Amar é cuidar da Natureza.

Amar é cuidar dos outros.

Amar é de si mesmo.

Todos merecem ser

Mas nem todos dão amor.

Há tantas abandonadas,

Precisando de calor humano.

Quem ama gosta de ficar junto,

Os gestos são de

Quem ama é feliz porque

A maior força do mundo é o amor.



- Transfira as palavras formadas para o poema.

① A A R

② A M O S

③ L N E T A

④ P E S O

⑤ C D A R

⑥ D O Ç O

