



ATIVIDADE PEDAGÓGICA COMPLEMENTAR- APC
ESCOLA RURAL MUNICIPAL ELEODORO ÉBANO PEREIRA

E-mail escolaeleodoro@outlook.com **Fone:** (44) 3413-1140

Componente Curricular: Língua Portuguesa

Habilidade da BNCC:

Semana: 13 – De 09 a 20 de agosto de 2021.

Nome do aluno (a):

Turma Ano. 4º E 5º Ano.

Professora-Shirley do Carmo Raitz

LEIA A NOTÍCIA ABAIXO.

Golfinho leva turistas à praia em caraguá

Um golfinho nariz-de-garrafa é uma das atrações do verão em Caraguatatuba. O golfinho, que recebeu o apelido de "Tião", mede 2,60M e tem 200KG. Ele tem levado dezenas de turistas às praias Martin de Sá e Prainha diariamente. Ele é macho, cinza e tem cerca de 15 anos. O assédio dos turistas fez o IBAMA criar um plantão nas duas praias para evitar que os banhistas perturbem o animal.

(Folha de São Paulo, Caderno Folhinha, 13/11/94)

Para saber mais:

IBAMA - Instituto Brasileiro do Meio Ambiente. É um órgão federal responsável pelo meio ambiente. Cuida da preservação, controle, fiscalização e conservação da fauna (animais) e flora (plantas).

RESPONDA NO CADERNO!

1- Sobre o que nos fala esse texto?

2- Dê as informações sobre o golfinho.

a- Apelido

b- Peso

c- Comprimento

d- Cor

e- Idade

3- Que tipo de texto é esse:

() Recado

() Notícia (jornal)

() Cartaz

Você sabe o que é golfinho?

Os golfinhos são mamíferos encontrados em todos os oceanos do mundo e em alguns rios.



Lya Ricard



ATIVIDADE PEDAGÓGICA COMPLEMENTAR- APC
ESCOLA RURAL MUNICIPAL ELEODORO ÉBANO PEREIRA

E-mail escolaeleodoro@outlook.com Fone: (44) 3413-1140

Componente Curricular: Língua Portuguesa

Habilidade da BNCC:

Semana: 13 – De 09 a 20 de agosto de 2021.

Nome do aluno (a):

Turma Ano. 4º E 5º Ano.

Professora-Shirley do Carmo Raitz

Leia o texto:

Sapo-cururu

Sapo-cururu
Da beira do rio,
Quando o sapo canta, ó maninha
Diz que está com frio.
A mulher do sapo
Deve estar lá dentro,
Fazendo rendinha, ó maninha
Pro seu casamento.



Cantiga do folclore brasileiro. Disponível em:
www.qddivertido.com.br/vercantiga.php?codigo. Acesso em 30/04/12.

1. O verso da cantiga que dá ideia de lugar é
- a) "Quando o sapo canta...." c) "Diz que está com frio."
b) "Deve estar lá dentro...." d) "Pro seu casamento."

2. Este texto é uma:
- () fábula () cantiga folclórica () receita

3. Quando o sapo canta, ele está?
- () com sede () com frio () com fome

4. A mulher do sapo está fazendo:
- () farinha
() rendinha
() trancinha

5. Quem é a mulher do sapo?
- () a pata () a sapa
() a gata () a girafa





ATIVIDADE PEDAGÓGICA COMPLEMENTAR- APC
ESCOLA RURAL MUNICIPAL ELEODORO ÉBANO PEREIRA

E-mail escolaeleodoro@outlook.com Fone: (44) 3413-1140

Componente Curricular: Língua Portuguesa

Habilidade da BNCC:

Semana:13 – De 09 a 20 de agosto de 2021.


Nome do aluno (a):

Turma Ano. 4º e 5º Ano.

Professora-Shirley do Carmo Raitz

EU COMEÇO, VOCÊ TERMINA...

- ① Complete o texto abaixo usando sua imaginação e sua criatividade.
Dê-lhe um título.



_____ (Título)

Juquinha foi à sorveteria comprar um gostoso sorvetão com bastante cobertura de chocolate.

Mas, quando chegou à sorveteria, percebeu que tinha esquecido o dinheiro em casa.

Então, ele _____



ATIVIDADE PEDAGÓGICA COMPLEMENTAR- APC
ESCOLA RURAL MUNICIPAL ELEODORO ÉBANO PEREIRA

E-mail escolaeleodoro@outlook.com Fone: (44) 3413-1140

Componente Curricular: Língua Portuguesa

Habilidade da BNCC:

Semana: 13 – De 09 a 20 de agosto de 2021.

Nome do aluno (a):

Turma Ano. 4º e 5º Ano.

Professora-Shirley do Carmo Raitz

Vamos ordenar as frases?

1 - Ordene as frases e escreva-as no espaço abaixo.



a) muito - macaco - é - Caco - inteligente - um



b) flutua - O - no - navio - mar - grande



c) vermelha - Cima - uma - linda - ganhou - bexiga



d) todo - ovo - A - bota - galinha - dia



e) uma - Eu - azul - e - tenho - moto - branca



ATIVIDADE PEDAGÓGICA COMPLEMENTAR- APC
ESCOLA RURAL MUNICIPAL ELEODORO ÉBANO PEREIRA

E-mail escolaeleodoro@outlook.com Fone: (44) 3413-1140

Componente Curricular: Matemática

Habilidade da BNCC:

Semana: 13 – De 09 a 20 de agosto de 2021.

Nome do aluno (a):

Turma Ano. 3º Ano.

Professora-Shirley do Carmo Raitz



Matemática

I. Resolva as subtrações:

$$\begin{array}{r} 908 \\ - 95 \\ \hline \end{array}$$

$$\begin{array}{r} 265 \\ - 214 \\ \hline \end{array}$$

$$\begin{array}{r} 722 \\ - 619 \\ \hline \end{array}$$

$$\begin{array}{r} 662 \\ - 508 \\ \hline \end{array}$$

$$\begin{array}{r} 512 \\ - 47 \\ \hline \end{array}$$

$$\begin{array}{r} 962 \\ - 456 \\ \hline \end{array}$$

$$\begin{array}{r} 630 \\ - 517 \\ \hline \end{array}$$

$$\begin{array}{r} 753 \\ - 41 \\ \hline \end{array}$$

$$\begin{array}{r} 276 \\ - 56 \\ \hline \end{array}$$

$$\begin{array}{r} 807 \\ - 10 \\ \hline \end{array}$$

$$\begin{array}{r} 492 \\ - 95 \\ \hline \end{array}$$

$$\begin{array}{r} 852 \\ - 104 \\ \hline \end{array}$$

$$\begin{array}{r} 504 \\ - 107 \\ \hline \end{array}$$

$$\begin{array}{r} 321 \\ - 122 \\ \hline \end{array}$$

$$\begin{array}{r} 450 \\ - 130 \\ \hline \end{array}$$

$$\begin{array}{r} 412 \\ - 203 \\ \hline \end{array}$$

$$\begin{array}{r} 365 \\ - 75 \\ \hline \end{array}$$

$$\begin{array}{r} 670 \\ - 198 \\ \hline \end{array}$$

$$\begin{array}{r} 513 \\ - 200 \\ \hline \end{array}$$

$$\begin{array}{r} 609 \\ - 424 \\ \hline \end{array}$$





ATIVIDADE PEDAGÓGICA COMPLEMENTAR- APC
ESCOLA RURAL MUNICIPAL ELEODORO ÉBANO PEREIRA

E-mail escolaeleodoro@outlook.com Fone: (44) 3413-1140

Componente Curricular: Matemática

Habilidade da BNCC:

Semana:13 – De 09 a 20 de agosto de 2021.

Nome do aluno (a):

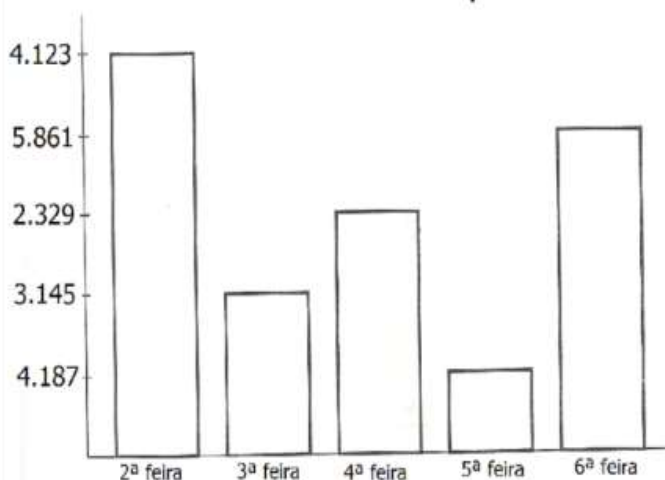
Turma Ano. 4º e 5º Ano.

Professora-Shirley do Carmo Raitz

Gráfico de



Observe no gráfico de uma fábrica de doces a quantidade vendida em uma semana e responda.



- 1 – Quantos doces foram vendidos nos três primeiros dias da semana? _____.
- 2 – Qual dia da semana foi vendido mais doces? _____.
- 3 – E menos doces? _____.
- 4 – Quantos doces ao todo foram vendidos nesta semana? _____.
- 5 – Na semana anterior foi vendido o dobro desta quantidade. Quantos doces foram vendidos? _____.
- 6 – Qual a diferença de quantidade de doces entre segunda-feira e quarta-feira? _____.
- 7 – Quais dias juntos, foram vendidos mais doces: segunda e terça ou quarta e sexta? _____.



ATIVIDADE PEDAGÓGICA COMPLEMENTAR- APC
ESCOLA RURAL MUNICIPAL ELEODORO ÉBANO PEREIRA

E-mail escolaeleodoro@outlook.com Fone: (44) 3413-1140

Componente Curricular: Matemática

Habilidade da BNCC:

Semana:13 – De 09 a 20 de agosto de 2021.

Nome do aluno (a):

Turma Ano. 4º e 5º Ano.

Professora-Shirley do Carmo Raitz

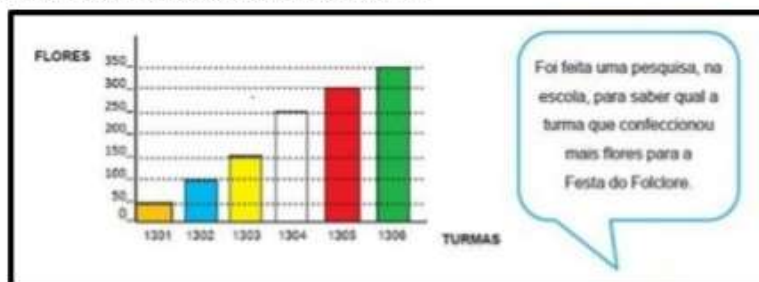
Problematicando



1. Escreva como se lê as quantias a seguir



2. Observe o gráfico e responda as questões a seguir.



- a) Quantas flores a turma 1302 fez a mais que a turma 1301? _____
- b) Quantas flores a turma 1301 fez a menos que a turma 1303? _____
- c) Quantas flores a turma 1305 fez a mais que a turma 1302? _____
- d) Quantas flores a turma 1304 fez a menos que a turma 1305? _____
- e) Quantas flores a turma 1306 fez a mais que a turma 1303? _____
- f) Que turma fez mais flores para o folclore? _____



ATIVIDADE PEDAGÓGICA COMPLEMENTAR- APC
ESCOLA RURAL MUNICIPAL ELEODORO ÉBANO PEREIRA

E-mail escolaeleodoro@outlook.com Fone: (44) 3413-1140

Componente Curricular: Matemática

Habilidade da BNCC:


Semana:13 – De 09 a 20 de agosto de 2021.

Nome do aluno (a):

Turma Ano 4º e 5º Ano.

Professora-Shirley do Carmo Raitz

Resolva as divisões

$689 \overline{)9}$	$821 \overline{)2}$	$175 \overline{)3}$	$224 \overline{)2}$
$942 \overline{)3}$		$435 \overline{)5}$	
$944 \overline{)5}$		$119 \overline{)8}$	
$674 \overline{)9}$	$612 \overline{)5}$	$318 \overline{)8}$	$443 \overline{)3}$



ATIVIDADE PEDAGÓGICA COMPLEMENTAR- APC
ESCOLA RURAL MUNICIPAL ELEODORO ÉBANO PEREIRA

E-mail escolaeleodoro@outlook.com **Fone:** (44) 3413-1140

Componente Curricular: Geografia

Habilidade da BNCC:

Semana:13 – De 09 a 20 de agosto de 2021.

Nome do aluno (a):

Turma Ano 4º e 5º Ano.

Professora-Shirley do Carmo Raitz

(EF05GE10)

O LIXO E OUTROS PROBLEMAS AMBIENTAIS

O lixo é formado por resíduos sólidos. O que as pessoas descartam diariamente no comércio, nos hospitais, nas indústrias, nas moradias e nas construções em geral resulta em toneladas de lixo. O problema é que muitos desses resíduos, como vidros, tampas de garrafa, embalagens plásticas e pneus, podem levar centenas de anos para se decompor na natureza.



O descarte inadequado do lixo prejudica a qualidade ambiental. Muitas vezes, o lixo é descartado em rios e em cursos de água, poluindo as águas e tornando-as impróprias tanto para o banho como para o consumo. Já o lixo jogado nas ruas entope os bueiros, aumentando o risco de enchentes, que podem causar doenças e grandes estragos matéricas.

ATIVIDADE

1) Por que o descarte inadequado do lixo prejudica a qualidade ambiental?

2) Na sua opinião, é correto jogar o lixo na natureza?

3) Como você faz o descarte do lixo da sua residência?

4) Podemos consumir a água de um rio onde as pessoas despejam lixo? Justifique sua resposta.

5) O que acontece quando o lixo é jogado na rua?



ATIVIDADE PEDAGÓGICA COMPLEMENTAR- APC
ESCOLA RURAL MUNICIPAL ELEODORO ÉBANO PEREIRA

E-mail escolaeleodoro@outlook.com Fone: (44) 3413-1140

Componente Curricular: Ciências

Habilidade da BNCC:

Semana:13 – De 09 a 20 de agosto de 2021.

Nome do aluno (a):

Turma Ano 4º e 5º Ano.

Professora-Shirley do Carmo Raitz

SÓ ENERGIA!

Siga as pistas e encontre as formas de manifestação da energia.

	1	2	3	4	5	6	7	8	9	10	11	12	13	14
A	H	G	E	T	Y	S	M	V	R	M	P	A	S	E
B	T	I	F	N	U	C	L	E	A	R	T	N	M	L
C	D	V	L	R	T	U	C	T	Y	H	S	S	B	É
D	G	V	F	J	I	K	Ã	N	X	V	O	O	U	T
E	G	H	L	U	M	I	N	O	S	A	N	N	J	R
F	N	X	V	M	V	B	I	N	L	S	O	O	M	I
G	M	L	F	W	L	J	C	H	R	O	K	R	J	C
H	Q	U	Í	M	I	C	A	U	T	L	A	A	S	A
I	Q	I	P	T	É	R	M	I	C	A	T	L	M	J
J	G	V	F	R	T	U	P	M	F	R	H	J	L	Z



A) **A7** - Energia _____. Pode-se percebê-la vendo um automóvel em movimento.

B) **I4** - Energia _____. Pode-se percebê-la ao se aproximar de um fogão a lenha, no verão.

C) **A14** - Energia _____. Percebe-se ao levar um choque.

D) **H1** - Energia _____. Percebe-se quando há queima de combustível líquido e gasoso.

E) **E3** - Energia _____. Percebe-se quando se acende a lâmpada.

F) **C12** - Energia _____. Percebe-se quando se liga o som do carro.

G) **F10** - Energia _____. Percebe-se quando os raios de Sol chegam à Terra.

H) **B4** - Energia _____. Percebe-se na explosão da bomba atômica.

Respostas: A- mecânica; B- térmica; C- elétrica; D- química; E- luminosa; F- sonora; G- solar; H- nuclear.



ATIVIDADE PEDAGÓGICA COMPLEMENTAR- APC
ESCOLA RURAL MUNICIPAL ELEODORO ÉBANO PEREIRA

E-mail escolaeleodoro@outlook.com Fone: (44) 3413-1140

Componente Curricular: Ensino Religioso

Habilidade da BNCC:

Semana: 13 – De 09 a 20 de agosto de 2021.

Nome do aluno (a):

Turma Ano 4º e 5º Ano.

Professora-Shirley do Carmo Raitz

Somos seres incompletos

★ Localize, no diagrama, coisas que necessitamos para viver.

Sou ENTUSIASMADO.
Necessito de ser valorizado,
porque sou gente e tenho
necessidade de ser feliz.

N	E	C	E	S	S	I	T	A	M	O	S	*	D	E	*	A	M	O	R
Q	L	A	T	W	Q	E	O	M	H	D	S	A	V	M	C	V	D	S	A
W	I	R	R	T	U	A	L	I	M	E	N	T	O	S	N	X	M	Z	N
O	F	I	E	O	I	J	P	Z	X	G	F	Z	C	A	V	C	J	B	K
F	R	N	U	E	K	N	L	A	K	B	Z	X	N	Ú	N	H	O	V	O
E	Y	H	R	S	P	J	H	D	G	S	A	B	M	D	V	B	M	N	B
D	R	O	U	P	A	S	D	E	F	S	A	Z	F	L	S	I	A	S	A
H	L	Y	P	O	P	I	O	L	U	F	A	X	C	A	Z	B	I	M	I
N	W	Y	J	R	G	G	J	S	D	H	G	C	E	T	U	Y	O	R	A
Q	C	U	L	T	U	R	A	F	I	L	K	M	O	R	A	D	I	A	D
W	Y	E	R	E	T	K	Y	T	P	O	E	C	X	E	G	I	F	Q	S
T	R	I	U	S	Q	E	W	U	A	I	Q	D	M	N	Z	B	X	V	W