



**ATIVIDADE PEDAGÓGICA COMPLEMENTAR- APC**  
**ESCOLA RURAL MUNICIPAL ELEODORO ÉBANO PEREIRA**

E-mail [escolaeleodoro@outlook.com](mailto:escolaeleodoro@outlook.com) Fone: (44) 3413-1140

Componente Curricular: Língua Portuguesa

Habilidade da BNCC:

Semana: 06 – 19 à 30 de abril de 2021.

Nome do aluno (a):

Turma 3º Ano.

Professora-Shirley do Carmo Raitz

**LEIA COM BASTANTE ATENÇÃO O TEXTO PRA RESPONDER AS QUESTÕES:**



**A FORMIGA VIRIATA**

VIRIATA É UMA FORMIGA FELIZ.

ELA MORA NUM BURACO, ATRÁS DO CANTEIRO DE ALFACE.

ELA ANDA SEMPRE AFOBADA PORQUE FAZ ENTREGA NA FEIRA.

HOJE ELA LEVOU: COUVE, FEIJÃO, FARINHA E FUBÁ.

VIRIATA É UMA ÓTIMA VENDEDORA!

GRAÇA BATITUCI

**QUESTÕES**

1) QUAL É O TÍTULO DO TEXTO?

R: \_\_\_\_\_

2) QUEM É O AUTOR?

R: \_\_\_\_\_

3) QUEM É O PERSONAGEM PRINCIPAL DA HISTÓRIA?

R: \_\_\_\_\_

4) ONDE MORA A FORMIGA VIRIATA?

R: \_\_\_\_\_

5) O QUE VIRIATA LEVOU PARA A FEIRA?

R: \_\_\_\_\_



**ATIVIDADE PEDAGÓGICA COMPLEMENTAR- APC**  
**ESCOLA RURAL MUNICIPAL ELEODORO ÉBANO PEREIRA**

E-mail [escolaeleodoro@outlook.com](mailto:escolaeleodoro@outlook.com) Fone: (44) 3413-1140

Componente Curricular: Língua Portuguesa

Habilidade da BNCC:

Semana: 06 – 19 à 30 de abril de 2021.

Nome do aluno (a):

Turma 3º Ano.

Professora-Shirley do Carmo Raitz

**TREINO ORTOGRÁFICO**

1. Leia as frases e complete as palavras usando ge, gi, je, ji.

a) Não gostava de comer berin\_\_la, agora gosto.



b) Coloquei a torta na \_\_\_\_ladeira.

c) O dentista disse que minha gen\_\_\_\_va está machucada.

d) Mamãe usou man\_\_\_\_ricão para temperar a comida.

e) Os an\_\_\_\_nhos estão no céu.



f) Você anotou em sua a\_\_\_\_nda?

g) Fiquei cansada com a aula de \_\_\_\_nástica de hoje!

h) A la\_\_\_\_ do segundo andar está dando goteira.

i) O \_\_\_\_pe não atolou na lama.



j) A \_\_\_\_elatina precisa ficar mais tempo no refrigerador.

k) No reló\_\_\_\_o da cozinha marcava 12:00.



l) A in\_\_\_\_ção nem doeu, foi rápida.

m) Você gosta de \_\_\_\_ló?

n) Ele estava muito a\_\_\_\_tado para começar a jogar.

o) Qual o preço da massa\_\_\_\_m relaxante?

p) Os emo\_\_\_\_s são usados na comunicação da internet.



**ATIVIDADE PEDAGÓGICA COMPLEMENTAR- APC**  
**ESCOLA RURAL MUNICIPAL ELEODORO ÉBANO PEREIRA**

E-mail [escolaeleodoro@outlook.com](mailto:escolaeleodoro@outlook.com) Fone: (44) 3413-1140

Componente Curricular: Língua Portuguesa

Habilidade da BNCC:

Semana: 06 – 19 à 30 de abril de 2021.

Nome do aluno (a):

Turma 3º Ano.

Professora-Shirley do Carmo Raitz

## **GÊNERO DO SUBSTANTIVO**

- Na língua portuguesa há dois gêneros: masculino e feminino. Será masculino o substantivo que admitir o artigo **o** e feminino aquele que admitir o artigo **a**.
  
- O avião; o calçado; o leão.
- A menina; a camisa; a cadeira.



Aplicando Substantivos Masculino e Feminino:

1. Passe para o feminino:

- |                     |                      |
|---------------------|----------------------|
| 1. padrinho .....   | 13. professor .....  |
| 2. genro .....      | 14. padrasto .....   |
| 3. ator .....       | 15. homem .....      |
| 4. compadre .....   | 16. cantor .....     |
| 5. carneiro .....   | 17. doutor .....     |
| 6. cavalo .....     | 18. diretor .....    |
| 7. zangão .....     | 19. pintor .....     |
| 8. cavalheiro ..... | 20. cozinheiro ..... |
| 9. cavaleiro .....  |                      |
| 10. bode .....      |                      |
| 11. marido .....    |                      |
| 12. boi .....       |                      |





**ATIVIDADE PEDAGÓGICA COMPLEMENTAR- APC**  
**ESCOLA RURAL MUNICIPAL ELEODORO ÉBANO PEREIRA**

E-mail [escolaeleodoro@outlook.com](mailto:escolaeleodoro@outlook.com) Fone: (44) 3413-1140

Componente Curricular: Matemática

Habilidade da BNCC:

Semana: 06 – 19 à 30 de abril de 2021.

Nome do aluno (a):

Turma 3º Ano.

Professora-Shirley do Carmo Raitz

**PROBLEMATIZANDO:**

**LEIA E RESOLVA OS PROBLEMAS ABAIXO:**

A) Um livro tem 375 páginas. Carlos já leu 198. Quantas páginas faltam para ele terminar?

Operação	Resposta
----------	----------

B) Um avião voava a uma altura de 6 980 metros. Desceu 1 789 metros. Em que altura ele ficou?

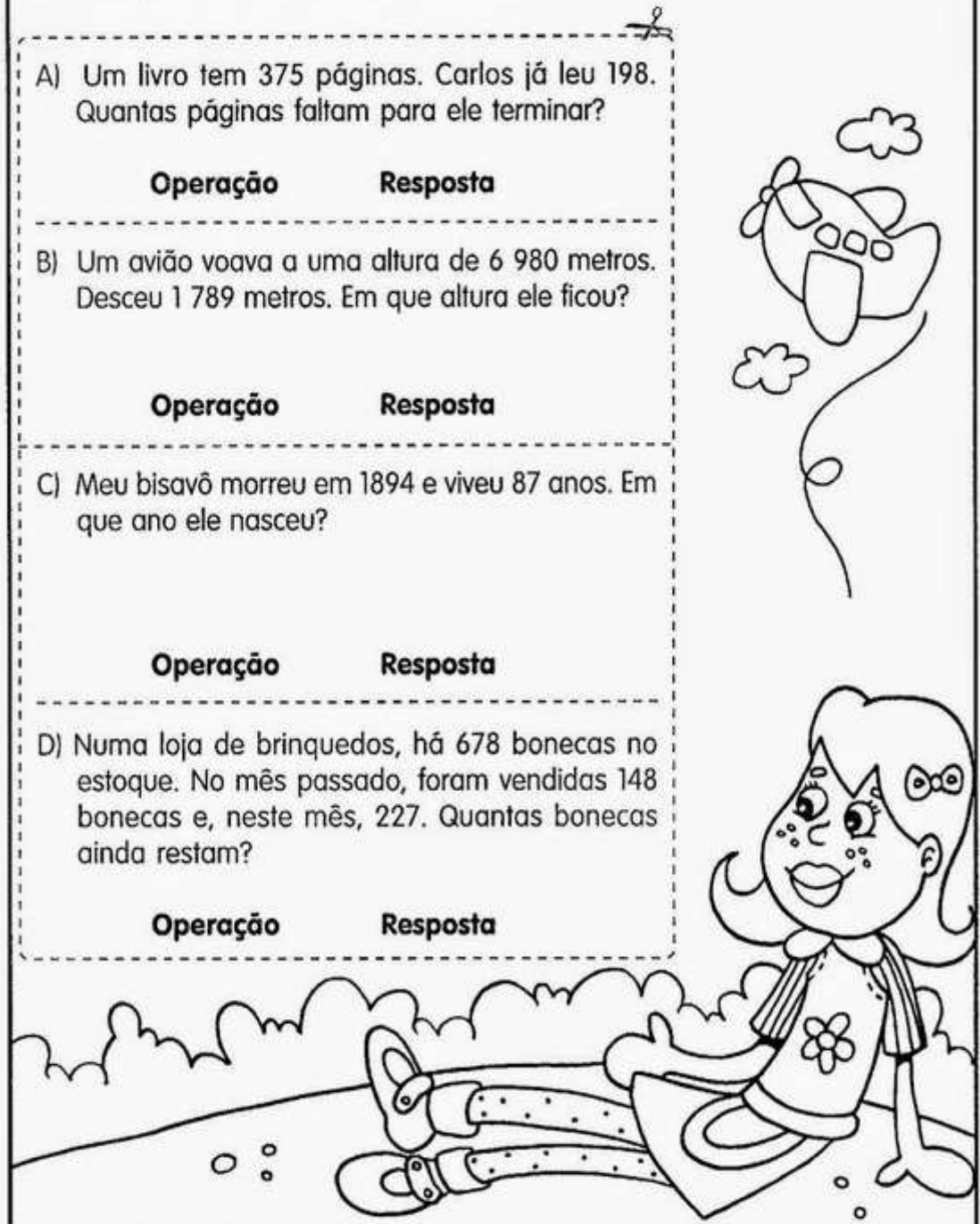
Operação	Resposta
----------	----------

C) Meu bisavô morreu em 1894 e viveu 87 anos. Em que ano ele nasceu?

Operação	Resposta
----------	----------

D) Numa loja de brinquedos, há 678 bonecas no estoque. No mês passado, foram vendidas 148 bonecas e, neste mês, 227. Quantas bonecas ainda restam?

Operação	Resposta
----------	----------







**ATIVIDADE PEDAGÓGICA COMPLEMENTAR- APC**  
**ESCOLA RURAL MUNICIPAL ELEODORO ÉBANO PEREIRA**

E-mail [escolaeleodoro@outlook.com](mailto:escolaeleodoro@outlook.com) Fone: (44) 3413-1140

Componente Curricular: Geografia

Habilidade da BNCC:

Semana:06 – 19 à 30 de abril de 2021.

Nome do aluno (a):

Turma 3º Ano.

Professora-Shirley do Carmo Raitz

**A CIDADE E SEUS BAIRROS**

- ▶ Uma cidade é construída sobre a terra, com as mãos dos trabalhadores e nela moram muitas famílias.
- ▶ O bairro é uma parte da cidade. Todos os bairros têm um nome e uma história.
- ▶ Na cidade existem bairros centrais onde têm: padarias, açougues, igrejas, postos, supermercados, farmácias, clubes, hospitais, etc.





**ATIVIDADE PEDAGÓGICA COMPLEMENTAR- APC**  
**ESCOLA RURAL MUNICIPAL ELEODORO ÉBANO PEREIRA**

E-mail [escolaeleodoro@outlook.com](mailto:escolaeleodoro@outlook.com) Fone: (44) 3413-1140

Componente Curricular: Geografia

Habilidade da BNCC:

Semana:06 – 19 à 30 de abril de 2021.

Nome do aluno (a):

Turma 3º Ano.



Professora-Shirley do Carmo Raitz


**NOME**

www.mirador.com.br

*Atividades de Geografia*  
*Serviços Públicos*

· Marque os tipos de serviços públicos que existem no bairro onde você mora.

Serviços		
Posto Policial		
Transporte Público		
Hospital público		
Escola Pública		
Coleta de lixo		
Água tratada		
Energia elétrica		
Arborização		
Pavimentação da ruas		
Iluminação pública		
Coleta seletiva de lixo		
Rede de esgoto		
Posto de saúde		



www.mirador.com.br

www.mirador.com.br



**ATIVIDADE PEDAGÓGICA COMPLEMENTAR- APC**  
**ESCOLA RURAL MUNICIPAL ELEODORO ÉBANO PEREIRA**

E-mail [escolaeleodoro@outlook.com](mailto:escolaeleodoro@outlook.com) Fone: (44) 3413-1140

Componente Curricular: Ciências

Habilidade da BNCC:

Semana:06 – 19 à 30 de abril de 2021.

Nome do aluno (a):


Turma 3º Ano.

Professora-Shirley do Carmo Raitz

## Seres Vivos e Seres não Vivos

**Seres vivos** - Nascem, alimentam-se, crescem, reproduzem-se, envelhecem e morrem.

**Seres não vivos** - Não crescem e só se movimentam quando são acionados por um ser vivo.



♦ Pinte a cena e complete abaixo, com nomes de seres existentes nela:

SERES VIVOS	SERES NÃO VIVOS





**ATIVIDADE PEDAGÓGICA COMPLEMENTAR- APC**  
**ESCOLA RURAL MUNICIPAL ELEODORO ÉBANO PEREIRA**

E-mail [escolaeleodoro@outlook.com](mailto:escolaeleodoro@outlook.com) Fone: (44) 3413-1140

Componente Curricular: Ciências

Habilidade da BNCC:

Semana:06 – 19 à 30 de abril de 2021.

Nome do aluno (a):

Turma 3º Ano.

Professora-Shirley do Carmo Raitz

✍️ PROCURE NO QUADRO ABAIXO NOMES DE SERES VIVOS E DOS SERES NÃO-VIVOS CONFORME OS DESENHOS.



G	A	T	O	E	P	F	G	H
I	J	C	A	N	E	T	A	K
L	M	N	O	P	D	Q	R	S
C	A	C	H	O	R	R	O	U
B	A	L	Ã	O	A	V	X	Y
W	B	O	N	E	C	A	Z	A
C	D	S	A	P	O	E	F	G
H	I	M	E	N	I	N	A	J
K	L	M	N	O	P	Q	R	S

(menina - gato - caneta - pedra - coelho - balão - boneca - sapo)



✍️ ESCREVA OS NOMES DOS SERES VIVOS: \_\_\_\_\_

✍️ ESCREVA OS NOMES DOS SERES NÃO-VIVOS: \_\_\_\_\_



**ATIVIDADE PEDAGÓGICA COMPLEMENTAR- APC**  
**ESCOLA RURAL MUNICIPAL ELEODORO ÉBANO PEREIRA**

E-mail [escolaeleodoro@outlook.com](mailto:escolaeleodoro@outlook.com) Fone: (44) 3413-1140

Componente Curricular: Ensino Religioso

Habilidade da BNCC:

Semana:06 – 19 à 30 de abril de 2021.

Nome do aluno (a):

Turma 3º Ano.

Professora-Shirley do Carmo Raitz

**TRADIÇÕES RELIGIOSAS DE NOSSA COMUNIDADE**

Serrob

AS RELIGIÕES OU TRADIÇÕES RELIGIOSAS SÃO GRANDES GRUPOS DE PESSOAS QUE COMPARTILHAM A MESMA CRENÇA. EM NOSSA COMUNIDADE EXISTEM MUITAS RELIGIÕES E IGREJAS NO BRASIL E NO MUNDO EXISTEM DIFERENTES RELIGIÕES TAIS COMO: RELIGIÕES INDÍGENAS RELIGIÕES AFRO-BRASILEIRAS HINDUÍSMO BUDISMO JUDAÍSMO CRISTIANISMO ISLAMISMO ESPIRITISMO FÉ BAHÁ'Í E MUITAS OUTRAS MAIS. POR MEIO DA RELIGIÃO AS PESSOAS BUSCAM VIVENCIAR O SAGRADO.



**ATIVIDADES**

- 1) Copie do texto os nomes das religiões.
- 2) Desenhe pessoas vivenciando um momento sagrado em sua religião. Depois descreva o que você desenhou e socialize com os colegas.
- 3) Faça um círculo em torno do desenho que representa uma vivência religiosa. Depois escreva uma frase sobre cada desenho.





**ATIVIDADE PEDAGÓGICA COMPLEMENTAR- APC**  
**ESCOLA RURAL MUNICIPAL ELEODORO ÉBANO PEREIRA**

**E-mail** [escolaeleodoro@outlook.com](mailto:escolaeleodoro@outlook.com) **Fone:** (44) 3413-1140

Componente Curricular: Geografia

Habilidade da BNCC:

Semana: 06 – 19 à 30 de abril de 2021.

Nome do aluno (a):

Turma 3º Ano.

Professora-Shirley do Carmo Raitz

# A CIDADE E O CAMPO

Observe as faixas e preencha os quadros abaixo com suas respectivas faixas:

**caminhos de terra**      **indústria**      **gado**

**muitas escolas**      **pouco barulho**      **plantação**

**carros**      **áreas verdes**      **clube**      **trator**

**teatro**      **carroça**      **lojas**      **prédios**

**ruas pavimentadas**

**ZONA RURAL**

\_\_\_\_\_

\_\_\_\_\_

\_\_\_\_\_

\_\_\_\_\_

\_\_\_\_\_

\_\_\_\_\_

**ZONA URBANA**

\_\_\_\_\_

\_\_\_\_\_

\_\_\_\_\_

\_\_\_\_\_

\_\_\_\_\_

\_\_\_\_\_