



ATIVIDADE PEDAGÓGICA COMPLEMENTAR- APC
ESCOLA RURAL MUNICIPAL ELEODORO ÉBANO PEREIRA

E-mail escolaeleodoro@outlook.com Fone: (44) 3413-1140

Componente Curricular: Língua Portuguesa

Habilidade da BNCC:

Semana: 11 – De 2e d8 junho a 09 de julho.

Nome do aluno (a):

Turma: 3º Ano.

Professora-Shirley do Carmo Raitz

A Cigarra e a Formiga

Leia a fábula:

A cigarra passou todo o verão cantando,
enquanto a formiga juntava seus grãos.
Quando chegou o inverno,
a cigarra veio à casa da formiga
para pedir que lhe desse o que comer.
A formiga então perguntou a ela:
- E o que é que você fez durante todo o verão?
- Durante o verão eu cantei - disse a cigarra.
E a formiga respondeu:
- Muito bem, pois agora dance!



(Ruth Rocha)

É hora de pensar e interpretar !

1) Responda:

a) Quem são as personagens do texto?

b) O que a cigarra passou fazendo todo verão?

c) O que a formiga passou juntando todo verão?

2) Assinale a resposta correta

a) Que gênero textual é esse? () POESIA () BILHETE () FÁBULA

b) Qual frase justifica a moral da história?

() Quem quiser passar bem no inverno é só brincar e cantar.

() Não pense só em divertir. Trabalhe e pense no futuro também.

() Quem tem preguiça se dá bem na vida.



ATIVIDADE PEDAGÓGICA COMPLEMENTAR- APC
ESCOLA RURAL MUNICIPAL ELEODORO ÉBANO PEREIRA

E-mail escolaeleodoro@outlook.com Fone: (44) 3413-1140

Componente Curricular: Língua Portuguesa

Habilidade da BNCC:

Semana: 11 – De 28 de junho a 09 de julho.

Nome do aluno (a):

Turma: 3º Ano.

Professora-Shirley do Carmo Raitz

3. Escreva **inverno** ou **verão** de acordo com a cena.



4. De acordo com o texto leia as frases colocando os sinais de pontuação nos lugares corretamente. , , e .

A formiga então perguntou

O que é que você fez durante todo o verão

Durante o verão eu cantei.

E a formiga respondeu

Muito bem, pois agora dance



5. Classifique as palavras destacadas nas frases abaixo.

a) A **cigarra** é uma **cantora** muito **alegre**.

Substantivo: _____

Adjetivo: _____

b) A **formiga** é **ligeira** e **esperta**.

Substantivo: _____

Adjetivo: _____

6. Substitua as expressões destacadas pelo adjetivo adequado

a) Jardim com **flores** - jardim _____

b) Amor de **mãe** - amor _____

c) Amor de **pai** - amor _____

d) Bandeira do **Brasil** - bandeira _____



ATIVIDADE PEDAGÓGICA COMPLEMENTAR- APC
ESCOLA RURAL MUNICIPAL ELEODORO ÉBANO PEREIRA

E-mail escolaeleodoro@outlook.com Fone: (44) 3413-1140

Componente Curricular: Língua Portuguesa

Habilidade da BNCC:

Semana: 11 – De 28 de junho a 09 de julho.

Nome do aluno (a):

Turma: 3º Ano.

Professora-Shirley do Carmo Raitz

1) Leia:

O que é que eu vou ser
(Pedro Bandeira)

Bete quer ser bailarina,
Zé quer ser aviador.
Carlos vai plantar batata,
Juca quer ser ator.

Camila gosta de música
Patrícia quer desenhar.
Uma vai pegando o lápis,
A outra se põe a cantar.

Mas eu não sei se vou ser
Poeta, doutora ou atriz.
Hoje eu só sei de uma coisa:
Quero ser muito feliz.



(Do livro: Por enquanto sou pequeno, Editora Moderna)

2) Conte e complete.

O poema tem _____ versos e _____ estrofes.

3) Retire do texto uma palavra que rime com:

aviador ⇔ _____

desenhar ⇔ _____

atriz ⇔ _____

4) Pense e responda:

a) Qual é o título do texto? _____

b) Quem escreveu? _____

c) O que Zé quer ser? _____

d) E Bete? _____

POEMA: é um texto com rimas, versos e estrofes.

VERSOS - São as linhas do poema.

ESTROFES - Nome dado a cada grupo de versos que compõem um poema.

RIMAS - São palavras que combinam



ATIVIDADE PEDAGÓGICA COMPLEMENTAR- APC
ESCOLA RURAL MUNICIPAL ELEODORO ÉBANO PEREIRA

E-mail escolaeleodoro@outlook.com **Fone:** (44) 3413-1140

Componente Curricular: Língua Portuguesa

Habilidade da BNCC:

Semana: 11 – De 28 de junho a 09 de julho.

Nome do aluno (a):

Turma: 3º Ano.

Professora-Shirley do Carmo Raitz

TREINANDO A LETRA CURSIVA:

Leia e copie.

Amanhecer no sítio

O sol brilhando nas folhagens,

as abelhas voando no jardim;

as ovelhas no mamso das pastagens

e um suave perfume de jasmim.

O sítio desperta com alegria,

pois começa na família novo dia.



ATIVIDADE PEDAGÓGICA COMPLEMENTAR- APC
ESCOLA RURAL MUNICIPAL ELEODORO ÉBANO PEREIRA

E-mail escolaeleodoro@outlook.com Fone: (44) 3413-1140

Componente Curricular: Língua Portuguesa

Habilidade da BNCC:

Semana: 11 – De 28 de junho a 09 de julho.

Nome do aluno (a):

Turma: 3º Ano.

Professora-Shirley do Carmo Raitz

VAMOS TREINAR A LETRA CURSIVA:

A B C D E F G

H I J K L M N

O P Q R S T U

V W X Y Z

a b c d e f g

h i j k l m n

o p q r s t u

v w x y z



ATIVIDADE PEDAGÓGICA COMPLEMENTAR- APC
ESCOLA RURAL MUNICIPAL ELEODORO ÉBANO PEREIRA

E-mail escolaeleodoro@outlook.com Fone: (44) 3413-1140

Componente Curricular: Língua Portuguesa

Habilidade da BNCC:

Semana: 11 – De 28 de junho a 09 de julho.

Nome do aluno (a):

Turma: 3º Ano.

Professora-Shirley do Carmo Raitz

L CRUZADINHA LEGAL U

túne ___

trofé ___

a ___ tomóve ___

degra ___

ane ___

chapé ___

paste ___

caca ___

carrete ___

pa ___

girasso ___

berimba ___

anzo ___

barri ___

minga ___

jorna ___

cascape ___

pince ___

me ___

parda ___

cé ___

vara ___

so ___ dado

23



ATIVIDADE PEDAGÓGICA COMPLEMENTAR- APC
ESCOLA RURAL MUNICIPAL ELEODORO ÉBANO PEREIRA

E-mail escolaeleodoro@outlook.com Fone: (44) 3413-1140

Componente Curricular: Língua Portuguesa

Habilidade da BNCC:

Semana: 11 – De 28 de junho a 09 de julho.

Nome do aluno (a):

Turma: 3º Ano.

Professora-Shirley do Carmo Raitz

TREINO ORTOGRÁFICO:

◆◆◆ Faça as cruzadinhas e depois leia as palavras em voz alta:

The crossword puzzle grid contains the following words:

- Vertical word on the left: **RAPURA**
- Horizontal words: **PERO**, **PLANTAS**, **PIREIA**, **PORCO**, **BOIA**, **BOVINA**, **WITCH**, **TEA**, **COMB**, **PIANO**, **PIREIA**

◆◆◆ Agora seleccione os substantivos da cruzadinha:

B

_____	_____
_____	_____
_____	_____
_____	_____

P

_____	_____
_____	_____
_____	_____
_____	_____



ATIVIDADE PEDAGÓGICA COMPLEMENTAR- APC
ESCOLA RURAL MUNICIPAL ELEODORO ÉBANO PEREIRA

E-mail escolaeleodoro@outlook.com Fone: (44) 3413-1140

Componente Curricular: Matemática

Habilidade da BNCC:

Semana: 11 – De 28 de junho a 09 de julho.

Nome do aluno (a):

Turma: 3º Ano.

Professora-Shirley do Carmo Raitz

- Observe as peças de material dourado para completar o Q.V.L. Depois, escreva os números por extenso:

Placas **Barras** **Cubinhos**



C	D	U
1	7	8

100 + 70 + 8 = 178

Placas **Barras** **Cubinhos**



C	D	U

___ + ___ + ___ = ___

Placas **Barras** **Cubinhos**



C	D	U

___ + ___ + ___ = ___

Placas **Barras** **Cubinhos**



C	D	U

___ + ___ + ___ = ___

Placas **Barras** **Cubinhos**



C	D	U

___ + ___ + ___ = ___



ATIVIDADE PEDAGÓGICA COMPLEMENTAR- APC
ESCOLA RURAL MUNICIPAL ELEODORO ÉBANO PEREIRA

E-mail escolaeleodoro@outlook.com Fone: (44) 3413-1140

Componente Curricular: Matemática	
Habilidade da BNCC:	
Semana: 11 – De 28 de junho a 09 de julho.	
Nome do aluno (a):	Turma: 3º Ano.
Professora-Shirley do Carmo Raitz	

Entendendo nosso Sistema de Numeração decimal

C	D	U		
CENTENA	DEZENA	UNIDADE		
1	0	0	1 Centena	100
	1	0	1 dezena	10
		1	1 unidade	1

1 Unidade 1 Dezena 1 Centena

- Represente com algarismos as quantidades representadas.

- Registre os numerais.

	C	D	U
Trezentos e setenta e um			
Oitocentos e noventa e quatro			
vinte			
Cento e quarenta			
Nove			



WWW.AMBORRENSINA.COM.BR



ATIVIDADE PEDAGÓGICA COMPLEMENTAR- APC
ESCOLA RURAL MUNICIPAL ELEODORO ÉBANO PEREIRA

E-mail escolaeleodoro@outlook.com Fone: (44) 3413-1140

Componente Curricular: Matemática

Habilidade da BNCC:

Semana: 11 – De 28 de junho a 09 de julho.

Nome do aluno (a):

Turma: 3º Ano.

Professora-Shirley do Carmo Raitz

TABUADA DO UM AO NOVE COM RESULTADOS

1	x	1	=	1
1	x	2	=	2
1	x	3	=	3
1	x	4	=	4
1	x	5	=	5
1	x	6	=	6
1	x	7	=	7
1	x	8	=	8
1	x	9	=	9
1	x	10	=	10

2	x	1	=	2
2	x	2	=	4
2	x	3	=	6
2	x	4	=	8
2	x	5	=	10
2	x	6	=	12
2	x	7	=	14
2	x	8	=	16
2	x	9	=	18
2	x	10	=	20

3	x	1	=	3
3	x	2	=	6
3	x	3	=	9
3	x	4	=	12
3	x	5	=	15
3	x	6	=	18
3	x	7	=	21
3	x	8	=	24
3	x	9	=	27
3	x	10	=	30

4	x	1	=	4
4	x	2	=	8
4	x	3	=	12
4	x	4	=	16
4	x	5	=	20
4	x	6	=	24
4	x	7	=	28
4	x	8	=	32
4	x	9	=	36
4	x	10	=	40

5	x	1	=	5
5	x	2	=	10
5	x	3	=	15
5	x	4	=	20
5	x	5	=	25
5	x	6	=	30
5	x	7	=	35
5	x	8	=	40
5	x	9	=	45
5	x	10	=	50

6	x	1	=	6
6	x	2	=	12
6	x	3	=	18
6	x	4	=	24
6	x	5	=	30
6	x	6	=	36
6	x	7	=	42
6	x	8	=	48
6	x	9	=	54
6	x	10	=	60

7	x	1	=	7
7	x	2	=	14
7	x	3	=	21
7	x	4	=	28
7	x	5	=	35
7	x	6	=	42
7	x	7	=	49
7	x	8	=	56
7	x	9	=	63
7	x	10	=	70

8	x	1	=	8
8	x	2	=	16
8	x	3	=	24
8	x	4	=	32
8	x	5	=	40
8	x	6	=	48
8	x	7	=	56
8	x	8	=	64
8	x	9	=	72
8	x	10	=	80

9	x	1	=	9
9	x	2	=	18
9	x	3	=	27
9	x	4	=	36
9	x	5	=	45
9	x	6	=	54
9	x	7	=	63
9	x	8	=	72
9	x	9	=	81
9	x	10	=	90

PARA VOCÊ ESTUDAR E APRENDER COMEÇANDO PELA TABUADA DO 2:



ATIVIDADE PEDAGÓGICA COMPLEMENTAR- APC
ESCOLA RURAL MUNICIPAL ELEODORO ÉBANO PEREIRA

E-mail escolaeleodoro@outlook.com Fone: (44) 3413-1140

Componente Curricular: Matemática

Habilidade da BNCC:

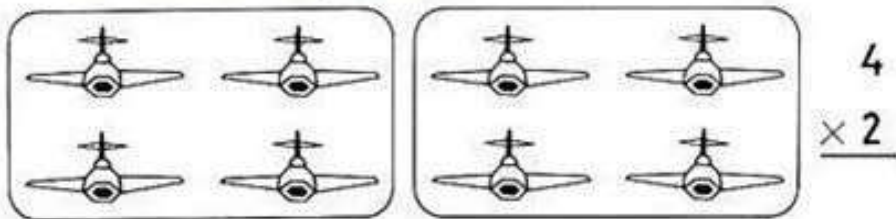
Semana: 11 – De 28 de junho a 09 de julho.

Nome do aluno (a):

Turma: 3º Ano.

Professora-Shirley do Carmo Raitz

Resolva as operações:



$$\begin{array}{r} 1 \\ \times 1 \\ \hline \end{array} \quad \begin{array}{r} 2 \\ \times 1 \\ \hline \end{array} \quad \begin{array}{r} 3 \\ \times 1 \\ \hline \end{array} \quad \begin{array}{r} 4 \\ \times 1 \\ \hline \end{array} \quad \begin{array}{r} 5 \\ \times 1 \\ \hline \end{array} \quad \begin{array}{r} 6 \\ \times 1 \\ \hline \end{array}$$

$$\begin{array}{r} 7 \\ \times 1 \\ \hline \end{array} \quad \begin{array}{r} 8 \\ \times 1 \\ \hline \end{array} \quad \begin{array}{r} 9 \\ \times 1 \\ \hline \end{array} \quad \begin{array}{r} 1 \\ \times 2 \\ \hline \end{array} \quad \begin{array}{r} 2 \\ \times 2 \\ \hline \end{array} \quad \begin{array}{r} 3 \\ \times 2 \\ \hline \end{array}$$

$$\begin{array}{r} 4 \\ \times 2 \\ \hline \end{array} \quad \begin{array}{r} 5 \\ \times 2 \\ \hline \end{array} \quad \begin{array}{r} 6 \\ \times 2 \\ \hline \end{array} \quad \begin{array}{r} 7 \\ \times 2 \\ \hline \end{array} \quad \begin{array}{r} 8 \\ \times 2 \\ \hline \end{array} \quad \begin{array}{r} 9 \\ \times 2 \\ \hline \end{array}$$

$$\begin{array}{r} 2 \\ \times 2 \\ \hline \end{array} \quad \begin{array}{r} 4 \\ \times 2 \\ \hline \end{array} \quad \begin{array}{r} 1 \\ \times 2 \\ \hline \end{array} \quad \begin{array}{r} 6 \\ \times 2 \\ \hline \end{array} \quad \begin{array}{r} 9 \\ \times 2 \\ \hline \end{array} \quad \begin{array}{r} 3 \\ \times 2 \\ \hline \end{array}$$

$$\begin{array}{r} 8 \\ \times 2 \\ \hline \end{array} \quad \begin{array}{r} 5 \\ \times 2 \\ \hline \end{array} \quad \begin{array}{r} 7 \\ \times 2 \\ \hline \end{array} \quad \begin{array}{r} 4 \\ \times 2 \\ \hline \end{array} \quad \begin{array}{r} 2 \\ \times 2 \\ \hline \end{array} \quad \begin{array}{r} 6 \\ \times 2 \\ \hline \end{array}$$



ATIVIDADE PEDAGÓGICA COMPLEMENTAR- APC
ESCOLA RURAL MUNICIPAL ELEODORO ÉBANO PEREIRA

E-mail escolaeleodoro@outlook.com Fone: (44) 3413-1140

Componente Curricular: Matemática

Habilidade da BNCC:

Semana: 11 – De 28 de junho a 09 de julho.

Nome do aluno (a):

Turma: 3º Ano.

Professora-Shirley do Carmo Raitz

1- COMPLETE A SEQUENCIA NUMÉRICA

100						106		
	111							
			124					
		132						139
140								
				155				
160								
			173					
						187		
							198	

2- COMPLETE COM OS VIZINHOS

<input type="text"/>	← 123 →	<input type="text"/>	<input type="text"/>	← 141 →	<input type="text"/>
<input type="text"/>	← 98 →	<input type="text"/>	<input type="text"/>	← 137 →	<input type="text"/>

3- RESOLVA AS OPERAÇÕES

$\begin{array}{r} 72 \\ + 23 \\ \hline \end{array}$	$\begin{array}{r} 124 \\ + 135 \\ \hline \end{array}$	$\begin{array}{r} 85 \\ - 45 \\ \hline \end{array}$	$\begin{array}{r} 97 \\ - 34 \\ \hline \end{array}$
-----	-----	-----	-----



ATIVIDADE PEDAGÓGICA COMPLEMENTAR- APC
ESCOLA RURAL MUNICIPAL ELEODORO ÉBANO PEREIRA

E-mail escolaeleodoro@outlook.com Fone: (44) 3413-1140

Componente Curricular: Ciências

Habilidade da BNCC:

Semana: 11 – De 28 de junho a 09 de julho.

Nome do aluno (a):

Turma: 3º Ano.

Professora-Shirley do Carmo Raitz


A Terra

• É um planeta de forma arredondada, ligeiramente achatado nos pólos. Há dois pólos: o Pólo Norte e o Pólo Sul.

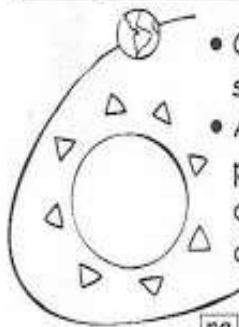
• Ela faz movimentos muito importantes como:



Movimento de rotação - a Terra gira em volta de si mesma. Uma volta completa demora 24 horas, ou seja, um dia completo.



Movimento de translação - a Terra gira em volta do Sol. Esse movimento dura 365 dias e 6 horas, ou seja, um ano.



• O caminho que a Terra percorre em torno do Sol chama-se órbita.

• A Terra gira sempre inclinada. Por esse motivo, uma parte dela (metade) recebe mais diretamente a luz do Sol do que a outra. O movimento de translação e a inclinação da Terra dão origem às quatro estações do ano:

ra	ma	ve	Pri	rão	Ve	to	Ou	no	ver	In	no
_____			_____			_____			_____		

❖ Forme palavras e circule-as no texto acima.

ção	ro	ta	da	don	ar	re	da	la	ção	trans
_____			_____				_____			
men	mo	to	vi	ções	es	ta	bi	ór	ta	
_____			_____				_____			





ATIVIDADE PEDAGÓGICA COMPLEMENTAR- APC
ESCOLA RURAL MUNICIPAL ELEODORO ÉBANO PEREIRA

E-mail escolaeleodoro@outlook.com Fone: (44) 3413-1140

Componente Curricular: Geografia

Habilidade da BNCC:


Semana: 11 – De 28 de junho a 09 de julho.






Nome do aluno (a):

Turma: 3º Ano.

Professora-Shirley do Carmo Raitz

► Troque os desenhos por palavras e reescreva as frases:



-  está dividido em Estados.
- O município de  é uma parte do estado.
- Quem governa o município é o .
- O , o vice-prefeito, e os vereadores são eleitos pelo povo por meio de voto em .

► Pinte, no mapa do Brasil o seu Estado e responda:



❖ Meu Estado é...

❖ Meu município é...

❖ O prefeito é...

❖ E o vice-prefeito é...



ATIVIDADE PEDAGÓGICA COMPLEMENTAR- APC
ESCOLA RURAL MUNICIPAL ELEODORO ÉBANO PEREIRA

E-mail escolaeleodoro@outlook.com Fone: (44) 3413-1140

Componente Curricular: Ensino Religioso

Habilidade da BNCC:

Semana: 11 – De 28 de junho a 09 de julho.

Nome do aluno (a):

Turma: 3º Ano.

Professora-Shirley do Carmo Raitz

VIRTUDES QUE DEVEMOS CONSERVAR

ENCONTRE NO DIAGRAMA, AS PALAVRAS EM DESTAQUE

GRATIDÃO - PAZ - RESPEITO
HUMILDADE - AMIZADE -
CARIDADE - PERDÃO - AMOR



B	E	D	A	M	O	R	Ã	O
J	W	E	R	T	Y	U	A	I
P	E	R	D	Ã	O	N	K	P
S	P	E	M	O	R	A	S	A
A	M	I	Z	A	D	E	Z	Z
B	H	R	J	D	O	D	E	Ç
C	A	R	I	D	A	D	E	A
O	L	I	B	Ç	I	Z	A	D
H	U	M	I	L	D	A	D	E
B	V	C	X	H	N	Z	M	L
U	G	R	A	T	I	D	Ã	O
R	E	S	P	E	I	T	O	

www.atividades.com.br
www.atividades.com.br Todos os direitos reservados



ATIVIDADE PEDAGÓGICA COMPLEMENTAR- APC
ESCOLA RURAL MUNICIPAL ELEODORO ÉBANO PEREIRA

E-mail escolaeleodoro@outlook.com **Fone:** (44) 3413-1140