



Semana: 7 de 03 a 14 de Maio

Turma: 2º ano

Nome do aluno(a):

Professor (a): Karina de Carvalho


Componente curricular: Português

Orientação: Considerando que no 2º ano alguns alunos ainda não realizam a leitura com autonomia, leia para ele a comanda e solicite as respostas.

**TERÇA – FEIRA 04/05/2021**

2ª ATIVIDADE AVALIATIVA

ESCREVA O NOME DE CADA DESENHO E PINTE BEM BONITO.





ATIVIDADE PEDAGÓGICA COMPLEMENTAR- APC

ESCOLA RURAL MUNICIPAL ELEODORO ÉBANO PEREIRA

E-mail [escolaeleodoro@outlook.com](mailto:escolaeleodoro@outlook.com) Fone: (44) 3413-1140

Semana: 7 de 03 a 14 de Maio

Turma: 2º ano

Nome do aluno(a):

Professor (a): Karina de Carvalho

Componente curricular: Matemática

Orientação: Considerando que no 2º ano alguns alunos ainda não realizam a leitura com autonomia, leia para ele a comanda e solicite as respostas.

**TERÇA – FEIRA 04/05/2021**

2ª ATIVIDADE AVALIATIVA

PREENCHA O CALENDÁRIO DO MÊS DE MAIO

Nome: \_\_\_\_\_

**CALENDÁRIO  
MAIO DE 2021**


Dom	Seg	Ter	Quar	Qui	Sex	Sab



Semana: 7 de 03 a 14 de Maio

Turma: 2º ano

Nome do aluno(a):

Professor (a): Karina de Carvalho

Componente curricular: Português

Orientação: Considerando que no 2º ano alguns alunos ainda não realizam a leitura com autonomia, leia para ele a comanda e solicite as respostas.

**QUARTA – FEIRA 05/05/2021**

2ª ATIVIDADE AVALIATIVA

**Nosso alfabeto tem 26 letras. Escreva-as que faltam abaixo:**

Agora escreva seu nome abaixo:

--	--	--	--	--	--	--	--



Semana: 7 de 03 a 14 de Maio

Turma: 2º ano

Nome do aluno(a):

Professor (a): Karina de Carvalho

Componente curricular: Matemática

Orientação: Considerando que no 2º ano alguns alunos ainda não realizam a leitura com autonomia, leia para ele a comanda e solicite as respostas.

**QUARTA – FEIRA 05/05/2021**

2ª ATIVIDADE AVALIATIVA

- ① Resolva as adições e, depois, pinte da mesma cor os balões cujos resultados sejam iguais.





Semana: 7 de 03 a 14 de Maio

Turma: 2º ano

Nome do aluno(a):

Professor (a): Karina de Carvalho

Componente curricular: Ciências


Orientação: Considerando que no 2º ano alguns alunos ainda não realizam a leitura com autonomia, leia para ele a comanda e solicite as respostas.

**QUINTA – FEIRA 06/05/2021**

2ª ATIVIDADE AVALIATIVA

## Cruzadinha

◆ Completar a cruzadinha, obedecendo à numeração das ilustrações:



◆ Complete, retirando da cruzadinha:

O \_\_\_\_\_ serve para lavar a cabeça.

A \_\_\_\_\_ serve para enxugar o corpo.

Com o \_\_\_\_\_ eu penteio os cabelos.

Com o \_\_\_\_\_ eu limpo os dentes.

Com a \_\_\_\_\_ eu escovo os dentes.





Semana: 7 de 03 a 14 de Maio

Turma: 2º ano

Nome do aluno(a):

Professor (a): Karina de Carvalho

Componente curricular: Geografia

Orientação: Considerando que no 2º ano alguns alunos ainda não realizam a leitura com autonomia, leia para ele a comanda e solicite as respostas.

## QUINTA – FEIRA 06/05/2021

### 2ª ATIVIDADE AVALIATIVA

COMPLETE AS FRASES DE ACORDO COM O DESENHO:



1) \_\_\_\_\_ ESTÁ SENTADA ATRÁS DE ANA.

2) \_\_\_\_\_ SENTA-SE À FRENTE DE CAROL.

3) \_\_\_\_\_ E BRUNO SENTAM-SE EM FRENTE AO QUADRO. SENDO QUE \_\_\_\_\_ SENTA-SE MAIS PRÓXIMO A PORTA.

4) \_\_\_\_\_ SENTA-SE MAIS LONGE DA PROFESSORA E AO SEU LADO SENTA-SE \_\_\_\_\_.

5) \_\_\_\_\_ SENTA-SE BEM PRÓXIMA A PROFESSORA E AO LADO DE \_\_\_\_\_.



Semana: 7 de 03 a 14 de Maio

Turma: 2º ano

Nome do aluno(a):

Professor (a): Karina de Carvalho




Componente curricular: Português

Orientação: Considerando que no 2º ano alguns alunos ainda não realizam a leitura com autonomia, leia para ele a comanda e solicite as respostas.

**SEXTA – FEIRA 07/05/2021**

2ª ATIVIDADE AVALIATIVA

ESCREVA O NOME DOS DESENHOS NOS QUADRINHO ABAIXO .





ATIVIDADE PEDAGÓGICA COMPLEMENTAR- APC

ESCOLA RURAL MUNICIPAL ELEODORO ÉBANO PEREIRA

E-mail [escolaeleodoro@outlook.com](mailto:escolaeleodoro@outlook.com) Fone: (44) 3413-1140

Semana: 7 de 03 a 14 de Maio

Turma: 2º ano

Nome do aluno(a):

Professor (a): Karina de Carvalho

Componente curricular: Matemática

Orientação: Considerando que no 2º ano alguns alunos ainda não realizam a leitura com autonomia, leia para ele a comanda e solicite as respostas.

**SEXTA – FEIRA 07/05/2021**

2ª ATIVIDADE AVALIATIVA

COMPLETE O PERCURSO EM ORDEM DECRESCENTE E AJUDE O MENINO A ENCONTRAR SUA BOLA.



50 49 ○ ○ 46 45 ○

○ 43

33 34 ○ 36 ○ 38 ○ ○ 41 ○

○

31 ○ ○ 28 ○ 26 25 ○ 23 22

○

11 ○ 13 14 ○ 16 17 ○ 19 ○

○

9 ○ 7 ○ ○ 4 3 ○ ○







ATIVIDADE PEDAGÓGICA COMPLEMENTAR- APC

ESCOLA RURAL MUNICIPAL ELEODORO ÉBANO PEREIRA

E-mail [escolaeleodoro@outlook.com](mailto:escolaeleodoro@outlook.com) Fone: (44) 3413-1140

Semana: 7 de 03 a 14 de Maio

Turma: 2º ano


Nome do aluno(a):

Professor (a): Karina de Carvalho

Componente curricular: Português

Orientação: Considerando que no 2º ano alguns alunos ainda não realizam a leitura com autonomia, leia para ele a comanda e solicite as respostas.

**TERÇA – FEIRA 11/05/2021**



MACACO

RUTH ROCHA

UM MACACO  
TÃO MALUCO  
METE MEDO  
NO MATUTO.

UM MACACO  
TÃO MATREIRO  
METE MEDO  
NO MINEIRO.

UM MACACO  
TÃO MANHOSO  
METE MEDO  
NO MEDROSO.

1 - APÓS A LEITURA DO POEMA “MACACO” CIRCULE NO TEXTO AS PALAVRAS INICIADAS COM “M”

2 - COPIE 4 PALAVRAS QUE VOCÊ CIRCULOU NO TEXTO:

\_\_\_\_\_

\_\_\_\_\_

\_\_\_\_\_

\_\_\_\_\_

3 - SEPRE AS SÍLABAS DAS PALAVRAS:

MACACO - \_\_\_\_\_

MATREIRO - \_\_\_\_\_

MANHOSO - \_\_\_\_\_

MATUTO - \_\_\_\_\_

MEDO - \_\_\_\_\_

MEDROSO - \_\_\_\_\_



Semana: 7 de 03 a 14 de Maio

Turma: 2º ano

Nome do aluno(a):

Professor (a): Karina de Carvalho

Componente curricular: Matemática

Orientação: Considerando que no 2º ano alguns alunos ainda não realizam a leitura com autonomia, leia para ele a comanda e solicite as respostas.

TERÇA – FEIRA 11/05/2021

# DOBRO

Para achar o **DOBRO** de um número, basta você multiplicar esse número por **2**.



Agora é com você:

O dobro de 6 é  $2 \times 6 = 12$

1) BINHO E GABY JUNTARAM MATERIAIS RECICLADOS PARA CRIAREM ALGUNS BRINQUEDOS EM UM PROJETO SOBRE RECICLAGEM NA ESCOLA. CONFIRA O QUE CADA UM CONSEGUIU E DEPOIS RESPONDA A PERGUNTA:


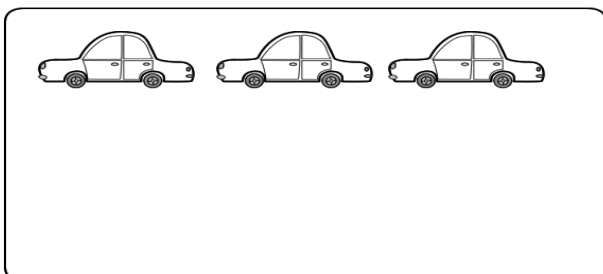
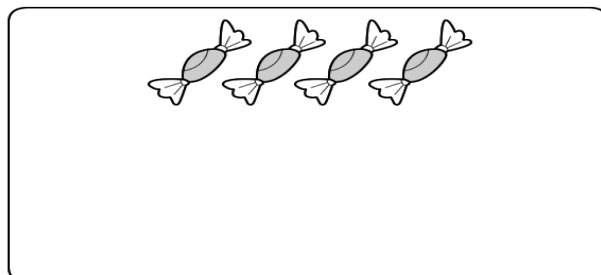
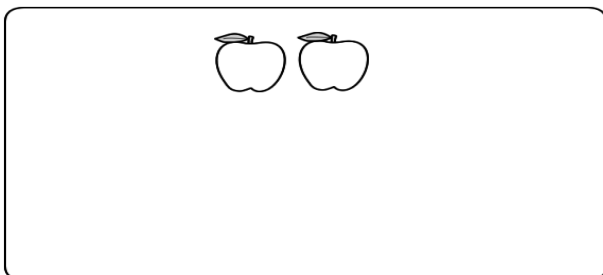


A. QUANTAS GARRAFAS A GABY CONSEGUIU JUNTAR?

---

---

2) DESENHE O DOBRO DE FIGURAS EM CADA CASO:





ATIVIDADE PEDAGÓGICA COMPLEMENTAR- APC

ESCOLA RURAL MUNICIPAL ELEODORO ÉBANO PEREIRA

E-mail [escolaeleodoro@outlook.com](mailto:escolaeleodoro@outlook.com) Fone: (44) 3413-1140

Semana: 7 de 03 a 14 de Maio

Turma: 2º ano

Nome do aluno(a):

Professor (a): Karina de Carvalho

Componente curricular: Português

Orientação: Considerando que no 2º ano alguns alunos ainda não realizam a leitura com autonomia, leia para ele a comanda e solicite as respostas.

**QUARTA – FEIRA 12/05/2021**

PARA REALIZAR ESTA ATIVIDADE VOLTE NO POEMA DA AULA DO DIA 11/05 MACACO DE RUTH ROCHA

**VERSO**

CADA LINHA DO POEMA SE CHAMA **VERSO**.

**ESTROFE**

CADA CONJUNTO DE VERSOS SE CHAMA ESTROFE.

4. QUANTOS VERSOS HÁ

A) NA PRIMEIRA ESTROFE? \_\_\_\_\_

B) NA SEGUNDA ESTROFE? \_\_\_\_\_

C) NA TERCEIRA ESTROFE? \_\_\_\_\_

5. COMPLETE OS ESPAÇOS COM NÚMERO CORRESPONDENTE.

O POEMA "MACACO" TEM \_\_\_\_\_ VERSOS E \_\_\_\_\_ ESTROFES.

6. O POEMA " MACACO", A PALAVRA **MATREIRO** RIMA COM **MINEIRO**. MAS VOCÊ SABE O QUE É UMA RIMA?

**RIMA**

**RIMA** É UTILIZAÇÃO DE DUAS OU MAIS PALAVRAS COM SONS FINAIS IGUAIS AO SE COMPOR UM TEXTO.

ATIVIDADES EM SALA- PAG. 2

ENCONTRE NO POEMA "MACACO" AS RIMAS DAS PALAVRAS:

MANHOSO - \_\_\_\_\_

MALUCO - \_\_\_\_\_

ESCREVA UMA FRASE COM AS PALAVRAS: **MACACO E MEDROSO**

---

---

---



Semana: 7 de 03 a 14 de Maio

Turma: 2º ano

Nome do aluno(a):

Professor (a): Karina de Carvalho

Componente curricular: Matemática

Orientação: Considerando que no 2º ano alguns alunos ainda não realizam a leitura com autonomia, leia para ele a comanda e solicite as respostas.

QUARTA – FEIRA 12/05/2021

# Dobro e metade

Eu tenho 2 maçãs. Por isso, tenho metade das maçãs que tu tens.


Beatriz, eu tenho 4 maçãs.

2 é metade de 4  
4 é o dobro de 2

4


2 + 2

Observa e completa.



Total de maçãs: \_\_\_\_\_

Metade: \_\_\_\_\_



Total de morangos: \_\_\_\_\_

Metade: \_\_\_\_\_



Semana: 7 de 03 a 14 de Maio

Turma: 2º ano

Nome do aluno(a):

Professor (a): Karina de Carvalho

Componente curricular: Ciências

Orientação: Considerando que no 2º ano alguns alunos ainda não realizam a leitura com autonomia, leia para ele a comanda e solicite as respostas.

**QUINTA – FEIRA 13/05/2021**

2 - LIGUE OS PRODUTOS DE HIGIENE ÀS PARTES DO CORPO ONDE DEVEM SER USADOS.



3 - MARQUE AS ALTERNATIVAS CORRETAS.

ESTES SÃO HÁBITOS QUE CONTRIBUEM PARA UMA BOA SAÚDE:

- ( ) TOMAR BANHO TODOS OS DIAS.
- ( ) USAR O MESMO FIO DENTAL QUE O COLEGA USOU.
- ( ) LIMPAR AS UNHAS TODOS OS DIAS.
- ( ) ESCOVAR OS DENTES UMA VEZ POR SEMANA.
- ( ) MANTER OS CABELOS LIMPOS.
- ( ) ESCOVAR OS DENTES DE MANHÃ E APÓS AS REFEIÇÕES.





ATIVIDADE PEDAGÓGICA COMPLEMENTAR- APC

ESCOLA RURAL MUNICIPAL ELEODORO ÉBANO PEREIRA

E-mail [escolaeleodoro@outlook.com](mailto:escolaeleodoro@outlook.com) Fone: (44) 3413-1140

Semana: 7 de 03 a 14 de Maio

Turma: 2º ano

Nome do aluno(a):

Professor (a): Karina de Carvalho

Componente curricular: Geografia

Orientação: Considerando que no 2º ano alguns alunos ainda não realizam a leitura com autonomia, leia para ele a comanda e solicite as respostas.

**QUINTA – FEIRA 13/05/2021**

*Dia e noite*

1. Observe o dia e responda.

- a) Data da observação: \_\_\_\_\_  
b) Hora: \_\_\_\_\_  
c) Pinte o quadrinho relacionado: Como estava o tempo?

ensolarado

nublado

chuvoso

2. Observe a noite e responda.

- a) Data da observação: \_\_\_\_\_  
b) Hora: \_\_\_\_\_  
c) Você conseguiu ver a Lua?

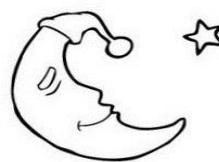
Sim

Não

d) Havia muitas estrelas no céu?

Sim

Não



e) Você gostou mais de observar o dia ou a noite? Por quê?

\_\_\_\_\_

DESENHE UMA ATIVIDADE QUE VOCÊ REALIZA DE DIA E UMA QUE REALIZA A NOITE.



ATIVIDADE PEDAGÓGICA COMPLEMENTAR- APC  
ESCOLA RURAL MUNICIPAL ELEODORO ÉBANO PEREIRA  
E-mail [escolaeleodoro@outlook.com](mailto:escolaeleodoro@outlook.com) Fone: (44) 3413-1140

Semana: 7 de 03 a 14 de Maio

Turma: 2º ano

Nome do aluno(a):

Professor (a): Karina de Carvalho

Componente curricular: Português

Orientação: Considerando que no 2º ano alguns alunos ainda não realizam a leitura com autonomia, leia para ele a comanda e solicite as respostas.

**SEXTA – FEIRA 14/05/2021**

ESCREVA DENTRO DOS RETÂNGULOS COMO SOUBER QUATRO PALAVRAS QUE RIMAM COM

**MANHOSO**

VOCÊ SE LEMBRA DA FAMÍLIA SILÁBICA DA LETRA “M” ? VAMOS LER!

**MA – ME – MI – MO – MU – MÃO**

AGORA QUE VOCÊ JA LEU, VAMOS ESCREVER PALAVRAS QUE INICIEM COM ESSAS SÍLABAS.

VEJA SE CONSEGUE ESCREVER DUAS PALAVRAS PARA CADA SÍLABA.

MA - \_\_\_\_\_

ME - \_\_\_\_\_

MI - \_\_\_\_\_

MO - \_\_\_\_\_

MU - \_\_\_\_\_



Semana: 7 de 03 a 14 de Maio

Turma: 2º ano

Nome do aluno(a):

Professor (a): Karina de Carvalho

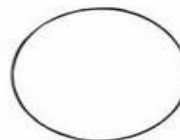
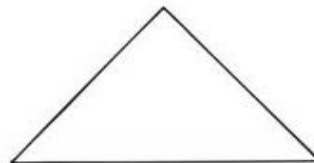
Componente curricular: Matemática

Orientação: Considerando que no 2º ano alguns alunos ainda não realizam a leitura com autonomia, leia para ele a comanda e solicite as respostas.

**SEXTA – FEIRA 14/05/2021**

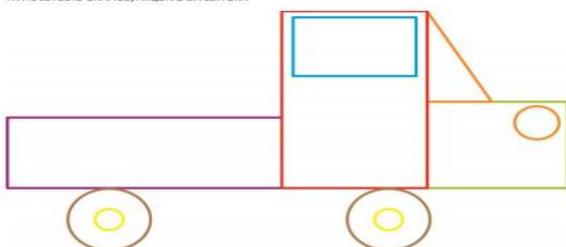
## FORMAS GEOMÉTRICAS

LIGUE A FIGURA À SUA FORMA CORRESPONDENTE.



ANDRÉ DESENHO UM CARRO UTILIZANDO FIGURAS GEOMÉTRICAS PLANAS. QUAIS FIGURAS GEOMÉTRICAS ANDRÉ UTILIZOU NESTE DESENHO?

AVITS ESTÚDIO GRÁFICO/ARQUIVO DA EDITORA



RESPOSTA: