



ATIVIDADE PEDAGÓGICA COMPLEMENTAR- APC

ESCOLA RURAL MUNICIPAL ELEODORO ÉBANO PEREIRA

E-mail escolaeleodoro@outlook.com Fone: (44) 3413-1140

Semana: 6 de 19 a 30 de Abril

Turma: 2º ano

Nome do aluno(a):

Professor (a): Karina de Carvalho


Componente curricular: Português

Orientação: Considerando que no 2º ano alguns alunos ainda não realizam a leitura com autonomia, leia para ele a comanda e solicite as respostas.

TERÇA – FEIRA 20/04/2021

GÊNERO TEXTUAL: PARLENDA

1-LEIA A PARLENDA JUNTAMENTE COM UM DOS SEUS FAMILIARES.



AGORA, FAÇA AS ATIVIDADES COM MUITA ATENÇÃO!

- CIRCULE NO TEXTO ACIMA A PALAVRA DOCE.
- OBSERVE ESTA PALAVRA E COMPLETE AS INFORMAÇÕES.

DOCE

NÚMERO DE LETRAS

LETRA ÍNICIAL

NÚMERO DE LETRAS

NÚMERO DE SÍLAB

• O DOCE MAIS DOCE É O DOCE DE



ATIVIDADE PEDAGÓGICA COMPLEMENTAR- APC

ESCOLA RURAL MUNICIPAL ELEODORO ÉBANO PEREIRA

E-mail escolaeleodoro@outlook.com Fone: (44) 3413-1140

Semana: 6 de 19 a 30 de Abril

Turma: 2º ano

Nome do aluno(a):

Professor (a): Karina de Carvalho

Componente curricular: Ciências

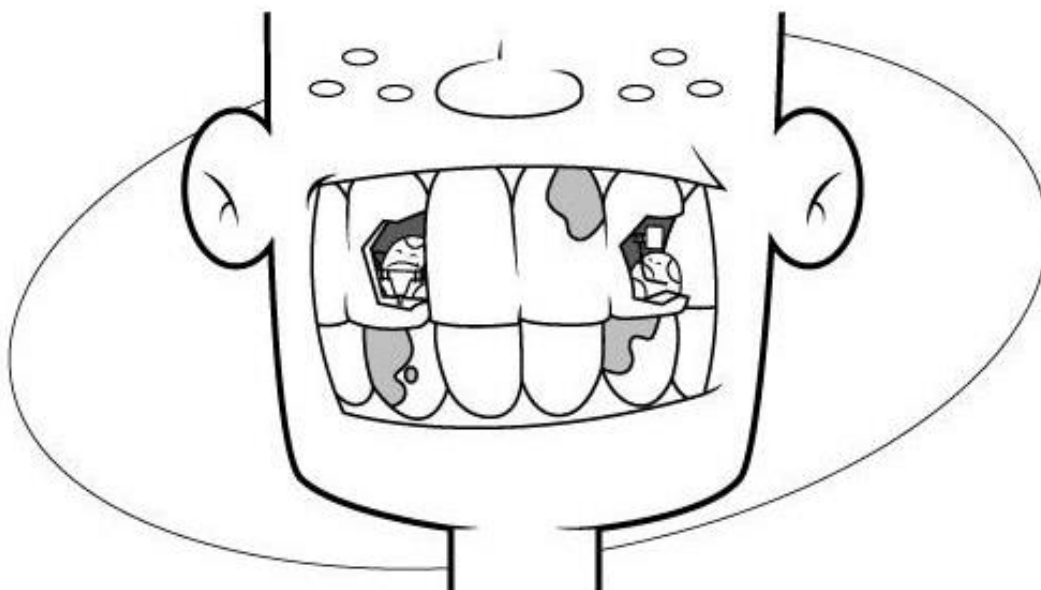
Orientação: Considerando que no 2º ano alguns alunos ainda não realizam a leitura com autonomia, leia para ele a comanda e solicite as respostas.

QUINTA – FEIRA 22/04/2021

DESCUBRA A PALAVRA SECRETA ESCRREVENDO A LETRA INICIAL DE CADA FIGURA NOS QUADRINHOS.

**Devemos escovar os dentes três vezes
ao dia Para evitar a**

--	--	--	--	--





ATIVIDADE PEDAGÓGICA COMPLEMENTAR- APC

ESCOLA RURAL MUNICIPAL ELEODORO ÉBANO PEREIRA

E-mail escolaeleodoro@outlook.com Fone: (44) 3413-1140

Semana: 6 de 19 a 30 de Abril

Turma: 2º ano

Nome do aluno(a):

Professor (a): Karina de Carvalho

Componente curricular: Geografia

Orientação: Considerando que no 2º ano alguns alunos ainda não realizam a leitura com autonomia, leia para ele a comanda e solicite as respostas.



QUINTA – FEIRA 22/04/2021

O PONTO DE REFERÊNCIA É UM ELEMENTO DE LOCALIZAÇÃO PARA ALGUÉM SE ORIENTAR E CHEGAR A UM DETERMINADO LUGAR.

1) ESCREVA UM PONTO DE REFERÊNCIA DO SEU BAIRRO PARA ENCONTRAR SUA CASA COM FACILIDADE, OU SEJA, ALGO QUE EXISTE PERTO DA SUA CASA.

2) A RUA DA SUA CASA É TRANQUILA OU MOVIMENTADA? _____

PINTE A RUA MAIS PARECIDA COM A SUA.



3) PINTE SOMENTE OS QUADRINHOS DO QUE EXISTE AO LONGO DA RUA ONDE FICA A SUA CASA.

ÁRVORES

ESCOLA

CAMPO DE FUTEBOL

LIXEIRAS

FLORES

CASAS

PRÉDIOS

INDÚSTRIAS

PONTO DE ÔNIBUS



ATIVIDADE PEDAGÓGICA COMPLEMENTAR- APC
ESCOLA RURAL MUNICIPAL ELEODORO ÉBANO PEREIRA
E-mail escolaeleodoro@outlook.com Fone: (44) 3413-1140

Semana: 6 de 19 a 30 de Abril

Turma: 2º ano

Nome do aluno(a):

Professor (a): Karina de Carvalho

Componente curricular: Português

Orientação: Considerando que no 2º ano alguns alunos ainda não realizam a leitura com autonomia, leia para ele a comanda e solicite as respostas.

SEXTA – FEIRA 23/04/2021

RELEIA A PARLENDA O DOCE E COMPLETE AS LACUNAS COM AS PALAVRAS QUE FALTAM.

O

O PERGUNTOU PRO

QUAL É O MAIS ?

O RESPONDEU PRO

QUE O MAIS

É O DE BATATA .



Semana: 6 de 19 a 30 de Abril

Turma: 2º ano

Nome do aluno(a):

Professor (a): Karina de Carvalho

Componente curricular: Matemática

Orientação: Considerando que no 2º ano alguns alunos ainda não realizam a leitura com autonomia, leia para ele a comanda e solicite as respostas.

SEXTA – FEIRA 23/04/2021

CÁLCULOS

- OBSERVE A ATIVIDADE COM ATENÇÃO.
- NESTA ATIVIDADE TEREMOS SOMENTE CONTAS DE ADIÇÃO (+)
- POR ISSO, SE ATENDEM AO RESOLVÊ-LAS, LEMBRANDO QUE NAS CONTAS DE ADIÇÃO NÓS SOMAMOS, ACRESCENTAMOS, COLOCAMOS MAIS.
- SOME E COLOQUE AS RESPOSTAS.
- VOCÊ PODE FAZER O CÁLCULO MENTALMENTE E SÓ POR AS RESPOSTAS, PODE SER FAZENDO DESENHOS OU AINDA, CONTANDO NOS DEDOS.
- CAPRICHE!!

ADIÇÃO

$\begin{array}{r} 22 \\ + 8 \\ \hline \square \end{array}$	$\begin{array}{r} 23 \\ + 5 \\ \hline \square \end{array}$	$\begin{array}{r} 25 \\ + 4 \\ \hline \square \end{array}$	$\begin{array}{r} 27 \\ + 2 \\ \hline \square \end{array}$
$\begin{array}{r} 24 \\ + 3 \\ \hline \square \end{array}$	$\begin{array}{r} 26 \\ + 3 \\ \hline \square \end{array}$	$\begin{array}{r} 28 \\ + 1 \\ \hline \square \end{array}$	$\begin{array}{r} 30 \\ + 4 \\ \hline \square \end{array}$
$\begin{array}{r} 32 \\ + 4 \\ \hline \square \end{array}$	$\begin{array}{r} 36 \\ + 3 \\ \hline \square \end{array}$	$\begin{array}{r} 41 \\ + 6 \\ \hline \square \end{array}$	$\begin{array}{r} 43 \\ + 5 \\ \hline \square \end{array}$
$\begin{array}{r} 45 \\ + 4 \\ \hline \square \end{array}$	$\begin{array}{r} 47 \\ + 2 \\ \hline \square \end{array}$	$\begin{array}{r} 50 \\ + 4 \\ \hline \square \end{array}$	$\begin{array}{r} 52 \\ + 6 \\ \hline \square \end{array}$



ATIVIDADE PEDAGÓGICA COMPLEMENTAR- APC

ESCOLA RURAL MUNICIPAL ELEODORO ÉBANO PEREIRA

E-mail escolaeleodoro@outlook.com Fone: (44) 3413-1140

Semana: 6 de 19 a 30 de Abril

Turma: 2º ano

Nome do aluno(a):

Professor (a): Karina de Carvalho

Componente curricular: Português

Orientação: Considerando que no 2º ano alguns alunos ainda não realizam a leitura com autonomia, leia para ele a comanda e solicite as respostas.

TERÇA – FEIRA 27/04/2021

DITADO DE PESQUISA

TODO MUNDO GOSTA DE DOCE QUE TAL VOCÊ DESCOBRIR QUE DOCES SEUS PAIS SABEM FAZER:

PEDIR AJUDA À MAMÃE E AO PAPAÍ E FAZER UMA LISTA DE DOCES CONHECIDOS:



1	2
3	4
5	6
7	8
9	10
11	12



Semana: 6 de 19 a 30 de Abril

Turma: 2º ano

Nome do aluno(a):

Professor (a): Karina de Carvalho

Componente curricular: Matemática

Orientação: Considerando que no 2º ano alguns alunos ainda não realizam a leitura com autonomia, leia para ele a comanda e solicite as respostas.

TERÇA – FEIRA 27/04/2021

COMPLETE A SEQUÊNCIA NUMÉRICA E EM SEGUIDA FAÇA A LEITURA

COMPLETE A SEQUÊNCIA NUMÉRICA

1		3		5		7		9	10
---	--	---	--	---	--	---	--	---	----

11	12		14		16		18		20
----	----	--	----	--	----	--	----	--	----

21		23		25		27		29	30
----	--	----	--	----	--	----	--	----	----

31	32		34		36		38		40
----	----	--	----	--	----	--	----	--	----

41		43		45		47		49	50
----	--	----	--	----	--	----	--	----	----



Semana: 6 de 19 a 30 de Abril

Turma: 2º ano

Nome do aluno(a):


Professor (a): Karina de Carvalho

Componente curricular: Português

Orientação: Considerando que no 2º ano alguns alunos ainda não realizam a leitura com autonomia, leia para ele a comanda e solicite as respostas.

QUARTA – FEIRA 28/04/2021

ESCOLHA AS SÍLABAS E FORME PALAVRAS:


	CA	DE	BO	BI

	MA	CA	DA


	DO	A	DE


	DA	NÓ	DO	MI

	CA	DE	BO	BI

	DO	DE	A	CA

	DA	DI	DO

	BE	DO	BI	DA

	CÔ	DA	MO

	DI	NHEI	RO	DE

SEPARE AS SÍLABAS:

DADO ○ ○ DURANTE ○ ○ ○

DALILA ○ ○ ○ DATA ○ ○

TECIDO ○ ○ ○ DUELO ○ ○ ○

DECISÃO ○ ○ ○ DIÁRIO ○ ○ ○

DÉCADA ○ ○ ○ DAMASCO ○ ○ ○



Semana: 6 de 19 a 30 de Abril

Turma: 2º ano

Nome do aluno(a):


Professor (a): Karina de Carvalho

Componente curricular: Matemática

Orientação: Considerando que no 2º ano alguns alunos ainda não realizam a leitura com autonomia, leia para ele a comanda e solicite as respostas.

QUARTA – FEIRA 28/04/2021

- OBSERVE A CENA E RESOLVA.



1 - QUANTAS CRIANÇAS ESTÃO BRINCANDO NO BALANÇO?

2 - QUANTAS BRINCAM NO ESCORREGADOR?

3 - QUANTAS BRINCAM COM AREIA?

4 – QUANTAS CRIANÇAS AO TODO?

5 – QUANTOS BALDINHOS HÁ NA CENA?





ATIVIDADE PEDAGÓGICA COMPLEMENTAR- APC

ESCOLA RURAL MUNICIPAL ELEODORO ÉBANO PEREIRA

E-mail escolaeleodoro@outlook.com Fone: (44) 3413-1140

Semana: 6 de 19 a 30 de Abril

Turma: 2º ano

Nome do aluno(a):

Professor (a): Karina de Carvalho

Componente curricular: Ciências

Orientação: Considerando que no 2º ano alguns alunos ainda não realizam a leitura com autonomia, leia para ele a comanda e solicite as respostas.

QUINTA – FEIRA 29/04/2021

PARA MANTER A HIGIENE NA BOCA PRECISAMOS ESCOVAR OS DENTES APÓS AS REFEIÇÕES, PARA QUE NÃO ACUMULE RESTOS DE COMIDA E FORME AS CÁRIES.

DESENHE QUAIS OBJETOS USAMOS PARA FAZER A HIGIENE DE NOSSA BOCA.



ATIVIDADE PEDAGÓGICA COMPLEMENTAR- APC
ESCOLA RURAL MUNICIPAL ELEODORO ÉBANO PEREIRA
E-mail escolaeleodoro@outlook.com Fone: (44) 3413-1140

Semana: 6 de 19 a 30 de Abril

Turma: 2º ano

Nome do aluno(a):


Professor (a): Karina de Carvalho

Componente curricular: Geografia

Orientação: Considerando que no 2º ano alguns alunos ainda não realizam a leitura com autonomia, leia para ele a comanda e solicite as respostas.

QUINTA – FEIRA 29/04/2021

- OBSERVE A IMAGEM DO TRAJETO QUE O MENINO FEZ E RESPONDA AS QUESTÕES.



1) PINTE A LINHA TRACEJADA POR ONDE O MENINO DEVE IR.

2) O MENINO SAIU DE CASA. EM QUAL LOCAL ELE QUER CHEGAR? MARQUE X NA RESPOSTA CERTA.

- () HOSPITAL
() SUPERMERCADO
() ESCOLA
() FARMÁCIA

3) QUAL O NOME DO SUPERMERCADO?

4) EM QUAL LOCAL DA IMAGEM É POSSÍVEL COMPRAR UM REMÉDIO?

5) QUATRO PRÉDIOS POSSUEM

PLACA COM O NOME DO LOCAL. ESCREVA ESSES NOMES.

6) O QUE ESTÁ ESTACIONADO NA FRENTE DO HOSPITAL? MARQUE X NA REPOSTA CORRETA.

- () ÔNIBUS () MOTO () BICICLETA () AMBULÂNCIA () CAMINHÃO



ATIVIDADE PEDAGÓGICA COMPLEMENTAR- APC

ESCOLA RURAL MUNICIPAL ELEODORO ÉBANO PEREIRA

E-mail escolaeleodoro@outlook.com Fone: (44) 3413-1140

Semana: 6 de 19 a 30 de Abril

Turma: 2º ano

Nome do aluno(a):


Professor (a): Karina de Carvalho

Componente curricular: Matemática

Orientação: Considerando que no 2º ano alguns alunos ainda não realizam a leitura com autonomia, leia para ele a comanda e solicite as respostas.

SEXTA – FEIRA 30/04/2021

- OBSERVE O DESENHO E RESPONDA:



A) QUANTOS OVOS HÁ NO NINHO? _____

B) QUANTOS OVOS ESTÃO FORA DO NINHO? _____

C) QUANTOS OVOS SÃO AO TODO? _____

- COMPLETE A SEQÜÊNCIA COM OS NÚMEROS QUE ESTÃO FALTANDO:

0		2				6			9
			13				17		

- ORGANIZE ABAIXO DA CADA FILEIRA, DO MENOR PARA O MAIOR.

30	25	40	10	35	18

- OBSERVE A PRATELEIRA E ORGANIZE FAZENDO UMA TABELA DE BARRA , ANOTANDO A QUANTIDADE EM CIMA DE CADA BARRINHA.

