



ATIVIDADE PEDAGÓGICA COMPLEMENTAR- APC
ESCOLA RURAL MUNICIPAL ELEODORO ÉBANO PEREIRA
E-mail escolaeleodoro@outlook.com Fone: (44) 3413-1140

Semana: 13 de 09 à 20 de Agosto

Turma: 2º ano

Nome do aluno(a):

Professor (a): Karina de Carvalho

Componente curricular: Matemática

Orientação: Considerando que no 2º ano alguns alunos ainda não realizam a leitura com autonomia, leia para ele a comanda e solicite as respostas.

TERÇA – FEIRA 10/08/2021

O ANO ESTÁ PASSANDO BEM DEPRESSA, JÁ ESTAMOS NO MÊS DE **AGOSTO!!**

COM A AJUDA DE UM ADULTO PREENCHA O CALENDÁRIO E EM SEGUIDA RESPONDA AS QUESTÕES ABAIXO.

VOU DEIXAR ALGUMAS DICAS: O MÊS DE AGOSTO TEVE INICIO EM UM DOMINGO E ELE TEM 31 DIAS.

DOMINGO	SEGUNDA- FEIRA	TERÇA- FEIRA	QUARTA- FEIRA	QUINTA- FEIRA	SEXTA- FEIRA	SÁBADO

- A) EM QUAL ANO ESTAMOS? _____
- B) EM QUAL MÊS? _____
- C) PINTE DE VERMELHO O QUADRINHO QUE INDICA O DIA DE HOJE.
- D) QUAL É O NOME DO PRIMEIRO DIA DA SEMANA? _____
- E) QUAL É O NOME DO ÚLTIMO DIA DA SEMANA? _____
- F) QUANTOS DOMINGOS TEM ESTE MÊS? _____
- G) QUANTOS DIAS TEM UMA SEMANA? _____



Semana: 13 de 09 à 20 de Agosto

Turma: 2º ano

Nome do aluno(a):

Professor (a): Karina de Carvalho

Componente curricular: Português

Orientação: Considerando que no 2º ano alguns alunos ainda não realizam a leitura com autonomia, leia para ele a comanda e solicite as respostas.

QUARTA – FEIRA 11/08/2021

Sílabas com CH

1. Copie completando com cha – che- chi – cho – chu:

a) _____ gar

i) fé _____ do

b) _____ to

j) _____ io

c) _____ cote

l) _____ veiro

d) _____ colate

m) _____ rar

e) _____ va

n) _____ peta

f) bi _____ nho

o) _____ fer

g) _____ péu

p) bola _____

h) _____ fé

q) borra _____

2. Leia as palavras abaixo e faça um desenho de acordo com cada uma delas.

CHAPÉU

CHAVE

CHUVA



Semana: 13 de 09 à 20 de Agosto

Turma: 2º ano

Nome do aluno(a):

Professor (a): Karina de Carvalho

Componente curricular: Ciências

Orientação: Considerando que no 2º ano alguns alunos ainda não realizam a leitura com autonomia, leia para ele a comanda e solicite as respostas.

QUINTA – FEIRA 12/08/2021

LEIA O TEXTO E RESPONDA AS PERGUNTAS.

A importância do Sol

O sol é uma estrela de quinta grandeza e é a estrela mais próxima de nós. Sem ele não existiria vida na Terra.

Todos os seres vivos, necessitam da luz e do calor do Sol para sobreviver. Os raios solares contêm a vitamina D, que é muito importante para nós.

Com o Sol, as plantas realizam a fotossíntese e assim conseguem viver. Os animais também necessitam do Sol para sua sobrevivência.

caninhodatiage.ssy

1- COMPLETE AS FRASES:

- A) O SOL É UMA _____.
- B) TODOS OS SERES VIVOS NECESSITAM DA _____ E _____ DO SOL PARA SOBREVIVER.
- C) OS RAIOS _____ CONTÊM A _____, QUE É MUITO IMPORTANTE PARA NÓS.

2- POR QUE O SOL É IMPORTANTE ?



ATIVIDADE PEDAGÓGICA COMPLEMENTAR- APC
ESCOLA RURAL MUNICIPAL ELEODORO ÉBANO PEREIRA
E-mail escolaeleodoro@outlook.com Fone: (44) 3413-1140

Semana: 13 de 09 à 20 de Agosto

Turma: 2º ano

Nome do aluno(a):

Professor (a): Karina de Carvalho

Componente curricular: Português

Orientação: Considerando que no 2º ano alguns alunos ainda não realizam a leitura com autonomia, leia para ele a comanda e solicite as respostas.

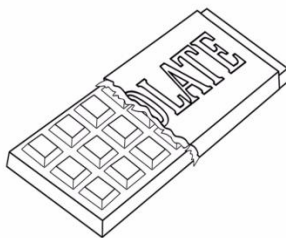
SEXTA – FEIRA 13/08/2021

ESCREVA FRASES PARA AS FIGURAS ABAIXO:











Semana: 13 de 09 à 20 de Agosto

Turma: 2º ano

Nome do aluno(a):

Professor (a): Karina de Carvalho


Componente curricular: Matemática

Orientação: Considerando que no 2º ano alguns alunos ainda não realizam a leitura com autonomia, leia para ele a comanda e solicite as respostas.

SEXTA – FEIRA 13/08/2021


MEDIDAS DE COMPRIMENTO

Antigamente para saber o comprimento das coisas o homem utilizava as partes do seu próprio corpo como referência. A parte do corpo era escolhida de acordo com o tamanho do que seria medido. Foi assim que surgiu a braça, o pé, palmo e a polegada.



Com essa forma de medir havia muitos problemas devido à diferença nos tamanhos dos pés, braços, mãos e dedos. E assim houve a necessidade de se criar a unidade base de medida, o metro. Essa medida-padrão para comprimento favorece os resultados independentemente do tamanho das partes do corpo.

01- Qual parte do corpo você usaria para medir os objetos citados abaixo:



- O comprimento da sala de aula: _____
- A altura da mesa da professora: _____
- O menor comprimento da janela: _____
- Os cartazes da sala de aula: _____



ATIVIDADE PEDAGÓGICA COMPLEMENTAR- APC
ESCOLA RURAL MUNICIPAL ELEODORO ÉBANO PEREIRA
E-mail escolaeleodoro@outlook.com Fone: (44) 3413-1140

Semana: 13 de 09 à 20 de Agosto

Turma: 2º ano

Nome do aluno(a):

Professor (a): Karina de Carvalho

Componente curricular: Português

Orientação: Considerando que no 2º ano alguns alunos ainda não realizam a leitura com autonomia, leia para ele a comanda e solicite as respostas.

TERÇA – FEIRA 17/08/2021

O **H** MODIFICA O SOM DA LETRA **L** FORMANDO UMA NOVA FAMÍLIA SILÁBICA: **LHA – LHE – LHI – LHO – LHU - LHÃO**

LEIA AS PALAVRAS E ESCREVA-AS NOS QUADROS
DE ACORDO COM AS SÍLABAS INDICADAS.
CIRCULE AS SÍLABAS COM **LH** NAS PALAVRAS.

ILHA
ALHO
BILHETE
FILHINHO
OVELHA
GALHO
VELHINHO
ORELHUDO
MILHO
RAMALHETE
JOELHO
LHAMA
ABELHUDO

LHA

LHE

LHI

LHO

LHU



ATIVIDADE PEDAGÓGICA COMPLEMENTAR- APC
ESCOLA RURAL MUNICIPAL ELEODORO ÉBANO PEREIRA
E-mail escolaeleodoro@outlook.com Fone: (44) 3413-1140

Semana: 13 de 09 à 20 de Agosto

Turma: 2º ano

Nome do aluno(a):

Professor (a): Karina de Carvalho

Componente curricular: Matemática

Orientação: Considerando que no 2º ano alguns alunos ainda não realizam a leitura com autonomia, leia para ele a comanda e solicite as respostas.

TERÇA – FEIRA 17/08/2021

MEDIDAS DE COMPRIMENTO

01- Você acha que seria prático medir a distância entre as cidades utilizando as partes do corpo?
Justifique sua resposta.

02- Agora, usando seus dedos como instrumento de medida descubra quantos dedos mede cada objeto citado abaixo:

O comprimento do seu estojo: _____ dedos.

O menor comprimento do seu caderno: _____ dedos.

O maior comprimento do seu livro: _____ dedos.



Semana: 13 de 09 à 20 de Agosto

Turma: 2º ano

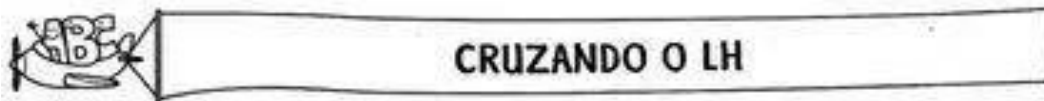
Nome do aluno(a):

Professor (a): Karina de Carvalho

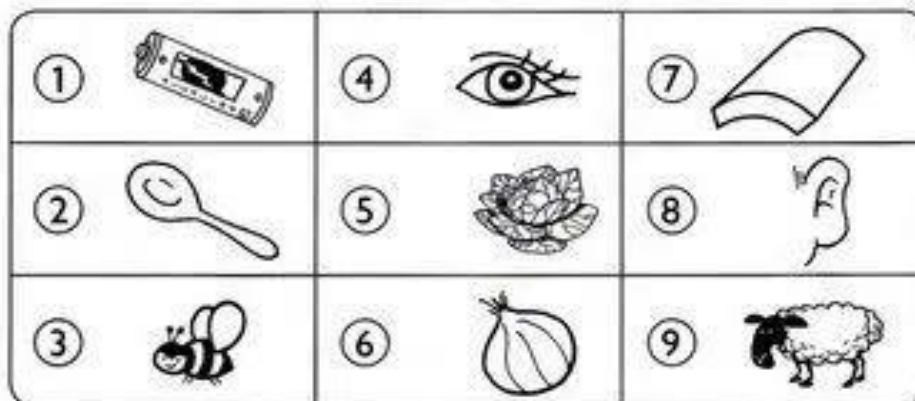
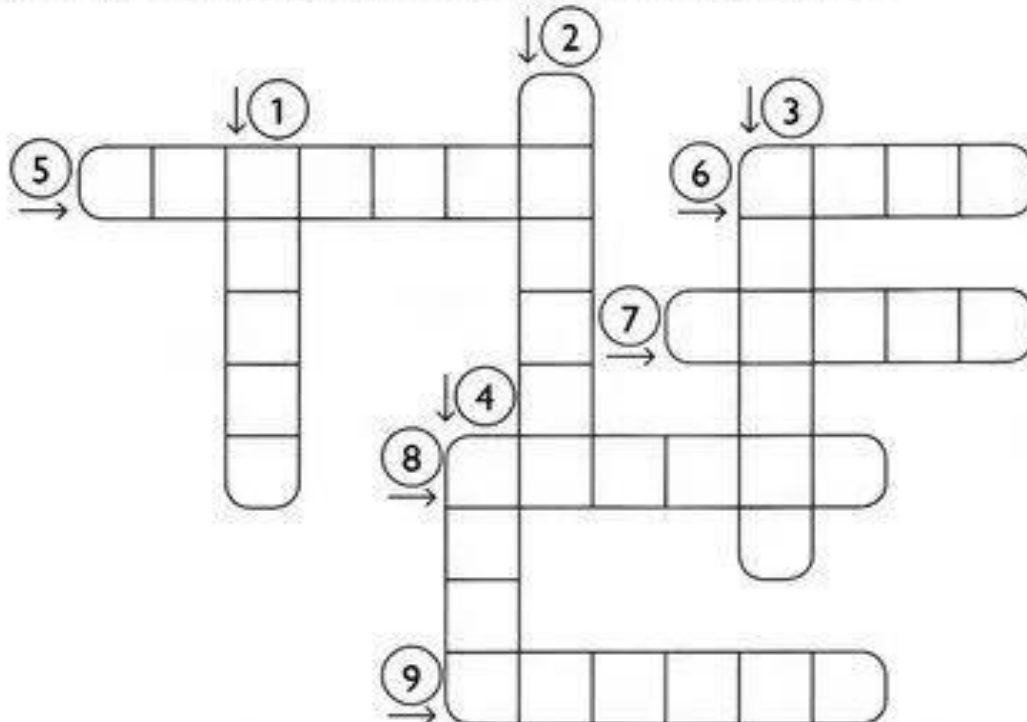
Componente curricular: Português

Orientação: Considerando que no 2º ano alguns alunos ainda não realizam a leitura com autonomia, leia para ele a comanda e solicite as respostas.

QUARTA – FEIRA 18/08/2021



1) Complete a cruzadinha com os nomes dos desenhos.





ATIVIDADE PEDAGÓGICA COMPLEMENTAR- APC
ESCOLA RURAL MUNICIPAL ELEODORO ÉBANO PEREIRA
E-mail escolaeleodoro@outlook.com Fone: (44) 3413-1140

Semana: 13 de 09 à 20 de Agosto

Turma: 2º ano

Nome do aluno(a):

Professor (a): Karina de Carvalho

Componente curricular: Matemática

Orientação: Considerando que no 2º ano alguns alunos ainda não realizam a leitura com autonomia, leia para ele a comanda e solicite as respostas.

QUARTA – FEIRA 18/08/2021

DURANTE A SEMANA APRENDEMOS UMA UNIDADE DE MEDIDA: O METRO QUE É A UNIDADE-PADRÃO DAS MEDIDAS DE COMPRIMENTO. MAS, EXISTEM UNIDADES MENORES QUE O METRO. DAS UNIDADES DE MEDIDA MENORES QUE O METRO QUE UTILIZAMOS COM MAIS FREQUÊNCIA É O **CENTÍMETRO**.

RESPONDA:


VOCÊ JÁ MEDIU ALGUM OBJETO BEM PEQUENO?

COMO FEZ PARA MEDI-LO?

USOU ALGUM INSTRUMENTO? QUAL?

VOCÊ SABE QUANTO MEDE UM CENTÍMETRO?

OBSERVE O TAMANHO DE UM CENTÍMETRO EM UMA RÉGUA.



PODEMOS ABREVIAR AS UNIDADES DE MEDIDA DE COMPRIMENTO DA SEGUINTE FORMA:

METRO = M

CENTÍMETRO= CM

QUANDO UM METRO É PARTIDO EM 100 PARTES CADA PARTE CORRESPONDE A 1 CENTÍMETRO ENTÃO 1 METRO TEM 100 CENTÍMETROS.



ATIVIDADE PEDAGÓGICA COMPLEMENTAR- APC
ESCOLA RURAL MUNICIPAL ELEODORO ÉBANO PEREIRA
E-mail escolaeleodoro@outlook.com Fone: (44) 3413-1140

Semana: 13 de 09 à 20 de Agosto

Turma: 2º ano

Nome do aluno(a):

Professor (a): Karina de Carvalho

Componente curricular: Geografia

Orientação: Considerando que no 2º ano alguns alunos ainda não realizam a leitura com autonomia, leia para ele a comanda e solicite as respostas.

QUINTA – FEIRA 19/08/2021

COM O AUXÍLIO DE UM ADULTO, LEIA O TEXTO E OS DIRECIONAMENTOS SOBRE O TEMA DIA E NOITE, EM SEGUIDA REALIZE AS ATIVIDADES.

1) LEIA O TEXTO E CIRCULE DE AMARELO A PALAVRA DIA E DE AZUL A PALAVRA NOITE TODA VEZ QUE APARECEREM (CASO NÃO TENHA ESSAS CORES DE LÁPIS UTILIZE OUTRAS).

DIA E NOITE

NÃO SEI SE GOSTO MAIS DO DIA. NÃO SEI SE GOSTO MAIS DA NOITE.


DE DIA, EU POSSO BRINCAR. MAS DE NOITE, EU POSSO SONHAR.

DE DIA, EU POSSO BALANÇAR. MAS, DE NOITE, EU POSSO SONHAR.

DE DIA, EU POSSO LER. MAS, DE NOITE, AH!...DE NOITE, EU POSSO SONHAR.

NÃO SEI SE GOSTO MAIS DO DIA. NÃO SEI SE GOSTO MAIS DA NOITE.

2) E VOCÊ, GOSTA MAIS DO DIA OU DA NOITE? ESCOLHA UMA DAS CENAS, PINTE E ESCREVA UMA RESPOSTA PARA JUSTIFICAR SUA ESCOLHA.



RESPOSTA: _____



Semana: 13 de 09 à 20 de Agosto

Turma: 2º ano

Nome do aluno(a):

Professor (a): Karina de Carvalho

Componente curricular: Português


Orientação: Considerando que no 2º ano alguns alunos ainda não realizam a leitura com autonomia, leia para ele a comanda e solicite as respostas.

SEXTA – FEIRA 20/08/2021



PRODUÇÃO DE TEXTO

1) Observe as cenas e continue contando a história do palhaço Risadinha. Não se esqueça de dar um título à sua história.



Título: _____

Risadinha é um palhaço muito divertido. Ele trabalha no circo Roda Viva. Um dia, Risadinha estava treinando para se apresentar quando _____



ATIVIDADE PEDAGÓGICA COMPLEMENTAR- APC
ESCOLA RURAL MUNICIPAL ELEODORO ÉBANO PEREIRA
E-mail escolaeleodoro@outlook.com Fone: (44) 3413-1140

Semana: 13 de 09 à 20 de Agosto

Turma: 2º ano

Nome do aluno(a):

Professor (a): Karina de Carvalho

Componente curricular: Matemática

Orientação: Considerando que no 2º ano alguns alunos ainda não realizam a leitura com autonomia, leia para ele a comanda e solicite as respostas.

SEXTA – FEIRA 20/08/2021

MEDIDAS DE COMPRIMENTO

01- COMPLETE COM O QUE SE PEDE:

- A) 1M É IGUAL A _____ CENTÍMETROS.
B) 2 M É IGUAL A _____ CENTÍMETROS.
C) 50 CM É IGUAL A _____ METRO.
D) 150 CM É IGUAL A _____ METRO.

02- DESCUBRA SUA ALTURA E ANOTE ABAIXO.

AGORA QUE VOCÊ JÁ SABE QUE 1M É IGUAL 100 CM, QUAL É A SUA ALTURA EM CENTÍMETROS?
