



Semana: 10 de 14 a 25 de Junho

Turma: 2º ano

Nome do aluno(a):

Professor (a): Karina de Carvalho

Componente curricular: Português

Orientação: Considerando que no 2º ano alguns alunos ainda não realizam a leitura com autonomia, leia para ele a comanda e solicite as respostas.

TERÇA – FEIRA 15/06/2021

A VACA VAIDOSA

ISABEL CRISTINA S. SOARES

A VACA VAIDOSA

VIU O VASO DA VOVÓ

A VAGEM TÃO VERDINHA,

NA BARRIGA DEU UM NÓ!

VAIDOSA NÃO AVISTOU

A VOVÓ AO SEU REDOR,

COMEU ENTÃO A VAGEM

POIS A VONTADE FOI MAIOR!



LEIA PARA UM ADULTO EM VOZ ALTA O TEXTO “A VACA VAIDOSA”.

CIRCULE AS PALAVRAS DO TEXTO QUE INICIAM COM A LETRA “V”.

PINTE DE AMARELO OS ESPAÇOS EM BRANCO ENTRE UMA PALAVRA E OUTRA.

COPIE A PRIMEIRA ESTROFE DO TEXTO:



ATIVIDADE PEDAGÓGICA COMPLEMENTAR- APC

ESCOLA RURAL MUNICIPAL ELEODORO ÉBANO PEREIRA

E-mail escolaeleodoro@outlook.com Fone: (44) 3413-1140

Semana: 10 de 14 a 25 de Junho

Turma: 2º ano

Nome do aluno(a):

Professor (a): Karina de Carvalho

Componente curricular: Matemática

Orientação: Considerando que no 2º ano alguns alunos ainda não realizam a leitura com autonomia, leia para ele a comanda e solicite as respostas.

TERÇA – FEIRA 15/06/2021

ORDEM CRESCENTE

ORDEM CRESCENTE - DO MENOR PARA O MAIOR.

EXEMPLO: ANINHA SUBINDO AS ESCADAS PARA PEGAR SEU CACHORRINHO.



ORDEM DECRESCENTE

ORDEM DECRESCENTE: DO MAIOR PARA O MENOR.

EXEMPLO: ZEZINHO DESCE A ESCADA LEVANDO SEU CACHORRINHO PARA COMER.



Professor: dê atividades ao ar livre, como descer e subir uma escada, para ensinar a contagem na ordem crescente e decrescente.

ESCREVA OS NÚMEROS DE 10 A 25 EM ORDEM CRESCENTE.

AGORA ESCREVA EM ORDEM DECRESCENTE:



Semana: 10 de 14 a 25 de Junho

Turma: 2º ano

Nome do aluno(a):

Professor (a): Karina de Carvalho

Componente curricular: Português

Orientação: Considerando que no 2º ano alguns alunos ainda não realizam a leitura com autonomia, leia para ele a comanda e solicite as respostas.

QUARTA – FEIRA 16/06/2021

**COMPLETE AS PALAVRAS COM AS SÍLABAS
VA - VE - VI - VO OU VU**



___STIDO



___ADO



___CA

20

___NTE



___OLÃO



___VÓ



___SO



___LA



___SSOURA



ATIVIDADE PEDAGÓGICA COMPLEMENTAR- APC
ESCOLA RURAL MUNICIPAL ELEODORO ÉBANO PEREIRA
E-mail escolaeleodoro@outlook.com Fone: (44) 3413-1140

Semana: 10 de 14 a 25 de Junho

Turma: 2º ano

Nome do aluno(a):

Professor (a): Karina de Carvalho

Componente curricular: Matemática

Orientação: Considerando que no 2º ano alguns alunos ainda não realizam a leitura com autonomia, leia para ele a comanda e solicite as respostas.

QUARTA – FEIRA 16/06/2021

RESOLVA O PROBLEMA DE MULTIPLICAÇÃO

FABIANA TEM UMA PEQUENA COLEÇÃO DE ADESIVOS. ELA ORGANIZOU TODOS OS ADESIVOS DE ESTRELA E OS COLOCOU EM FILEIRAS, COMO PODE SER VISTO A SEGUIR.

pixabay <pixabay.com>



QUANTOS ADESIVOS DE ESTRELA FABIANA TÊM AO TODO?

COMPLETE AS LACUNAS:

ADIÇÃO: _____ + _____ + _____ = _____

MULTIPLICAÇÃO: _____ × _____ = _____



ATIVIDADE PEDAGÓGICA COMPLEMENTAR- APC
ESCOLA RURAL MUNICIPAL ELEODORO ÉBANO PEREIRA
E-mail escolaeleodoro@outlook.com Fone: (44) 3413-1140

Semana: 10 de 14 a 25 de Junho

Turma: 2º ano

Nome do aluno(a):

Professor (a): Karina de Carvalho

Componente curricular: Ciências

Orientação: Considerando que no 2º ano alguns alunos ainda não realizam a leitura com autonomia, leia para ele a comanda e solicite as respostas.

QUINTA – FEIRA 17/06/2021



ANIMAIS TERRESTRES

SÃO OS ANIMAIS QUE SE DESENVOLVEM E VIVEM NA TERRA, SEM A DEPENDÊNCIA DA ÁGUA PARA SOBREVIVER, ESTES POSSUEM RESPIRAÇÃO PULMONAR.

ANIMAIS AQUÁTICOS

SÃO OS ANIMAIS QUE SE DESENVOLVEM E VIVEM NA ÁGUA, ELES NORMALMENTE RESPIRAM POR BRÂNQUIAS.

DEFINA A CLASSIFICAÇÃO DOS ANIMAIS CIRCULANDO OS TERRESTRES DE AMARELO E OS AQUÁTICOS DE AZUL





ATIVIDADE PEDAGÓGICA COMPLEMENTAR- APC

ESCOLA RURAL MUNICIPAL ELEODORO ÉBANO PEREIRA

E-mail escolaeleodoro@outlook.com Fone: (44) 3413-1140

Semana: 10 de 14 a 25 de Junho

Turma: 2º ano

Nome do aluno(a):

Professor (a): Karina de Carvalho

Componente curricular: Português

Orientação: Considerando que no 2º ano alguns alunos ainda não realizam a leitura com autonomia, leia para ele a comanda e solicite as respostas.

SEXTA – FEIRA 18/06/2021

CRUZADINHA LEGAL!

VA
VE
VI
VO
VU

1
2
3
4
5
6
7
8
9
10
11
12

1- NOVE
2- CANIVETE
3- LUVA
4- NOVELO
5- VIOLINO
6- VEADO
7- VACA
8- VIOLÃO
9- CAVALO
10- VELA
11- VIOLA
12- UVA

90



Semana: 10 de 14 a 25 de Junho

Turma: 2º ano

Nome do aluno(a):


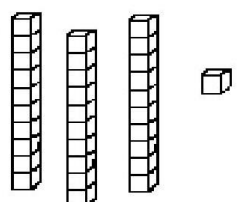


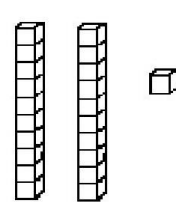


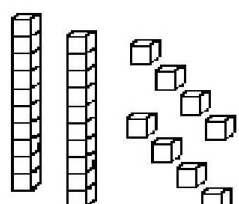


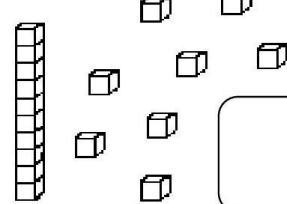


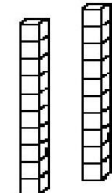


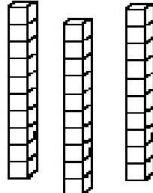


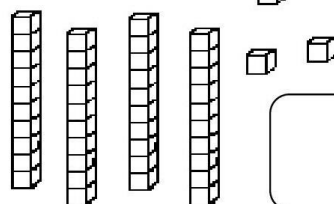


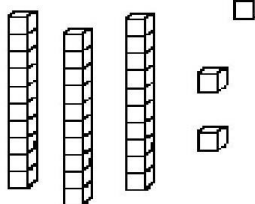

Professor (a): Karina de Carvalho

Componente curricular: Matemática

Orientação: Considerando que no 2º ano alguns alunos ainda não realizam a leitura com autonomia, leia para ele a comanda e solicite as respostas.

SEXTA – FEIRA 18/06/2021

- Observe a quantidade de peças de material dourado que algumas crianças conseguiram juntar no jogo *Quem junta mais peças* e faça o que se pede:

 <p>MARIA</p>  	 <p>GABRIEL</p>  
 <p>SAMUEL</p>  	 <p>HÉLEN</p>  
 <p>BRUNA</p>  	 <p>ANNY</p>  
 <p>EDUARDO</p>  	 <p>JÚLIA</p>  

- Escreva qual é o número formado por cada criança.
- Colorir o maior número, de amarelo.
- Colorir o menor número, de verde.
- Colorir o nome da criança que juntou mais peças.
- Circular o nome da criança que juntou menos peças.



Semana: 10 de 14 a 25 de Junho

Turma: 2º ano

Nome do aluno(a):

Professor (a): Karina de Carvalho

Componente curricular: Português

Orientação: Considerando que no 2º ano alguns alunos ainda não realizam a leitura com autonomia, leia para ele a comanda e solicite as respostas.

TERÇA – FEIRA 22/06/2021

O TEXTO ABAIXO É UMA MÚSICA CANTADA NAS FESTAS JUNINAS. VAMOS CANTAR?

O BALÃO VAI SUBINDO
VEM CAINDO A GAROA
O CÉU É TÃO LINDO
E A NOITE É TÃO BOA

SÃO JOÃO
SÃO JOÃO
ACENDE A FOGUEIRA
DO MEU CORAÇÃO.



1) CIRCULE NO TEXTO, DE VERMELHO, A PALAVRA BALÃO:

2) CIRCULE NO TEXTO AS PALAVRAS:

GAROA - FOGUEIRA - NOITE

3) COMPLETE AS RIMAS DA MÚSICA.

SUBINDO RIMA COM _____

GAROA RIMA COM _____

JOÃO RIMA COM _____



4) ESCREVA UMA LISTA DE COMIDAS TÍPICAS DA FESTA

A) _____

D) _____

B) _____

E) _____

C) _____

F) _____



ATIVIDADE PEDAGÓGICA COMPLEMENTAR- APC

ESCOLA RURAL MUNICIPAL ELEODORO ÉBANO PEREIRA

E-mail escolaeleodoro@outlook.com Fone: (44) 3413-1140

Semana: 10 de 14 a 25 de Junho

Turma: 2º ano

Nome do aluno(a):

Professor (a): Karina de Carvalho

Componente curricular: Matemática

Orientação: Considerando que no 2º ano alguns alunos ainda não realizam a leitura com autonomia, leia para ele a comanda e solicite as respostas.

TERÇA – FEIRA 22/06/2021

ARRAIAL LEGAL

OBSERVE A CENA:



AGORA PINTE O GRÁFICO DE FORMA CORRETA:



MENINAS

—



MENINOS

—



BANDEIRAS

—



ESTRELAS

—



BALÕES

—



FOGUEIRAS

—



Semana: 10 de 14 a 25 de Junho

Turma: 2º ano

Nome do aluno(a):

Professor (a): Karina de Carvalho

Componente curricular: Português

Orientação: Considerando que no 2º ano alguns alunos ainda não realizam a leitura com autonomia, leia para ele a comanda e solicite as respostas.

QUARTA – FEIRA 23/06/2021

1- ESCREVA AS FRASES, TROCANDO OS DESENHOS POR SEUS NOMES.

A) NA FESTA JUNINA TEM



E



COZIDO.

..

B) O



PULOU A



C) A



COMEU



DE FUBÁ.



ATIVIDADE PEDAGÓGICA COMPLEMENTAR- APC

ESCOLA RURAL MUNICIPAL ELEODORO ÉBANO PEREIRA

E-mail escolaeleodoro@outlook.com Fone: (44) 3413-1140

Semana: 10 de 14 a 25 de Junho

Turma: 2º ano

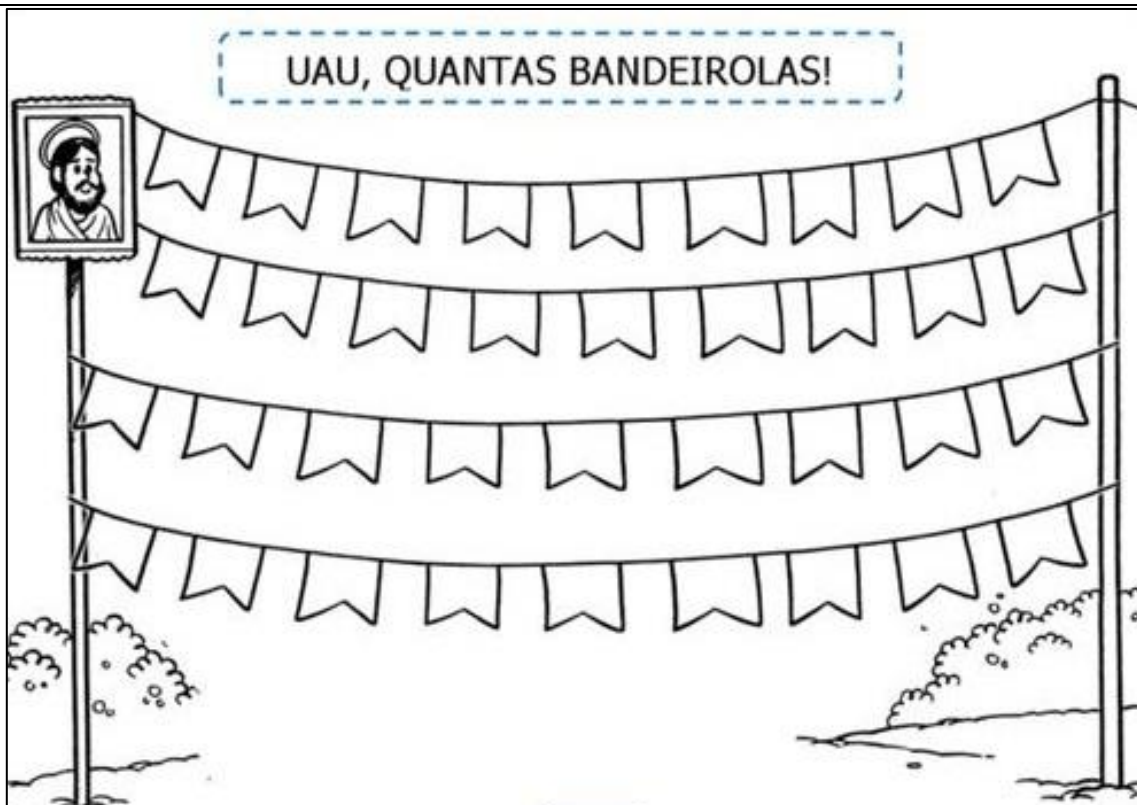
Nome do aluno(a):

Professor (a): Karina de Carvalho

Componente curricular: Matemática

Orientação: Considerando que no 2º ano alguns alunos ainda não realizam a leitura com autonomia, leia para ele a comanda e solicite as respostas.

QUARTA – FEIRA 23/06/2021



1- QUANTAS BANDEIROLAS?

2- PINTE UMA DEZENA DE AMARELO.

3- PINTE UMA DÚZIA DE AZUL.

4- CIRCULE DE DUAS EM DUAS E ANOTE QUANTOS PARES FORAM FORMADOS.

5 – SE EU TIRAR 12 BANDEIROLAS, QUANTAS FICARÃO?

6 – QUANTAS FALTAM PARA COMPLETAR 4 DEZENAS?