



Semana: 29 09/11/2020 a 13/11/2020

Turma: 3º ano

Nome do aluno(a):

Componente curricular: Português

Orientação: Caro aluno, após a leitura e interpretação dos comandos, responda as atividades propostas.

DATA: SEGUNDA – FEIRA 09/11/2020

CONTEÚDO: GÊNERO TEXTUAL BILHETE.

**GUILHERME,
COMO VAI ?
VEM NA MINHA CASA HOJE COMER
ESPAGUETE .
PEÇA PARA SUA MÃE VENHA !
VAI SER MUITO LEGAL .
ABRAÇO,
GUIOMAR.**



1- PINTE NO BILHETE PALAVRAS COM GUE OU GUI:

2- ASSINALE A ALTERNATIVA CORRETA:

A- QUEM MANDOU ESSE BILHETE

() GUTO

() GUILHERME

() GUIOMAR

B- ELE FOI CONVIDADO PARA COMER :

() ESPAGUETE

() PÃO

() PIZZA

C- COPIE DO BILHETE UMA FRASE COM PONTO DE EXCLAMAÇÃO (!) :



ATIVIDADE PEDAGÓGICA COMPLEMENTAR- APC
ESCOLA RURAL MUNICIPAL ELEODORO ÉBANO PEREIRA
E-mail escolaeleodoro@outlook.com Fone: (44) 3413-1140

Semana: 29 09/11/2020 a 13/11/2020

Turma: 3º ano

Nome do aluno(a):

Componente curricular: História

Orientação: Caro aluno, após a leitura e interpretação dos comandos, responda as atividades propostas.

DATA: TERÇA – FEIRA 10/11/2020

LAZER – DEFINIÇÃO E TIPOS

UM DOS CONCEITOS DE LAZER PODE SER O DE SE PRATICAR ALGUMA ATIVIDADE PRAZEROSA DURANTE UM DETERMINADO TEMPO DO DIA. ESSAS ATIVIDADES PODEM SER DESDE LER UM LIVRO, VER TV, OUVIR UMA MÚSICA, ATÉ DANÇAR, FAZER UM COOPER, JOGAR BOLICHE, TÊNIS...



FAÇA UMA ILUSTRAÇÃO DO LAZER QUE VOCÊ MAIS GOSTE E FAZER.



Semana: 29 09/11/2020 a 13/11/2020

Turma: 3º ano

Nome do aluno(a):

Componente curricular: Ciências

Orientação: Caro aluno, após a leitura e interpretação dos comandos, responda as atividades propostas.

DATA: TERÇA – FEIRA 10/11/2020

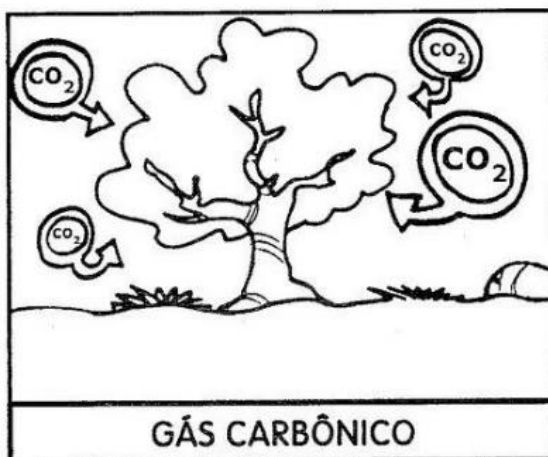


COMO AS PLANTAS SE ALIMENTAM?

Os animais e o homem alimentam-se de vegetais e de outros animais.

Já as plantas produzem o seu próprio alimento durante um processo denominado **fotossíntese**.

A planta, por meio da fotossíntese, produz a glicose, o seu alimento, e libera o oxigênio, elemento essencial para a sobrevivência de todos os seres vivos, animais, homem e as próprias plantas.

Para que a planta realize a fotossíntese, é necessário:





ATIVIDADE PEDAGÓGICA COMPLEMENTAR- APC

ESCOLA RURAL MUNICIPAL ELEODORO ÉBANO PEREIRA

E-mail escolaeleodoro@outlook.com Fone: (44) 3413-1140

Semana: 29 09/11/2020 a 13/11/2020

Turma: 3º ano

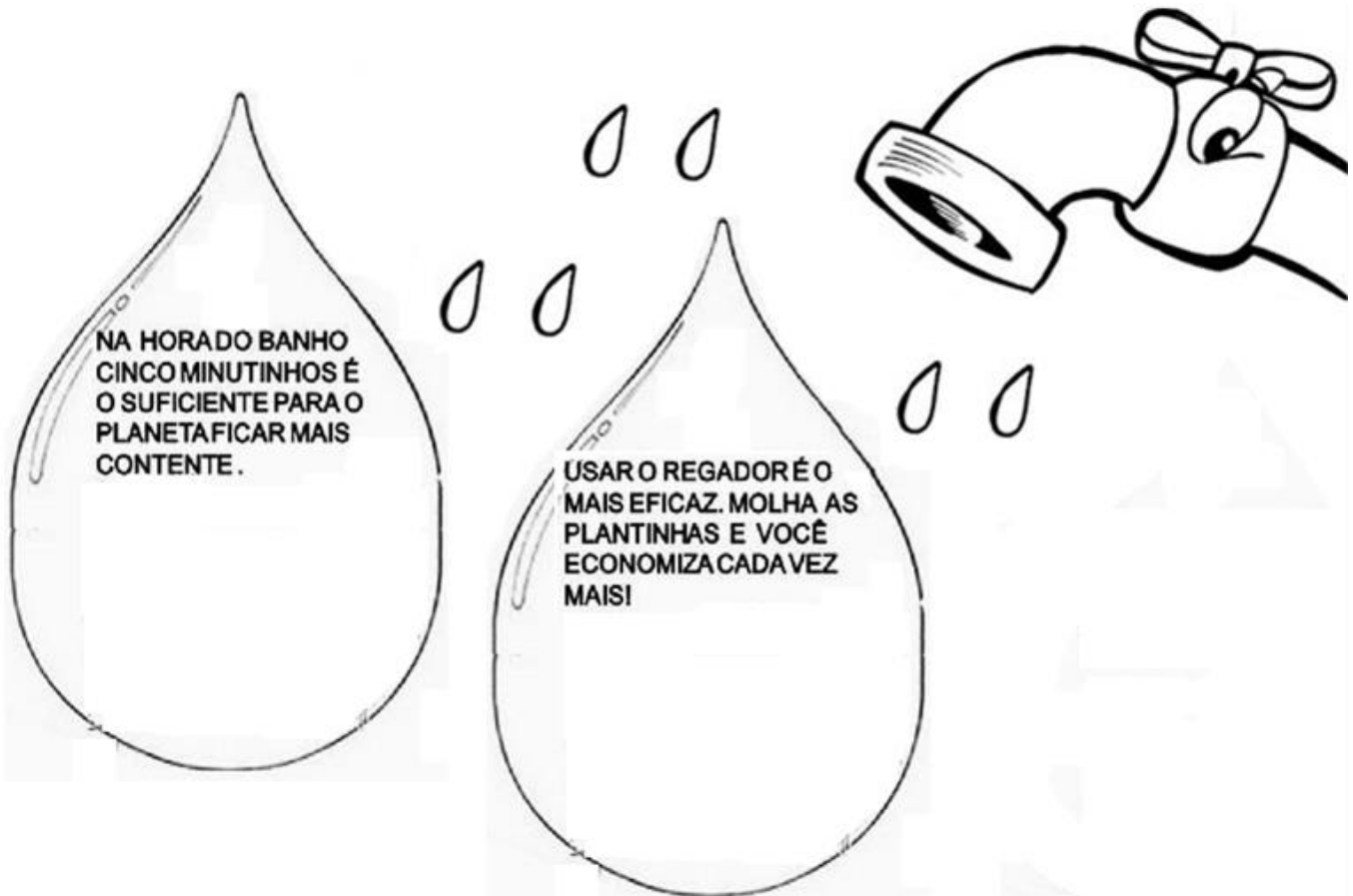
Nome do aluno(a):

Componente curricular: Geografia


Orientação: Caro aluno, após a leitura e interpretação dos comandos, responda as atividades propostas.

DATA: QUARTA – FEIRA 11/11/2020

1-LEIA COM ATENÇÃO OS VERSINHOS QUE INDICAM FORMAS DE ECONOMIZAR ÁGUA, EM SEGUIDA FAÇA UM DESENHO DENTRO DA GOTTA PARA REPRESENTAR.



2- ESCOVAR OS DENTES É UMA ATITUDE DE HIGIENE. MAS HÁ ALGO ERRADO NA CENA A) O QUE A MAGALI ESTÁ FAZENDO DE ERRADO?



B) QUAL É A ATITUDE CORRETA QUE DEVEMOS FAZER NA HORA DE ESCOVAR OS DENTES?



ATIVIDADE PEDAGÓGICA COMPLEMENTAR- APC

ESCOLA RURAL MUNICIPAL ELEODORO ÉBANO PEREIRA

E-mail escolaeleodoro@outlook.com Fone: (44) 3413-1140

Semana: 29 09/11/2020 a 13/11/2020

Turma: 3º ano

Nome do aluno(a):

Componente curricular: Matemática

Orientação: Caro aluno, após a leitura e interpretação dos comandos, responda as atividades propostas.

DATA: SEXTA – FEIRA 13/11/2020

1- TRABALHAMOS SOBRE O SISTEMA MONETÁRIO. VAMOS RELEMBRAR O QUE APRENDEMOS?

A) ESCREVA POR MEIO DE NÚMEROS A QUANTIDADE DE DINHEIRO ABAIXO:




B) ESCREVA POR EXTENSO (COMO SE LÊ) A QUANTIDADE DE DINHEIRO QUE VOCÊ OBSERVOU NA IMAGEM ACIMA:

3- RESOLVA OS CÁLCULOS DE MULTIPLICAÇÃO E REPRESENTA COM DESENHOS:

$$2 \times 6 = \underline{\hspace{2cm}}$$

$$3 \times 6 = \underline{\hspace{2cm}}$$



3- PINTE A ÁRVORE QUE ESTÁ ATRÁS DA VACA:

