



ATIVIDADE PEDAGÓGICA COMPLEMENTAR- APC

ESCOLA RURAL MUNICIPAL ELEODORO ÉBANO PEREIRA

E-mail escolaeleodoro@outlook.com Fone: (44) 3413-1140

Semana: 12 13/07/2020 A 17/07/2020

Turma: 3º ano

Nome do aluno(a):

Professor (a): Karina de Carvalho

Componente curricular: Português


Orientação: Caro aluno, após a leitura e interpretação dos comandos, responda as atividades propostas.

DATA: SEGUNDA – FEIRA 13/07/2020

LEIA O TEXTO E TRANSCREVA-O COM LETRA CURSIVA:

XODÓ!

XODÓ É O GATO
DA VOVÓ XÊNIA.
TODA NOITE ELE
MEXE NA LATA DO
LIXO.
VOVÓ XÊNIA FICA
DANADA E REPETE:
- SAIA DAÍ, GATO
XERETA! VÁ JÁ
PARA A SUA
CAIXA!



AGORA, RESPONDA ÀS PERGUNTAS:

- 1- QUEM É XODÓ? _____
- 2- O QUE XODÓ FEZ DE ERRADO? _____
- 3- DO QUE A VOVÓ CHAMA O GATINHO? _____
- 4- POR QUÊ? _____



Semana: 12 13/07/2020 A 17/07/2020

Turma: 3º ano

Nome do aluno(a):

Professor (a): Karina de Carvalho

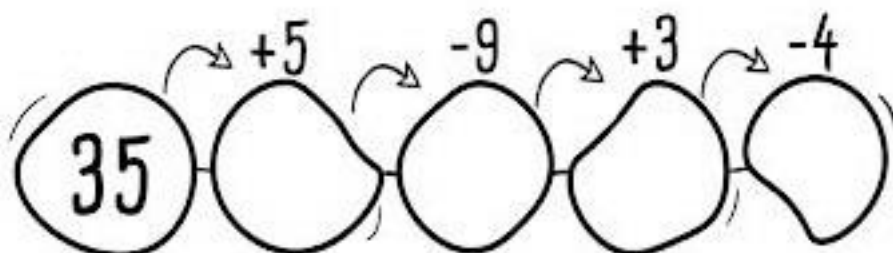
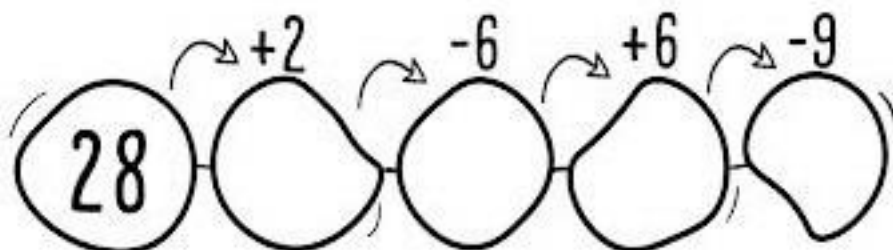
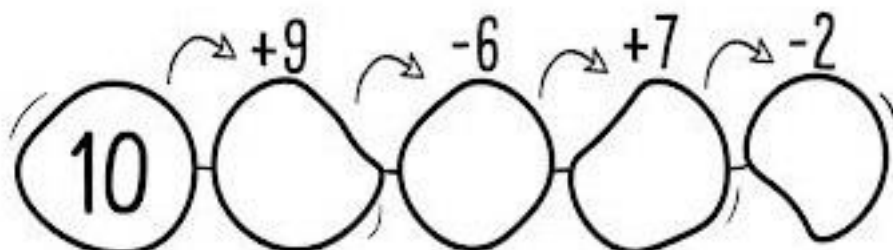
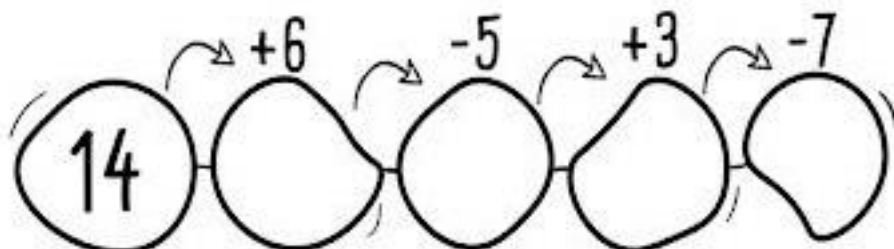
Componente curricular: Matemática

Orientação: Caro aluno, após a leitura e interpretação dos comandos, responda as atividades propostas.

DATA: SEGUNDA – FEIRA 13/07/2020

Calculando

1 - Faça os cálculos e resolva cada operação, observando o sinal:





ATIVIDADE PEDAGÓGICA COMPLEMENTAR- APC

ESCOLA RURAL MUNICIPAL ELEODORO ÉBANO PEREIRA

E-mail escolaeleodoro@outlook.com Fone: (44) 3413-1140

Semana: 12 13/07/2020 A 17/07/2020

Turma: 3º ano

Nome do aluno(a):

Professor (a): Karina de Carvalho

Componente curricular: Português

Orientação: Caro aluno, após a leitura e interpretação dos comandos, responda as atividades propostas.

DATA: TERÇA – FEIRA 14/07/2020

FORME PALAVRAS COM AS SÍLABAS QUE SE ENCONTRAM DENTRO DA XÍCARA E, A SEGUIR, ESCREVA-AS COM LETRA CURSIVA.





ATIVIDADE PEDAGÓGICA COMPLEMENTAR- APC

ESCOLA RURAL MUNICIPAL ELEODORO ÉBANO PEREIRA

E-mail escolaeleodoro@outlook.com Fone: (44) 3413-1140

Semana: 12 13/07/2020 A 17/07/2020

Turma: 3º ano

Nome do aluno(a):

Professor (a): Karina de Carvalho

Componente curricular: História

Orientação: Caro aluno, após a leitura e interpretação dos comandos, responda as atividades propostas.

DATA: TERÇA – FEIRA 14/07/2020

VOCÊ VIU QUANTAS COISAS JÁ ACONTECERAM NA SUA VIDA?
E NO FUTURO, O QUE VOCÊ ACHA QUE VAI ACONTECER?
AS MUDANÇAS QUE ACONTECEM COM O PASSAR DO TEMPO
MARCARAM AS ETAPAS DA VIDA DE UMA PESSOA.

QUESTÃO 01:

OBSERVE AS FIGURAS DAS PESSOAS ABAIXO E CLASSIFIQUE-AS DE ACORDO COM A FASE DA VIDA EM QUE SE ENCONTRAM, LIGANDO CORRETAMENTE:

INFÂNCIA

ADOLESCÊNCIA

BEBÊ

ADULTO



AS DIFERENTES ETAPAS DA VIDA DO SER HUMANO, DA PLANTA E DE UM ANIMAL FORMAM O SEU CICLO DE VIDA.

QUESTÃO 02: OBSERVE O CICLO DE VIDA DO ANIMAL ABAIXO:
AGORA PINTE A GRAVURA QUE MOSTRA QUANDO O ANIMAL MORRE.





ATIVIDADE PEDAGÓGICA COMPLEMENTAR- APC

ESCOLA RURAL MUNICIPAL ELEODORO ÉBANO PEREIRA

E-mail escolaeleodoro@outlook.com Fone: (44) 3413-1140

Semana: 12 13/07/2020 A 17/07/2020

Turma: 3º ano

Nome do aluno(a):

Professor (a): Karina de Carvalho


Componente curricular: Ciências

Orientação: Caro aluno, após a leitura e interpretação dos comandos, responda as atividades propostas.

DATA: QUARTA – FEIRA 15/07/2020

SE POSSÍVEL VEJA O VÍDEO DO YOUTUBE: “ POR QUE A RECICLAGEM É TÃO IMPORTANTE? | VÍDEOS EDUCATIVOS PARA CRIANÇAS” E VEJA A IMPORTÂNCIA DE SEPARAR E RECICLAR O LIXO.

Reaproveitando o Lixo



Muitas coisas que jogamos no lixo não são lixo, isto é, podem ser reaproveitadas. Jornais, revistas, cadernos, latas, garrafas e vidros são vendidos e voltam para as fábricas, para ser transformados em novos papéis, latas e vidros.

Assim, estamos ajudando a conservar a natureza. É das árvores que se faz o papel e, se não o reaproveitarmos, muito mais árvores vão ser cortadas.

Observe cada latão e escreva ao lado nomes de objetos que podem ser reaproveitados:











Semana: 12 13/07/2020 A 17/07/2020

Turma: 3º ano

Nome do aluno(a):

Professor (a): Karina de Carvalho

Componente curricular: Geografia

Orientação: Caro aluno, após a leitura e interpretação dos comandos, responda as atividades propostas.

DATA: QUARTA – FEIRA 15/07/2020

OBSERVE A PLANTA DA SALA DE AULA E COMPLETE AS FRASES.

COMPLETE AS FRASES DE ACORDO COM O DESENHO:



1) _____ ESTÁ SENTADA ATRÁS DE ANA.

2) _____ SENTA-SE À FRENTE DE CAROL.

3) _____ E BRUNO SENTAM-SE EM FRENTE AO QUADRO. SENDO QUE _____ SENTA-SE MAIS PRÓXIMO A PORTA.

4) _____ SENTA-SE MAIS LONGE DA PROFESSORA E AO SEU LADO SENTA-SE _____.

5) _____ SENTA-SE BEM PRÓXIMA A PROFESSORA E AO LADO DE _____.



Semana: 12 13/07/2020 A 17/07/2020

Turma: 3º ano

Nome do aluno(a):


Professor (a): Karina de Carvalho

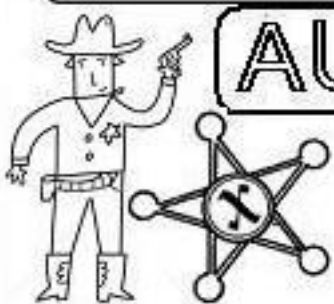

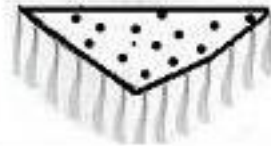






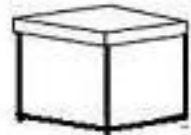


Componente curricular: Português

Orientação: Caro aluno, após a leitura e interpretação dos comandos, responda as atividades propostas.

DATA: SEXTA – FEIRA 17/07/2020

ESCREVA O NOME DAS FIGURAS.

AUTODITADO 

 <input type="text"/>	 <input type="text"/>	 <input type="text"/>
 <input type="text"/>	 <input type="text"/>	 <input type="text"/>
 <input type="text"/>	 <input type="text"/>	 <input type="text"/>
 <input type="text"/>	 <input type="text"/>	 <input type="text"/>



ATIVIDADE PEDAGÓGICA COMPLEMENTAR- APC
ESCOLA RURAL MUNICIPAL ELEODORO ÉBANO PEREIRA
E-mail escolaeleodoro@outlook.com Fone: (44) 3413-1140

Semana: 12 13/07/2020 A 17/07/2020

Turma: 3º ano

Nome do aluno(a):

Professor (a): Karina de Carvalho

Componente curricular: Matemática

Orientação: Caro aluno, após a leitura e interpretação dos comandos, responda as atividades propostas.

DATA: SEXTA – FEIRA 17/07/2020

1) GABRIEL PARTICIPOU DE UM CAMPEONATO DE NATAÇÃO NO DIA 2 DE JULHO. ELE PARTICIPOU DE OUTRO CAMPEONATO EXATAMENTE 3 SEMANAS DEPOIS. EM QUAL DATA OCORREU O 2º CAMPEONATO?

- a) 16 DE JULHO.
- b) 23 DE JULHO.
- c) 21 DE JULHO.
- d) 5 DE JULHO.

2) VEJA NESTE GRÁFICO A QUANTIDADE DE AGASALHOS QUE UMA ESCOLA ARRECADOU DURANTE ALGUNS MESES. QUANTOS AGASALHOS FORAM ARRECADADOS NO TOTAL EM MARÇO E JUNHO?

AVITS ESTÚDIO GRÁFICO/ARQUIVO DA EDITORA

AGASALHOS ARRECADADOS

QUANTIDADE DE AGASALHOS

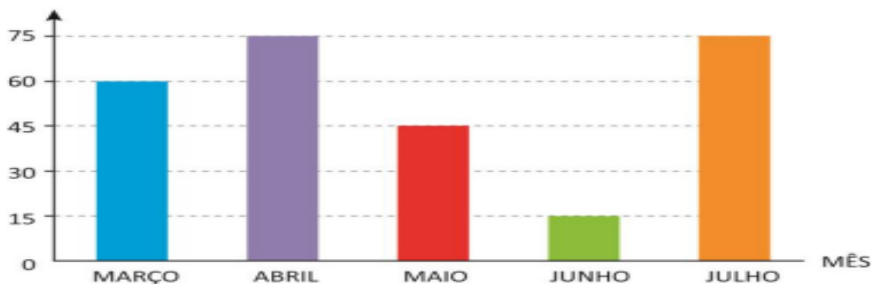


GRÁFICO ELABORADO PARA FINS DIDÁTICOS.

3) Benê vai comprar para o sobrinho um jogo de tabuleiro que custa R\$ 21,00. Veja as notas que ele tem na carteira. Se ele comprar o jogo, então qual quantia vai sobrar na carteira de Benê?

Fotos: Reprodução/Casa da Moeda do Brasil/Ministério da Fazenda



- a) R\$ 69,00
- b) R\$ 48,00
- c) R\$ 21,00
- d) R\$ 27,00