



ATIVIDADE PEDAGÓGICA COMPLEMENTAR- APC  
ESCOLA RURAL MUNICIPAL ELEODORO ÉBANO PEREIRA  
E-mail [escolaeleodoro@outlook.com](mailto:escolaeleodoro@outlook.com) Fone: (44) 3413-1140

Semana: 18/05/2020 A 22/05/2020

Turma: 2º ano B

Nome do aluno(a):

Professor (a): Karina de Carvalho

Componente curricular: MATEMÁTICA

Habilidade da BNCC: (EF02MA06)

Orientação: Caro aluno, após a leitura e interpretação dos comandos, responda as atividades propostas.

DATA: 18/05/2020

## PROCURANDO NÚMEROS

# Caçando números

Procure no quadro os nomes dos números que estão espalhados na folha

15      21      9      18      5  
3      12      1      6

T	R	E	S	R	U	K	G	A	N	O	B
U	N	D	O	Z	Y	S	B	S	E	I	M
B	R	N	I	Q	U	I	N	Z	E	O	D
C	C	I	N	C	O	B	R	L	N	M	E
F	R	I	S	B	U	U	K	M	A	I	Z
V	I	N	T	E	E	U	M	I	S	C	O
F	U	O	N	Z	R	D	E	Z	E	N	I
B	A	V	A	C	I	N	N	C	I	O	T
D	O	E	S	N	U	E	R	T	U	M	O
E	D	U	I	S	I	N	C	O	M	U	O
D	O	C	U	D	O	Z	E	K	I	L	U
Z	S	E	I	S	G	U	I	O	M	U	P

# QUADRO 50

Observe o quadro e responda:

1	2	3	4	5	6	7	8	9	10
11	12	13	14	15	16	17	18	19	20
21	22	23	24	25	26	27	28	29	30
31	32	33	34	35	36	37	38	39	40
41	42	43	44	45	46	47	48	49	50

Qual é o maior número que podemos ver no quadro?

E o menor número?

Pinte de azul todos os números que começam com 3.

Pinte de azul o número que está entre 37 e o 39.

Pinte uma dezena de cada conjunto





ATIVIDADE PEDAGÓGICA COMPLEMENTAR- APC  
ESCOLA RURAL MUNICIPAL ELEODORO ÉBANO PEREIRA  
E-mail [escolaeleodoro@outlook.com](mailto:escolaeleodoro@outlook.com) Fone: (44) 3413-1140

SEMANA: 18/05/2020 A 22/05/2020

TURMA: 2º ANO

NOME DO ALUNO(A):

PROFESSOR (A): Karina de Carvalho

COMPONENTE CURRICULAR: LINGUA PORTUGUESA

HABILIDADE DA BNCC: (EF02LP04) LER E ESCREVER CORRETAMENTE PALAVRAS COM SÍLABAS CV, V, CVC, CCV, IDENTIFICANDO QUE EXISTEM VOGAIS EM TODAS AS SÍLABAS.

ORIENTAÇÃO: CARO ALUNO, APÓS A LEITURA E INTERPRETAÇÃO DOS COMANDOS, RESPONDA AS ATIVIDADES PROPOSTAS.

DATA: 18/05/2020

### MAGIA DO ALFABETO

1. OBSERVE SEU NOME COMPLETO. ELE TEM:

A) VOGAIS \_\_\_\_\_ E \_\_\_\_\_ CONSOANTES.

2. QUE VOGAIS ESTÃO REPETIDAS?  QUANTAS VEZES?

E CONSOANTES?  QUANTAS VEZES?

3. QUE ENGRAÇADO! TIRE A CONSOANTE DO MEIO DAS PALAVRAS A SEGUIR E PERCEBA QUE ELAS FICAM COM OUTRO SIGNIFICADO.

a) CALDA  D) CANTA

b) NUNCA  E) PORTE

c) MUNDO  F) MANTA

## MAGIA DO ALFABETO

1. COLOQUE EM ORDEM ALFABÉTICA OS NOMES DAS PESSOAS QUE CONVIVEM COM VOCÊ.


2. COM A SEGUNDA LETRA DO ALFABETO, ESCREVA O NOME DE:

a) UM BRINQUEDO.


b) UMA FRUTA.



3. DESENHE (OU RECORTE E COLE) OBJETOS CUJO NOME COMECE COM AS

LETRAS DO ALFABETO:

6ª letra	10ª letra	8ª letra












4. OBSERVE AS FIGURAS, ESCREVA A LETRA INICIAL DO NOME DELA E PINTE A BOLINHA DE ACORDO COM A LEGENDA. DEPOIS ESCREVA AS PALAVRAS NO LUGAR CORRETO:

A-VERDE

B-AMARELO

C-AZUL

D-VERMELHO





ATIVIDADE PEDAGÓGICA COMPLEMENTAR- APC  
ESCOLA RURAL MUNICIPAL ELEODORO ÉBANO PEREIRA  
E-mail [escolaeleodoro@outlook.com](mailto:escolaeleodoro@outlook.com) Fone: (44) 3413-1140

Semana: 18/05/2020 A 22/05/2020

Turma: 2º ano A

Nome do aluno(a):

Professor (a): Karina de Carvalho

Componente curricular: LINGUA PORTUGUESA

Habilidade da BNCC: EF02LP08

Orientação: Caro aluno, após a leitura e interpretação dos comandos, responda as atividades propostas.

DATA: 19/05/2020

COPIE O TEXTO COLOCANDO O ESPAÇO ENTRE  
AS PALAVRAS:



ACASINHADAVOVÓ  
CERCADINHADECIPÓ  
OCAFÉESTÁDEMORANDO  
COM CERTEZANÃO TEMPÓ

---

---

---

---

---

---

---

---

---

---



ATIVIDADE PEDAGÓGICA COMPLEMENTAR- APC  
ESCOLA RURAL MUNICIPAL ELEODORO ÉBANO PEREIRA  
E-mail [escolaeleodoro@outlook.com](mailto:escolaeleodoro@outlook.com) Fone: (44) 3413-1140

Semana: 18/05/2020 A 22/05/2020

Turma: 2º ano A

Nome do aluno(a):

Professor (a): Karina de Carvalho

Componente curricular: HISTÓRIA

Habilidade da BNCC: EF02HI05 Selecionar e compreender o significado de objetos e documentos pessoais como fontes de memórias e histórias nos âmbitos pessoal, familiar, escolar e comunitário.

Orientação: Caro aluno, após a leitura e interpretação dos comandos, responda as atividades propostas.

DATA:19/05/2020

## CERTIDÃO DE NASCIMENTO



PEÇA AO PESSOAL DE CASA QUE COMPLETE A SUA CERTIDÃO  
PARA SABER MAIS SOBRE VOCÊ.

NO DIA \_\_\_\_\_ DE \_\_\_\_\_ DE \_\_\_\_\_ ÀS

\_\_\_\_\_ (HORAS), NA CIDADE DE \_\_\_\_\_

NASCEU UMA CRIANÇA QUE RECEBEU O NOME DE \_\_\_\_\_

DO SEXO \_\_\_\_\_

FILHO(A) DE \_\_\_\_\_

NETO(A) MATERNO DE \_\_\_\_\_

NETO(A) PATERNO DE \_\_\_\_\_

FOI REGISTRADO(A) NO CARTÓRIO \_\_\_\_\_

NO DIA \_\_\_\_\_



**ATIVIDADE PEDAGÓGICA COMPLEMENTAR- APC**  
**ESCOLA RURAL MUNICIPAL ELEODORO ÉBANO PEREIRA**  
E-mail [escolaeleodoro@outlook.com](mailto:escolaeleodoro@outlook.com) Fone: (44) 3413-1140

Semana: 18/05/2020 A 22/05/2020

Turma: 2º ano A

Nome do aluno(a):

Professor (a): Karina de Carvalho

Componente curricular: Ciências

Habilidade da BNCC: EF02CI06 reconhecer a importância de hábitos saudáveis de higiene, (lavar as mãos, escovar os dentes, tomar banho, entee outros) para prevenir doenças e proporcionar bem-estar-físico.

Orientação: Caro aluno, após a leitura e interpretação dos comandos, responda as atividades propostas.

DATA:20/05/2020

Pinte somente os objetos que o menino usa quando toma banho:







**ATIVIDADE PEDAGÓGICA COMPLEMENTAR- APC**  
**ESCOLA RURAL MUNICIPAL ELEODORO ÉBANO PEREIRA**  
E-mail [escolaeleodoro@outlook.com](mailto:escolaeleodoro@outlook.com) Fone: (44) 3413-1140

Semana: 18/05/2020 A 22/05/2020

Turma: 2º ano A

Nome do aluno(a):

Professor (a): Karina de Carvalho

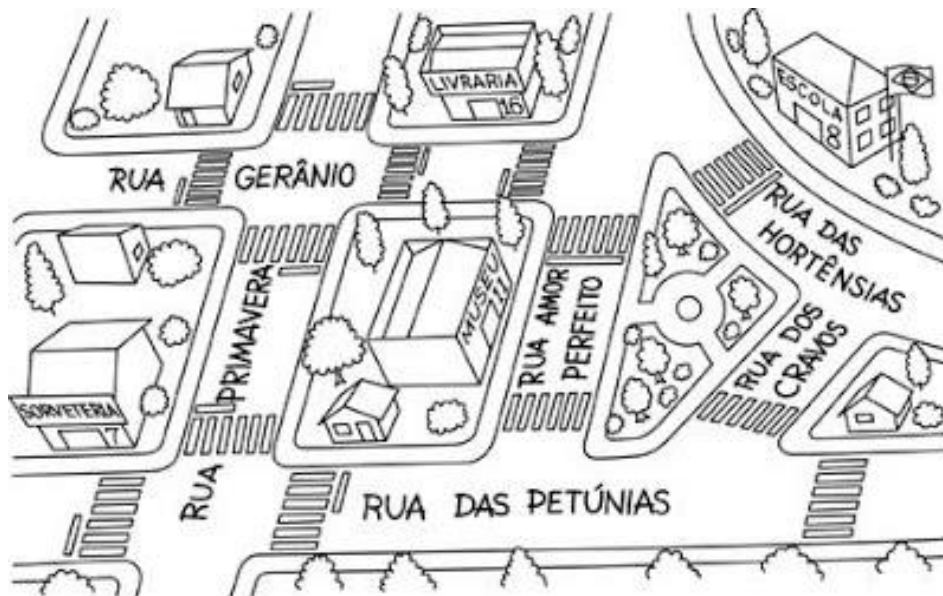
Componente curricular: Geografia

**Habilidade da BNCC:** EF02GE10 Aplicar princípios de localização e posição de objetos ( referenciais espaciais, como frente e atrás, esquerda e direita, em cima e embaixo, dentro e fora) por meio de representações espaciais da sala de aula e da escola.

**Orientação:** Caro aluno, após a leitura e interpretação dos comandos, responda as atividades propostas.

**DATA:** 20/05/2020

OBSERVE OS PONTOS DE REFFERÊNCIA E RESPONDA AS QUESTÕES.



A) QUANTAS RUAS COM NOMES APARECEM NA CENA?

B) QUAL O NOME DA RUA QUE FICA EM FRENTE À ESCOLA?

C) LOCALIZE O MUSEU E ESCREVA O NOME DA RUA DA FRENTE.

D) O QUE EXISTE DE SEMELHANTE (PARECIDO) ENTRE TODOS OS NOMES DESSAS RUAS?  
ASSINALE A ALTERNATIVA CORRETA.


AS RUAS LEMBRAM NOMES DE...

( ) PERFUMES ( ) COMIDAS ( ) BRINQUEDOS ( ) FLORES ( ) DOCES

E) ESCREVA OS NOMES DOS QUATRO LUGARES QUE APARECEM NAS PLACAS:

**-ATIVIDADE 2:** OBSERVE COM ATENÇÃO E ESCREVA AS PALAVRAS NOS QUADRINHOS DA CALÇADA. PINTO O DESENHO PARA SUA ATIVIDADE FICAR BEM LEGAL.

ENCAIXE OS NOMES DOS PRÉDIOS DA CIDADE NOS QUADRINHOS DAS CALÇADAS.



ARMAZÉM AÇOUGUE BANCO CINEMA ESCOLA HOSPITAL  
IGREJA LIVRARIA MERCADO PRAÇA RESTAURANTE TEATRO

DÊ UM NOME A ESSE BAIRRO: \_\_\_\_\_

O QUE ENCONTRA NO SEU BAIRRO: \_\_\_\_\_

\_\_\_\_\_

\_\_\_\_\_



Semana: 18/05/2020 A 22/05/2020

Turma: 2º ano A

Nome do aluno(a):

Professor (a): Karina de Carvalho

Componente curricular: Matemática

Habilidade da BNCC: EF02MA05 Construir fatos básicos da adição e subtração e utilizá-los no cálculo mental ou escrito em diferentes contextos com o apoio de recursos manipuláveis e pictóricos.

Orientação: Caro aluno, após a leitura e interpretação dos comandos, responda as atividades propostas.

DATA:22/05/2020

## CÁLCULOS

- OBSERVE OS CÁLCULOS. PERCEBA QUE TEMOS CONTAS DE ADIÇÃO (+) E DE SUBTRAÇÃO (-), POR ISSO É NECESSÁRIO ATENÇÃO NA RESOLUÇÃO.
- PARA AUXILIAR NAS CONTAS, VOCÊ PODERÁ FAZER O USO DO ESPAÇO EM BRANCO QUE TEM NO FINAL DA FOLHA.
- FAÇA O CÁLCULO E CIRCULE NAS TRÊS OPÇÕES AO LADO DE CADA CONTA, QUAL É A RESPOSTA CORRETA.
- AO TÉRMINO, CONFIRA AS RESPOSTAS.
- E NÃO SE ESQUEÇA QUE... A PROF. ESTÁ COM SAUDADES!!!

### ADIÇÃO E SUBTRAÇÃO

$\begin{array}{r} 8 \\ + 5 \\ \hline \end{array}$	10 13 3	$\begin{array}{r} 9 \\ + 8 \\ \hline \end{array}$	7 12 17	$\begin{array}{r} 9 \\ - 3 \\ \hline \end{array}$	3 5 6
$\begin{array}{r} 8 \\ - 7 \\ \hline \end{array}$	10 1 7	$\begin{array}{r} 5 \\ + 5 \\ \hline \end{array}$	0 10 11	$\begin{array}{r} 5 \\ - 5 \\ \hline \end{array}$	0 10 15
$\begin{array}{r} 9 \\ - 6 \\ \hline \end{array}$	7 3 5	$\begin{array}{r} 7 \\ + 5 \\ \hline \end{array}$	2 12 19	$\begin{array}{r} 9 \\ - 2 \\ \hline \end{array}$	3 17 7



ATIVIDADE PEDAGÓGICA COMPLEMENTAR- APC  
ESCOLA RURAL MUNICIPAL ELEODORO ÉBANO PEREIRA  
E-mail [escolaeleodoro@outlook.com](mailto:escolaeleodoro@outlook.com) Fone: (44) 3413-1140

Semana: 18/05/2020 A 22/05/2020

Turma: 2º ano A

Nome do aluno(a):

Professor (a): Karina de Carvalho

Componente curricular: Matemática


Habilidade da BNCC: (EF02MA01). Comparar e ordenar números naturais (até a ordem de centenas) pela compreensão de características do sistema de numeração decimal (valor posicional e função do zero).

Orientação: Caro aluno, após a leitura e interpretação dos comandos, responda as atividades propostas.

DATA:22/05/2020

1) OBSERVE O NÚMERO DE ALGUMAS CASAS QUE FICAM NA RUA EM QUE MARIANA MORA. QUAL DESSES NÚMEROS É O MENOR?

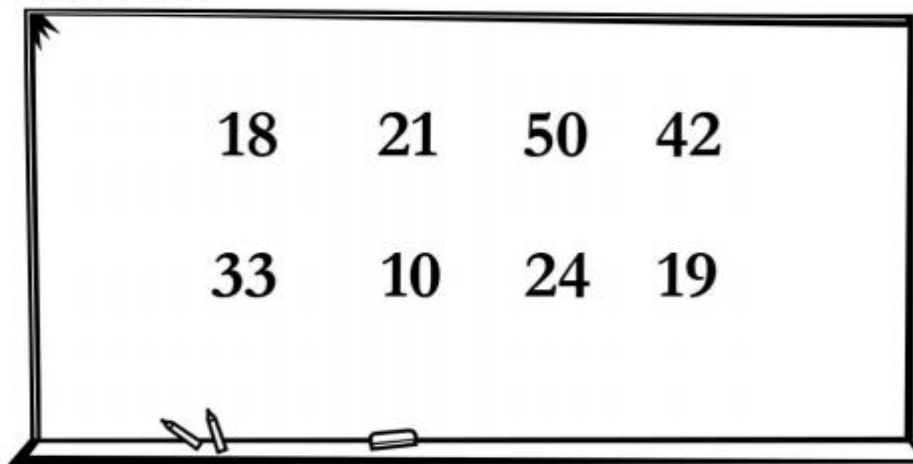
AVITS ESTÚDIO GRÁFICO/ARQUIVO DA EDITORA



- a) 17
- b) 10
- c) 8
- d) 39

2) LUCIANO ESCREVEU ALGUNS NÚMEROS NA LOUSA. ESCREVA ESSES NÚMEROS EM ORDEM CRESCENTE.

PIXABAY/<PIXABAY.COM>





ATIVIDADE PEDAGÓGICA COMPLEMENTAR- APC  
ESCOLA RURAL MUNICIPAL ELEODORO ÉBANO PEREIRA  
E-mail [escolaeleodoro@outlook.com](mailto:escolaeleodoro@outlook.com) Fone: (44) 3413-1140

Semana: 18/05/2020 A 22/05/2020

Turma: 2º ano A

Nome do aluno(a):

Professor (a): Karina de Carvalho

Componente curricular: Matemática


Habilidade da BNCC: (EF02MA02). Registrar o resultado da contagem ou estimativa da quantidade de objetos em coleções de até 1 000 unidades, realizada por meio de diferentes estratégias.

Orientação: Caro aluno, após a leitura e interpretação dos comandos, responda as atividades propostas.

DATA:22/05/2020

AMÉLIA ESTÁ OBSERVANDO OS CARRINHOS DE BRINQUEDO QUE ESTÃO NA VITRINE DA LOJA DO PAI DELA. QUANTOS CARRINHOS HÁ NESSA VITRINE?

AVITS ESTÚDIO GRÁFICO/ARQUIVO DA EDITORA



- A) 5
- B) 24
- C) 25
- D) 20

GUILHERME TRABALHA EM UM MUSEU E ESTÁ ORGANIZANDO A SEÇÃO MUSICAL. ELE COLOCOU 1 CENTENA DE DISCOS EM CADA UMA DAS 7 PRATELEIRAS DE UMA SALA. QUANTOS DISCOS GUILHERME COLOCOU NESSAS PRATELEIRAS?

- A) 107 DISCOS.
- B) 100 DISCOS.
- C) 700 DISCOS.
- D) 7 DISCOS.



ATIVIDADE PEDAGÓGICA COMPLEMENTAR- APC  
ESCOLA RURAL MUNICIPAL ELEODORO ÉBANO PEREIRA  
E-mail [escolaeleodoro@outlook.com](mailto:escolaeleodoro@outlook.com) Fone: (44) 3413-1140

Semana: 18/05/2020 A 22/05/2020

Turma: 2º ano A

Nome do aluno(a):

Professor (a): Karina de Carvalho

Componente curricular: Português

Habilidade da BNCC: (EF02LP08) Segmentar corretamente as palavras ao escrever frases e textos.

Orientação: Caro aluno, após a leitura e interpretação dos comandos, responda as atividades propostas.

DATA: 22/05/2020



## ORDENE AS FRASES

ONÇA MATA PINTADA VIVE A NA

BORBOLETA JARDIM BAILA DE A NO AZUL

CAMELO DESERTO VIVE O NO

FUROU TATU O BURACO UM GRANDE



ATIVIDADE PEDAGÓGICA COMPLEMENTAR- APC  
ESCOLA RURAL MUNICIPAL ELEODORO ÉBANO PEREIRA  
E-mail [escolaeleodoro@outlook.com](mailto:escolaeleodoro@outlook.com) Fone: (44) 3413-1140

Semana: 18/05/2020 A 22/05/2020

Turma: 2º ano A

Nome do aluno(a):

Professor (a): Karina de Carvalho

Componente curricular: Português

Habilidade da BNCC: (EF02LP07) Escrever palavras, frases, textos curtos nas formas imprensa e cursiva.

Orientação: Caro aluno, após a leitura e interpretação dos comandos, responda as atividades propostas.

DATA: 22/05/2020

ESCREVA O NOME DAS FIGURAS ABAIXO COM LETRA CURSIVA.

