



Semana: 28 03/11/2020 a 06/11/2020

Turma: 2º ano

Nome do aluno(a):

Componente curricular: Português

Orientação: Caro aluno, após a leitura e interpretação dos comandos, responda as atividades propostas.

DATA: TERÇA – FEIRA 03/11/2020

Nas últimas semanas aprendemos sobre o grau do substantivo: diminutivo e aumentativo. Agora vamos treinar e ver se aprenderam. Caprichem na letra.

Coloque os nomes abaixo no aumentativo, e no diminutivo.

NORMAL	AUMENTATIVO	DIMINUTIVO
CAMA		
CASA		
BARATA		
CANETA		
LIVRO		
CADEIRA		
NUVEM		
VERMELHO		
ASA		
DOCE		
GARFO		
BOTA		
MOLA		
ESTRELA		



ATIVIDADE PEDAGÓGICA COMPLEMENTAR- APC

ESCOLA RURAL MUNICIPAL ELEODORO ÉBANO PEREIRA

E-mail escolaeleodoro@outlook.com Fone: (44) 3413-1140

Semana: 28 03/11/2020 a 06/11/2020

Turma: 2º ano

Nome do aluno(a):



Componente curricular: História

Orientação: Caro aluno, após a leitura e interpretação dos comandos, responda as atividades propostas.

DATA: TERÇA – FEIRA 03/11/2020

A) COLOQUE O NÚMERO CORRETO EM CADA FIGURA.

- 1 – AGRICULTURA
- 2 – PLANTIO E COLHEITA DE MANDIOCA
- 3 - PECUÁRIA - CRIAÇÃO E VENDA DE GADO
- 4 – PRODUÇÃO DE SUCO
- 5 – AVICULCURA – CRIAÇÃO E VENDA DE AVES
- 6 – PRODUÇÃO DE CAFÉ
- 7 – PLANTIO E COLHEITA DE LARANJA
- 8 - COMÉRCIO



B) VOCÊ CONHECE ALGUÉM QUE TRABALHA EM ALGUMA DESSAS ÁREAS? COMENTE.

C) CONVERSE COM UM ADULTO E ESCREVA OUTROS TIPOS DE TRABALHOS QUE EXISTEM EM NOSSO MUNICÍPIO.



ATIVIDADE PEDAGÓGICA COMPLEMENTAR- APC

ESCOLA RURAL MUNICIPAL ELEODORO ÉBANO PEREIRA

E-mail escolaeleodoro@outlook.com Fone: (44) 3413-1140

Semana: 28 03/11/2020 a 06/11/2020

Turma: 2º ano

Nome do aluno(a):

Componente curricular: Ciências

Orientação: Caro aluno, após a leitura e interpretação dos comandos, responda as atividades propostas.

DATA: QUARTA – FEIRA 04/11/2020

AÇÕES RESPONSÁVEIS EM RELAÇÃO À CONSERVAÇÃO DO AMBIENTE: REDUÇÃO DA GERAÇÃO DE RESÍDUOS.

ENSINE A NÃO DESPERDIÇAR ALIMENTOS

APROVEITE OS ALIMENTOS QUE NÃO ESTÃO SENDO TÃO CONSUMIDOS E ESTÃO PRÓXIMOS DO PRAZO DE VALIDADE NA GELADEIRA E FAÇA PIZZAS CASEIRAS CONTANDO COM A AJUDA DO PEQUENO. EXPLIQUE À CRIANÇA QUE AÇÕES COMO ESSAS SÃO NECESSÁRIAS, POIS, POR ANO, A FAMÍLIA BRASILEIRA JOGA **128 QUILOS** DE COMIDA NA LIXEIRA, SENDO QUE APROXIMADAMENTE 40% DESSE PESO CORRESPONDE AO ARROZ E FEIJÃO. OS DADOS FORAM REVELADOS POR MEIO DE UMA PESQUISA FEITA PELA FUNDAÇÃO GETÚLIO VARGAS (FGV).



ABANDONE O CONSUMO DE SUCO DE CAIXINHA INDIVIDUAL

CRIANÇAS COSTUMAM CONSUMIR MUITOS SUCOS DE CAIXINHAS INDIVIDUAIS DURANTE O RECREIO DA ESCOLA, VALE LEMBRAR QUE DEPOIS ESSES PRODUTOS VIRAM RESÍDUOS. QUE TAL APROVEITAR ESSE TEMPO EM CASA E INCENTIVAR OS SUCOS NATURAIS FEITOS NA HORA E SERVIDOS EM COPOS RETORNÁVEIS?





Semana: 28 03/11/2020 a 06/11/2020

Turma: 2º ano

Nome do aluno(a):


Componente curricular: Geografia

Orientação: Caro aluno, após a leitura e interpretação dos comandos, responda as atividades propostas.

DATA: QUARTA – FEIRA 04/11/2020

MEIOS DE TRANSPORTES: TERRESTRE (DESLOCAMENTO PELA TERRA), AQUÁTICO (DESLOCAMENTO PELA ÁGUA) E AÉREO (DESLOCAMENTO PELO AR).

A) CONTINUE A LISTAGEM E ESCREVA OS NOMES DOS MEIOS DE TRANSPORTES DE ACORDO COM CADA NÚMERO:



- 1 - TREM _____
- 2 - _____
- 3 - _____
- 4 - _____
- 5 - _____
- 6 - _____
- 7 - _____

B) O HELICÓPTERO SE MOVIMENTA ONDE? MARQUE X NA RESPOSTA CERTA.

- () TERRA
- () ÁGUA
- () AR

C) PINTE SOMENTE OS MEIOS DE TRANSPORTES TERRESTRES.



ATIVIDADE PEDAGÓGICA COMPLEMENTAR- APC
ESCOLA RURAL MUNICIPAL ELEODORO ÉBANO PEREIRA
E-mail escolaeleodoro@outlook.com Fone: (44) 3413-1140

Semana: 28 03/11/2020 a 06/11/2020

Turma: 2º ano


Nome do aluno(a):

Componente curricular: Matemática

Orientação: Caro aluno, após a leitura e interpretação dos comandos, responda as atividades propostas.

DATA: SEXTA – FEIRA 06/11/2020

OBSERVE AS FIGURAS ABAIXO E FAÇA O QUE SE PEDE:



- A) NO QUADRO 1, FAÇA UM X NO MENINO QUE ESTÁ ATRÁS DA URNA.
- B) NO QUADRO 2, CIRCULE O ANIMAL QUE ESTÁ DENTRO DA TELEVISÃO.
- C) NO QUADRO 3, RISQUE O MENINO QUE ESTÁ MAIS PERTO DA ÁRVORE.
- D) NO QUADRO 4, FAÇA UM X NA CRIANÇA DO MEIO.
- E) NO QUADRO 5, RISQUE A CRIANÇA QUE ESTÁ MAIS LONGE DA LATA DE TINTA.
- F) NO QUADRO 6, CIRCULE O BRINQUEDO QUE ESTÁ EM CIMA DA CASA