



Semana: 22 21/09/2020 a 25/09/2020

Turma: 2º ano

Nome do aluno(a):

Componente curricular: Português

Orientação: Caro aluno, após a leitura e interpretação dos comandos, responda as atividades propostas.

DATA: SEGUNDA – FEIRA 21/09/2020

SUELI E AS FLORES

SUELI SENTOU-SE À SOMBRA DA ÁRVORE PARA DESCANSAR. O DIA FOI CANSATIVO, POIS SETEMBRO COMEÇA A PRIMAVERA E NESTA ÉPOCA SUELI PRECISA COLHER MUITAS FLORES PARA VENDER NA FEIRA. SUELI ADORA O PERFUME DAS FLORES E AMA O SEU TRABALHO.

ISABEL CRISTINA SILVEIRA SOARES

1) ESCREVA ABAIXO O TÍTULO DO TEXTO.

★ _____
★ _____

2) POR QUE SUELI SENTOU-SE À SOMBRA DE UMA ÁRVORE?

★ _____
★ _____

3) QUAL É O TRABALHO DE SUELI?

★ _____
★ _____



ATIVIDADE PEDAGÓGICA COMPLEMENTAR- APC

ESCOLA RURAL MUNICIPAL ELEODORO ÉBANO PEREIRA

E-mail escolaeleodoro@outlook.com Fone: (44) 3413-1140

Semana: 22 21/09/2020 a 25/09/2020

Turma: 2º ano

Nome do aluno(a):

Componente curricular: Ciências

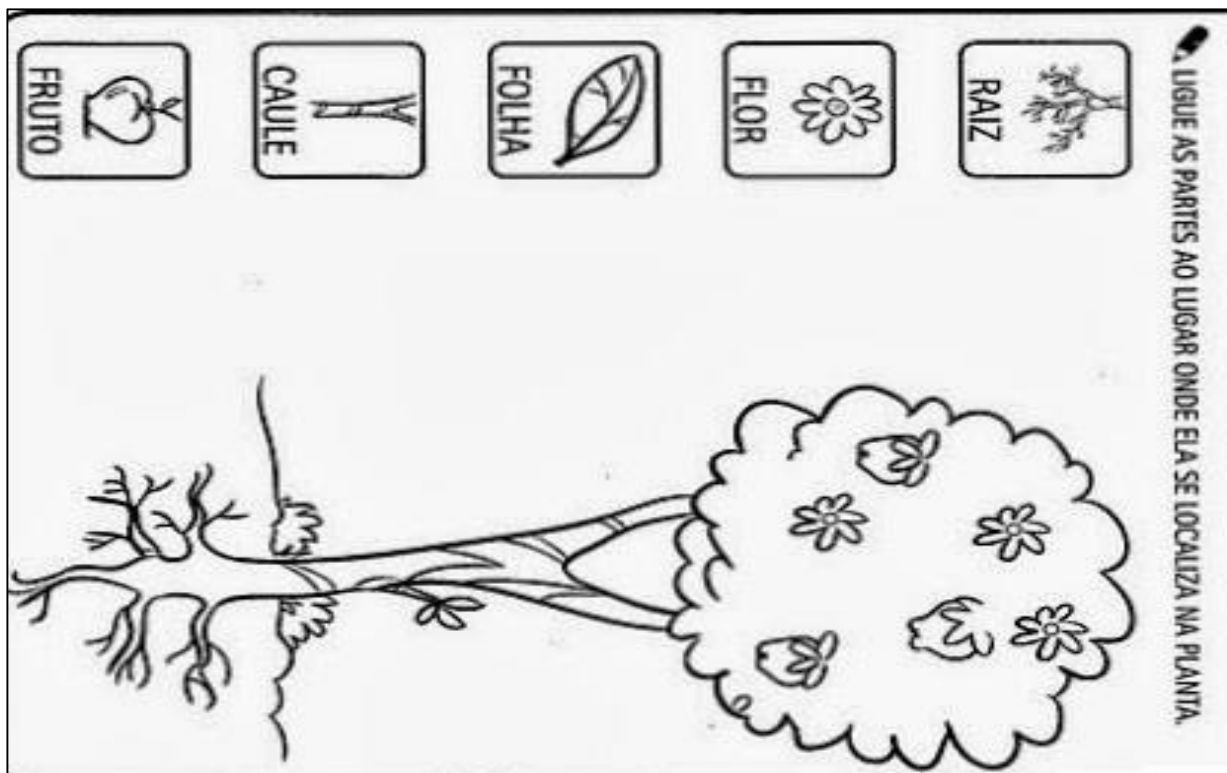
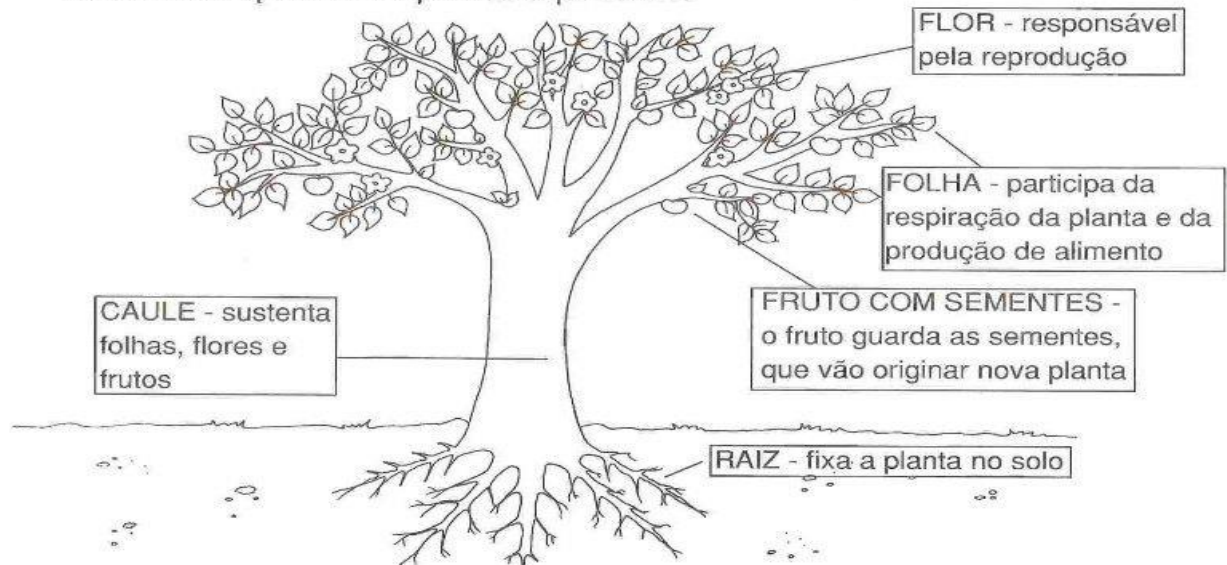
Orientação: Caro aluno, após a leitura e interpretação dos comandos, responda as atividades propostas.

DATA: QUARTA – FEIRA 23/09/2020

PARTES DE UMA PLANTA

A maioria das plantas é formada por raiz, caule, folhas, flores, frutos e sementes.

Observe as partes da planta e pinte-as.





ATIVIDADE PEDAGÓGICA COMPLEMENTAR- APC

ESCOLA RURAL MUNICIPAL ELEODORO ÉBANO PEREIRA

E-mail escolaeleodoro@outlook.com Fone: (44) 3413-1140

Semana: 22 21/09/2020 a 25/09/2020

Turma: 2º ano

Nome do aluno(a):

Componente curricular: Matemática

Orientação: Caro aluno, após a leitura e interpretação dos comandos, responda as atividades propostas.

DATA: SEXTA – FEIRA 25/09/2020

COMPARANDO QUANTIDADES

NA ÁRVORE "A" TEM _____ MAÇÃS.

NA ÁRVORE "B" TEM _____ MAÇÃS.

NA ÁRVORE "C" TEM _____ MAÇÃS.

A ÁRVORE COM MAIS MAÇÃS É:

() A () B () C

A ÁRVORE QUE TEM MENOS MAÇÃS NO CHÃO É:

() A () B () C

- RISQUE TODAS AS MAÇÃS DA ÁRVORE A.

- RISQUE A MESMA QUANTIDADE NA ÁRVORE B.

* QUANTAS MAÇÃS A ÁRVORE B TEM A MAIS QUE A ÁRVORE A?

ADICIONE TODAS AS MAÇÃS QUE ESTÃO NO CHÃO E REGISTRE O RESULTADO.

A ÁRVORE C TEM:

() UMA DEZENA DE MAÇÃS.


() UMA DÚZIA DE MAÇÃS.

QUANTAS MAÇÃS NO CHÃO?


A → _____


B → _____


C → _____





QUANTAS MAÇÃS?













ATIVIDADE PEDAGÓGICA COMPLEMENTAR- APC

ESCOLA RURAL MUNICIPAL ELEODORO ÉBANO PEREIRA

E-mail escolaeleodoro@outlook.com Fone: (44) 3413-1140

Semana: 22 21/09/2020 a 25/09/2020

Turma: 2º ano

Nome do aluno(a):

Componente curricular: História e Geografia

Orientação: Caro aluno, após a leitura e interpretação dos comandos, responda as atividades propostas.

DATA: TERÇA – FEIRA 22/09/2020

Texto informativo sobre o dia da árvore

O Dia da Arvore

Em todo o mundo o dia da Árvore é comemorado em datas diferentes. No Brasil, é comemorado no dia 21 de setembro à véspera da chegada da primavera, estação responsável pelo grande aparecimento de flores e por simbolizar a continuação da vida. No dia 21 de março também se comemora o Dia Mundial da Árvore ou Dia Mundial da Floresta. Essa comemoração oficial teve lugar pela primeira vez no estado norte-americano do Nebraska, em 1872.

A árvore é o maior símbolo da natureza. Ela proporciona sombra para o descanso, frutos para nossa alimentação, mantém a umidade do ar, diminui a poluição, forma barreiras contra o vento, impede a erosão, etc. Além disso, as árvores fornecem várias matérias-primas.

Cada região brasileira escolheu uma árvore típica como seu símbolo. A região Norte, a castanheira; a região Nordeste, a carnaúba; a Centro-Oeste, o ipê-amarelo; a Sudeste, o pau-brasil; e a Sul, o pinheiro-do-paraná, também conhecida como araucária. Devemos valorizar as árvores e contribuir para a manutenção e propagação delas, principalmente em tempos de aquecimento global.

APÓS A LEITURA DO TEXTO RESPONDA:

1- NO BRASIL, O DIA DA ÁRVORE É COMEMORADO EM QUE DIA?

() 22 DE ABRIL

() 25 DE DEZEMBRO

() 21 DE SETEMBRO

2- A _____ É O MAIOR SÍMBOLO DA

_____ .

3- ELA PROPORCIONA _____ PARA O DESCANSO,
_____ PARA NOSSA ALIMENTAÇÃO, MANTÉM A
_____ DO _____, DIMINUI A _____.

ESTE É O PINHEIRO – DO – PARANÁ, QUE TAMBÉM É CONHECIDA
COMO ARAUCÁRIA. PINTE – A COM BASTANTE CAPRICHOS.

