



ATIVIDADE PEDAGÓGICA COMPLEMENTAR- APC

ESCOLA RURAL MUNICIPAL ELEODORO ÉBANO PEREIRA

E-mail escolaeleodoro@outlook.com Fone: (44) 3413-1140

Semana: 32 30/11/2020 A 04/12/2020

Turma: 1º ano

Nome do aluno (a):

Professor (a): Karina de Carvalho

Componente curricular: Português

Orientação: Considerando que no 1º ano alguns alunos ainda não realizam a leitura com autonomia, leia para ele a comanda e solicite as respostas.

DATA: SEGUNDA – FEIRA 30/11/2020





1- **LEIA** AS FRASES COM MUITA ATENÇÃO E EM SEGUIDA **COMPLETE** AS FRASES ABAIXO ,UTILIZANDO AS PALAVRAS DO QUADRO AO LADO(NÃO SE ESQUEÇA DE **LER AS PALAVRAS DO QUADRO**):

A) VIVI É UMA _____ MALHADA.

B) A _____ VIVE NO ZOOLOGICO.

C) RENATO GOSTA DE TOMAR _____.

D) O _____ GOSTA DE QUEIJO.

RATO		
LEITE		
ZEBRA		
VACA		

2- **ESCREVA** OS NOMES DAS IMAGENS COM BASTANTE ATENÇÃO, CAPRICO E EM CIMA DA LINHA. AGORA VAMOS PRATICAR **REALIZANDO A LEITURA** DAS PALAVRAS QUE VOCÊ ACABOU DE ESCREVER:



3- **LEIA** COM BASTANTE ATENÇÃO AS PALAVRAS DO QUADRO E EM SEGUIDA **COPIE** COM BASTANTE CAPRICO E EM CIMA DA LINHA:

VEADO	ZEBRA	RATO	VELA	LIMÃO	LIGADO
LEÃO	REMO	ZABUMBA	ZUMBI	RABANETE	VACINA

_____ - _____ - _____

_____ - _____ - _____

_____ - _____ - _____



Semana: 32 30/11/2020 A 04/12/2020

Turma: 1º ano

Nome do aluno (a):

Professor (a): Karina de Carvalho

Componente curricular: História

Orientação: Considerando que no 1º ano alguns alunos ainda não realizam a leitura com autonomia, leia para ele a comanda e solicite as respostas.

DATA: TERÇA – FEIRA 01/12/2020


BAOBÁ, O QUE É?

DE ORIGEM AFRICANA, O BAOBÁ É UMA ÁRVORE DE GRANDE PORTE, QUE SIMBOLIZA FORÇA E RESISTÊNCIA.

O BAOBÁ É UMA ÁRVORE COM O TRONCO MUITO GROSSO E CONSIDERADO COMO A ÁRVORE MAIS ANTIGA DA TERRA.

1) ENCONTRE AS PALAVRAS QUE ESTÃO GRIFADAS NO TEXTO E PINTE-AS NO CAÇA-PALAVRAS. PINTE TAMBÉM O DESENHO.

BAOBÁ



A	E	A	M	P	I	E	R	H	S	A	A
T	S	E	S	H	R	M	R	T	D	N	R
R	O	O	T	T	R	A	C	H	I	T	R
O	S	H	N	D	D	D	B	W	S	I	A
N	Y	D	A	S	E	Z	Y	A	T	G	E
C	O	S	G	L	W	N	N	E	E	A	T
O	N	Á	R	V	O	R	E	O	G	S	H
E	B	A	O	B	Á	W	E	N	R	A	O
O	E	I	S	A	F	R	I	C	A	N	A
O	A	T	W	C	A	R	S	M	N	M	I
N	C	D	E	D	B	E	S	S	D	T	W
N	I	D	E	T	T	C	T	E	E	E	U



Semana: 32 30/11/2020 A 04/12/2020

Turma: 1º ano

Nome do aluno (a):

Professor (a): Karina de Carvalho

Componente curricular: Ciências

Orientação: Considerando que no 1º ano alguns alunos ainda não realizam a leitura com autonomia, leia para ele a comanda e solicite as respostas.

DATA: QUARTA – FEIRA 02/12/2020



É HORA DE...

1) Complete os quadros com os seus horários.



Acordo às _____ horas.



Tomo café às _____ horas.



Brinco às _____ horas.



Vou para a escola às _____ horas.



Escovo os dentes às _____ horas.



Tomo banho às _____ horas.

Você percebeu que em nosso dia-a-dia
temos hora para tudo?



ATIVIDADE PEDAGÓGICA COMPLEMENTAR- APC

ESCOLA RURAL MUNICIPAL ELEODORO ÉBANO PEREIRA

E-mail escolaeleodoro@outlook.com Fone: (44) 3413-1140

Semana: 32 30/11/2020 A 04/12/2020

Turma: 1º ano

Nome do aluno (a):

Professor (a): Karina de Carvalho


Componente curricular: Geografia

Orientação: Considerando que no 1º ano alguns alunos ainda não realizam a leitura com autonomia, leia para ele a comanda e solicite as respostas.

DATA: QUARTA – FEIRA 02/12/2020

Devido ao crescimento da população, tornou-se necessário criar normas de trânsito para que pedestres e veículos convivessem em harmonia.

OBSERVE A ILUSTRAÇÃO E MARQUE V OU F NAS QUESTÕES:



- O carro A está parado no lugar correto.
- Os pedestres estão atravessando a rua corretamente.
- Os pedestres devem esperar todos os carros passarem, mesmo com o sinal verde para eles.
- O carro A não tem tempo de esperar o sinal abrir.
- O carro B é responsável, respeita a sinalização.



ATIVIDADE PEDAGÓGICA COMPLEMENTAR- APC

ESCOLA RURAL MUNICIPAL ELEODORO ÉBANO PEREIRA

E-mail escolaeleodoro@outlook.com Fone: (44) 3413-1140

Semana: 32 30/11/2020 A 04/12/2020

Turma: 1º ano

Nome do aluno (a):


Professor (a): Karina de Carvalho

Componente curricular: Matemática

Orientação: Considerando que no 1º ano alguns alunos ainda não realizam a leitura com autonomia, leia para ele a comanda e solicite as respostas.

DATA: SEXTA – FEIRA 04/12/2020

PINTE AS FIGURAS DE ACORDO COM A LEGENDA DE CORES QUE O CACHORRINHO ESTÁ SEGURANDO. OBSERVE (**OLHE**) AS FIGURAS GEOMÉTRICAS PLANAS, DEPOIS **CONTE** AS QUANTIDADES E **CLASSIFIQUE-AS** EM CÍRCULOS, QUADRADOS, RETÂNGULOS E TRIÂNGULOS:



A) QUANTOS **CÍRCULOS** VOCÊ COLORIU DE **VERMELHO**?
_____.

B) QUANTOS **TRIÂNGULOS** VOCÊ COLORIU DE **LILÁS (ROXO)**?
_____.

C) QUANTOS **QUADRADOS** VOCÊ COLORIU DE **LARANJA**?
_____.

D) QUANTOS **RETÂNGULOS** VOCÊ COLORIU DE **MARRON**?
_____.