



ATIVIDADE PEDAGÓGICA COMPLEMENTAR- APC

ESCOLA RURAL MUNICIPAL ELEODORO ÉBANO PEREIRA

E-mail escolaeleodoro@outlook.com Fone: (44) 3413-1140

Semana: 22 21/09/2020 A 25/09/2020

Turma: 1º ano

Nome do aluno(a):

Professor (a): Karina de Carvalho

Componente curricular: Português

Orientação: Considerando que no 1º ano alguns alunos ainda não realizam a leitura com autonomia, leia para ele a comanda e solicite as respostas.

DATA: SEGUNDA – FEIRA 21/09/2020

LEITURA E INTERPRETAÇÃO.




SUELI E AS FLORES



SUELI SENTOU-SE À SOMBRA
DA ÁRVORE PARA DESCANSAR.
O DIA FOI CANSATIVO, POIS
SETEMBRO COMEÇA A
PRIMAVERA E NESTA ÉPOCA SUELI
PRECISA COLHER MUITAS FLORES
PARA VENDER NA FEIRA.

SUELI ADORA O PERFUME
DAS FLORES E AMA O SEU
TRABALHO.

ISABEL CRISTINA SILVEIRA SOARES



1) ESCREVA ABAIXO O TÍTULO DO TEXTO.

★ _____
★ _____

2) POR QUE SUELI SENTOU-SE À SOMBRA DE UMA ÁRVORE?

★ _____
★ _____

3) QUAL É O TRABALHO DE SUELI?

★ _____
★ _____



ATIVIDADE PEDAGÓGICA COMPLEMENTAR- APC

ESCOLA RURAL MUNICIPAL ELEODORO ÉBANO PEREIRA

E-mail escolaeleodoro@outlook.com Fone: (44) 3413-1140

Semana: 22 21/09/2020 A 25/09/2020

Turma: 1º ano

Nome do aluno(a):

Professor (a): Karina de Carvalho

Componente curricular: Ciências

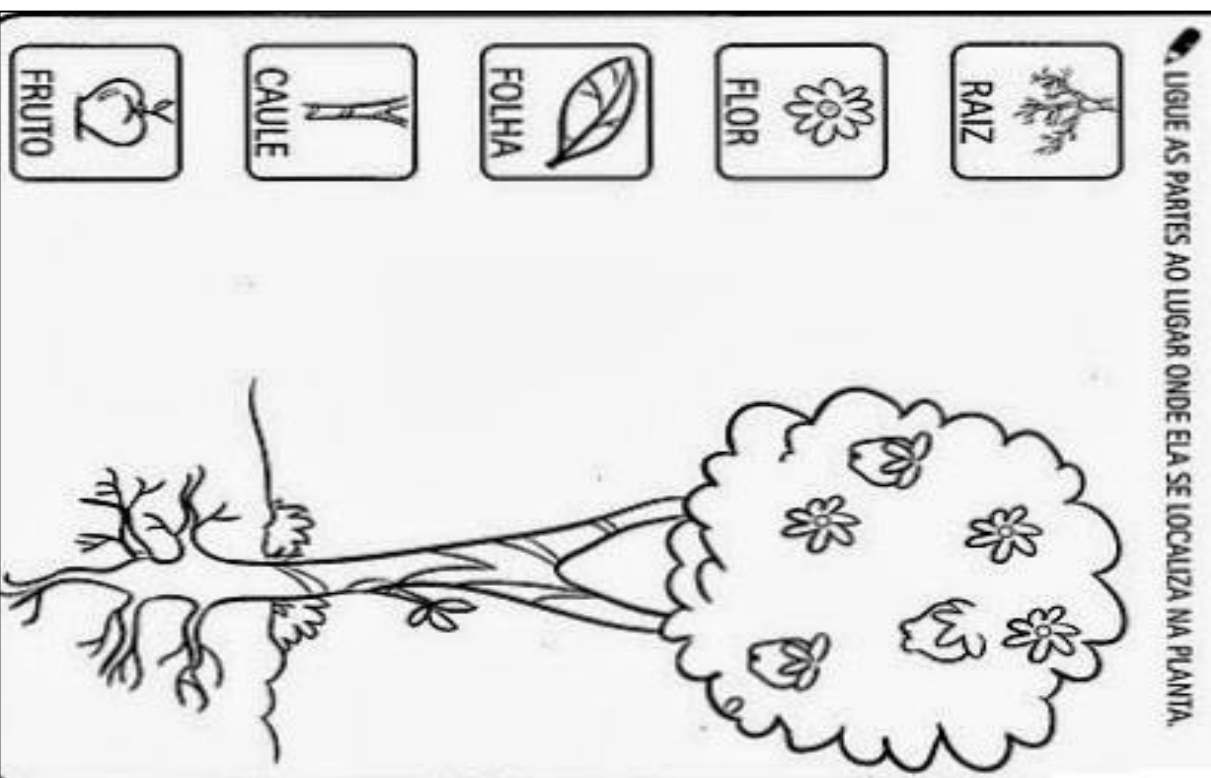
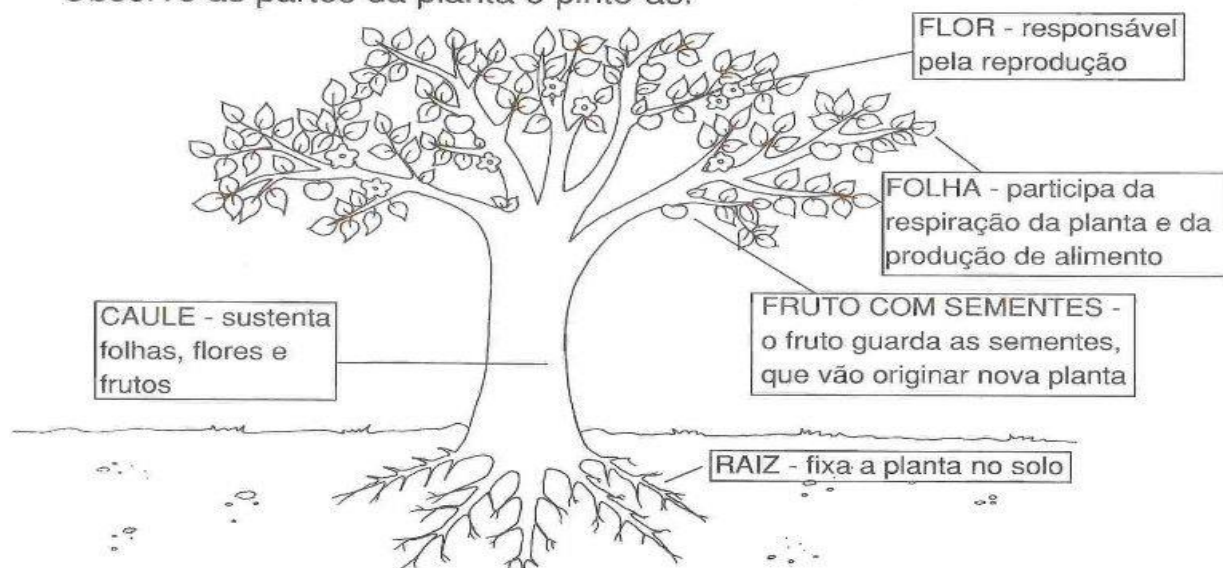
Orientação: Considerando que no 1º ano alguns alunos ainda não realizam a leitura com autonomia, leia para ele a comanda e solicite as respostas.

DATA: QUARTA – FEIRA 23/09/2020

PARTES DE UMA PLANTA

A maioria das plantas é formada por raiz, caule, folhas, flores, frutos e sementes.

Observe as partes da planta e pinte-as.





ATIVIDADE PEDAGÓGICA COMPLEMENTAR- APC

ESCOLA RURAL MUNICIPAL ELEODORO ÉBANO PEREIRA

E-mail escolaeleodoro@outlook.com Fone: (44) 3413-1140

Semana: 22 21/09/2020 A 25/09/2020

Turma: 1º ano

Nome do aluno(a):

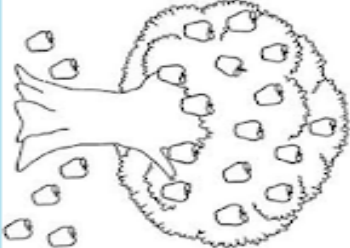
Professor (a): Karina de Carvalho

Componente curricular: Matemática

Orientação: Considerando que no 1º ano alguns alunos ainda não realizam a leitura com autonomia, leia para ele a comanda e solicite as respostas.

DATA: SEXTA – FEIRA 25/09/2020


CONTANDO E CALCULANDO



QUANTOS FRUTOS NA ÁRVORE?

QUANTOS CAÍRAM?

QUANTOS FRUTOS AO TODO?



- QUANTAS ÁRVORES?

- QUANTAS FLORES EMBAIXO DE CADA ÁRVORE?

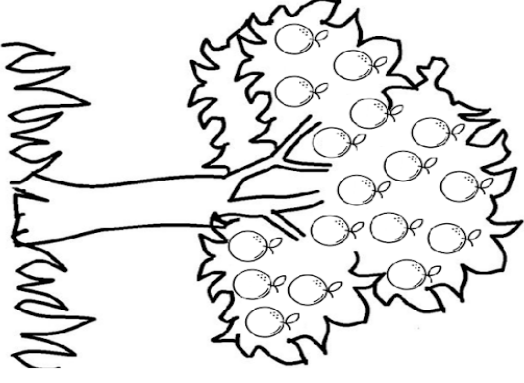
- QUANTAS FLORES NO TOTAL?

- REGISTRE.

+ + =

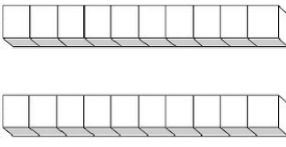
3 VEZES O 4 É IGUAL A

CONTANDO E CALCULANDO



1 - QUANTAS LARANJAS HÁ NA ÁRVORE?

2 - PINTE REPRESENTANDO ESTA QUANTIDADE.



3 - QUANTAS LARANJAS FALTAM PARA COMPLETAR 2 DEZENAS?

4 - MAMÃE COLHEU 8 LARANJAS PARA FAZER SUCCO. QUANTAS LARANJAS SOBRRARAM NA ÁRVORE?



ATIVIDADE PEDAGÓGICA COMPLEMENTAR- APC

ESCOLA RURAL MUNICIPAL ELEODORO ÉBANO PEREIRA

E-mail escolaeleodoro@outlook.com Fone: (44) 3413-1140

Semana: 22 21/09/2020 A 25/09/2020

Turma: 1º ano

Nome do aluno(a):

Professor (a): Karina de Carvalho

Componente curricular: História e Geografia

Orientação: Considerando que no 1º ano alguns alunos ainda não realizam a leitura com autonomia, leia para ele a comanda e solicite as respostas.

DATA: TERÇA – FEIRA 22/09/2020

Texto informativo sobre o dia da árvore

O Dia da Arvore

Em todo o mundo o dia da Árvore é comemorado em datas diferentes. No Brasil, é comemorado no dia 21 de setembro à véspera da chegada da primavera, estação responsável pelo grande aparecimento de flores e por simbolizar a continuação da vida. No dia 21 de março também se comemora o Dia Mundial da Árvore ou Dia Mundial da Floresta. Essa comemoração oficial teve lugar pela primeira vez no estado norte-americano do Nebraska, em 1872.

A árvore é o maior símbolo da natureza. Ela proporciona sombra para o descanso, frutos para nossa alimentação, mantém a umidade do ar, diminui a poluição, forma barreiras contra o vento, impede a erosão, etc. Além disso, as árvores fornecem várias matérias-primas.

Cada região brasileira escolheu uma árvore típica como seu símbolo. A região Norte, a castanheira; a região Nordeste, a carnaúba; a Centro-Oeste, o ipê-amarelo; a Sudeste, o pau-brasil; e a Sul, o pinheiro-do-paraná, também conhecida como araucária. Devemos valorizar as árvores e contribuir para a manutenção e propagação delas, principalmente em tempos de aquecimento global.

APÓS A LEITURA DO TEXTO RESPONDA:

1- NO BRASIL, O DIA DA ÁRVORE É COMEMORADO EM QUE DIA?

() 22 DE ABRIL

() 25 DE DEZEMBRO

() 21 DE SETEMBRO

2- A _____ É O MAIOR SÍMBOLO DA _____.

3- ELA PROPORCIONA _____ PARA O DESCANSO,
_____ PARA NOSSA ALIMENTAÇÃO, MANTÉM A _____
DO _____, DIMINUI A _____.

ESTE É O **PINHEIRO – DO – PARANÁ**, QUE TAMBÉM É CONHECIDA COMO **ARAUCÁRIA**. PINTE – A COM BASTANTE CAPRICHOS.

