



ATIVIDADE PEDAGÓGICA COMPLEMENTAR- APC  
ESCOLA RURAL MUNICIPAL ELEODORO ÉBANO PEREIRA  
E-mail [escolaeleodoro@outlook.com](mailto:escolaeleodoro@outlook.com) Fone: (44) 3413-1140

Semana: 01/06/2020 A 05/06/2020

Turma: 1º ano

Nome do aluno(a):

Professor (a): Karina de Carvalho

Componente curricular: Português

Habilidade da BNCC: EF01LP01 Ler palavras novas com precisão na decodificação, no caso de palavras de uso frequente, ler globalmente, por memorização.

Orientação: Caro aluno, após a leitura e interpretação dos comandos, responda as atividades propostas.

DATA: SEGUNDA – FEIRA 01/06/2020

## LEITURA DO DIA:

### LETRA N

O N ESTÁ NO  
NAVIO  
NO NOVELO E NO  
NINHO  
NA NUVEM E NA  
NAVALHA  
NO NARIZ DA  
NATÁLIA

NAVIO

NINHO

NEVE

NARIZ

NOITE



ESCREVA AS PALAVRAS QUE ESTÃO NOS QUADRINHOS COM CAPRICHOS.

---

---

---

---

---

---

---



ATIVIDADE PEDAGÓGICA COMPLEMENTAR- APC  
ESCOLA RURAL MUNICIPAL ELEODORO ÉBANO PEREIRA  
E-mail [escolaeleodoro@outlook.com](mailto:escolaeleodoro@outlook.com) Fone: (44) 3413-1140

Semana: 01/06/2020 A 05/06/2020

Turma: 1º ano

Nome do aluno(a):

Professor (a): Karina de Carvalho

Componente curricular: Português

Habilidade da BNCC: EF01LP07 Identificar fonemas e sua representação por letras.

Orientação: Caro aluno, após a leitura e interpretação dos comandos, responda as atividades propostas.

DATA: SEGUNDA – FEIRA 01/06/2020

COMPLETE AS PALAVRAS COM  
NA NE NI NO NU



□ □ V I O



□ □ V E



□ □ N H O



□ □ V E



□ □ V E M



ATIVIDADE PEDAGÓGICA COMPLEMENTAR- APC  
ESCOLA RURAL MUNICIPAL ELEODORO ÉBANO PEREIRA  
E-mail [escolaeleodoro@outlook.com](mailto:escolaeleodoro@outlook.com) Fone: (44) 3413-1140

Semana: 01/06/2020 A 05/06/2020

Turma: 1º ano

Nome do aluno(a):

Professor (a): Karina de Carvalho

Componente curricular: Matemática

Habilidade da BNCC: EF01MA01 Representar ideias e quantidades por meio de símbolos (letras, algarismos, desenhos e outras formas de registro) em diferentes contextos.

Orientação: Caro aluno, após a leitura e interpretação dos comandos, responda as atividades propostas.

DATA: SEGUNDA – FEIRA 01/06/2020

### ESCRITA DOS NÚMEROS POR EXTENSO

VAMOS FAZER A CÓPIA DO NOME DOS NÚMERO , IGUAL A ATIVIDADE REALIZADA ABAIXO:

<b>0</b>	<b>ZERO</b>	
<b>1</b>	<b>UM</b>	
<b>2</b>	<b>DOIS</b>	
<b>3</b>	<b>TRES</b>	
<b>4</b>	<b>QUATRO</b>	
<b>5</b>	<b>CINCO</b>	
<b>6</b>	<b>SEIS</b>	
<b>7</b>	<b>SETE</b>	
<b>8</b>	<b>OITO</b>	
<b>9</b>	<b>NOVE</b>	
<b>10</b>	<b>DEZ</b>	



ATIVIDADE PEDAGÓGICA COMPLEMENTAR- APC  
ESCOLA RURAL MUNICIPAL ELEODORO ÉBANO PEREIRA  
E-mail [escolaeleodoro@outlook.com](mailto:escolaeleodoro@outlook.com) Fone: (44) 3413-1140

Semana: 01/06/2020 A 05/06/2020

Turma: 1º ano

Nome do aluno(a):

Professor (a): Karina de Carvalho

Componente curricular: Matemática

Habilidade da BNCC: EF01MA17 Reconhecer e relacionar períodos do dia, dias da semana e meses do ano, utilizando calendário, quando necessário.

Orientação: Caro aluno, após a leitura e interpretação dos comandos, responda as atividades propostas.

DATA: SEGUNDA – FEIRA 01/06/2020

### MEDIDAS DE TEMPO

COM A AJUDA DE SUA FAMÍLIA PREENCHA O CALENDÁRIO DO MÊS DE JUNHO.

PINTE TODOS OS **DOMINGOS E FERIADOS** DE **VERMELHO**.

PINTE OS **SÁBADOS** DE **AZUL** E OS **DIAS DA SEMANA** DE **AMARELO**.

OBSERVE O CALENDÁRIO E RESPONDA:

A) EM QUE MÊS ESTAMOS?

---

B) QUANTOS DIAS TEM O MÊS DE JUNHO?

---

C) UMA SEMANA TEM SETE DIAS, ESCREVA NAS LINHAS ABAIXO OS NOMES DESSES DIAS.

---

---

---

---

---

---

---

---

Nome: \_\_\_\_\_

**CALENDÁRIO JUNHO DE 2020**

Dom	Seg	Ter	Quar	Qui	Sex	Sab

www.atividadesparainfantes.com



ATIVIDADE PEDAGÓGICA COMPLEMENTAR- APC  
ESCOLA RURAL MUNICIPAL ELEODORO ÉBANO PEREIRA  
E-mail [escolaeleodoro@outlook.com](mailto:escolaeleodoro@outlook.com) Fone: (44) 3413-1140

Semana: 01/06/2020 A 05/06/2020

Turma: 1º ano

Nome do aluno(a):

Professor (a): Karina de Carvalho

Componente curricular: Português

Habilidade da BNCC: EF01LP07 Identificar fonemas e sua representação por letras.

Orientação: Caro aluno, após a leitura e interpretação dos comandos, responda as atividades propostas.

DATA: TERÇA – FEIRA 02/06/2020

COMPLETE OS NOMES DAS FIGURAS COM AS SÍLABAS




\_\_\_ VIO



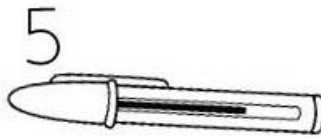
PA \_\_\_ LA



PE \_\_\_



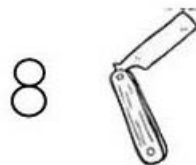
\_\_\_ BO



CA \_\_\_ TA



\_\_\_ NHO



\_\_\_ VALHA




\_\_\_ VELO



\_\_\_ IVA



SI \_\_\_



DA \_\_\_





ATIVIDADE PEDAGÓGICA COMPLEMENTAR- APC  
ESCOLA RURAL MUNICIPAL ELEODORO ÉBANO PEREIRA  
E-mail [escolaeleodoro@outlook.com](mailto:escolaeleodoro@outlook.com) Fone: (44) 3413-1140

Semana: 01/06/2020 A 05/06/2020

Turma: 1º ano

Nome do aluno(a):

Professor (a): Karina de Carvalho

Componente curricular: História

Habilidade da BNCC: EF01HI01 Identificar e comparar objetos, imagens, relatos e ações humanas em diferentes temporalidades para compreender a passagem do tempo, apontando mudanças e permanências em suas características e funções.

Orientação: Caro aluno, após a leitura e interpretação dos comandos, responda as atividades propostas.

DATA: TERÇA – FEIRA 02/06/2020

OBSERVE AS IMAGENS E COM A AJUDA DE UM ADULTO RESPONDA AS QUESTÕES



A) QUAL FOTOGRAFIA REPRESENTA UMA FAMÍLIA DE ANTIGAMENTE?

B) NA FOTOGRAFIA 2, QUAL O NOME DO OBJETO MODERNO, DO TEMPO ATUAL, QUE APARECE NA CENA?

C) PINTE A QUANTIDADE DE QUADRINHOS CORRESPONDENTES AO TANTO DE PESSOAS QUE FAZEM PARTE DA FAMÍLIA DA FOTO 1.

<input type="checkbox"/>	<input type="checkbox"/>	<input type="checkbox"/>	<input type="checkbox"/>	<input type="checkbox"/>	<input type="checkbox"/>	<input type="checkbox"/>	<input type="checkbox"/>	<input type="checkbox"/>	<input type="checkbox"/>
1	2	3	4	5	6	7	8	9	10

D) QUANTAS PESSOAS FAZEM PARTE DA FAMÍLIA DA FOTO 2? MARQUE X.

<input type="checkbox"/> 10	<input type="checkbox"/> 8	<input type="checkbox"/> 6	<input type="checkbox"/> 5	<input type="checkbox"/> 4	<input type="checkbox"/> 3
-----------------------------	----------------------------	----------------------------	----------------------------	----------------------------	----------------------------



ATIVIDADE PEDAGÓGICA COMPLEMENTAR- APC  
ESCOLA RURAL MUNICIPAL ELEODORO ÉBANO PEREIRA  
E-mail [escolaeleodoro@outlook.com](mailto:escolaeleodoro@outlook.com) Fone: (44) 3413-1140

Semana: 01/06/2020 A 05/06/2020

Turma: 1º ano

Nome do aluno(a):

Professor (a): Karina de Carvalho

Componente curricular: Ciências


Habilidade da BNCC: EF01CI02 Compreender a influência de ser humano como agente transformador do meio para atender suas necessidades, reconhecendo atitudes de cuidados para conservação do ambiente.

Orientação: Caro aluno, após a leitura e interpretação dos comandos, responda as atividades propostas.

DATA: QUARTA – FEIRA 03/06/2020

## DIA INTERNACIONAL DO MEIO AMBIENTE

5 DE JUNHO




É do equilíbrio do meio ambiente e do uso racional dos recursos minerais, vegetais e animais que depende a sobrevivência do homem no planeta Terra.

Todas as pessoas devem preocupar-se em preservar e defender o meio ambiente.

Essa conscientização deve começar na escola, com o conhecimento cada vez maior do nosso planeta e com a formação de uma consciência que valorize a harmonia entre o homem e a natureza.

• O QUE PODEMOS FAZER PARA SALVAR O MEIO AMBIENTE? MARQUE UM X NAS ALTERNATIVAS CORRETAS E PINTE A CENA.



JOGAR LIXO NO CHÃO

RECICLAR TODO O LIXO

DERRUBAR TODAS AS ÁRVORES

PROTEGER A NATUREZA

NÃO DESPERDIÇAR A ÁGUA

JOGAR LIXO NO MAR E NOS RIOS



Semana: 01/06/2020 A 05/06/2020

Turma: 1º ano

Nome do aluno(a):

Professor (a): Karina de Carvalho

Componente curricular: Geografia

Habilidade da BNCC: EF01GE01 Descrever características observadas de seus lugares de vivência(moradia, escola etc.) e identificar semelhanças e diferenças entre esses lugares, dando enfoque aos atributos e funções dos diferentes locais.

Orientação: Caro aluno, após a leitura e interpretação dos comandos, responda as atividades propostas.

DATA: QUARTA – FEIRA 03/06/2020


COM O AUXÍLIO DE UM ADULTO SIGA OS COMANDOS E REALIZE A ATIVIDADE SOBRE OS CÔMODO DE UMA MORADIA.

### PARTES DE UMA CASA

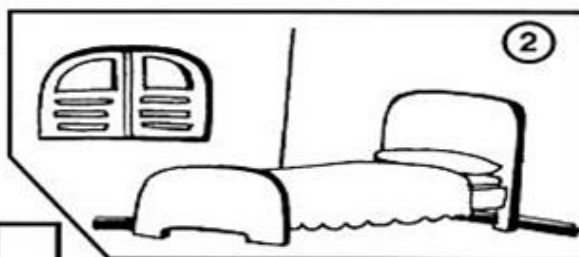
PARA UMA MELHOR ORGANIZAÇÃO, UMA MORADIA É DIVIDIDA EM PARTES CHAMADAS CÔMODO E CADA UM DELES POSSUI UMA FUNÇÃO ESPECÍFICA.

\* ESCREVA OS NOMES DE ACORDO COM AS FIGURAS.


\* PINTO O DESENHO DO SEU CÔMODO PREFERIDO.



1 A




2 Q




3 O Z

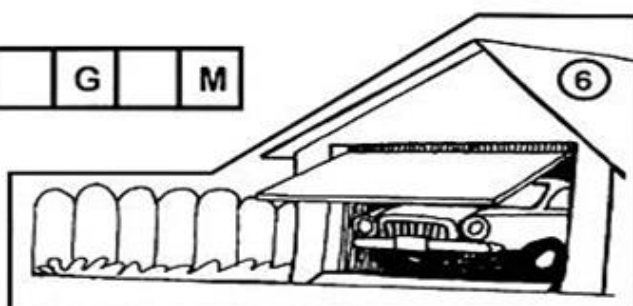
4 H R



5 Q I L



6 G G M



BANCO DE PALAVRAS: GARAGEM, QUINTAL, BANHEIRO, COZINHA, QUARTO, SALA.





ATIVIDADE PEDAGÓGICA COMPLEMENTAR- APC  
ESCOLA RURAL MUNICIPAL ELEODORO ÉBANO PEREIRA  
E-mail [escolaeleodoro@outlook.com](mailto:escolaeleodoro@outlook.com) Fone: (44) 3413-1140

Semana: 01/06/2020 A 05/06/2020

Turma: 1º ano

Nome do aluno(a):

Professor (a): Karina de Carvalho

Componente curricular: Matemática

Habilidade da BNCC: EF01MA17 Reconhecer e relacionar períodos do dia, dias da semana e meses do ano, utilizando calendário, quando necessário.

Orientação: Caro aluno, após a leitura e interpretação dos comandos, responda as atividades propostas.

DATA: SEXTA – FEIRA 05/06/2020

Complete a tabela com os dias da semana!

	SEXTA	SÁBADO	DOMINGO	
	QUINTA	SEXTA	SÁBADO	
	QUINTA	QUARTA	TERÇA	
	SÁBADO	DOMINGO	SEGUNDA	
	SEGUNDA	TERÇA	QUARTA	
	TERÇA	QUARTA	QUINTA	
	DOMINGO	SEGUNDA	TERÇA	
<b>SEGUNDA    TERÇA    QUARTA</b>				
<b>QUINTA    SEXTA    SÁBADO    DOMINGO</b>				



ATIVIDADE PEDAGÓGICA COMPLEMENTAR- APC  
ESCOLA RURAL MUNICIPAL ELEODORO ÉBANO PEREIRA  
E-mail [escolaeleodoro@outlook.com](mailto:escolaeleodoro@outlook.com) Fone: (44) 3413-1140

Semana: 01/06/2020 A 05/06/2020

Turma: 1º ano

Nome do aluno(a):

Professor (a): Karina de Carvalho

Componente curricular: Matemática

Habilidade da BNCC: EF01MA06 Construir estratégias pessoais de cálculo, com registro( Algarismos ou desenhos) para resolver problemas, envolvendo adição e subtração.

Orientação: Caro aluno, após a leitura e interpretação dos comandos, responda as atividades propostas.

DATA: SEXTA – FEIRA 05/06/2020

### RESOLVA OS CÁLCULOS DE ADIÇÃO.

$\begin{array}{r} 9 \\ + 2 \\ \hline \end{array}$	$\begin{array}{r} 6 \\ + 3 \\ \hline \end{array}$	$\begin{array}{r} 8 \\ + 4 \\ \hline \end{array}$	$\begin{array}{r} 5 \\ + 5 \\ \hline \end{array}$	$\begin{array}{r} 7 \\ + 6 \\ \hline \end{array}$
$\begin{array}{r} 4 \\ + 7 \\ \hline \end{array}$	$\begin{array}{r} 2 \\ + 8 \\ \hline \end{array}$	$\begin{array}{r} 3 \\ + 9 \\ \hline \end{array}$	$\begin{array}{r} 1 \\ + 8 \\ \hline \end{array}$	$\begin{array}{r} 9 \\ + 8 \\ \hline \end{array}$
$\begin{array}{r} 8 \\ + 8 \\ \hline \end{array}$	$\begin{array}{r} 7 \\ + 8 \\ \hline \end{array}$	$\begin{array}{r} 6 \\ + 8 \\ \hline \end{array}$	$\begin{array}{r} 5 \\ + 6 \\ \hline \end{array}$	$\begin{array}{r} 4 \\ + 5 \\ \hline \end{array}$
$\begin{array}{r} 3 \\ + 4 \\ \hline \end{array}$	$\begin{array}{r} 2 \\ + 3 \\ \hline \end{array}$	$\begin{array}{r} 1 \\ + 2 \\ \hline \end{array}$	$\begin{array}{r} 7 \\ + 5 \\ \hline \end{array}$	$\begin{array}{r} 7 \\ + 4 \\ \hline \end{array}$
$\begin{array}{r} 7 \\ + 3 \\ \hline \end{array}$	$\begin{array}{r} 7 \\ + 2 \\ \hline \end{array}$	$\begin{array}{r} 6 \\ + 5 \\ \hline \end{array}$	$\begin{array}{r} 6 \\ + 4 \\ \hline \end{array}$	$\begin{array}{r} 6 \\ + 3 \\ \hline \end{array}$
$\begin{array}{r} 6 \\ + 2 \\ \hline \end{array}$	$\begin{array}{r} 5 \\ + 4 \\ \hline \end{array}$	$\begin{array}{r} 5 \\ + 3 \\ \hline \end{array}$	$\begin{array}{r} 4 \\ + 3 \\ \hline \end{array}$	$\begin{array}{r} 4 \\ + 2 \\ \hline \end{array}$

