



Escola Municipal Carlos Chagas E.I.E.F
Rua: Munhoz de Melo nº78 Centro Fone (44) 3434- 1163
CEP: 87840-000 Mirador-PR
E-mail- escola@mirador.pr.gov.br – E-mail:escolacarloschagasmira@gmail.com

Semana: 08/03/2021 a 19/03/2021.

Sala de Recursos.

Nome do aluno (a):







Professor (a): Mariza Fernandes Hidalgo













ATIVIDADES DE MATEMATICA

MULTIPLICAÇÃO DOS NÚMEROS NATURAIS.

Complete com atenção a atividade abaixo e use a tabuada.

- Resolva as operações, multiplicando e pintando cada balão com o resultado correspondente.
Siga a legenda:

					
VERMELHO	AZUL	AMARELO	VERDE	ROSA	LARANJA

2×2		3×3	
2×3		1×10	
4×3		6×1	
4×2		2×6	
2×5		4×1	
9×1		1×8	

1- Complete as seqüências numéricas a seguir:

a) De 5 em 5:

5	10			
				50
55	60			
				100

b) De 10 em 10:

0	10				50
0			30		50
50					100



Escola Municipal Carlos Chagas E.I.E.F
Rua: Munhoz de Melo nº78 Centro Fone (44) 3434- 1163
CEP: 87840-000 Mirador-PR
E-mail- escola@mirador.pr.gov.br – E-mail:escolacarloschagasmira@gmail.com

Semana: 08/03/2021 a 19/03/2021.

Sala de Recursos.

Nome do aluno (a):

Professor (a): Mariza Fernandes Hidalgo

Continue completando as atividades a seguir:

- 3.** Todos os saquinhos têm 3 balas.
Calcule o total de balas de cada prateleira.

	$1 \times 3 = \underline{\quad}$ 3
	$2 \times 3 = \underline{\quad}$ $3 + 3 = \underline{\quad}$
	$3 \times 3 = \underline{\quad}$ $3 + 3 + 3 = \underline{\quad}$
	$4 \times 3 = \underline{\quad}$ $3 + 3 + 3 + 3 = \underline{\quad}$

- 4.** Continue a calcular os totais, contando os balões.

	$5 \times 3 = \underline{\quad}$
	$6 \times 3 = \underline{\quad}$
	$7 \times 3 = \underline{\quad}$
	$8 \times 3 = \underline{\quad}$
	$9 \times 3 = \underline{\quad}$