



Escola Municipal Carlos Chagas E.I.E.F

Rua: Munhoz de Melo nº78 Centro Fone (44) 3434- 1163

CEP: 87840-000 Mirador-PR

E-mail- escola@mirador.pr.gov.br – E-mail: escolacarloschagasmira@gmail.com

PROFESSORA: JANETHE TIVERON
ALUNO(A)

4º ANO- A 10º QUINZENA

AVALIAÇÃO DE LÍNGUA PORTUGUESA

Leia o texto abaixo para responder as questões 01 e 02.

Meu medo de cão é geral –
Bassê, boxer ou policial –
Mal vejo um cachorro
Eu fujo, eu corro,
Que importa a raça do tal!

Tatiana Belinky. *O livro dos disparates com os limeriques da Tatiana*. São Paulo: Saraiva, 2001. p. 24.



QUESTÃO 01

A frase “**Meu medo de cão é geral**”, quer dizer:

- A) O menino tem medo de qualquer cachorro.
- B) Ele tem medo do cão Bassê.
- C) Ele tem medo de qualquer animal.
- D) O menino tem medo de cão policial.

QUESTÃO 02

De acordo o texto, o menino tem medo de:

- A) Policial.
- B) Gato.
- C) Cobra.
- D) Cachorro.



Escola Municipal Carlos Chagas E.I.E.F

Rua: Munhoz de Melo nº78 Centro Fone (44) 3434- 1163

CEP: 87840-000 Mirador-PR

E-mail- escola@mirador.pr.gov.br – E-mail:escolacarloschagasmira@gmail.com

PROFESSORA: JANETHE TIVERON

4º ANO- A 10º QUINZENA

ALUNO(A)

EXERCÍCIOS - VERBO

1. CIRCULE OS VERBOS DAS FRASES ABAIXO:

- a) Os meninos brincavam com a bola.
- b) Papai me chamou para passear no parque.
- c) Entrei, falei com o diretor.
- d) Ao sentir as patadas, o lobo correu.
- e) Tu és forte, és corajoso e conheces tudo.
- f) A borboleta tem asas coloridas.

2. INDIQUE OS TEMPOS VERBAIS NAS FRASES:

- a) Papai gosta de verdura. _____
- b) José ganhou uma bola. _____
- c) Damião estudará a lição. _____
- d) Marisa acordou cedo. _____
- e) Os meninos jogarão basquete. _____
- f) O garoto vende pipoca. _____
- g) Eu venderei meu relógio. _____
- h) Eu canto muito bem. _____
- i) Eu vendi minha bicicleta. _____

1. Escreva ao lado: ação, fenômeno ou estado.

- a) Chovia muito. _____
- b) Ela era infeliz. _____
- c) Relampejou muito. _____
- d) As crianças sorriam. _____
- e) As crianças morriam. _____
- f) Ventava muito. _____
- g) Maria estava contente. _____
- h) O menino está triste. _____



Escola Municipal Carlos Chagas E.I.E.F

Rua: Munhoz de Melo nº78 Centro Fone (44) 3434- 1163

CEP: 87840-000 Mirador-PR

E-mail- escola@mirador.pr.gov.br – E-mail:escolacarloschagasmira@gmail.com

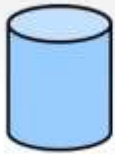
PROFESSORA: JANETHE TIVERON
ALUNO(A)

4º ANO- A 10º QUINZENA

FORMAS GEOMÉTRICAS

Você conhece as **Formas Geométricas Espaciais**?

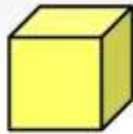
Observe as formas que vão se apresentar e seu nome,
Formas geométricas sólidas.



CILINDRO



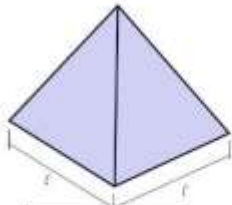
CONE



CUBO



ESFERA



1 PIRÂMIDE

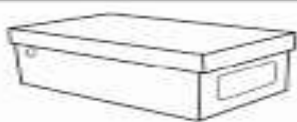


PRISMA



PARALELEPÍPEDO 2

1- PODEMOS ASSOCIAR AS IMAGENS A SEGUIR A QUAIS FIGURAS GEOMETRICAS ESPACIAIS?









Escola Municipal Carlos Chagas E.I.E.F

Rua: Munhoz de Melo nº78 Centro Fone (44) 3434- 1163

CEP: 87840-000 Mirador-PR

E-mail- escola@mirador.pr.gov.br – E-mail: escolacarloschagasmira@gmail.com

PROFESSORA: JANETHE TIVERON

4º ANO- A 10º QUINZENA

ALUNO(A)

AVALIAÇÃO DE MATEMÁTICA

Resolva as multiplicações

$$\begin{array}{r} 28 \\ \times 8 \\ \hline \square \square \square \end{array}$$

$$\begin{array}{r} 16 \\ \times 9 \\ \hline \square \square \square \end{array}$$

$$\begin{array}{r} 25 \\ \times 5 \\ \hline \square \square \square \end{array}$$

$$\begin{array}{r} 35 \\ \times 6 \\ \hline \square \square \square \end{array}$$

$$\begin{array}{r} 67 \\ \times 3 \\ \hline \square \square \square \end{array}$$

$$\begin{array}{r} 29 \\ \times 4 \\ \hline \square \square \square \end{array}$$

$$\begin{array}{r} 19 \\ \times 7 \\ \hline \square \square \square \end{array}$$

$$\begin{array}{r} 52 \\ \times 4 \\ \hline \square \square \square \end{array}$$

$$\begin{array}{r} 32 \\ \times 6 \\ \hline \square \square \square \end{array}$$

$$\begin{array}{r} 26 \\ \times 6 \\ \hline \square \square \square \end{array}$$

$$\begin{array}{r} 44 \\ \times 4 \\ \hline \square \square \square \end{array}$$

$$\begin{array}{r} 58 \\ \times 9 \\ \hline \square \square \square \end{array}$$

$$\begin{array}{r} 39 \\ \times 4 \\ \hline \square \square \square \end{array}$$

$$\begin{array}{r} 14 \\ \times 8 \\ \hline \square \square \square \end{array}$$

$$\begin{array}{r} 22 \\ \times 9 \\ \hline \square \square \square \end{array}$$

$$\begin{array}{r} 45 \\ \times 3 \\ \hline \square \square \square \end{array}$$



Escola Municipal Carlos Chagas E.I.E.F

Rua: Munhoz de Melo nº78 Centro Fone (44) 3434- 1163

CEP: 87840-000 Mirador-PR

E-mail- escola@mirador.pr.gov.br – E-mail: escolacarloschagasmira@gmail.com

PROFESSORA: JANETHE TIVERON
ALUNO(A)

4º ANO- A 10º QUINZENA

DIVISÃO

Pratique a divisão efetuando os cálculos abaixo:

$$\begin{array}{r} 88 \mid 4 \\ \hline \end{array}$$

$$\begin{array}{r} 42 \mid 2 \\ \hline \end{array}$$

$$\begin{array}{r} 91 \mid 7 \\ \hline \end{array}$$

$$\begin{array}{r} 84 \mid 6 \\ \hline \end{array}$$

$$\begin{array}{r} 50 \mid 2 \\ \hline \end{array}$$

$$\begin{array}{r} 100 \mid 4 \\ \hline \end{array}$$



Escola Municipal Carlos Chagas E.I.E.F
Rua: Munhoz de Melo nº78 Centro Fone (44) 3434- 1163
CEP: 87840-000 Mirador-PR

E-mail- escola@mirador.pr.gov.br – E-mail:escolacarloschagasmira@gmail.com

PROFESSORA: JANETHE TIVERON
ALUNO(A)

4º ANO- A 10º QUINZENA

COMPONENTE CURRICULAR DE PORTUGUES E MATEMATICA .

Encontros Vocálicos

Quando temos duas ou mais vogais em uma palavra.
Veja a classificação na tabela abaixo.

DITONGO	Encontro de uma vogal e uma semivogal na mesma palavra. Ao separar as sílabas as vogais não se separam. Exemplo : SAUDADE <u>SAU</u> DA DE
TRITONGO	Encontro de uma vogal com duas semivogais na mesma palavra. Ao separar as sílabas as vogais não se separam. Exemplo: SAGUÃO SA <u>GUÃO</u>
HIATO	Encontro de duas vogais na mesma palavra. Ao separar as sílabas, as vogais se separam em sílabas diferentes. Exemplo: MOEDA <u>MO</u> <u>E</u> DA

COMPARTILHANDO

VEJA A PALAVRA QUEIJO

Apesar de ter três vogais não é tritongo. A letra U não aparece na leitura, diferente de SAGUÃO.

É importante ler as palavras com atenção ao som de todas as letras antes de classificá-las.

VOGAIS E SEMIVOGAIS

Vogais: A- E- I- O- U

As vogais são:

A- E- O

As semivogais são:

I- U



Escola Municipal Carlos Chagas E.I.E.F
Rua: Munhoz de Melo nº78 Centro Fone (44) 3434- 1163
CEP: 87840-000 Mirador-PR

E-mail- escola@mirador.pr.gov.br – E-mail: escolacarloschagasmira@gmail.com

PROFESSORA: JANETHE TIVERON
ALUNO(A)

4º ANO- A 10º QUINZENA

ATIVIDADE 1

Tiago foi à loja de brinquedos, comprou um carrinho e pagou com uma nota de  (20 reais).

Observe os valores dos brinquedos e depois responda às questões abaixo:

<p>pião</p>  <p>15 reais</p>	<p>dardo</p>  <p>12 reais</p>	<p>bola</p>  <p>8 reais</p>	<p>carrinho</p>  <p>13 reais</p>
--	---	--	--

a) Tiago recebeu troco?

b) De quanto foi o troco de Tiago?

c) Se Tiago tivesse escolhido o dardo e a bola daria para ele pagar?

d) Sobraria troco?

e) Qual brinquedo Tiago poderia comprar para ter 5 reais de troco?



Escola Municipal Carlos Chagas E.I.E.F

Rua: Munhoz de Melo nº78 Centro Fone (44) 3434- 1163

CEP: 87840-000 Mirador-PR

E-mail- escola@mirador.pr.gov.br – E-mail: escolacarloschagasmira@gmail.com

PROFESSORA: JANETHE TIVERON

4º ANO- A 10º QUINZENA

ALUNO(A)

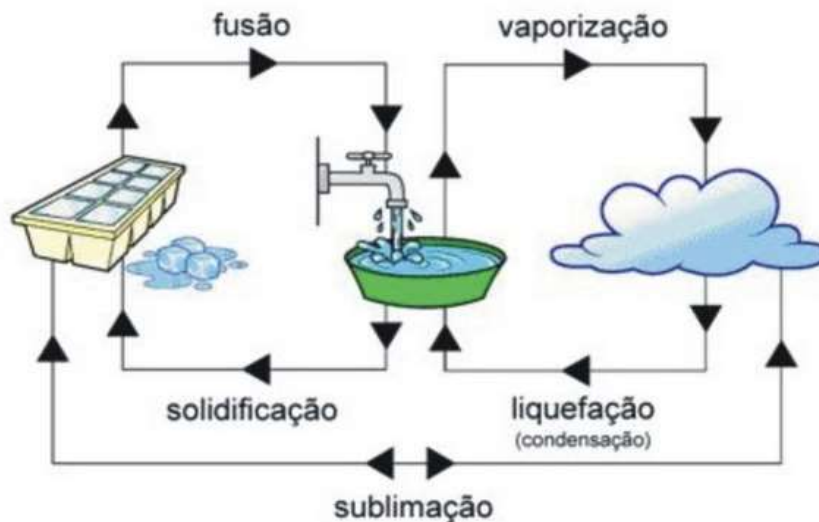
AVALIAÇÃO DE CIÊNCIAS.

Podemos encontrar a água em três estado, sendo líquido, gasoso e sólido.



Ela também pode passar de um estado para outro.

Observe:



Cite exemplo de lugares em que a água possa ser encontrada no estado:

Sólido

Líquido

Gasoso





Escola Municipal Carlos Chagas E.I.E.F

Rua: Munhoz de Melo nº78 Centro Fone (44) 3434- 1163

CEP: 87840-000 Mirador-PR

E-mail- escola@mirador.pr.gov.br – E-mail:escolacarloschagasmira@gmail.com

PROFESSORA: JANETHE TIVERON

4º ANO- A 10º QUINZENA

ALUNO(A)

COMPONENTE CURRICULAR DE ENSINO RELIGIOSO

LIBERDADE RELIGIOSA: UM DIREITO DE TODOS

As religiões respondem a certas inquietações humanas e são consideradas verdades.

Porém, diante de tamanha diversidade, é preciso que cada religião e cada pessoa praticante desta ou daquela religião tenha seu espaço garantido e respeitado por todas as demais.

Vale lembrar que não existe maneira certa ou errada, e sim maneiras diferentes de se relacionar com o sagrado. Portanto, todos têm o direito e a liberdade de escolher e praticar a religião que melhor lhes convier.

Além disso, devemos respeitar também aqueles que optam por não seguir nenhuma religião.

O respeito e a liberdade religiosa começam dentro de cada um de nós:

- quando aceitamos o nosso jeito de ser, tentando superar limitações e aperfeiçoar qualidades;
- quando sabemos respeitar o jeito de ser e de viver das pessoas;
- quando valorizamos todos aqueles que são diferentes de nós;
- quando promovemos a paz e a fraternidade na família, na escola e nos lugares que frequentamos.

Para que a religião faça sentido na vida das pessoas, é fundamental o respeito à escolha religiosa de cada um.

1. Marque V ou F.

- () Todas as maneiras de se relacionar com o sagrado são iguais.
- () Todas as pessoas têm o direito de escolher e praticar a religião que melhor lhes convier.
- () Não devemos respeitar a opção religiosa das outras pessoas.
- () O respeito e a liberdade religiosa começam dentro de cada um de nós.



Escola Municipal Carlos Chagas E.I.E.F
Rua: Munhoz de Melo nº78 Centro Fone (44) 3434- 1163
CEP: 87840-000 Mirador-PR

E-mail- escola@mirador.pr.gov.br – E-mail: escolacarloschagasmira@gmail.com

PROFESSORA: JANETHE TIVERON
ALUNO(A)

4º ANO- A 10º QUINZENA

COMPONENTE CURRICULAR: LÍNGUA PORTUGUESA

HIATO, DITONGO, TRITONGO

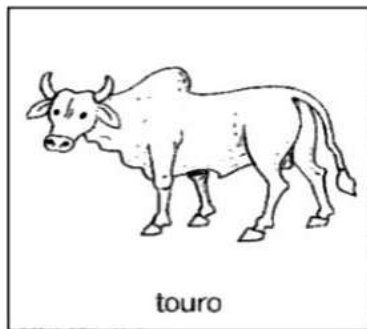

1. Separe as sílabas e classifique-as em **hiato** ou **ditongo**.

- a) lagoa _____
b) chapéu _____
c) viola _____
d) caixote _____
e) baile _____

2. Em qual destas palavras há tritongo? Explique.

balão tesouro saguão moinho saída

3. Pinte a imagem do quadrinho cuja palavra apresenta hiato.



4. Circule a palavra que **não** contém ditongo.

macarrão papai dourado arara couve
polícia couro história lei besouro



Escola Municipal Carlos Chagas E.I.E.F

Rua: Munhoz de Melo nº78 Centro Fone (44) 3434- 1163

CEP: 87840-000 Mirador-PR

E-mail- escola@mirador.pr.gov.br – E-mail: escolacarloschagasmira@gmail.com

PROFESSORA: JANETHE TIVERON

4º ANO- A 10º QUINZENA

ALUNO(A)

COMPONENTE CURRICULAR: LÍNGUA PORTUGUESA

Sítio do Pica-Pau Amarelo

Bananada de goiaba

Goiabada de marmelo

Sítio do pica pau amarelo!

Boneca de pano é gente

Sabugo de milho é gente

O sol nascente é tão belo!

Sítio do pica pau amarelo!

Rios de prata pirata

Com o sideral na mata

O universo paralelo

Sítio do pica pau amarelo!

Num país da fantasia

Num estado de euforia

Cidade polichinelo

Sítio do pica pau amarelo!



DE OLHO NA MUSICA!

1- QUE TIPO DE TEXTO É ESTE? _____

2- QUAL É O TÍTULO DESTA MÚSICA? _____

3- QUEM O AUTOR SE REFERE QUANDO FALA:

BONECA DE PANO É GENTE _____

SABUGO DE MILHO É GENTE _____



Escola Municipal Carlos Chagas E.I.E.F
Rua: Munhoz de Melo nº78 Centro Fone (44) 3434- 1163
CEP: 87840-000 Mirador-PR

E-mail- escola@mirador.pr.gov.br – E-mail: escolacarloschagasmira@gmail.com


PROFESSORA: JANETHE TIVERON
ALUNO(A)

4º ANO- A 10º QUINZENA

COMPONENTE CURRICULAR: MATEMATICA


ATIVIDADE DE MATEMÁTICA

1- A figura abaixo representa uma equipe de basquete. Embaixo do desenho de cada jogador está seu nome e uma etiqueta com a sua altura, em centímetros. Observe a figura e responda:




- Qual é o nome do jogador mais alto? _____
- Qual é o nome do jogador mais baixo? _____
- Qual é a altura do jogador Paulo? _____
- Qual é a altura do jogador Régis? _____

2 - Um ônibus leva 52 pessoas em cada viagem. Ao final de 4 viagens, quantas pessoas o ônibus terá levado?



3 – Num parque de diversões, a montanha russa tem 123 carrinhos e cada um deles pode levar 12 pessoas. Quantas pessoas podem andar na montanha russa ao mesmo tempo?



4 – Jonas, o jornaleiro, entrega jornais todos os dias. Seus 278 fregueses recebem o jornal sete dias por semana. No final da semana, quantos jornais Jonas entrega?





Escola Municipal Carlos Chagas E.I.E.F
Rua: Munhoz de Melo nº78 Centro Fone (44) 3434- 1163
CEP: 87840-000 Mirador-PR

E-mail- escola@mirador.pr.gov.br – E-mail:escolacarloschagasmira@gmail.com

PROFESSORA: JANETHE TIVERON
ALUNO(A)

4º ANO- A 10º QUINZENA

COMPONENTE CURRICULAR: LÍNGUA PORTUGUESA

Tarde divertida

Carlos e Artur foram com seus pais à feira.
Eles tomaram sorvete, comeram pastel e andaram na roda-gigante.

Carlos falou para Artur:

___ A tarde na feira foi divertida.

Vamos entender o texto:

- 1) Os meninos foram à feira
(A) à noite
(B) domingo
(C) à tarde
- 2) Qual salgado os meninos comeram?
(A) sorvete
(B) pastel
(C) batata
- 3) A palavra **sorvete** possui quantas sílabas:
(A) 3
(B) 7
(C) 4

Ilustre o texto:



A onça Bolota

A onça Bolota é diferente.

Ela é muito lenta, gosta de tomar injeção e só come sanduíche de atum.

Bolota está sempre com seus amigos: a anta Fifi e o elefante Lico.

Vamos entender o texto:

- 1) O texto fala sobre
(A) os amigos de Bolota
(B) como é Bolota
(C) a família de Bolota
- 2) Quem são os amigos de Bolota?
R: _____
- 3) Por que a onça Bolota é diferente?
() Porque não tem pintas.
() Porque é muito lenta.
() Porque gosta de tomar injeção.
() Porque é muito rápida.
() Porque só come sanduíche de atum.







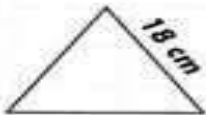
COMPONENTE CURRICULAR: MATEMATICA

PERÍMETRO

Perímetro é a soma das medidas dos lados de um polígono.



Calcule o perímetro das figuras abaixo:



É com você!

- A) Uma quadra de vôlei tem 23 m de comprimento e 10,5 de largura. Qual é o perímetro dessa quadra?
- B) Qual é o perímetro de um quadrado que tem 3,6 m de lado?
- C) Calcule o perímetro de um retângulo que tem 2,5 m de altura e, de base, o dobro da altura.
- D) Qual é o perímetro de uma sala que tem 3,8 m de comprimento e 2,6 de largura?



Escola Municipal Carlos Chagas E.I.E.F
Rua: Munhoz de Melo nº78 Centro Fone (44) 3434- 1163
CEP: 87840-000 Mirador-PR

E-mail- escola@mirador.pr.gov.br – E-mail: escolacarloschagasmira@gmail.com

PROFESSORA: JANETHE TIVERON
ALUNO(A)

4º ANO- A 10º QUINZENA

COMPONENTE CURRICULAR: CIÊNCIA

Vírus

do grego *pathos* = doença; *gen* = produzir, gerar

A palavra vírus vem do latim e significa veneno.

Os vírus são seres visíveis apenas ao microscópio eletrônico.

Os vírus vivem em grande quantidade no ar, na poeira, na água, no organismo de outros seres vivos e no solo. Para se reproduzir, o vírus penetra dentro de uma célula sábia e assume o comando, fazendo que ela trabalhe para produzir novos vírus.

Os vírus, ao invadirem um organismo, podem causar doenças, por isso são considerados microorganismo patogênicos.



As doenças causadas por vírus são conhecidas pelo nome de viroses. Entre as viroses podemos relacionar: a gripe, o sarampo, a caxumba, a poliomielite, a raiva, a hepatite, a aids, a febre amarela.

Forme uma frase sobre o vírus.



Escola Municipal Carlos Chagas E.I.E.F

Rua: Munhoz de Melo nº78 Centro Fone (44) 3434- 1163

CEP: 87840-000 Mirador-PR

E-mail- escola@mirador.pr.gov.br – E-mail:escolacarloschagasmira@gmail.com

PROFESSORA: JANETHE TIVERON

4º ANO- A 10º QUINZENA

ALUNO(A)

COMPONENTE CURRICULAR: ENSINO RELIGIOSO.

LIBERDADE RELIGIOSA: UM DIREITO DE TODOS

As religiões respondem a certas inquietações humanas e são consideradas verdades.

Porém, diante de tamanha diversidade, é preciso que cada religião e cada pessoa praticante desta ou daquela religião tenha seu espaço garantido e respeitado por todas as demais.

Vale lembrar que não existe maneira certa ou errada, e sim maneiras diferentes de se relacionar com o sagrado. Portanto, todos têm o direito e a liberdade de escolher e praticar a religião que melhor lhes convier.

Além disso, devemos respeitar também aqueles que optam por não seguir nenhuma religião.

O respeito e a liberdade religiosa começam dentro de cada um de nós:

- quando aceitamos o nosso jeito de ser, tentando superar limitações e aperfeiçoar qualidades;
- quando sabemos respeitar o jeito de ser e de viver das pessoas;
- quando valorizamos todos aqueles que são diferentes de nós;
- quando promovemos a paz e a fraternidade na família, na escola e nos lugares que frequentamos.

Para que a religião faça sentido na vida das pessoas, é fundamental o respeito à escolha religiosa de cada um.

1. Marque V ou F.

- () Todas as maneiras de se relacionar com o sagrado são iguais.
- () Todas as pessoas têm o direito de escolher e praticar a religião que melhor lhes convier.
- () Não devemos respeitar a opção religiosa das outras pessoas.
- () O respeito e a liberdade religiosa começam dentro de cada um de nós.



COMPONENTE CURRICULAR: LINGUA PORTUGUESA

Leia o texto:

A CIGARRA E A FORMIGA

A cigarra passou todo o verão cantando, enquanto a formiga juntava grãos. Quando chegou o inverno, a cigarra veio à casa da formiga para pedir que lhe desse o que comer.

A formiga então perguntou a ela:

— E o que é que você fez durante todo o verão?

— Durante o verão eu cantei — disse a cigarra.

E a formiga respondeu:

— Muito bem, pois agora dance!

ROCHA, Ruth. (adapt.)



1. O travessão usado no texto foi para indicar:

(A) A descrição da formiga.

(B) A fala das personagens.

(C) O trabalho da cigarra.

(D) A descrição do ambiente.

2. Quem são as personagens do texto?

(A) A cigarra e o leão.

(B) A formiga e a cigarra.

(C) A cigarra e o gato.

(D) A formiga e o cachorro.

3. No trecho: “Quando chegou o inverno, a cigarra veio à casa da formiga pedir que lhe desse o que comer”. A palavra destacada se refere a:

(A) Casa.

(B) Formiga.

(C) Inverno.

(D) Cigarra.

4. “— Durante o verão eu cantei.” Esta fala é

(A) da formiga

(B) da raposa

(C) da cigarra

(D) do pombo

5. A cigarra cantou:

(A) no inverno

(B) na primavera

(C) no verão

(D) no outono



Escola Municipal Carlos Chagas E.I.E.F
Rua: Munhoz de Melo nº78 Centro Fone (44) 3434- 1163
CEP: 87840-000 Mirador-PR



E-mail- escola@mirador.pr.gov.br – E-mail: escolacarloschagasmira@gmail.com

PROFESSORA: JANETHE TIVERON
ALUNO(A)

4º ANO- A 10º QUINZENA

COMPONETE CURRICULAR: GEOGRAFIA

4. Numere os produtos industrializados de acordo com a matéria-prima usada na sua fabricação.





Escola Municipal Carlos Chagas E.I.E.F

Rua: Munhoz de Melo nº78 Centro Fone (44) 3434- 1163

CEP: 87840-000 Mirador-PR

E-mail- escola@mirador.pr.gov.br – E-mail:escolacarloschagasmira@gmail.com

PROFESSORA: JANETHE TIVERON

4º ANO- A 10º QUINZENA

ALUNO(A)