



Escola Municipal Carlos Chagas E.I.E.F

Rua: Munhoz de Melo nº78 Centro Fone (44) 3434- 1163

CEP: 87840-000 Mirador-PR

E-mail- escola@mirador.pr.gov.br – E-mail: escolacarloschagasmira@gmail.com

PROFESSORA: JANETHE TIVERON

3º ANO- A 9º QUINZENA

ALUNO(A)

COMPONENTE CURRICULAR: LÍNGUA PORTUGUESA E MATEMÁTICA

31/05/2021 SEGUNDA-FEIRA.

Leia o poema abaixo, que também é uma cantiga de roda.

POEMA

Ciranda cirandinha
Vamos todos cirandar
Vamos dar a meia volta
Volta e meia vamos dar.



O anel que tu me deste
Era vidro e se quebrou
O amor que tu me tinhas
Era pouco e se acabou

(cantiga popular)

1- As rimas do poema são:

- a) () ciranda e dar / quebrou e acabou.
- b) () cirandinha e volta / deste e tinha.
- c) () anel e amor / vidro e quebrou.
- d) () deste e tinha / volta e dar.

2- Quantos versos e quantas estrofes o poema do exercício anterior tem? Faça um x na alternativa correta.

- a) () 9 versos e 3 estrofes.
- b) () 6 versos e 3 estrofes.
- c) () 4 versos e 4 estrofes.
- d) () 8 versos e 2 estrofes.

3- Observe o banco de palavras e assinale a alternativa correta da questão.

Laranja- maçã- banana- pêra- abacate

A **ordem alfabética** dessas palavras é

- a) () pêra – abacate- laranja- maçã – banana.
- b) () maçã – banana- laranja- pêra- abacate.
- c) () maçã- abacate- laranja – banana – pêra.
- d) () abacate – banana – laranja- maçã – pêra.



Escola Municipal Carlos Chagas E.I.E.F

Rua: Munhoz de Melo nº78 Centro Fone (44) 3434- 1163

CEP: 87840-000 Mirador-PR

E-mail- escola@mirador.pr.gov.br – E-mail:escolacarloschagasmira@gmail.com

PROFESSORA: JANETHE TIVERON
ALUNO(A)

3º ANO- A 9º QUINZENA

TRABALHANDO A LOCALIZAÇÃO.

COMPLETE AS FRASES DE ACORDO COM O DESENHO:



1) _____ ESTÁ SENTADA ATRÁS DE ANA.

2) _____ SENTA-SE À FRENTE DE CAROL.

3) _____ E BRUNO SENTAM-SE EM FRENTE AO QUADRO. SENDO QUE _____ SENTA-SE MAIS PRÓXIMO A PORTA.

4) _____ SENTA-SE MAIS LONGE DA PROFESSORA E AO SEU LADO SENTA-SE _____.

5) _____ SENTA-SE BEM PRÓXIMA A PROFESSORA E AO LADO DE

2- ESCREVA O NOME DOS NUMERAIS POR EXTENSO:

5	
15	
25	
35	
45	
55	
65	
75	



Escola Municipal Carlos Chagas E.I.E.F

Rua: Munhoz de Melo nº78 Centro Fone (44) 3434- 1163

CEP: 87840-000 Mirador-PR

E-mail- escola@mirador.pr.gov.br – E-mail: escolacarloschagasmira@gmail.com

PROFESSORA: JANETHE TIVERON

3º ANO- A 9º QUINZENA

ALUNO(A)

COMPONENTE CURRICULAR: LÍNGUA PORTUGUESA E MATEMÁTICA

02/06/2021 QUARTA-FEIRA

DÍGRAFOS É O GRUPO DE DUAS LETRAS QUE REPRESENTAM UM ÚNICO VALOR SONORO. COM AS COMBINAÇÕES.

CH- LH- NH- RR- SS- SC- SX

QUANDO PRECISAMOS SEPARAR OS DÍGRAFOS EM FINAL DE FRASE, POR EXEMPLO, DUAS REGRAS DEVEM SER LEMBRADAS:

- NUNCA SE SEPARAM OS DÍGRAFOS **CH – LH – NH- QU- GU.**

EX: CHA-VE

CHU-PE-TA

FO-LHA

CO-LHER

NI-NHO

PA-MO-NHA

- SEMPRE SE SEPARAM OS DÍGRAFOS: **SS – RR- SC- XC – SÇ.**

EX: EX-CE- LEN-TE

DES-ÇA

PÁS- SA- RO

CAR-RO-ÇA.

COMPLETE O QUADRO DE ACORDO COM O MODELO

	PALAVRAS	SOLETRANDO (QUANTIDADE DE LETRAS)	FONEMAS (SOM)	DIGRAFOS (SONS QUE NÃO SE SEPARAM)
1	CHÁPEU	6	5	CH
2	VIZINHO			
3	CAMPO			
4	SOMBRA			
5	NASCER			



Escola Municipal Carlos Chagas E.I.E.F
Rua: Munhoz de Melo nº78 Centro Fone (44) 3434- 1163
CEP: 87840-000 Mirador-PR

E-mail- escola@mirador.pr.gov.br – E-mail: escolacarloschagasmira@gmail.com

PROFESSORA: JANETHE TIVERON
ALUNO(A)

3º ANO- A 9º QUINZENA

DÍGRAFOS

1. Observe o trecho destacado e escreva **EC** para encontro consonantal ou **D** para dígrafo.

a) **esc**ada _____

b) **cr**escer _____

c) **col**her _____

d) **gl**ória _____

e) **der**retido _____

f) **est**átua _____


g) **pregui**çoso _____

h) **dinoss**auro _____

i) **fron**ha _____

j) **br**asileiro _____

2. Quantos e quais dígrafos há na palavra **porquinho**?



3. Acrescente **r** e forme palavras com o dígrafo **rr**.

a) muro _____

b) caro _____

c) vara _____

d) tora _____

e) aranha _____

f) careta _____

4. Sublinhe todos os dígrafos deste trecho da cantiga.


Teresinha de Jesus

de uma queda, foi ao chão.

Acudiram três cavalheiros

todos de chapéu na mão. [...]

(Cantiga popular)





Escola Municipal Carlos Chagas E.I.E.F
Rua: Munhoz de Melo nº78 Centro Fone (44) 3434- 1163
CEP: 87840-000 Mirador-PR

E-mail- escola@mirador.pr.gov.br – E-mail: escolacarloschagasmira@gmail.com

PROFESSORA: JANETHE TIVERON
ALUNO(A)


3º ANO- A 9º QUINZENA

COMPONENTE CURRICULAR: GEOGRAFIA E CIÊNCIA 03/06/2021 QUINTA-FEIRA

Questão 01:

Daniela mora em uma rua bem cuidada pelos moradores. Ela tem muitos vizinhos e trata todos com educação e respeito.


Qual destas ruas é de Daniela? Marque com (X).



Questão 02:

Na cidade, as pessoas trabalham em indústrias ou fábricas. As indústrias transformam matérias-primas em produtos industrializados.

- Observe a sequência de quadrinhos a seguir e marque com um (X) a resposta correta.



Plantação de morangos



O produto chega à indústria



A moça está colhendo os morangos



O produto pronto para o consumo

- a) Qual quadrinho mostra matéria-prima, que é a principal substância utilizada para fabricar a geleia?
() A. () B. () C. () D.



Escola Municipal Carlos Chagas E.I.E.F

Rua: Munhoz de Melo nº78 Centro Fone (44) 3434- 1163

CEP: 87840-000 Mirador-PR

E-mail- escola@mirador.pr.gov.br – E-mail:escolacarloschagasmira@gmail.com

PROFESSORA: JANETHE TIVERON

3º ANO- A 9º QUINZENA

ALUNO(A)

ATIVIDADE DE CIÊNCIAS CARACTERÍSTICAS DA TERRA



A TERRA É O PLANETA EM QUE VIVEMOS.
NELA ENCONTRAMOS O MAR, AS PLANTAS, AS
PESSOAS E OS ANIMAIS.
A TERRA NÃO TEM LUZ PRÓPRIA.
ELA RECEBE A LUZ E O CALOR DO SOL.

1- QUAL É O NOME DO PLANETA EM QUE VIVEMOS?

--

2- RETIRE DO TEXTO E ANOTE 3 PALAVRAS QUE COMEÇAM COM A LETRA P.

3- RETIRE 3 PALAVRAS QUE TEM 3 LETRAS.

4- ESCREVA O NUMEROS DE LETRAS DE CADA PALAVRA.

TERRA	
ANIMAIS	
RECEBE	



Escola Municipal Carlos Chagas E.I.E.F

Rua: Munhoz de Melo nº78 Centro Fone (44) 3434- 1163

CEP: 87840-000 Mirador-PR

E-mail- escola@mirador.pr.gov.br – E-mail:escolacarloschagasmira@gmail.com

PROFESSORA: JANETHE TIVERON

3º ANO- A 9º QUINZENA

ALUNO(A)



Escola Municipal Carlos Chagas E.I.E.F

Rua: Munhoz de Melo nº78 Centro Fone (44) 3434- 1163

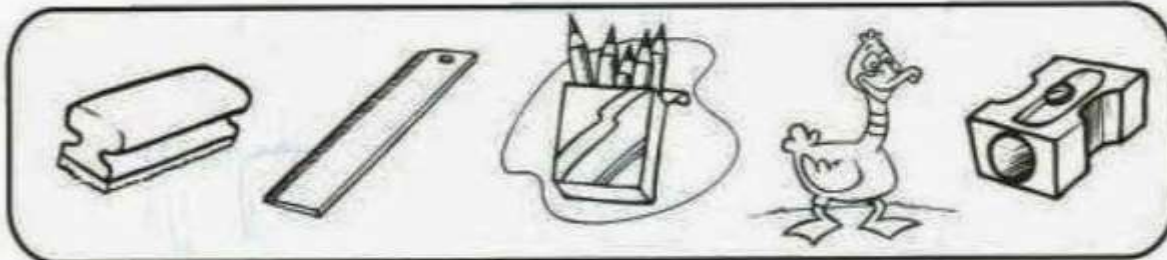
CEP: 87840-000 Mirador-PR

E-mail- escola@mirador.pr.gov.br – E-mail:escolacarloschagasmira@gmail.com

PROFESSORA: JANETHE TIVERON
ALUNO(A)

3º ANO- A 9º QUINZENA

1) Risque o 3º objeto e circule o 5º objeto.



2) Complete a seqüência numérica:

60				64					70
	72					77			80
		84						90	
			96		98		100		

3) Coloque os números abaixo na ordem crescente:

89 – 21 – 56 – 2 – 78 – 34 – 12 - 90

4) Dê o antecessor e o sucessor:

_____ 77 _____ _____ 91 _____ _____ 83 _____

5) Complete os quadros com as quantidades de dezenas e unidades.

Dezenas	Unidades
♥♥♥♥♥	♥♥♥
_____	_____

Dezenas	Unidades
♦♦♦♦♦♦	♦♦♦♦
_____	_____



Escola Municipal Carlos Chagas E.I.E.F
Rua: Munhoz de Melo nº78 Centro Fone (44) 3434- 1163
CEP: 87840-000 Mirador-PR
E-mail- escola@mirador.pr.gov.br – E-mail: escolacarloschagasmira@gmail.com

PROFESSORA: JANETHE TIVERON
ALUNO(A)

3º ANO- A 9º QUINZENA

COMPONENTE CURRICULAR: LÍNGUA PORTUGUESA E MATEMÁTICA

07/06/2021 SEGUNDA-FEIRA



Passado e Futuro



No passado eles foram.

No futuro eles irão.

Agora marque a coluna de acordo com o tempo do verbo.

	Verbos	am	ão	Escrita correta
Ontem eles:	Brincar...			
	Ler...			
	Dormir...			
	Comer...			
	Estudar...			
	Passear...			
	Pular...			
	Cantar...			
Amanhã eles:	Brincar...			
	Ler...			
	Dormir...			
	Comer...			
	Estudar...			
	Passear...			
	Pular...			
	Cantar...			



Escola Municipal Carlos Chagas E.I.E.F
 Rua: Munhoz de Melo nº78 Centro Fone (44) 3434- 1163
 CEP: 87840-000 Mirador-PR


E-mail- escola@mirador.pr.gov.br – E-mail: escolacarloschagasmira@gmail.com

PROFESSORA: JANETHE TIVERON
 ALUNO(A)

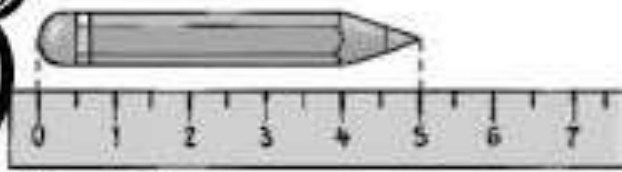
3º ANO- A 9º QUINZENA

CENTÍMETROS

QUAL A MEDIDA? OBSERVE E COMPLETE:



CENTÍMETROS



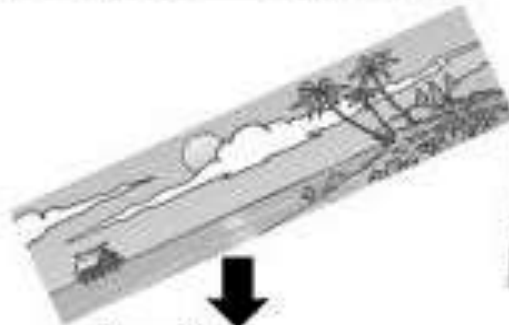
CENTÍMETROS

UTILIZE SUA RÉGUA E COMPLETE:



LARGURA: CENTÍMETROS

COMPRIMENTO: CENTÍMETROS



LARGURA: CENTÍMETROS

COMPRIMENTO: CENTÍMETROS



LARGURA: CENTÍMETROS

COMPRIMENTO: CENTÍMETROS



Escola Municipal Carlos Chagas E.I.E.F
Rua: Munhoz de Melo nº78 Centro Fone (44) 3434- 1163
CEP: 87840-000 Mirador-PR


E-mail- escola@mirador.pr.gov.br – E-mail: escolacarloschagasmira@gmail.com

PROFESSORA: JANETHE TIVERON
ALUNO(A)


3º ANO- A 9º QUINZENA

COMPONENTE CURRICULAR: LÍNGUA PORTUGUESA E MATEMÁTICA

09/06/2021 QUARTA-FEIRA



1) Pinte os produtos que podem ser comprados a quilo.



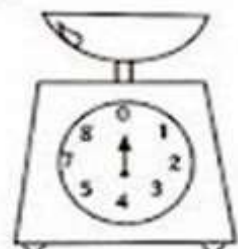
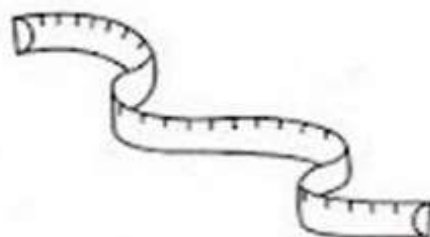
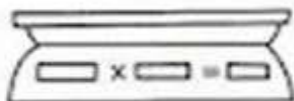
2) Marque um X nos produtos que podem ser comprados a quilo.



- frutas
- refrigerante
- cebola
- sabão
- peixe

- maçãs
- leite
- carne
- batata
- fitas

3) Pinte os instrumentos usados para medir o peso dos alimentos.





Escola Municipal Carlos Chagas E.I.E.F

Rua: Munhoz de Melo nº78 Centro Fone (44) 3434- 1163

CEP: 87840-000 Mirador-PR

E-mail- escola@mirador.pr.gov.br – E-mail:escolacarloschagasmira@gmail.com

PROFESSORA: JANETHE TIVERON
ALUNO(A)

3º ANO- A 9º QUINZENA

COMPONENTE CURRICULAR: GEOGRAFIA E CIÊNCIAS

10/06/2021 QUINTA-FEIRA

LIGUE COM SETAS A MATÉRIA PRIMA AO SEU PRODUTO INDUSTRIALIZADO:



ALGODÃO



CACAU



CANA DE AÇÚCAR



LÁTEX



MADEIRA



PETRÓLEO





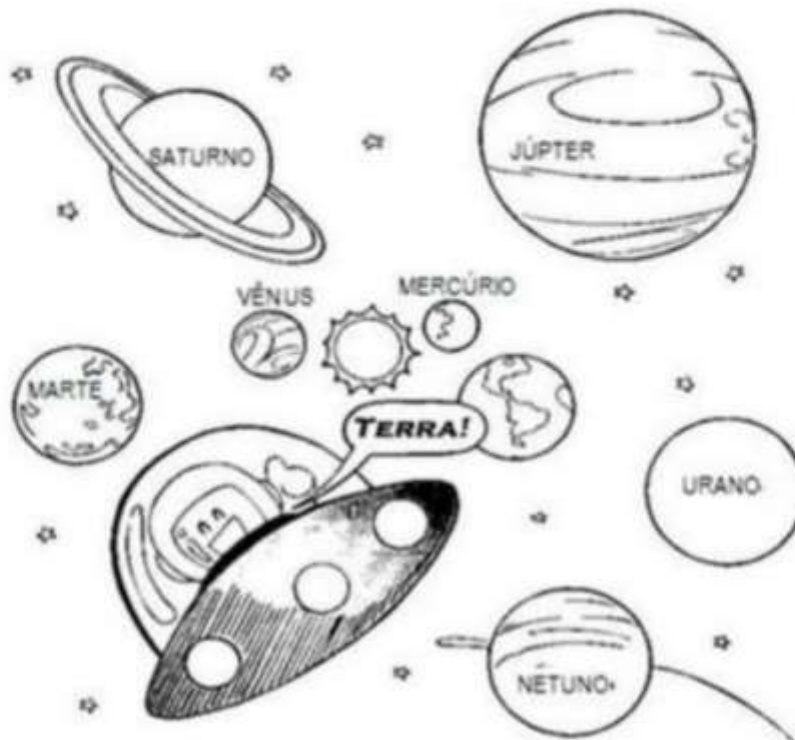
Escola Municipal Carlos Chagas E.I.E.F
Rua: Munhoz de Melo nº78 Centro Fone (44) 3434- 1163
CEP: 87840-000 Mirador-PR

E-mail- escola@mirador.pr.gov.br – E-mail: escolacarloschagasmira@gmail.com

PROFESSORA: JANETHE TIVERON
ALUNO(A)

3º ANO- A 9º QUINZENA

O Sistema Solar



O sistema solar é composto pelo Sol, planetas, seus satélites, e os chamados pequenos corpos celestes que são: asteroides, cometas, meteoros entre outros. Todos esses corpos celestes giram em torno do Sol.

O Sol é a estrela mais próxima da Terra. As outras bilhões de estrelas que compõem o universo estão tão distantes que vemos apenas à noite como pequenos pontos de luz.

Os oito planetas que fazem parte do sistema solar são: Mercúrio, Vênus, Terra, Marte, Júpiter, Saturno e Netuno. Importante lembrar aqui, que até agosto de 2006, Plutão era considerado o nono planeta, desde então, passou a ser classificado como planeta anão.

Os planetas menores e mais próximos do Sol são compostos de rochas e metais, são eles: Mercúrio, Vênus, Terra e Marte. Os planetas maiores e mais distantes do Sol são compostos na sua maior parte de gases, são eles: Júpiter, Saturno, Urano e Netuno.



Escola Municipal Carlos Chagas E.I.E.F

Rua: Munhoz de Melo nº78 Centro Fone (44) 3434- 1163

CEP: 87840-000 Mirador-PR

E-mail- escola@mirador.pr.gov.br – E-mail:escolacarloschagasmira@gmail.com

PROFESSORA: JANETHE TIVERON

3º ANO- A 9º QUINZENA

ALUNO(A)


ATIVIDADES

Use dos seus conhecimentos prévios e assinale todas as alternativas corretas sobre o Sol.

1. O Sol é:

muito quente

muito frio



2. O Sol é:

uma estrela

um planeta

uma galáxia

3. O Sol se posiciona

do lado do Sistema Solar

no centro do Sistema Solar

4. O planeta mais próximo do Sol é:

a Terra

Plutão

Mercúrio

5. Um eclipse solar ocorre quando:

a Lua se interpõe entre a Terra e o Sol.

Sol, Terra e Lua se alinham, estando a Terra no meio dos dois.

O Sol fica entre a Terra e a Lua



Escola Municipal Carlos Chagas E.I.E.F
 Rua: Munhoz de Melo nº78 Centro Fone (44) 3434- 1163
 CEP: 87840-000 Mirador-PR

E-mail- escola@mirador.pr.gov.br – E-mail: escolacarloschagasmira@gmail.com

PROFESSORA: JANETHE TIVERON
ALUNO(A)


3º ANO- A 9º QUINZENA

COMPONENTE CURRICULAR: LÍNGUA PORTUGUESA E MATEMÁTICA

11/06/2021 SEXTA-FEIRA

VERBO-TEMPO-PRESENTE

Observe no modelo abaixo a conjugação do verbo no tempo presente e complete o restante de acordo com o que se pede:



Verbo: estudar

Eu estudo

Tu estudas

Ele (Ela) estuda

Nós estudamos

Vós estudais

Eles (elas) estudam



Verbo: cantar

Eu _____

Tu _____

Ele (Ela) _____

Nós _____

Vós _____

Eles (elas) _____



Verbo: correr

Eu _____


Tu _____

Ele (Ela) _____

Nós _____

Vós _____

Eles (elas) _____



Verbo: partir

Eu _____

Tu _____

Ele (Ela) _____

Nós _____

Vós _____

Eles (elas) _____





Escola Municipal Carlos Chagas E.I.E.F
Rua: Munhoz de Melo nº78 Centro Fone (44) 3434- 1163
CEP: 87840-000 Mirador-PR

E-mail- escola@mirador.pr.gov.br – E-mail:escolacarloschagasmira@gmail.com


PROFESSORA: JANETHE TIVERON
ALUNO(A)

3º ANO- A 9º QUINZENA

1- CIRCULE OS PRODUTOS QUE COMPRAMOS A METRO.



2- PINTE OS PRODUTOS QUE COMPRAMOS A LITRO.



3- MARQUE COM UM X O QUE PODEMOS COMPRAR A QUILO.

