



Escola Municipal Carlos Chagas E.I.E.F
Localização: Rua Munhoz de Melo nº78 Centro
CEP: 87840-000 Mirador-PR Fone (44) 3434-8042
E-mail- escola@mirador.pr.gov.br – E-mail:escolacarloschagasmira@gmail.com

13ª QUIZENA 09/08/2021 À 20/08/2021

Turma: 3º ANO

Nome do aluno (a):

Professora: Edivânia da Silva Ferreira Carvalho

ESCOLAR MUNICIPAL CARLOS CHAGAS E.F.E.I.

13ª ETAPA ATIVIDADES DOMICIARES





Escola Municipal Carlos Chagas E.I.E.F
Localização: Rua Munhoz de Melo nº78 Centro
CEP: 87840-000 Mirador-PR Fone (44) 3434-8042
E-mail- escola@mirador.pr.gov.br – E-mail:escolacarloschagasmira@gmail.com

13ª QUIZENA 09/08/2021 À 20/08/2021

Turma: 3º ANO

Nome do aluno (a):

Professora: Edivânia da Silva Ferreira Carvalho

COMPONENTE CURRICULAR DE LÍNGUA PORTUGUESA 09/08/2021

1º DIA

OLÁ CRIANÇAS TUDO BEM??? ESPERO MUITO QUE SIM, QUANTAS COISAS JÁ APRENDEMOS JUNTOS, EM AGORA É DE RELEBRARMOS UM POUCO, SOBRE O QUE É LETRA CURSIVA. LETRA CURSIVA É A LETRA MANUSCRITA OU LETRA DE MÃO. E AI LEMBRO???

VAMOS LER E PRÁTICAR UM POUCO!!!

1º - PASSE AS FRASES ABAIXO PARA O MANUSCRITO (LETRA DE MÃO).

A. ANA GOSTA MUITO DE BRINCAR DE BONECA.

B. BETO E FELIPE AMAM SORVETES.

C. CARLINHOS É MUITO ESPERTO.

D. EDUARDO É MUITO TEIMOSO.

E. FELIZ É O NOME DO CACHORRINHO DE FERNANDA.



Escola Municipal Carlos Chagas E.I.E.F
Localização: Rua Munhoz de Melo nº78 Centro
CEP: 87840-000 Mirador-PR Fone (44) 3434-8042
E-mail- escola@mirador.pr.gov.br – E-mail: escolacarloschagasmira@gmail.com

13ª QUIZENA 09/08/2021 À 20/08/2021

Turma: 3º ANO

Nome do aluno (a):

Professora: Edivânia da Silva Ferreira Carvalho

COMPONENTE CURRICULAR DE MATEMÁTICA 09/08/2021

1º DIA

GRÁFICOS

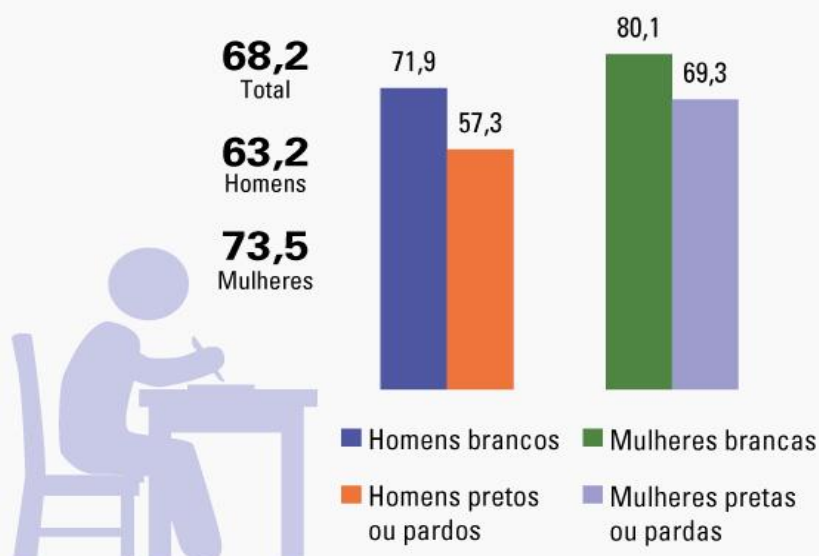
O QUE SÃO GRÁFICOS?

GRÁFICO É UMA REPRESENTAÇÃO GEOMÉTRICA DE UM CONJUNTO DE DADOS USADA PARA FACILITAR A COMPREENSÃO DAS INFORMAÇÕES APRESENTADAS NESSE CONJUNTO. É NECESSÁRIO SABER DO QUE SE TRATA O GRÁFICO, PARA FACILITAR A COMPREENSÃO É MUITO IMPORTANTE OBSERVAR A LEGENDA.

O GRÁFICO ABAIXO MOSTRA A FREQUÊNCIA ESCOLAR NO ENSINO MÉDIO POR SEXO, COR OU RAÇA.

FAÇA A LEITURA DO GRÁFICO COM MUITA ATENÇÃO.

Taxa de frequência escolar líquida ajustada no ensino médio, por sexo e cor ou raça (%)



Fonte: IBGE, Pesquisa Nacional por Amostra de Domicílios Contínua 2016.



Escola Municipal Carlos Chagas E.I.E.F
Localização: Rua Munhoz de Melo nº78 Centro
CEP: 87840-000 Mirador-PR Fone (44) 3434-8042
E-mail- escola@mirador.pr.gov.br – E-mail: escolacarloschagasmira@gmail.com

13ª QUIZENA 09/08/2021 À 20/08/2021

Turma: 3º ANO

Nome do aluno (a):

Professora: Edivânia da Silva Ferreira Carvalho

COMPONENTE CURRICULAR DE LÍNGUA PORTUGUESA 11/08/2021

3º DIA

GÊNERO TEXTUAL RECEITA CULINÁRIA

UMA **RECEITA CULINÁRIA**, POR EXEMPLO, POSSUI UMA LISTA DE INGREDIENTES NECESSÁRIOS PARA O PREPARO (**TEXTO DESCRITIVO**) E O MODO DE PREPARO (**TEXTO INJUNTIVO**). CARACTERÍSTICAS COMUNS PRESENTES EM TEXTOS QUE CUMPREM A MESMA FINALIDADE.

TODA **RECEITA CULINÁRIA** DEVE CONTAR COM: **TÍTULO, INGREDIENTES E MODO DE PREPARO**. A **RECEITA CULINÁRIA** FAZ PARTE DO GÊNERO TEXTUAL INSTRUTIVO, ISTO É, TEM O INTUITO DE ENSINAR ALGUÉM A REALIZAR ÀQUELA AÇÃO. AS **RECEITAS CULINÁRIAS** APRESENTAM UM TÍTULO: EX: COMO FAZER UM MINGAU DE AVEIA.

PAÇOCA CASEIRA CREMOSA

INGREDIENTES

500 GRAMAS DE AMENDOIM
1 CAIXINHA DE LEITE CONDENSADO
E MEIA XICARÁ DE AÇUCAR



MODO DE PREPARO

1. BATER O AMENDOIM NO LIQUIDIFICADOR E DEPOIS COLOCAR EM OUTRA VASILHA E MISTURAR COM O LEITE CONDENSADO E O AÇÚCAR.
2. COLOCAR EM UMA FORMA RETANGULAR E LEVAR A GELADEIRA, POR 4 HORAS.
3. NA HORA DE SERVIR DISTRIBUA EM TAÇAS OU POTES.

1º - QUAL GÊNERO TEXTUAL ESTAMOS ESTUDANDO ACIMA?



Escola Municipal Carlos Chagas E.I.E.F
Localização: Rua Munhoz de Melo nº78 Centro
CEP: 87840-000 Mirador-PR Fone (44) 3434-8042
E-mail- escola@mirador.pr.gov.br – E-mail:escolacarloschagasmira@gmail.com

13ª QUIZENA 09/08/2021 À 20/08/2021

Turma: 3º ANO

Nome do aluno (a):

Professora: Edivânia da Silva Ferreira Carvalho

A LETRA C PODE TER SOM DE:

SOM DE /K/ EM CACO / COCADA.	SOM DE /S/ EM CEBOLA / CINTO.	Ç SOM DE /S/ /SS/ EM CAÇA / MOÇO.
SEGUIDOS DAS VOGAIS A, O, U.	SEGUIDOS DAS VOGAIS E, I	SEGUIDOS DAS VOGAIS A, O, U.

USO DO Ç

A CEDILHA É UM SINAL DIACRÍTICO USADO DEBAIXO DA **LETRA C**. ELA APRESENTA A SONORIDADE DE **SS** E **S**, E A SEGUINTE FORMA: **Ç**. UMA REGRA CLARA PARA O USO DO **Ç** É QUE ELA NUNCA PODE INICIAR PALAVRAS E É USADA SEMPRE ANTES DAS VOGAIS **A, O** E **U**. JUNTO ÀS VOGAIS **E** E **I**, USA-SE APENAS A **LETRA C**.

APÓS A LEITURA DOS TEXTOS ACIMA VAMOS RESPONDER.

1º - NA PALAVRA **AÇUCAR** O USO **Ç** ESTÁ:

- A. () CORRETO POR OBEDECER A REGRA DAS VOGAIS, **A, O** E **U**, E POR NÃO ESTAR INICIANDO PALAVRA.
- B. () ERRADO, POIS NESSE CASO NÃO SE USA **Ç**.
- C. () CORRETO, POIS NESSA PALAVRA O **Ç** TEM SOM DE **Q**.
- D. () ERRADO, PORQUE A PALAVRA SE ESCREVE COM **SS**.

2º - LEIAS AS FRASES ABAIXO, OBSERVANDO AS LETRAS DESTACADAS.

- A. DELÍ**Ç**IA DE ALFA**Ç**E.
- B. VOLTE AQUI HOR**Ç**IO.

QUE VOGAIS VEM ANTES DA LETRA **Ç** NESSAS PALAVRAS.



Escola Municipal Carlos Chagas E.I.E.F
Localização: Rua Munhoz de Melo nº78 Centro
CEP: 87840-000 Mirador-PR Fone (44) 3434-8042
E-mail- escola@mirador.pr.gov.br – E-mail:escolacarloschagasmira@gmail.com

13ª QUIZENA 09/08/2021 À 20/08/2021

Turma: 3º ANO

Nome do aluno (a):

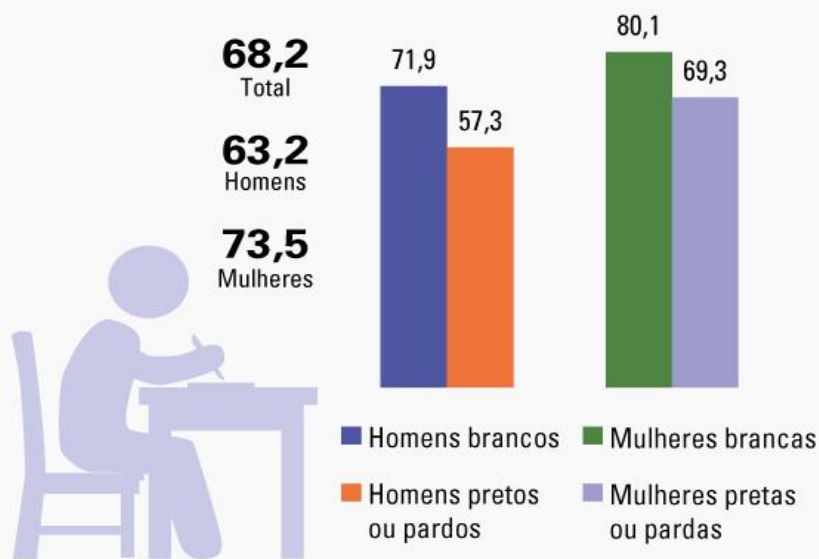
Professora: Edivânia da Silva Ferreira Carvalho

COMPONENTE CURRICULAR DE MATEMÁTICA 11/08/2021

3º DIA

OBSERVANDO O GRÁFICO RESPONDA:

Taxa de frequência escolar líquida ajustada no ensino médio, por sexo e cor ou raça (%)



Fonte: IBGE, Pesquisa Nacional por Amostra de Domicílios Contínua 2016.

1º - DÊ ACORDO O GRÁFICO QUEM POSSUI MAIOR ESCOLARIDADES.

- A. () MULHERES BRANCAS
- B. () HOMENS NEGROS OU PARDOS
- C. () HOMENS BRANCOS
- D. () MULHERES NEGRAS OU PARDAS



Escola Municipal Carlos Chagas E.I.E.F
Localização: Rua Munhoz de Melo nº78 Centro
CEP: 87840-000 Mirador-PR Fone (44) 3434-8042
E-mail- escola@mirador.pr.gov.br – E-mail:escolacarloschagasmira@gmail.com

13ª QUIZENA 09/08/2021 À 20/08/2021

Turma: 3º ANO

Nome do aluno (a):

Professora: Edivânia da Silva Ferreira Carvalho

COMPONENTE CURRICULAR DE CIÊNCIAS 12/08/2021

4º DIA



PERCEÇÃO DO SOM

O QUE É SOM?

O SOM É UMA ONDA CAPAZ DE PROPAGAR-SE PELO AR E POR OUTROS MEIOS A PARTIR DA **VIBRAÇÃO** DE SUAS MOLÉCULAS. OS SONS SÃO PERCEBIDOS POR NÓS QUANDO ELES INCIDEM SOBRE O NOSSO APARELHO AUDITIVO, QUE SÃO TRADUZIDOS EM ESTÍMULOS ELÉTRICOS E DIRECIONADOS AO NOSSO CÉREBRO, QUE OS INTERPRETA.

POLUIÇÃO SONORA



A **POLUIÇÃO SONORA** OCORRE QUANDO UM SOM ULTRAPASSA O LIMITE AUDITIVO NORMAL, E PODE CAUSAR DIVERSOS DANOS À SAÚDE DO SER HUMANO COMO O ESTRESSE E A INSÔNIA.

DEPOIS DA LEITURA DOS TEXTOS RESPONDA À QUESTÃO.



Escola Municipal Carlos Chagas E.I.E.F
Localização: Rua Munhoz de Melo nº78 Centro
CEP: 87840-000 Mirador-PR Fone (44) 3434-8042
E-mail- escola@mirador.pr.gov.br – E-mail: escolacarloschagasmira@gmail.com

13ª QUIZENA 09/08/2021 À 20/08/2021

Turma: 3º ANO

Nome do aluno (a):

Professora: Edivânia da Silva Ferreira Carvalho

1º - QUANDO OCORRE A POLUIÇÃO SONORA?

PRODUÇÃO DO SOM EM DIFERENTES OBJETOS

O SOM OBTIDO AO BATER COM UMA COLHER DE MADEIRA NUM COPO DE VIDRO OU NUM LIVRO COM MUITAS PÁGINAS, POR EXEMPLO, SERÁ **DIFERENTE** PELA DIFERENÇA, ENTRE A VIBRAÇÃO DE CADA TIPO DE MATERIAL. A VIBRAÇÃO DO **OBJETO**, MESMO QUE IMPERCEPTÍVEL AOS NOSSOS OLHOS, CAUSARÁ VIBRAÇÃO NO AR, **PRODUZINDO** O SOM. O SOM É **PRODUZIDO** POR VIBRAÇÕES TRANSMITIDAS PARA O AR. ESSAS VIBRAÇÕES GERAM REGIÕES DE COMPRESSÃO DE ACORDO COM A FREQUÊNCIA DA FONTE QUE PRODUZ AS VIBRAÇÕES.



TELEFONE



TELEVISÃO



RELÓGIO



LIQUIDIFICADOR



CHUVEIRO



DESCARGA

CADA OBJETO POSSUI SEU SOM, ENTENDEMOS ISSO ATÉ AQUI. OBSERVE A IMAGEM E RESPONDA.

2º - QUAIS DOS OBJETOS ACIMA POSSUI MENOR SOM RISQUE **COM UM X** E ESCREVA O NOME ABAIXO?



Escola Municipal Carlos Chagas E.I.E.F
Localização: Rua Munhoz de Melo nº78 Centro
CEP: 87840-000 Mirador-PR Fone (44) 3434-8042
E-mail- escola@mirador.pr.gov.br – E-mail:escolacarloschagasmira@gmail.com

13ª QUIZENA 09/08/2021 À 20/08/2021

Turma: 3º ANO

Nome do aluno (a):

Professora: Edivânia da Silva Ferreira Carvalho

COMPONENTE CURRICULAR DE GEOGRAFIA 12/08/2021

4º DIA

PAISAGEM NATURAL



PAISAGEM NATURAL É UM AMBIENTE COMPOSTO PELOS ELEMENTOS DA NATUREZA E QUE NÃO SOFREU INTERVENÇÃO HUMANA, MANTENDO CONSERVADAS SUAS CARACTERÍSTICAS TÍPICAS.

FLORESTAS DENSAS E VIRGENS, OS TOPOS DAS MONTANHAS E OS DESERTOS SÃO **EXEMPLOS** DE AMBIENTES COM **PAISAGENS NATURAIS**, POIS SOFRERAM COM POUCA OU NENHUMA ALTERAÇÃO FEITA PELOS SERES HUMANOS.

PAISAGEM MODIFICADA





Escola Municipal Carlos Chagas E.I.E.F
Localização: Rua Munhoz de Melo nº78 Centro
CEP: 87840-000 Mirador-PR Fone (44) 3434-8042
E-mail- escola@mirador.pr.gov.br – E-mail:escolacarloschagasmira@gmail.com

13ª QUIZENA 09/08/2021 À 20/08/2021

Turma: 3º ANO

Nome do aluno (a):

Professora: Edivânia da Silva Ferreira Carvalho

A **PAISAGEM MODIFICADA**, HUMANIZADA OU ARTIFICIAL É AQUELA EM QUE OCORREU A INTERFERÊNCIA HUMANA. TAMBÉM CHAMADA DE AMBIENTE **MODIFICADO**, ELA É PERCEPTÍVEL UMA VEZ QUE SE DISTINGUE DA **PAISAGEM** (OU AMBIENTE) NATURAL, ONDE AS AÇÕES HUMANAS SÃO INEXISTENTES.

DE UMA FORMA SIMPLES **PAISAGEM NATURAL** É AQUELA QUE NÃO FOI **MODIFICADA** PELO SER HOMEM, EXEMPLO: MONTANHAS, RIOS, LAGOS, FLORESTAS E CAMPOS E ETC. A **PAISAGEM MODIFICADO** OU **SOCIAL** É AQUELA QUE FOI **MODIFICADA** PELO HOMEM, EXEMPLO: ESTRADAS, PRÉDIOS, RUAS E PLANTAÇÕES.

APÓS A LEITURA DO TEXTO VAMOS RESPONDER:


1º - SÃO EXEMPLOS DE **PAISAGEM MODIFICADA**, QUE VEMOS A AÇÃO DO HOMEM:

- A. () MONTANHAS E RIOS.
- B. () DESERTOS E FLORESTAS.
- C. () LAGOS E CAMPOS.
- D. () PRÉDIOS, CASAS, RUAS E GRANDES SUPERMERCADOS.

2º - OBSERVE A IMAGEM ABAIXO, EM SEGUIDA RESPONDA.

IMAGEM 1

IMAGEM 2



QUAL DAS IMAGENS ACIMA É UM EXEMPLO DE PAISAGEM MODIFICADO:

- A. () IMAGEM 1
- B. () IMAGEM 2



Escola Municipal Carlos Chagas E.I.E.F
Localização: Rua Munhoz de Melo nº78 Centro
CEP: 87840-000 Mirador-PR Fone (44) 3434-8042
E-mail- escola@mirador.pr.gov.br – E-mail:escolacarloschagasmira@gmail.com

13ª QUIZENA 09/08/2021 À 20/08/2021

Turma: 3º ANO

Nome do aluno (a):

Professora: Edivânia da Silva Ferreira Carvalho

COMPONENTE CURRICULAR DE LÍNGUA PORTUGUESA 13/08/2021

5º DIA

OS ADVÉRBIOS

NAS ÚLTIMAS QUINZENA APRENDERMOS O QUE É VERBO. SÓ PARA RETOMARMOS: VERBO É UMA CLASSE GRAMATICAL DE PALAVRAS QUE NORMALMENTE TÊM SIGNIFICADO DE AÇÃO, MUDANÇA DE ESTADO OU FENÔMENO DA NATUREZA, E QUE VARIAM EM RELAÇÃO AO TEMPO (PASSADO, PRESENTE E FUTURO).

JÁ OS ADVÉRBIOS SÃO PALAVRAS QUE MODIFICAM O VERBO, UM ADJETIVO OU OUTRO ADVÉRBIO.

EXISTE ADVÉRBIOS DE MODO, INTENSIDADE, LUGAR, TEMPO, NEGAÇÃO, AFIRMAÇÃO E DÚVIDA.

SÃO ADVÉRBIOS DE LUGAR:

ABAIXO, ACIMA, ADIANTE, AÍ, ALÉM, ALI, AQUÉM, AQUI, ATRÁS, ATRAVÉS, CÁ, DEFRONTE, DENTRO, DETRÁS, FORA, JUNTO, LÁ, LONGE, ONDE, PERTO, ETC.

SÃO ADVÉRBIOS DE TEMPO: AGORA, AINDA, AMANHÃ, ANTEONTEM, ANTES, BREVE, CEDO, DEPOIS, ENTÃO, HOJE, JÁ, JAMAIS, LOGO, NUNCA, ONTEM, OUTRORA, SEMPRE, TARDE, ETC.

1º - LEIA A TIRINHA A SEGUIR:





Escola Municipal Carlos Chagas E.I.E.F
Localização: Rua Munhoz de Melo nº78 Centro
CEP: 87840-000 Mirador-PR Fone (44) 3434-8042
E-mail- escola@mirador.pr.gov.br – E-mail:escolacarloschagasmira@gmail.com

13ª QUIZENA 09/08/2021 À 20/08/2021

Turma: 3º ANO

Nome do aluno (a):

Professora: Edivânia da Silva Ferreira Carvalho

EM SEGUIDA RESPONDA:

NO TERCEIRO QUADRINHO A PALAVRA HOJE REPRESENTA UM **ADVÉRBIO DE:**

- A. () DE TEMPO
- B. () DE MODO
- C. () DE LUGAR
- D. () DE AFIRMAÇÃO

2º - O HUMOR DA TIRINHA ESTÁ:

- A. () ESTÁ NA EXPRESSÃO DOS PERSONAGEM.
- B. () NO TERCEIRO QUADRINHO ONDE O PERSONAGEM JON FALA “HOJE FOI A PIOR MANHÃ DA MINHA VIDA” E GARFIELDE RESPONDE. “**POIS É, GERALMENTE EU NÃO ACORDO TÃO CEDO**”.
- C. () ESTÁ NO PRIMEIRO QUADRINHO NA FALA DO PERSONAGEM EM DIZER “QUE O DIA ESTÁ MELHORANDO”.
- D. () DA AFIRMAÇÃO DE QUE AQUELA FOI A PIOR MANHÃ DA VIDA DO PERSONAGEM.

3º - COMPLETE AS FRASES COM OS ADVÉRBIO DE LUGAR; EM DESTAQUE EM SEGUIDA REESCREVA A FRASE FAZENDO USO DA LETRA CURSIVA (**LETRA DE MÃO**).

VAMOS PRATICAR!!!

A. O GATO ESTÁ _____ DA ÁRVORE. (**ATRÁS**)

B. A CASA DE FERNANDO FICA _____ DO LAGO. (**DEFRENTE**)

C. ANA MORA _____ DA ESCOLA. (**PERTO**)



Escola Municipal Carlos Chagas E.I.E.F
Localização: Rua Munhoz de Melo nº78 Centro
CEP: 87840-000 Mirador-PR Fone (44) 3434-8042
E-mail- escola@mirador.pr.gov.br – E-mail:escolacarloschagasmira@gmail.com

13ª QUIZENA 09/08/2021 À 20/08/2021

Turma: 3º ANO

Nome do aluno (a):

Professora: Edivânia da Silva Ferreira Carvalho

COMPONENTE CURRICULAR DE MATEMÁTICA 13/08/2021

5º DIA

NÚMEROS POR EXTENSO

NÚMEROS POR EXTENSO SÃO ESCRITOS EM PALAVRAS E NÃO EM NÚMEROS. POR EXEMPLO: UM, DOZE, QUATORZE, CEM **NÚMEROS CARDINAIS**. OU PRIMEIRO, DÉCIMO SEGUNDO, DÉCIMO QUARTO, CENTÉSIMO, **NÚMEROS ORDINAIS**, COMO VIMOS NA ÚLTIMA QUINZENA, NÚMEROS CARDINAIS DÃO IDEIA DE ORDEM.

CARDINAIS			ORDINAIS	
Arábicos	Romanos	Por extenso	Símbolo	Por extenso
0		zero		
1	I	um	1º	primeiro
2	II	dois	2º	segundo
3	III	três	3º	terceiro
4	IV	quatro	4º	quarto
5	V	cinco	5º	quinto
6	VI	seis	6º	sexto
7	VII	sete	7º	sétimo
8	VIII	oito	8º	oitavo
9	IX	nove	9º	nono
10	X	dez	10º	décimo
11	XI	onze	11º	décimo primeiro
12	XII	doze	12º	décimo segundo
13	XIII	treze	13º	décimo terceiro
14	XIV	quatorze	14º	décimo quarto
15	XV	quinze	15º	décimo quinto
16	XVI	dezesseis	16º	décimo sexto
17	XVII	dezessete	17º	décimo sétimo
18	XVIII	dezoito	18º	décimo oitavo
19	XIX	dezenove	19º	décimo nono
20	XX	vinte	20º	vigésimo
30	XXX	trinta	30º	trigésimo
40	XL	quarenta	40º	quadragésimo
50	L	cinquenta	50º	quingentésimo
60	LX	sessenta	60º	sexagésimo
70	LXX	setenta	70ª	septuagésimo
80	LXXX	oitenta	80º	octogésimo
90	XC	noventa	90º	nonagésimo
100	C	cem	100º	centésimo
101	CI	cento e um	101º	centésimo primeiro
200	CC	duzentos	200º	ducentésimo
300	CCC	trezentos	300º	trecentésimo
400	CD	quatrocentos	400º	quadringentésimo
500	D	quinhentos	500º	quingentésimo
600	DC	seiscentos	600º	sexcentésimo
700	DCC	setecentos	700º	setingentésimo
800	DCCC	oitocentos	800º	octingentésimo
900	CM	novecentos	900º	noningentésimo
1000	M	mil	1000º	milésimo

1º - OBSERVE A TABELA AO LADO E ESCREVA O SE PEDE:

NÚMEROS POR EXTENSO
CARDINAIS.

1 _____

2 _____

3 _____

4 _____

5 _____

6 _____

7 _____

8 _____

9 _____

10 _____

11 _____



Escola Municipal Carlos Chagas E.I.E.F
Localização: Rua Munhoz de Melo nº78 Centro
CEP: 87840-000 Mirador-PR Fone (44) 3434-8042
E-mail- escola@mirador.pr.gov.br – E-mail:escolacarloschagasmira@gmail.com

13ª QUIZENA 09/08/2021 À 20/08/2021

Turma: 3º ANO

Nome do aluno (a):

Professora: Edivânia da Silva Ferreira Carvalho

COMPONENTE CURRICULAR DE ENSINO RELIGIOSO 13/08/2021

5º DIA

FESTA RELIGIOSAS CRISTÃ

NATAL OU NASCIMENTO



A PÁSCOA OU RESSURREIÇÃO



MARCHA PARA JESUS



UMA FESTIVIDADE RELIGIOSA É UM MOMENTO OU DATA DE ESPECIAL IMPORTÂNCIA PARA OS ADEPTOS DE UMA DETERMINADA RELIGIÃO. RELIGIOSIDADE É UM DOS TRAÇOS MAIS EVIDENTES NA CULTURA DO POVO BRASILEIRO. NOSSO POVO FAZEM PROCISSÕES E ROMARIAS PARA HOMENAGEAR SEUS SANTOS DE DEVOÇÃO. FESTA DOS SANTOS REIS, SEMANA SANTAS, PASCOÁ, NATAL, MARCHA PARA JESUS SÃO EXEMPLO DE FESTAS DO CRISTIANISMO.

FESTA RELIGIOSAS DE ORIGEM AFRICANAS

DE CUNHO RELIGIOSO, A FESTA DE IEMANJÁ É A PRINCIPAL FESTA, E É COMEMORADA POR TODO O PAÍS, COM A ENTREGA DAS OFERENDAS PARA A RAINHA DO MAR NAS PRAIAS.

APÓS A LEITURA DO TEXTO RESPONDA:

1º - QUAL A PRINCIPAL FESTA DE ORIGEM AFRICANA.

A. () A FESTA DE IEMANJÁ

B. () A FESTA DE PÁSCOA





Escola Municipal Carlos Chagas E.I.E.F
Localização: Rua Munhoz de Melo nº78 Centro
CEP: 87840-000 Mirador-PR Fone (44) 3434-8042
E-mail- escola@mirador.pr.gov.br – E-mail:escolacarloschagasmira@gmail.com

13ª QUIZENA 09/08/2021 À 20/08/2021

Turma: 3º ANO

Nome do aluno (a):

Professora: Edivânia da Silva Ferreira Carvalho

COMPONENTE CURRICULAR DE LÍNGUA PORTUGUESA 16/08/2021

2ª AVALIAÇÃO

6º DIA

RELEMBRANDO O USO DO ADVÉRBIO.

1º - INDIQUE A IDÉIA QUE O ADVÉRBIO EM DESTAQUE ACRESCENTA AO VERBO:

1. JESUS NASCEU **LÁ** EM NAZARÉ.

A. () MODO

B. () LUGAR

2. A PÁSCOA É UMAS FESTA **MUITO** COMEMORADA.

A. () INTENSIDADE

B. () MODO

2º - ESCREVA 1 FRASE COM:

ADVÉRBIO DE MODO

ADVÉRBIO DE LUGAR



Escola Municipal Carlos Chagas E.I.E.F
Localização: Rua Munhoz de Melo nº78 Centro
CEP: 87840-000 Mirador-PR Fone (44) 3434-8042
E-mail- escola@mirador.pr.gov.br – E-mail:escolacarloschagasmira@gmail.com

13ª QUIZENA 09/08/2021 À 20/08/2021

Turma: 3º ANO

Nome do aluno (a):

Professora: Edivânia da Silva Ferreira Carvalho

COMPONENTE CURRICULAR DE MATEMÁTICA

6º DIA

VAMOS LER E RESOLVER ALGUMAS SITUAÇÕES PROBLEMAS:

1º - EM UMA CESTA HAVIA 12 OVOS DE PÁSCOA, PAULO COLOCOU MAIS 11 OVOS, QUANTOS OVOS HÁ NA CESTA AGORA?

2º - NO PARQUINHO ESTAVAM 10 CRIANÇAS JOGANDO E BRINCANDO. CHEGARAM MAIS 16 CRIANÇAS. QUANTAS CRIANÇAS FICARAM AO TODO?

3º - NOAH COMPROU FLORES PARA A SUA MAMÃE. AS FLORES CUSTARAM R\$ 27,00 ELE PAGOU COM UMA CÉDULA DE R\$ 50,00. QUANTO ELE RECEBEU DE TROCO?



Escola Municipal Carlos Chagas E.I.E.F
Localização: Rua Munhoz de Melo nº78 Centro
CEP: 87840-000 Mirador-PR Fone (44) 3434-8042
E-mail- escola@mirador.pr.gov.br – E-mail:escolacarloschagasmira@gmail.com

13ª QUIZENA 09/08/2021 À 20/08/2021

Turma: 3º ANO

Nome do aluno (a):

Professora: Edivânia da Silva Ferreira Carvalho

COMPONENTE CURRICULAR DE LÍNGUA PORTUGUESA 18/08/2021

8º DIA

VAMOS PRÁTICAR A LETRA CURSIVA (LETRA DE MÃO) SEMPRE QUE FORMOS ESCREVER,
FAZER USO DA MANUSCRITA (LETRA DE MÃO) NAS ATIDADES ABAIXO:
LEIA A TIRA ABAIXO DA TURMA DA MÔNICA, DE MAURÍCIO DE SOUZA:

TURMA DA MÔNICA



MAURÍCIO



1º - A TIRA INICIA-SE COM CEBOLINHA TENDO QUE RESOLVER UM PROBLEMA.

QUAL É ESTE PROBLEMA?

- A. () ENCONTRAR ALGUÉM PARA O EMPURRAR O BALANÇO.
- B. () A MÔNICA TER APARECIDO PARA AJUDAR.
- C. () O GALHO DA ÁRVORE TER SIDO QUEBRADO.
- D. () A ALEGRIA DE CEBOLINHA EM ENCONTRAR.

2º- NO SEGUNDO QUADRINHO, CEBOLINHA ENXERGA UMA POSSÍVEL SOLUÇÃO PARA ESSE PROBLEMA.

QUAL? _____

3º- A EXPRESSÃO “QUEBRAR O GALHO” GANHOU DUPLO SIGNIFICADO NO TEXTO. O QUE SIGNIFICOU A EXPRESSÃO.



Escola Municipal Carlos Chagas E.I.E.F
Localização: Rua Munhoz de Melo nº78 Centro
CEP: 87840-000 Mirador-PR Fone (44) 3434-8042
E-mail- escola@mirador.pr.gov.br – E-mail:escolacarloschagasmira@gmail.com

13ª QUIZENA 09/08/2021 À 20/08/2021

Turma: 3º ANO

Nome do aluno (a):

Professora: Edivânia da Silva Ferreira Carvalho

PARA MÔNICA?

E O QUE SIGNIFICOU PARA CEBOLINHA?

4º- O PROBLEMA DE CEBOLINHA FOI RESOLVIDO? POR QUÊ?

5º- MÔNICA PERCEBEU O ENGANO QUE COMETEU? PORQUÊ?

6º - A EXPRESSÃO DO CEBOLINHA NO ÚLTIMO QUADRINHO É:

- A. () DE SATISFAÇÃO POR TUDO QUE ACONTECEU, POIS ERA ISSO QUE ELE
PRETENDIA.
- B. () DE DOR E DECEPÇÃO POR TER CAIDO DO BALANÇO AO INVÉS DE TER SIDO
BALAÇANDO.
- C. () DE RAIVA POR A MÔNICA, DERRUBADO ELE, E SAI TODA CONTENTE, POIS ERA
ISSO QUE ELA PREDENDIA.
- D. () DE TRISTEZA POR NÃO SIDO BALANÇADO.



Escola Municipal Carlos Chagas E.I.E.F
Localização: Rua Munhoz de Melo nº78 Centro
CEP: 87840-000 Mirador-PR Fone (44) 3434-8042
E-mail- escola@mirador.pr.gov.br – E-mail:escolacarloschagasmira@gmail.com

13ª QUIZENA 09/08/2021 À 20/08/2021

Turma: 3º ANO

Nome do aluno (a):

Professora: Edivânia da Silva Ferreira Carvalho

COMPONENTE CURRICULAR DE MATEMÁTICA 18/08/2021

2ª AVALIAÇÃO DE MATEMÁTICA

8º DIA

NAS ÚLTIMAS SEMANAS VIMOS A **ESCRITA POR EXTENSO**. QUE É A FORMA QUE OS NÚMEROS SÃO FALADOS. LEMBROU?

ENTÃO VAMOS PRATICAR!!!

1º - ESCREVA A LEITURA POR EXTENSO DOS SEGUINTE NÚMEROS:

EXEMPLO: 13 TREZE

- A. 0 _____
- B. 10 _____
- C. 20 _____
- D. 30 _____
- E. 40 _____
- F. 50 _____

2º A ESCRITA DO **NÚMERO ORDINAL**, (AQUELE QUE DA IDÉIA DE ORDEM E POSIÇÃO) **14º** ESTÁ CORRETA EM:

- A. () DÉCIMO QUARTO
- B. () CARTOZE
- C. () DÉCIMO QUINTO
- D. () DÉCIMO TERCEIRO
- E. () QUATRO



Escola Municipal Carlos Chagas E.I.E.F
Localização: Rua Munhoz de Melo nº78 Centro
CEP: 87840-000 Mirador-PR Fone (44) 3434-8042
E-mail- escola@mirador.pr.gov.br – E-mail:escolacarloschagasmira@gmail.com

13ª QUIZENA 09/08/2021 À 20/08/2021

Turma: 3º ANO

Nome do aluno (a):

Professora: Edivânia da Silva Ferreira Carvalho

COMPONENTE CURRICULAR DE CIÊNCIAS 19/08/2021

2ª AVALIAÇÃO DE CIÊNCIAS

9º DIA

OS SONS DE DIFERENTES OBJETOS FORAM OS ASSUNTOS DESSE CAPÍTULO. OBSERVE A IMAGEM A BAIXO:

PARA RESPONDER À QUESTÃO:



1º - A IMAGEM QUE VIMOS É UM EXEMPLO DE:

- A. () POLUIÇÃO SONORA
- B. () DE COMO DEVE SER FEITA UMA PROPAGANDA
- C. () DE COMO O SOM AUTO FAZ BEM, PARA SÚDE.
- D. () RELADAR A BOA RELAÇÃO ENTRE PESSOAS.



Escola Municipal Carlos Chagas E.I.E.F
Localização: Rua Munhoz de Melo nº78 Centro
CEP: 87840-000 Mirador-PR Fone (44) 3434-8042
E-mail- escola@mirador.pr.gov.br – E-mail: escolacarloschagasmira@gmail.com

13ª QUIZENA 09/08/2021 À 20/08/2021

Turma: 3º ANO

Nome do aluno (a):

Professora: Edivânia da Silva Ferreira Carvalho

COMPONENTE CURRICULAR DE GEOGRAFIA 19/08/2021

2ª AVALIAÇÃO DE GEGRAFIA

9º DIA

IMAGEM 1



IMAGEM 2



1º - QUAL DAS IMAGENS REPRESENTA A PAISAGEM NATURAL:

A. () IMAGEM 1

B. () IMAGEM 2

2º - NA **IMAGEM 1**, QUAIS ELEMENTOS FORAM MODIFICADOS POR AÇÃO DO HOMEM?

3º - NA **IMAGEM 2**, QUAL DOS RECURSOS NATURAIS, ESTÁ MAIS PRESENTE:

A. () ÁGUA

B. () MINÉRIO



Escola Municipal Carlos Chagas E.I.E.F
Localização: Rua Munhoz de Melo nº78 Centro
CEP: 87840-000 Mirador-PR Fone (44) 3434-8042
E-mail- escola@mirador.pr.gov.br – E-mail:escolacarloschagasmira@gmail.com

13ª QUIZENA 09/08/2021 À 20/08/2021

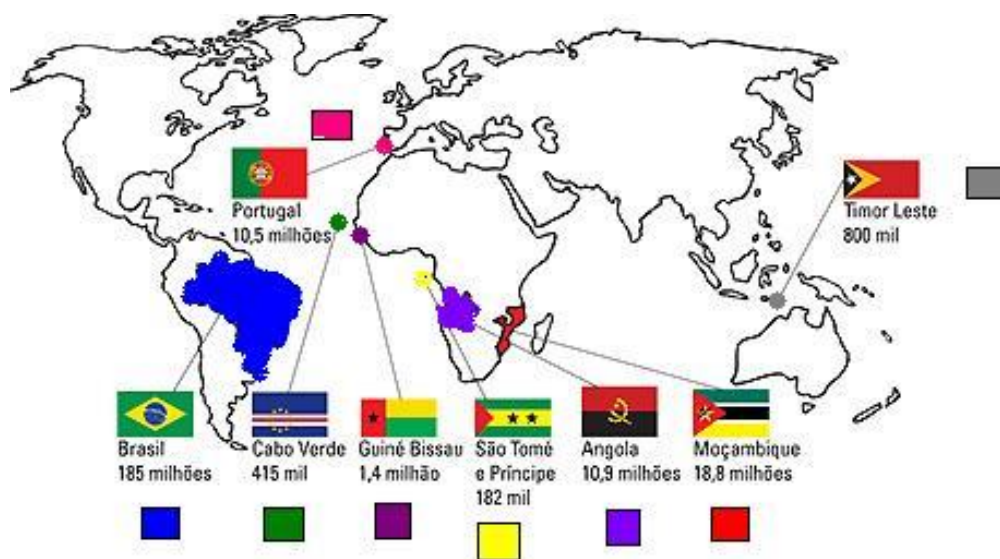
Turma: 3º ANO

Nome do aluno (a):

Professora: Edivânia da Silva Ferreira Carvalho

COMPONENTE CURRICULAR DE LÍNGUA 20/08/2021

10º DIA



CONHECER NOSSO IDIOMA É MUITO IMPORTANTE UMA VEZ QUE NOSSA LÍNGUA PÁTRIA, FAZ PARTE DA NOSSA IDENTIDADE. ALÉM DO BRASIL EXISTE OUTROS PAÍSES QUE TAMBÉM FALAM O IDIOMA PORTUGUÊS. O MAPA ACIMA REPRESENTA O MAPA MUNDI, EM DESTAQUE TODOS OS PAÍSES QUE FALAM A LÍNGUA PORTUGUESA.

A LÍNGUA PORTUGUESA É FALADA EM 8 PAÍSES NO MUNDO SÃO ELES: PORTUGAL, BRASIL, ANGOLA, MOÇAMBIQUE, GUINÉ BISSAU, CABO VERDE, SÃO TOMÉ E PRINCIPE TIMOR LESTE

1º - QUAIS DOS PAISES ABAIXO FALAM A LÍNGUA PORTUGUESA:

- A. () FRANÇA E ALEMANHA
- B. () PORTUGAL E BRASIL
- C. () CHILE E ARGENTINA



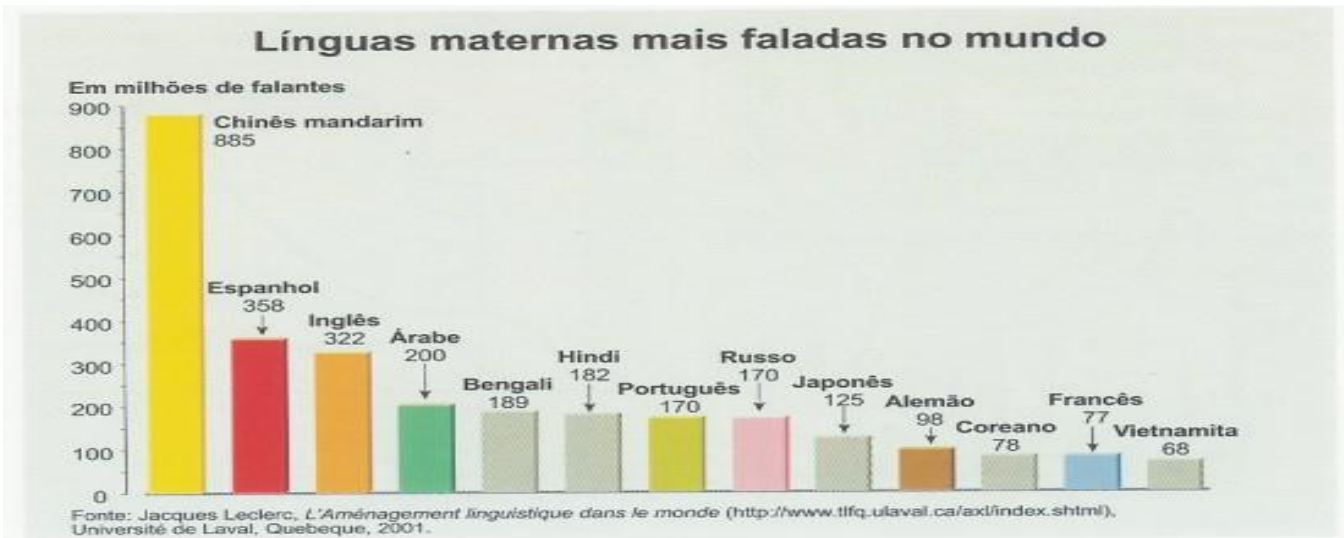
Escola Municipal Carlos Chagas E.I.E.F
Localização: Rua Munhoz de Melo nº78 Centro
CEP: 87840-000 Mirador-PR Fone (44) 3434-8042
E-mail- escola@mirador.pr.gov.br – E-mail:escolacarloschagasmira@gmail.com

13ª QUIZENA 09/08/2021 À 20/08/2021

Turma: 3º ANO

Nome do aluno (a):

Professora: Edivânia da Silva Ferreira Carvalho



2º - DE ACORDO COM O GRÁFICO ACIMA A LÍNGUA MAIS FALADA POR MILHÃO DE HABITANTES É:

- A. () CHINÊS MANDARIM
- B. () ÁRABE
- C. () PORTUGUÊS

3º - QUAIS SÃO OS PAÍSES QUE FALAM A LÍNGUA PORTUGUESA?

4º - QUAL IDIOMA FALADO NO MUNDO REPRESENTA **MENOR** PROPORÇÃO POR MILHÃO DE HABITANTES:

- A. () PORTUGUÊS
- B. () FRANCÊS
- C. () VIETINÂMITA



Escola Municipal Carlos Chagas E.I.E.F
Localização: Rua Munhoz de Melo nº78 Centro
CEP: 87840-000 Mirador-PR Fone (44) 3434-8042
E-mail- escola@mirador.pr.gov.br – E-mail: escolacarloschagasmira@gmail.com

13ª QUIZENA 09/08/2021 À 20/08/2021

Turma: 3º ANO

Nome do aluno (a):

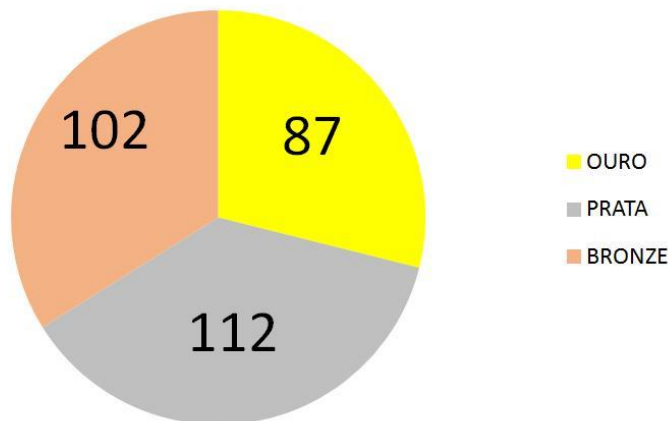
Professora: Edivânia da Silva Ferreira Carvalho

COMPONENTE CURRICULAR DE MATEMÁTICA 20/08/2021

10º DIA

OBSERVE A IMAGEM EM SEGUIDA RESPONDA AS QUESTÕES.

TOTAL DE MEDALHAS DO BRASIL NA HISTÓRIA DOS JOGOS PARALÍMPICOS



1º - QUANTAS MEDALHAS DE OURO O BRASIL GANHOU NA HISTÓRIA DOS JOGOS PARALÍMPICOS?

2º - SE JUNTASSEMOS AS MEDALHAS DE **OURO** E **BRONZE**, GANHAS PELO BRASIL, TERÍAMOS QUAL RESULTADO?

3º - ESSES MENDALHAS FORAM GANHAS:

A. () NOS JOGOS OLÍMPICOS

B. () NOS JOGOS PARALÍMPICOS



Escola Municipal Carlos Chagas E.I.E.F
Localização: Rua Munhoz de Melo nº78 Centro
CEP: 87840-000 Mirador-PR Fone (44) 3434-8042
E-mail- escola@mirador.pr.gov.br – E-mail:escolacarloschagasmira@gmail.com

13ª QUIZENA 09/08/2021 À 20/08/2021

Turma: 3º ANO

Nome do aluno (a):

Professora: Edivânia da Silva Ferreira Carvalho

VAMOS RESOLVER ALGUMAS SITUAÇÕES PROBLEMAS.

1º - EU COMPREI **500** BALAS, COMI **305** E DEI **120** PARA MEU IRMÃO. COM QUANTAS BALAS EU FIQUEI?

- A. () 85
- B. () 75
- C. () 60
- D. () 65

2º - EU COMPREI 2 CD'S CADA CD'S CUSTARAM R\$ 12,00 E 8 DVD'S A R\$10,00 CADA. QUANTO EU GASTEI NO TOTAL?

- A. () 520
- B. () 80
- C. () 104
- D. () 360

3º - SE 1 PATO TEM 2 PATAS. QUANTAS PATAS TEM 35 PATOS?

- A. () 50
- B. () 60
- C. () 70
- D. () 100



Escola Municipal Carlos Chagas E.I.E.F
Localização: Rua Munhoz de Melo nº78 Centro
CEP: 87840-000 Mirador-PR Fone (44) 3434-8042
E-mail- escola@mirador.pr.gov.br – E-mail:escolacarloschagasmira@gmail.com

13ª QUIZENA 09/08/2021 À 20/08/2021

Turma: 3º ANO

Nome do aluno (a):

Professora: Edivânia da Silva Ferreira Carvalho

COMPONENTE CURRICULAR DE ENSINO RELIGIOSO 20/08/2021

10º DIA

FESTA RELIGIOSA INDÍGENAS

O SAIRÉ (ÇAIRÉ) É O NOME INDÍGENA DA FESTA RELIGIOSA QUE MARCA A CULTURA DA REGIÃO, CELEBRADA EM SETEMBRO. AS CORES E A ALEGRIA DOS HABITANTES CONTAGIAM OS VISITANTES TODOS OS ANOS. SÃO CINCO DIAS DE FESTA, COM INÚMERAS ATIVIDADES. AS ROUPAS COLORIDAS DE HOMENS E MULHERES SÃO MARCAS REGISTRADAS.



FESTA RELIGIOSA ORIENTAIS

O TOORO NAGASHI É UM EVENTO QUE ACONTECE AO ANOITECER NO DIA DE FINADOS QUANDO AS FAMÍLIAS SE DESPEDEM DAS ALMAS DE SEUS ANTEPASSADOS, QUE VIERAM VISITÁ-LAS NESSE DIA, SOLTANDO LANTERNAS BRILHANTES COM O NOME DOS FALECIDOS, COM A FINALIDADE DE ILUMINAR O SEU RETORNO E PROPAGAR A PAZ. TOORO SIGNIFICA “LANTERNA” E NAGASHI SIGNIFICA “DEIXAR A CORRENTEZA LEVAR”. É UMA FESTA PRATICADAS POR FAMÍLIAS JAPONESAS.



APÓS A LEITURA DO TEXTO VAMOS RESPONDER A QUESTÃO:

1º - O SAIRÉ (ÇAIRÉ) É UMA FESTA.

A. () INDÍGENA

B. () CRISTÃ