



**Escola Municipal Carlos Chagas E.I.E.F**  
Rua: Munhoz de Melo nº78 Centro Fone (44) 3434- 1163  
CEP: 87840-000 Mirador-PR

E-mail- [escola@mirador.pr.gov.br](mailto:escola@mirador.pr.gov.br) – E-mail: [escolacarloschagasmira@gmail.com](mailto:escolacarloschagasmira@gmail.com)

PROFESSORA: ROSINETE MILITÃO

3º ANO- B 9º QUINZENA

ALUNO(A)

COMPONENTE CURRICULAR: LÍNGUA PORTUGUESA E MATEMÁTICA

31/05/2021 SEGUNDA-FEIRA.

**Leia o poema abaixo, que também é uma cantiga de roda.**

### POEMA

Ciranda cirandinha  
Vamos todos cirandar  
Vamos dar a meia volta  
Volta e meia vamos dar.



O anel que tu me deste  
Era vidro e se quebrou  
O amor que tu me tinhas  
Era pouco e se acabou

(cantiga popular)

1- As rimas do poema são:

- a) ( ) ciranda e dar / quebrou e acabou.
- b) ( ) cirandinha e volta / deste e tinha.
- c) ( ) anel e amor / vidro e quebrou.
- d) ( ) deste e tinha / volta e dar.

2- Quantos versos e quantas estrofes o poema do exercício anterior tem? Faça um x na alternativa correta.

- a) ( ) 9 versos e 3 estrofes.
- b) ( ) 6 versos e 3 estrofes.
- c) ( ) 4 versos e 4 estrofes.
- d) ( ) 8 versos e 2 estrofes.

3- Observe o banco de palavras e assinale a alternativa correta da questão.

**Laranja- maçã- banana- pêra- abacate**

A **ordem alfabética** dessas palavras é

- a) ( ) pêra – abacate- laranja- maçã – banana.
- b) ( ) maçã – banana- laranja- pêra- abacate.
- c) ( ) maçã- abacate- laranja – banana – pêra.
- d) ( ) abacate – banana – laranja- maçã – pêra.



**Escola Municipal Carlos Chagas E.I.E.F**  
 Rua: Munhoz de Melo nº78 Centro Fone (44) 3434- 1163  
 CEP: 87840-000 Mirador-PR

E-mail- [escola@mirador.pr.gov.br](mailto:escola@mirador.pr.gov.br) – E-mail: [escolacarloschagasmira@gmail.com](mailto:escolacarloschagasmira@gmail.com)

**PROFESSORA: JANETHE TIVERON**

**3º ANO- A 9º QUINZENA**

**ALUNO(A)**

**TRABALHANDO A LOCALIZAÇÃO.**

COMPLETE AS FRASES DE ACORDO COM O DESENHO:



- 1) \_\_\_\_\_ ESTÁ SENTADA ATRÁS DE ANA.
- 2) \_\_\_\_\_ SENTA-SE À FRENTE DE CAROL.
- 3) \_\_\_\_\_ E BRUNO SENTAM-SE EM FRENTE AO QUADRO. SENDO QUE \_\_\_\_\_ SENTA-SE MAIS PRÓXIMO A PORTA.
- 4) \_\_\_\_\_ SENTA-SE MAIS LONGE DA PROFESSORA E AO SEU LADO SENTA-SE \_\_\_\_\_.
- 5) \_\_\_\_\_ SENTA-SE BEM PRÓXIMA A PROFESSORA E AO LADO DE \_\_\_\_\_.

2- ESCREVA O NOME DOS NUMERAIS POR EXTENSO:

5	
15	
25	
35	
45	
55	
65	
75	



**Escola Municipal Carlos Chagas E.I.E.F**  
Rua: Munhoz de Melo nº78 Centro Fone (44) 3434- 1163  
CEP: 87840-000 Mirador-PR  
E-mail- [escola@mirador.pr.gov.br](mailto:escola@mirador.pr.gov.br) – E-mail: [escolacarloschagasmira@gmail.com](mailto:escolacarloschagasmira@gmail.com)

**PROFESSORA: JANETHE TIVERON**

**3º ANO- A 9º QUINZENA**

**ALUNO(A)**

**COMPONENTE CURRICULAR: LÍNGUA PORTUGUESA E MATEMÁTICA**

**02/06/2021 QUARTA-FEIRA**

**DÍGRAFOS É O GRUPO DE DUAS LETRAS QUE REPRESENTAM UM ÚNICO VALOR SONORO. COM AS COMBINAÇÕES.**

**CH- LH- NH- RR- SS- SC- SX**

QUANDO PRECISAMOS SEPARAR OS DÍGRAFOS EM FINAL DE FRASE, POR EXEMPLO, DUAS REGRAS DEVEM SER LEMBRADAS:

- NUNCA SE SEPARAM OS DÍGRAFOS **CH – LH – NH- QU- GU.**

EX: CHA-VE

CHU-PE-TA

FO-LHA

CO-LHER

NI-NHO

PA-MO-NHA

- SEMPRE SE SEPARAM OS DÍGRAFOS: **SS – RR- SC- XC – SÇ.**

EX: EX-CE- LEN-TE

DES-ÇA

PÁS- SA- RO

CAR-RO-ÇA.

**COMPLETE O QUADRO DE ACORDO COM O MODELO**

	PALAVRAS	SOLETRANDO (QUANTIDADE DE LETRAS)	FONEMAS ( SOM)	DIGRAFOS (SONS QUE NÃO SE SEPARAM)
1	CHÁPEU	6	5	CH
2	VIZINHO			
3	CAMPO			
4	SOMBRA			
5	NASCER			



Escola Municipal Carlos Chagas E.I.E.F

Rua: Munhoz de Melo nº78 Centro Fone (44) 3434- 1163

CEP: 87840-000 Mirador-PR

E-mail- [escola@mirador.pr.gov.br](mailto:escola@mirador.pr.gov.br) – E-mail: [escolacarloschagasmira@gmail.com](mailto:escolacarloschagasmira@gmail.com)

PROFESSORA: JANETHE TIVERON

3º ANO- A 9º QUINZENA

ALUNO(A)

## DÍGRAFOS

1. Observe o trecho destacado e escreva **EC** para encontro consonantal ou **D** para dígrafo.

a) **esc**ada \_\_\_\_\_

f) **est**átua \_\_\_\_\_

b) **cr**escer \_\_\_\_\_

g) **pregui**çoso \_\_\_\_\_

c) **col**her \_\_\_\_\_

h) **di**no**ss**auro \_\_\_\_\_

d) **gl**ória \_\_\_\_\_

i) **fr**onha \_\_\_\_\_


e) **der**retido \_\_\_\_\_

j) **br**asileiro \_\_\_\_\_

2. Quantos e quais dígrafos há na palavra **porquinho**?

\_\_\_\_\_

\_\_\_\_\_



3. Acrescente **r** e forme palavras com o dígrafo **rr**.

a) muro \_\_\_\_\_

d) tora \_\_\_\_\_

b) caro \_\_\_\_\_

e) aranha \_\_\_\_\_

c) vara \_\_\_\_\_

f) careta \_\_\_\_\_

4. Sublinhe todos os dígrafos deste trecho da cantiga.


Teresinha de Jesus

de uma queda, foi ao chão.

Acudiram três cavalheiros

todos de chapéu na mão. [...]

(Cantiga popular)





**Escola Municipal Carlos Chagas E.I.E.F**

Rua: Munhoz de Melo nº78 Centro Fone (44) 3434- 1163

CEP: 87840-000 Mirador-PR

E-mail- [escola@mirador.pr.gov.br](mailto:escola@mirador.pr.gov.br) – E-mail: [escolacarloschagasmira@gmail.com](mailto:escolacarloschagasmira@gmail.com)

**PROFESSORA: JANETHE TIVERON**  
**ALUNO(A)**

**3º ANO- A 9º QUINZENA**

**COMPONENTE CURRICULAR: GEOGRAFIA E CIÊNCIA 03/06/2021 QUINTA-FEIRA**

**Questão 01:**

*Daniela mora em uma rua bem cuidada pelos moradores. Ela tem muitos vizinhos e trata todos com educação e respeito.*

Qual destas ruas é de Daniela? Marque com (X).



**Questão 02:**

*Na cidade, as pessoas trabalham em indústrias ou fábricas. As indústrias transformam matérias-primas em produtos industrializados.*

- Observe a sequência de quadrinhos a seguir e marque com um (X) a resposta correta.



Plantação de morangos



O produto chega à indústria



A moça está colhendo os morangos



O produto pronto para o consumo

- a) Qual quadrinho mostra matéria-prima, que é a principal substância utilizada para fabricar a geleia?  
( ) A. ( ) B. ( ) C. ( ) D.



**Escola Municipal Carlos Chagas E.I.E.F**  
Rua: Munhoz de Melo nº78 Centro Fone (44) 3434- 1163  
CEP: 87840-000 Mirador-PR

E-mail- [escola@mirador.pr.gov.br](mailto:escola@mirador.pr.gov.br) – E-mail: [escolacarloschagasmira@gmail.com](mailto:escolacarloschagasmira@gmail.com)

**PROFESSORA: JANETHE TIVERON**

**3º ANO- A 9º QUINZENA**

**ALUNO(A)**

### **ATIVIDADE DE CIÊNCIAS**

#### **CARACTERÍSTICAS DA TERRA**



**A TERRA É O PLANETA EM QUE VIVEMOS.  
NELA ENCONTRAMOS O MAR, AS PLANTAS, AS  
PESSOAS E OS ANIMAIS.  
A TERRA NÃO TEM LUZ PRÓPRIA.  
ELA RECEBE A LUZ E O CALOR DO SOL.**

1- QUAL É O NOME DO PLANETA EM QUE VIVEMOS?

2- RETIRE DO TEXTO E ANOTE 3 PALAVRAS QUE COMEÇAM COM A LETRA P.


3- RETIRE 3 PALAVRAS QUE TEM 3 LETRAS.


4- ESCREVA O NUMEROS DE LETRAS DE CADA PALAVRA.

TERRA	
ANIMAIS	
RECEBE	



**Escola Municipal Carlos Chagas E.I.E.F**  
 Rua: Munhoz de Melo nº78 Centro Fone (44) 3434- 1163  
 CEP: 87840-000 Mirador-PR

E-mail- [escola@mirador.pr.gov.br](mailto:escola@mirador.pr.gov.br) – E-mail: [escolacarloschagasmira@gmail.com](mailto:escolacarloschagasmira@gmail.com)

PROFESSORA: JANETHE TIVERON

3º ANO- A 9º QUINZENA

ALUNO(A)

CALOR

COMPONENTE CURRICULAR: LÍNGUA PORTUGUESA E MATEMÁTICA

(04/06/2021) SEXTA- FEIRA.

Encontre no caça-palavras oito palavras com dígrafos e classifique-as no quadro abaixo.



www.salidadeatividades.com.br

LH	SS
GU	QU
RR	NH
SC	SÇ

2- ESCOLHA DUAS PALAVRAS E FORME FRASES.




**Escola Municipal Carlos Chagas E.I.E.F**

Rua: Munhoz de Melo nº78 Centro Fone (44) 3434- 1163

CEP: 87840-000 Mirador-PR

E-mail- [escola@mirador.pr.gov.br](mailto:escola@mirador.pr.gov.br) – E-mail:escolacarloschagasmira@gmail.com

**PROFESSORA: JANETHE TIVERON**

**3º ANO- A 9º QUINZENA**

**ALUNO(A)**






**Escola Municipal Carlos Chagas E.I.E.F**

Rua: Munhoz de Melo nº78 Centro Fone (44) 3434- 1163

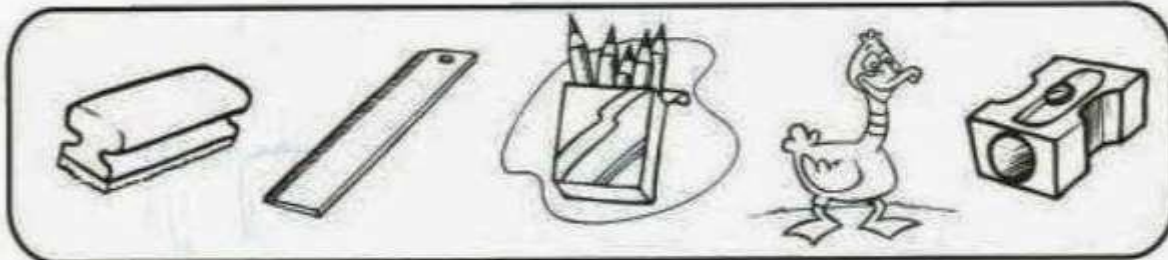
CEP: 87840-000 Mirador-PR

E-mail- [escola@mirador.pr.gov.br](mailto:escola@mirador.pr.gov.br) – E-mail:[escolacarloschagasmira@gmail.com](mailto:escolacarloschagasmira@gmail.com)

PROFESSORA: JANETHE TIVERON  
ALUNO(A)

3º ANO- A 9º QUINZENA

1) Risque o 3º objeto e circule o 5º objeto.



2) Complete a seqüência numérica:

60				64					70
	72					77			80
		84						90	
			96		98		100		

3) Coloque os números abaixo na ordem crescente:

89 – 21 – 56 – 2 – 78 – 34 – 12 - 90

4) Dê o antecessor e o sucessor:

\_\_\_\_\_ 77 \_\_\_\_\_      \_\_\_\_\_ 91 \_\_\_\_\_      \_\_\_\_\_ 83 \_\_\_\_\_

5) Complete os quadros com as quantidades de dezenas e unidades.

Dezenas	Unidades
♥♥♥♥♥	♥♥♥
_____	_____

Dezenas	Unidades
♦♦♦♦♦♦	♦♦♦♦
_____	_____





Escola Municipal Carlos Chagas E.I.E.F

Rua: Munhoz de Melo nº78 Centro Fone (44) 3434- 1163

CEP: 87840-000 Mirador-PR

E-mail- [escola@mirador.pr.gov.br](mailto:escola@mirador.pr.gov.br) – E-mail: [escolacarloschagasmira@gmail.com](mailto:escolacarloschagasmira@gmail.com)

PROFESSORA: JANETHE TIVERON

3º ANO- A 9º QUINZENA

ALUNO(A)

COMPONENTE CURRICULAR: LÍNGUA PORTUGUESA E MATEMÁTICA

07/06/2021 SEGUNDA-FEIRA



## Passado e Futuro



No passado eles foram.

No futuro eles irão.

Agora marque a coluna de acordo com o tempo do verbo.

	Verbos	am	ão	Escrita correta
Ontem eles:	Brincar...			
	Ler...			
	Dormir...			
	Comer...			
	Estudar...			
	Passear...			
	Pular...			
	Cantar...			
Amanhã eles:	Brincar...			
	Ler...			
	Dormir...			
	Comer...			
	Estudar...			
	Passear...			
	Pular...			
	Cantar...			



Escola Municipal Carlos Chagas E.I.E.F

Rua: Munhoz de Melo nº78 Centro Fone (44) 3434- 1163

CEP: 87840-000 Mirador-PR

E-mail- [escola@mirador.pr.gov.br](mailto:escola@mirador.pr.gov.br) – E-mail: [escolacarloschagasmira@gmail.com](mailto:escolacarloschagasmira@gmail.com)

PROFESSORA: JANETHE TIVERON  
ALUNO(A)

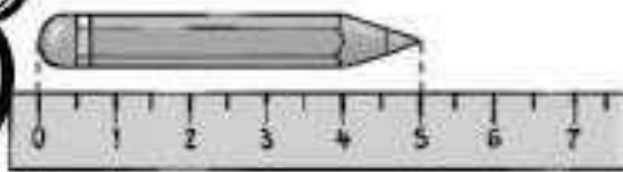
3º ANO- A 9º QUINZENA

# CENTÍMETROS

QUAL A MEDIDA? OBSERVE E COMPLETE:



CENTÍMETROS



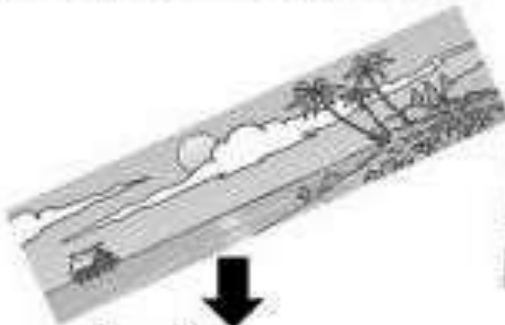
CENTÍMETROS

UTILIZE SUA RÉGUA E COMPLETE:



LARGURA:  CENTÍMETROS

COMPRIMENTO:  CENTÍMETROS



LARGURA:  CENTÍMETROS

COMPRIMENTO:  CENTÍMETROS



LARGURA:  CENTÍMETROS

COMPRIMENTO:  CENTÍMETROS



Escola Municipal Carlos Chagas E.I.E.F  
Rua: Munhoz de Melo nº78 Centro Fone (44) 3434- 1163  
CEP: 87840-000 Mirador-PR

E-mail- [escola@mirador.pr.gov.br](mailto:escola@mirador.pr.gov.br) – E-mail: [escolacarloschagasmira@gmail.com](mailto:escolacarloschagasmira@gmail.com)

PROFESSORA: JANETHE TIVERON  
ALUNO(A)


3º ANO- A 9º QUINZENA

COMPONENTE CURRICULAR: LÍNGUA PORTUGUESA E MATEMÁTICA

09/06/2021 QUARTA-FEIRA



1) Pinte os produtos que podem ser comprados a quilo.



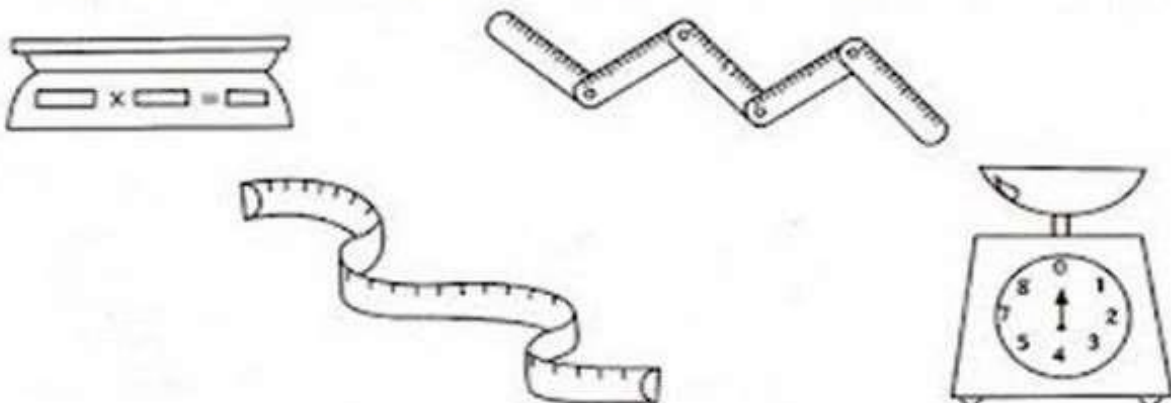
2) Marque um X nos produtos que podem ser comprados a quilo.



- frutas
- refrigerante
- cebola
- sabão
- peixe

- maçãs
- leite
- carne
- batata
- fitas

3) Pinte os instrumentos usados para medir o peso dos alimentos.





**Escola Municipal Carlos Chagas E.I.E.F**

Rua: Munhoz de Melo nº78 Centro Fone (44) 3434- 1163

CEP: 87840-000 Mirador-PR

E-mail- [escola@mirador.pr.gov.br](mailto:escola@mirador.pr.gov.br) – E-mail: [escolacarloschagasmira@gmail.com](mailto:escolacarloschagasmira@gmail.com)

**PROFESSORA: JANETHE TIVERON**  
**ALUNO(A)**

**3º ANO- A 9º QUINZENA**

**COMPONENTE CURRICULAR: GEOGRAFIA E CIÊNCIAS**

10/06/2021 QUINTA-FEIRA

**LIGUE COM SETAS A MATÉRIA PRIMA AO SEU PRODUTO INDUSTRIALIZADO:**



**ALGODÃO**



**CACAU**



**CANA DE AÇÚCAR**



**LÁTEX**



**MADEIRA**



**PETRÓLEO**





Escola Municipal Carlos Chagas E.I.E.F  
Rua: Munhoz de Melo nº78 Centro Fone (44) 3434- 1163  
CEP: 87840-000 Mirador-PR

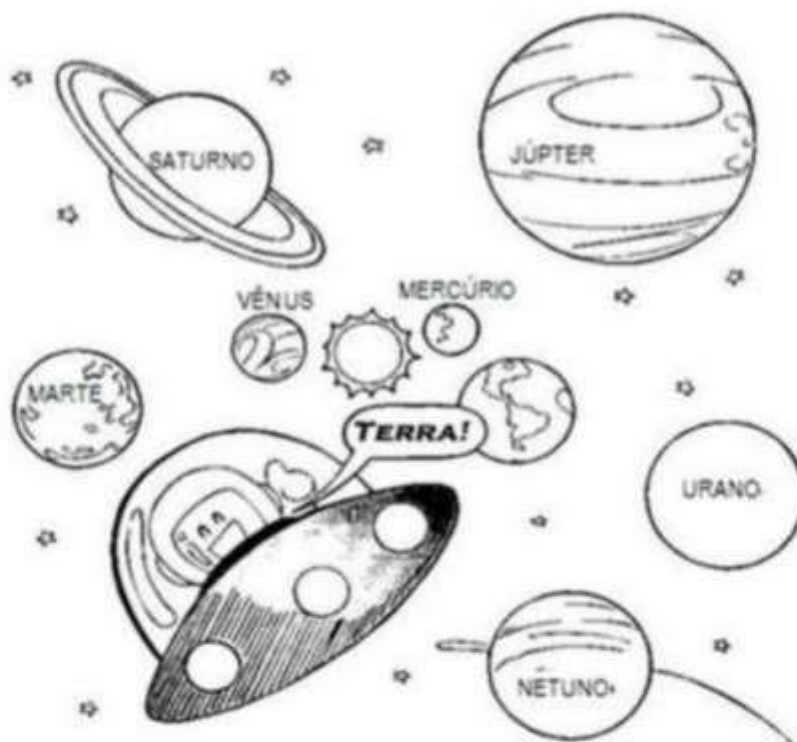
E-mail- [escola@mirador.pr.gov.br](mailto:escola@mirador.pr.gov.br) – E-mail: [escolacarloschagasmira@gmail.com](mailto:escolacarloschagasmira@gmail.com)

PROFESSORA: JANETHE TIVERON

3º ANO- A 9º QUINZENA

ALUNO(A)

## O Sistema Solar



O sistema solar é composto pelo Sol, planetas, seus satélites, e os chamados pequenos corpos celestes que são: asteroides, cometas, meteoros entre outros. Todos esses corpos celestes giram em torno do Sol.

O Sol é a estrela mais próxima da Terra. As outras bilhões de estrelas que compõem o universo estão tão distantes que vemos apenas à noite como pequenos pontos de luz.

Os oito planetas que fazem parte do sistema solar são: Mercúrio, Vênus, Terra, Marte, Júpiter, Saturno e Netuno. Importante lembrar aqui, que até agosto de 2006, Plutão era considerado o nono planeta, desde então, passou a ser classificado como planeta anão.

Os planetas menores e mais próximos do Sol são compostos de rochas e metais, são eles: Mercúrio, Vênus, Terra e Marte. Os planetas maiores e mais distantes do Sol são compostos na sua maior parte de gases, são eles: Júpiter, Saturno, Urano e Netuno.



**Escola Municipal Carlos Chagas E.I.E.F**

Rua: Munhoz de Melo nº78 Centro Fone (44) 3434- 1163

CEP: 87840-000 Mirador-PR

E-mail- [escola@mirador.pr.gov.br](mailto:escola@mirador.pr.gov.br) – E-mail: [escolacarloschagasmira@gmail.com](mailto:escolacarloschagasmira@gmail.com)


**PROFESSORA: JANETHE TIVERON**

**3º ANO- A 9º QUINZENA**

**ALUNO(A)**

## ATIVIDADES

Use dos seus conhecimentos prévios e assinale todas as alternativas corretas sobre o Sol.



1. O Sol é:

muito quente

muito frio

2. O Sol é:

uma estrela

um planeta

uma galáxia

3. O Sol se posiciona

do lado do Sistema Solar

no centro do Sistema Solar

4. O planeta mais próximo do Sol é:

a Terra

Plutão

Mercúrio

5. Um eclipse solar ocorre quando:

a Lua se interpõe entre a Terra e o Sol.

Sol, Terra e Lua se alinham, estando a Terra no meio dos dois.

O Sol fica entre a Terra e a Lua





**Escola Municipal Carlos Chagas E.I.E.F**  
 Rua: Munhoz de Melo nº78 Centro Fone (44) 3434- 1163  
 CEP: 87840-000 Mirador-PR

E-mail- [escola@mirador.pr.gov.br](mailto:escola@mirador.pr.gov.br) – E-mail: [escolacarloschagasmira@gmail.com](mailto:escolacarloschagasmira@gmail.com)

**PROFESSORA: JANETHE TIVERON**  
**ALUNO(A)**


**3º ANO- A 9º QUINZENA**

**COMPONENTE CURRICULAR: LÍNGUA PORTUGUESA E MATEMÁTICA**

11/06/2021 SEXTA-FEIRA

# VERBO-TEMPO-PRESENTE

Observe no modelo abaixo a conjugação do verbo no tempo presente e complete o restante de acordo com o que se pede:



**Verbo: estudar**

Eu estudo

Tu estudas

Ele (Ela) estuda

Nós estudamos

Vós estudais

Eles (elas) estudam



**Verbo: cantar**

Eu \_\_\_\_\_

Tu \_\_\_\_\_

Ele (Ela) \_\_\_\_\_

Nós \_\_\_\_\_

Vós \_\_\_\_\_

Eles (elas) \_\_\_\_\_



**Verbo: correr**

Eu \_\_\_\_\_


Tu \_\_\_\_\_

Ele (Ela) \_\_\_\_\_

Nós \_\_\_\_\_

Vós \_\_\_\_\_

Eles (elas) \_\_\_\_\_



**Verbo: partir**

Eu \_\_\_\_\_

Tu \_\_\_\_\_

Ele (Ela) \_\_\_\_\_

Nós \_\_\_\_\_

Vós \_\_\_\_\_

Eles (elas) \_\_\_\_\_





Escola Municipal Carlos Chagas E.I.E.F  
Rua: Munhoz de Melo nº78 Centro Fone (44) 3434- 1163  
CEP: 87840-000 Mirador-PR

E-mail- [escola@mirador.pr.gov.br](mailto:escola@mirador.pr.gov.br) – E-mail: [escolacarloschagasmira@gmail.com](mailto:escolacarloschagasmira@gmail.com)



PROFESSORA: JANETHE TIVERON  
ALUNO(A)

3º ANO- A 9º QUINZENA

1- CIRCULE OS PRODUTOS QUE COMPRAMOS A METRO.



2- PINTE OS PRODUTOS QUE COMPRAMOS A LITRO.



3- MARQUE COM UM X O QUE PODEMOS COMPRAR A QUILO.

