



Escola Municipal Carlos Chagas E.I.E.F
Rua: Munhoz de Melo nº78 Centro Fone (44) 3434- 1163
CEP: 87840-000 Mirador-PR

E-mail- escola@mirador.pr.gov.br – E-mail:escolacarloschagasmira@gmail.com

6ºQuinzena 19/04 a 30/04

Turma: 3º ANO

Nome do aluno (a):


Professor (a): ROSINETE MILITÃO

Componente curricular: Matemática


Conteúdo: Leitura e escrita numéricas, valor posicional, cálculos de divisão e multiplicação.

Observe as atividades e complete-as.

Vamos dividir:



Vamos dividir:



1346 | 5 2047 | 6 5182 | 7

22 | 2 42 | 2 26 | 2 82 | 2

4217 | 8 3524 | 9 6612 | 1

25 | 2 47 | 2 60 | 2 83 | 2

7030 | 2 8000 | 3 9700 | 4

10 | 2 62 | 2 84 | 2 46 | 2

1815 | 5 3924 | 6 2067 | 7

70 | 2 92 | 2 51 | 2 31 | 2

PR.EF03MA04.d.3.48 Resolução de problemas, envolvendo adição, subtração e multiplicação, deslocando-se para a direita ou para a esquerda.



Escola Municipal Carlos Chagas E.I.E.F
Rua: Munhoz de Melo nº78 Centro Fone (44) 3434- 1163
CEP: 87840-000 Mirador-PR

E-mail- escola@mirador.pr.gov.br – E-mail:escolacarloschagasmira@gmail.com

6º Quinzena 19/04 a 30/04

Turma: 3º ANO

Nome do aluno (a):


Professor (a): ROSINETE MILITÃO

Componente curricular: Matemática

Conteúdo: Leitura e escrita numéricas, valor posicional, cálculos de divisão e multiplicação

CRUZA ADIÇÃO

Resolva as adições e complete a cruzadinha:



A		
C	D	U
1	2	4
+2	5	1

B		
C	D	U
2	3	5
+4	1	3

C		
C	D	U
5	2	6
+4	0	2

D		
C	D	U
8	4	6
+1	2	1


E		
C	D	U
6	4	2
+1	0	4

F		
C	D	U
2	0	4
+4	3	5

G		
C	D	U
7	2	4
+1	3	5

H		
C	D	U
1	2	4
+4	6	1

I		
C	D	U
2	4	3
+5	3	2





Escola Municipal Carlos Chagas E.I.E.F
Rua: Munhoz de Melo nº78 Centro Fone (44) 3434- 1163
CEP: 87840-000 Mirador-PR

E-mail- escola@mirador.pr.gov.br – E-mail:escolacarloschagasmira@gmail.com

6ºQuinzena 19/04 a 30/04

Turma: 3º ANO

Nome do aluno (a):

Professor (a): ROSINETE MILITÃO

Componente curricular: Matemática

Conteúdo: Leitura e escrita numéricas, valor posicional, cálculos de divisão e multiplicação.

1- Augusto pulou nestes numerais: **10-12-14-16-18** e Ana pulou nestes numerais : **13-15-17-19**. É correto dizer que:

- Ana pulou sem saltar numerais.
- Augusto pulou nos números ímpares.
- Ana pulou nos números maiores que 20.
- Augusto pulou nos números pares.

2- Veja a operação:

$$\begin{array}{r} 47 \\ + 32 \\ \hline \end{array}$$

- A soma desta operação é 75.
- A soma desta operação é 69.
- A soma desta operação é 79.
- Nenhuma das respostas acima.

3- Observe a sequência dos numerais:

50 - 52 - 54 - 56 - 58

A trilha é:

- 59 - 60 - 61 - 62
- 60 - 62 - 64 - 66
- 61 - 62 - 63 - 64
- 55 - 56 - 57 - 58

4- Resolva a operação e marque a resposta certa:

$$\begin{array}{r} 87 \\ - 35 \\ \hline \end{array}$$

- O minuendo é 35.
- O minuendo é menor.
- O resto é 35.
- O resto é 52.



PR.EF03MA04.d.3.48 Resolução de problemas, envolvendo adição, subtração e multiplicação, deslocando-se para a direita ou para a esquerda.



Escola Municipal Carlos Chagas E.I.E.F
Rua: Munhoz de Melo nº78 Centro Fone (44) 3434- 1163
CEP: 87840-000 Mirador-PR

E-mail- escola@mirador.pr.gov.br – E-mail:escolacarloschagasmira@gmail.com

6°Quinzena 19/04 a 30/04

Turma: 3° ANO

Nome do aluno (a):

Professor (a): ROSINETE MILITÃO

Componente curricular: Matemática

Conteúdo: Leitura e escrita numéricas, valor posicional, cálculos de divisão e multiplicação.

Cálculos orais: Escreva só as respostas nas empadas



- 1- Vovó fez 10 empadas. Ela comeu 4 empadas. Quantas empadas sobraram?
- 2- Vovó fez 5 empadas com frango, 7 com batatas e 4 com azeitonas. Quantas empadas ela fez ao todo?
- 3- Num copo tinha 14 azeitonas. Vovó usou a metade. Então ela usou..
- 4- A mamãe comprou 5 dezenas de empadas. Ela comprou...
- 5- Um dúzia de ovos são...

Complete:

1 DÚZIA: 9 DEZENAS E 4 UNIDADES:

5 DEZENAS E 3 UNIDADES: 7 DEZENAS:

1 CENTENA: 31 UNIDADES:

27 UNIDADES: 8 DEZENAS:

1 DEZENA E 5 UNIDADES: 1 UNIDADE:



Escola Municipal Carlos Chagas E.I.E.F
Rua: Munhoz de Melo nº78 Centro Fone (44) 3434- 1163
CEP: 87840-000 Mirador-PR

E-mail- escola@mirador.pr.gov.br – E-mail:escolacarloschagasmira@gmail.com

6ºQuinzena 19/04 a 30/04

Turma: 3º ANO

Nome do aluno (a):

Professor (a): ROSINETE MILITÃO

Componente curricular: Matemática

Conteúdo: Leitura e escrita numéricas, valor posicional, cálculos de divisão e multiplicação.

MATEMÁTICA

Recomponha:

1 centena , 2 dezenas e 8 unidades:
8 dezenas: 21 unidades:
1 dúzia: 7 dezenas:
1 centena e 3 dezenas:

Complete:

$10 + 10 + 10 + 10 + 5$:
 $10 + 10 + 10 + 10 + 10 + 10 + 10 + 3$:
 $10 + 8$:
 $10 + 10 + 10 + 4$:

Ligar:

treze	100
vinte e um	12
cinquenta	60
quarenta e dois	13
trinta e sete	19
dezenove	21
sessenta	50
doze	42
cem	37

PR.EF03MA04.d.3.48 Resolução de problemas, envolvendo adição, subtração e multiplicação, deslocando-se para a direita ou para a esquerda.



Escola Municipal Carlos Chagas E.I.E.F
Rua: Munhoz de Melo nº78 Centro Fone (44) 3434- 1163
CEP: 87840-000 Mirador-PR

E-mail- escola@mirador.pr.gov.br – E-mail:escolacarloschagasmira@gmail.com

6ºQuinzena 19/04 a 30/04

Turma: 3º ANO

Nome do aluno (a):


Professor (a): ROSINETE MILITÃO

Componente curricular: Ciências.

COMO NASCEM OS ANIMAIS

OVÍPAROS: São animais que botam ovos e dos ovos nascem seus filhotes.


- Observe os desenhos e conte o que aconteceu.



- Escreva nomes de dois animais que nascem de ovos.

VIVÍPAROS: São animais que desenvolvem e nascem de dentro da barriga da mãe.

- Observe as cenas e diga o que aconteceu.



- Escreva nomes de outros animais que nascem da barriga da mãe.



Escola Municipal Carlos Chagas E.I.E.F
Rua: Munhoz de Melo nº78 Centro Fone (44) 3434- 1163
CEP: 87840-000 Mirador-PR

E-mail- escola@mirador.pr.gov.br – E-mail:escolacarloschagasmira@gmail.com

6º Quinzena 19/04 a 30/04

Turma: 3º ANO

Nome do aluno (a):


Professor (a): ROSINETE MILITÃO

Componente curricular: Ciências

ANIMAIS MAMÍFEROS

São os que mamam quando pequenos.


Exemplo: homem, gato, porco, cachorro, coelho, etc.



ANIMAIS VIVÍPAROS

São os que se desenvolvem dentro do corpo da mãe, até nascer.


Exemplo: homem, gato, cachorro, etc.



ANIMAIS OVÍPAROS

São os que nascem de ovos, botados pela mãe.

Exemplo: pato, tartaruga, jacaré, sapo, etc.





Escola Municipal Carlos Chagas E.I.E.F
Rua: Munhoz de Melo nº78 Centro Fone (44) 3434- 1163
CEP: 87840-000 Mirador-PR

E-mail- escola@mirador.pr.gov.br – E-mail:escolacarloschagasmira@gmail.com

6º Quinzena 19/04 a 30/04

Turma: 3º ANO

Nome do aluno (a):


Professor (a): ROSINETE MILITÃO

Animais características locomoção: conceitos científicos básicos. objetos animados, animais, características e locomoção.


1) Risque os animais que tem casco, faça uma cruz nos que tem pelo, e faça um bonito colorido nos que tem penas.

2) Ligue os animais que voam os que andam os que pulam os que rastejam e os que nadam.

a)



b)





Escola Municipal Carlos Chagas E.I.E.F
Rua: Munhoz de Melo nº78 Centro Fone (44) 3434- 1163
CEP: 87840-000 Mirador-PR

E-mail- escola@mirador.pr.gov.br – E-mail:escolacarloschagasmira@gmail.com

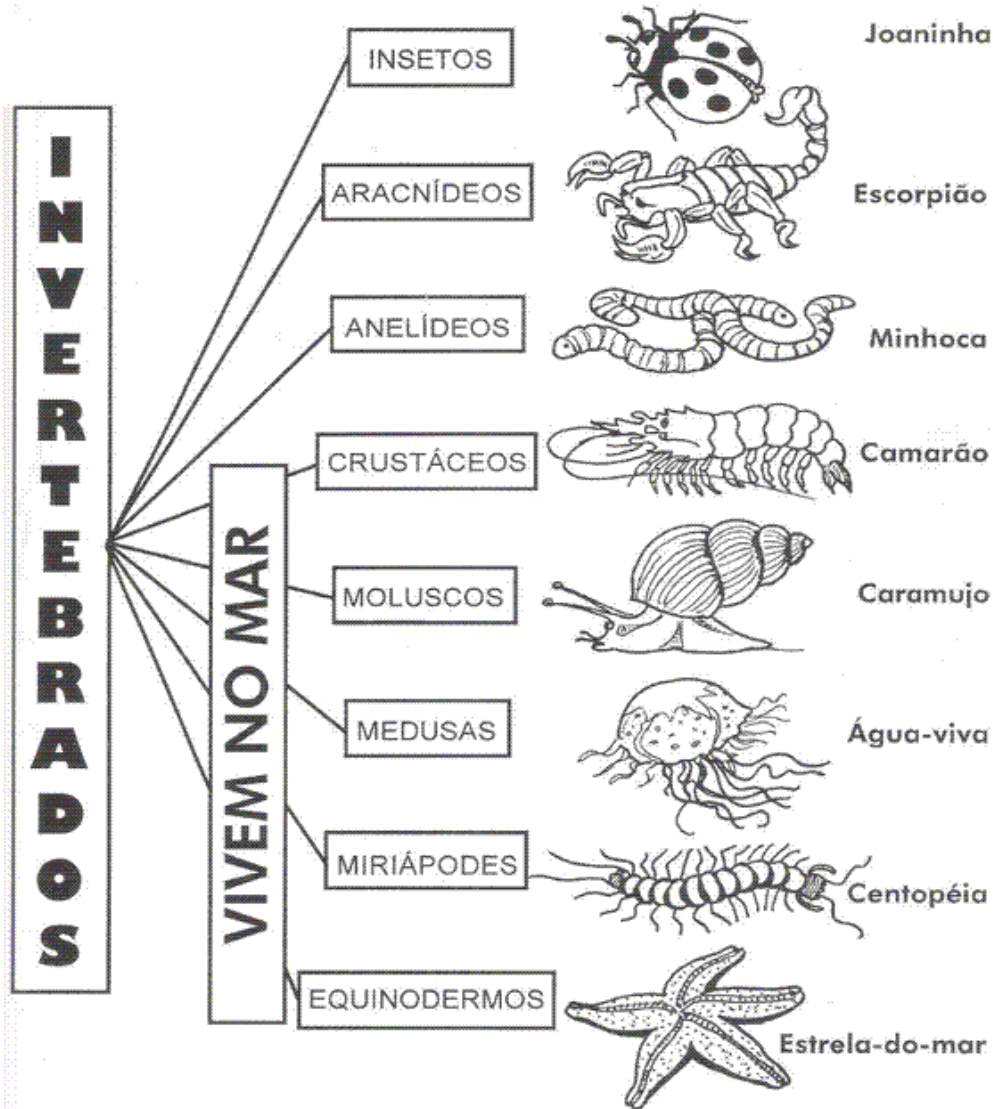
6ºQuinzena 19/04 a 30/04

Turma: 3º ANO

Nome do aluno (a):

Professor (a): ROSINETE MILITÃO

Classificação dos Invertebrados





Escola Municipal Carlos Chagas E.I.E.F
 Rua: Munhoz de Melo nº78 Centro Fone (44) 3434- 1163
 CEP: 87840-000 Mirador-PR

E-mail- escola@mirador.pr.gov.br – E-mail:escolacarloschagasmira@gmail.com

6ºQuinzena 19/04 a 30/04


Turma: 3º ANO

Nome do aluno (a):


Professor (a): ROSINETE MILITÃO

Componente curricular: ciências.









Animais vertebrados: Os animais vertebrados são aqueles que possuem ossos, possuem coluna vertebral.



Animais invertebrados: São aqueles que não possuem ossos e nem coluna vertebral.



1) Agora é sua vez resolva a cruzadinha:

 Minhoca	 Zebra	INVERTEBRADOS	 Gato	 Tubarão
		R		
		G		
			H	
				T
 Borboleta	 Tartaruga	VERTEBRADOS	 Grilo	 Siri
		T		
			R	
				Ã
				U



Escola Municipal Carlos Chagas E.I.E.F
Rua: Munhoz de Melo nº78 Centro Fone (44) 3434- 1163
CEP: 87840-000 Mirador-PR

E-mail- escola@mirador.pr.gov.br – E-mail:escolacarloschagasmira@gmail.com






6º Quinzena 19/04 a 30/04

Turma: 3º ANO

Nome do aluno (a):

Professor (a): ROSINETE MILITÃO

1) Escreva o nome de cada animal, o que nos fornece, e quais os produtos produzidos por eles.

Animal	O que nos fornece	Quais os produtos produzidos
 -----		
 -----		
 -----		
 -----		
 -----		

Respostas: **Boi:** carne, couro; **salsicha, salame, sapato, bolsa, cinto.** **Vaca:** carne e leite; **salsicha, salame, iogurte, queijo.** **Carneiro:** lã, carne; **agasalhos.** **Galinha:** carne, ovos; **bolo, pão.** **Porco:** carne; **linguiça, presunto.** **Abelha:** mel, cera; **xarope, bala, vela.**



Escola Municipal Carlos Chagas E.I.E.F
Rua: Munhoz de Melo nº78 Centro Fone (44) 3434- 1163
CEP: 87840-000 Mirador-PR

E-mail- escola@mirador.pr.gov.br – E-mail:escolacarloschagasmira@gmail.com

6º Quinzena 19/04 a 30/04

Turma: 3º ANO

Nome do aluno (a):

Professor (a): ROSINETE MILITÃO

Vamos colorir o jogo da memória e recortar; com os vertebrados e invertebrados.





Escola Municipal Carlos Chagas E.I.E.F

Rua: Munhoz de Melo nº78 Centro Fone (44) 3434- 1163

CEP: 87840-000 Mirador-PR

E-mail- escola@mirador.pr.gov.br – E-mail:escolacarloschagasmira@gmail.com

6ºQuinzena 19/04 a 30/04

Turma: 3º ANO

Nome do aluno (a):

Professor (a): ROSINETE MILITÃO

COMPONENTE CURRICULAR:LÍNGUA PORTUGUESA

CONTEUDO:PRODUÇÃO DE GÊNEROS PERTENCENTES AO CAMPO VIDA COTIDIANA.



(P.R.EFO4LP11.a.4.57) leitura e compreensão de gêneros.



Escola Municipal Carlos Chagas E.I.E.F
Rua: Munhoz de Melo nº78 Centro Fone (44) 3434- 1163
CEP: 87840-000 Mirador-PR

E-mail- escola@mirador.pr.gov.br – E-mail:escolacarloschagasmira@gmail.com

6ºQuinzena 19/04 a 30/04

Turma: 3º ANO

Nome do aluno (a):

Professor (a): ROSINETE MILITÃO

COMPONENTE CURRICULAR:LÍNGUA PORTUGUESA

CONTEUDO:PRODUÇÃO DE GÊNEROS PERTENCENTES AO CAMPO VIDA COTIDIANA.

ATIVIDADES

1- COMPLETE:
- TÍTULO DA LEITURA:.....
-NOME DA AUTORA:.....

2- CITE 2 CONSELHOS DADOS POR LULU:
A).....
B).....

3- COMPLETE:
O CONTEXTO QUE O URSINHO CITA NA LEITURA É SOBRE A.....
O ISOLAMENTO SOCIAL EVITA A.....
.....
.....



Escola Municipal Carlos Chagas E.I.E.F
Rua: Munhoz de Melo nº78 Centro Fone (44) 3434- 1163
CEP: 87840-000 Mirador-PR

E-mail- escola@mirador.pr.gov.br – E-mail:escolacarloschagasmira@gmail.com

6ºQuinzena 19/04 a 30/04

Turma: 3º ANO

Nome do aluno (a):

Professor (a): ROSINETE MILITÃO

COMPONENTE CURRICULAR:LÍNGUA PORTUGUESA



(P.R.EFO4LP11.a.4.57) leitura e compreensão de gêneros



Escola Municipal Carlos Chagas E.I.E.F
Rua: Munhoz de Melo nº78 Centro Fone (44) 3434- 1163
CEP: 87840-000 Mirador-PR

E-mail- escola@mirador.pr.gov.br – E-mail:escolacarloschagasmira@gmail.com

6ºQuinzena 19/04 a 30/04

Turma: 3º ANO

Nome do aluno (a):

Professor (a): ROSINETE MILITÃO

COMPONENTE CURRICULAR:LÍNGUA PORTUGUESA



(P.R.EFO4LP11.a.4.57) leitura e compreensão de gêneros



Escola Municipal Carlos Chagas E.I.E.F
Rua: Munhoz de Melo nº78 Centro Fone (44) 3434- 1163
CEP: 87840-000 Mirador-PR

E-mail- escola@mirador.pr.gov.br – E-mail:escolacarloschagasmira@gmail.com

6º Quinzena 19/04 a 30/04

Turma: 3º ANO

Nome do aluno (a):

Professor (a): ROSINETE MILITÃO

6 º QUINZENA DE ATIVIDADES

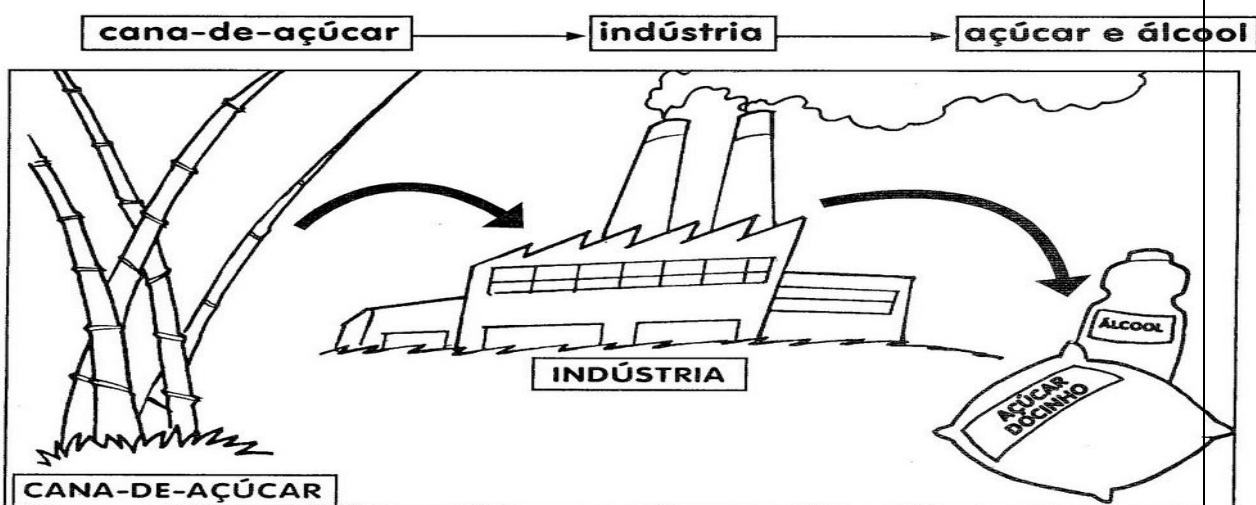
COMPONENTE CURRICULAR: GEOGRAFIA DIA 22 DO 4

SENHORES PAIS OU RESPONSÁVEIS, A CRIANÇA PRECISARÁ DE SEU AUXÍLIO PARA REALIZAR A LEITURA DOS ENUNCIADOS DAS ATIVIDADES.

A INDÚSTRIA

A indústria consiste na transformação da matéria-prima em produtos de consumo ou em produtos que serão a base de outros produtos, por meio de máquinas e do trabalho humano.

Veja os exemplos:



A indústria não funciona só com as máquinas. Ela precisa de:

- **Matéria-prima:** é o produto básico, principal que vai ser utilizado na produção do produto fabricado pela indústria.

- **Mão-de-obra:** são as pessoas que trabalham na indústria. São todas as pessoas em todos os setores da indústria.

- **Tecnologia:** é o domínio da técnica de produção.

- **Capital:** é o dinheiro para investir na compra da matéria-prima, na montagem da indústria.

- **Consumidor:** são as pessoas que compram o produto final, produzido pela indústria.

Dependente de tantos fatores, a indústria não pode instalar-se em lugares distantes e de difícil acesso. Elas quase sempre estão instaladas próximas das grandes cidades.



Escola Municipal Carlos Chagas E.I.E.F

Rua: Munhoz de Melo nº78 Centro Fone (44) 3434- 1163

CEP: 87840-000 Mirador-PR

E-mail- escola@mirador.pr.gov.br – E-mail:escolacarloschagasmira@gmail.com

6º Quinzena 19/04 a 30/04

Turma: 3º ANO

Nome do aluno (a):

Professor (a): ROSINETE MILITÃO

COMPONENTE CURRICULAR: GEOGRAFIA DIA 29 DO 04

Matéria-prima é a **substância com a qual se fabrica os mais variados bens**. É um **produto natural ou transformado** usado como base no processo produtivo das indústrias.

A matéria-prima pode ser de **origem vegetal** (por exemplo, o cacau, matéria-prima para a fabricação do chocolate), **animal** (o couro do gado bovino, caprino ou de outro animal, com os quais se fabricam sapatos, bolsas etc.) **ou mineral** (ferro, ouro, prata, bronze, alumínio, etc.).



Escola Municipal Carlos Chagas E.I.E.F
Rua: Munhoz de Melo nº78 Centro Fone (44) 3434- 1163
CEP: 87840-000 Mirador-PR

E-mail- escola@mirador.pr.gov.br – E-mail:escolacarloschagasmira@gmail.com

6º Quinzena 19/04 a 30/04

Turma: 3º ANO

Nome do aluno (a):

Professor (a): ROSINETE MILITÃO

1. Vamos responder:

a) O que são matérias-primas?

b) Onde são transformadas as matérias-primas?

2. Relacione corretamente as colunas:

(1) matéria- prima de origem animal

(2) matéria-prima de origem vegetal

(3) matéria-prima de origem mineral

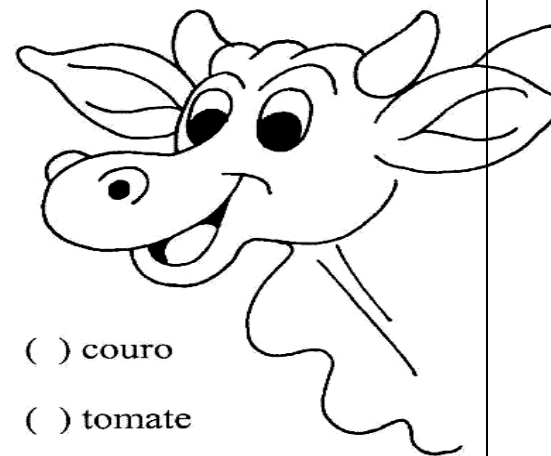

() leite

() trigo

() ovo

() ouro

() milho



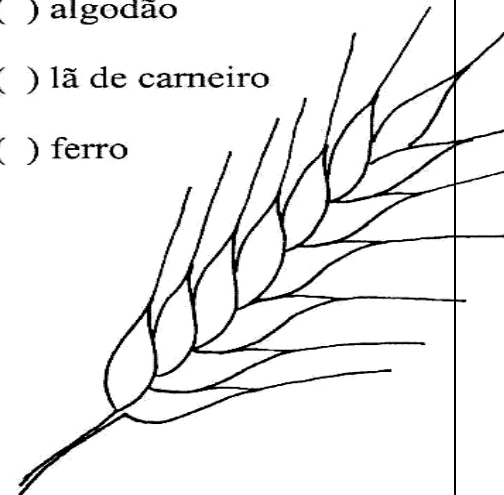
() couro

() tomate

() algodão

() lã de carneiro

() ferro





Escola Municipal Carlos Chagas E.I.E.F

Rua: Munhoz de Melo nº78 Centro Fone (44) 3434- 1163

CEP: 87840-000 Mirador-PR

E-mail- escola@mirador.pr.gov.br – E-mail:escolacarloschagasmira@gmail.com

6ºQuinzena 19/04 a 30/04

Turma: 3º ANO

Nome do aluno (a):

Professor (a): ROSINETE MILITÃO

ESPAÇOS SAGRADOS DA COMUNIDADE



OS ESPAÇOS SAGRADOS SÃO LOCAIS DESTINADOS ÀS PRÁTICAS RELIGIOSAS, ÀS REUNIÕES DE CULTO E DE ENSINO, ONDE AS PESSOAS PODEM VIVENCIAR DE FORMA INDIVIDUAL E COLETIVA A SUA FÉ E RELAÇÃO COM O SAGRADO.

SÃO ALGUNS EXEMPLOS DE ESPAÇOS SAGRADOS: A CASA DE REZA EM ALGUMAS TRADIÇÕES INDÍGENAS, O TERREIRO DO CANDOMBLÉ, A SINAGOGA DO JUDAÍSMO,

A MESQUITA DO ISLAMISMO, O TEMPLO DA FÉ BAHÁ'Í, A CATEDRAL DA IGREJA CATÓLICA, OS TEMPLOS DAS IGREJAS EVANGÉLICAS, ENTRE OUTROS.

Foto: Templo da Fraternidade do Caboclo Tabajara, Cariacica-ES, (2014).

RESPONDA DE ACORDO COM O TEXTO.

1) O QUE SÃO ESPAÇOS SAGRADOS?

2) DESTAQUE DO TEXTO OS EXEMPLOS DE ESPAÇOS SAGRADOS.

3) ESCREVA ABAIXO OQU VOCÊ ENTENDEU SOBRE: O QUE SÃO ESPAÇOS SAGRADAS?



Escola Municipal Carlos Chagas E.I.E.F

Rua: Munhoz de Melo nº78 Centro Fone (44) 3434- 1163

CEP: 87840-000 Mirador-PR

E-mail- escola@mirador.pr.gov.br – E-mail:escolacarloschagasmira@gmail.com

6º Quinzena 19/04 a 30/04

Turma: 3º ANO

Nome do aluno (a):

Professor (a): ROSINETE MILITÃO

4) LIGUE CADA LUGAR SAGRADO AO SEU REPRESENTANTE E PINTE.



Escola Municipal Carlos Chagas E.I.E.F
Rua: Munhoz de Melo nº78 Centro Fone (44) 3434- 1163
CEP: 87840-000 Mirador-PR

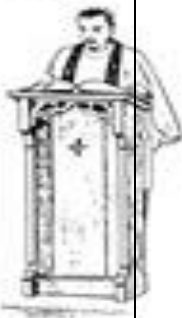
E-mail- escola@mirador.pr.gov.br – E-mail:escolacarloschagasmira@gmail.com

6°Quinzena 19/04 a 30/04

Turma: 3° ANO

Nome do aluno (a):

Professor (a): ROSINETE MILITÃO





Escola Municipal Carlos Chagas E.I.E.F

Rua: Munhoz de Melo nº78 Centro Fone (44) 3434- 1163

CEP: 87840-000 Mirador-PR

E-mail- escola@mirador.pr.gov.br – E-mail:escolacarloschagasmira@gmail.com

6º Quinzena 19/04 a 30/04

Turma: 3º ANO

Nome do aluno (a):

Professor (a): ROSINETE MILITÃO