



Escola Municipal Carlos Chagas E.I.E.F
Localização: Rua Munhoz de Melo nº78 Centro
CEP: 87840-000 Mirador-PR Fone (44) 3434- 1163
E-mail- escola@mirador.pr.gov.br

ESCOLA MUNICIPAL CARLOS CHAGAS. ED.INFANTIL E ENSINO FUNDAMENTAL.

ALUNO(A): _____

PROFESSORA: TATIANA GOMES.


2º ANO B

7ª QUINZENA DE ATIVIDADES

ATIVIDADES DE LÍNGUA PORTUGUESA- 2º ANO (13ª SEMANA – 03/05 À 07/05)

SENHORES PAIS OU RESPONSÁVEIS, A CRIANÇA PRECISARÁ DE SEU AUXÍLIO PARA REALIZAR A LEITURA DOS ENUNCIADOS DAS ATIVIDADES.

OBSERVE A IMAGEM ABAIXO:



AGORA MARQUE X NA ALTERNATIVA QUE RELATA A IMAGEM ACIMA:

JOÃO ESTUDA.

JOÃO VÊ O CAVALO.

DAS DUAS ALTERNATIVA ACIMA A QUE REPRESENTA A IMAGEM NO QUADRO É A ALTERNATIVA QUE ESTA ESCRITO:

JOÃO VÊ O CAVALO.

O QUE ESTÁ ESCRITO NO QUADRINHO É UMA **FRASE.**

FRASE – É UM CONJUNTO DE PALAVRA ORDENADAS, COM SENTIDO QUE COMEÇA COM LETRA MAIÚSCULA E TERMINA COM UM SINAL DE PONTUAÇÃO QUE É PONTO FINAL.

O QUE NÃO É FRASE – MENSAGEM SEM SENTIDO, OU SEM LETRA MAIÚSCULA INICIAL, OU SEM O PONTO FINAL.

AGORA PARA APROFUNDAR O CONHECIMENTO SOBRE **FRASES** ASSISTA O VÍDEO SOBRE **FRASES** NO LINK ABAIXO OU NO GRUPO DO WHATSAPP.

<https://www.youtube.com/watch?v=dEpSXpY3MuM>




1- COM AJUDA DE ADULTO LEIA AS FRASES E PINTE A FRASE QUE MELHOR COMBINE COM CADA CENA:

O PIÃO RODA NO CHÃO.

O PIÃO RODA NA MÃO DE VÍTOR.


O PIÃO RODA NO PÉ DE ÊNIO.



PAPAI VÊ A PIPA VOAR.

A PIPA DA DIANA RASGOU-SE.

A PIPA DE PEPEU NÃO VOA.



2- LEIA A FRASE E CIRCULE A IMAGEM QUE ELA REPRESENTA:

A MEIA É AMARELA.



O MACACO PULA.



A MALA ESTÁ ABERTA.





3- COM AJUDA DE ADULTO LEIA E COPIE AS FRASES, SUBSTITUINDO OS DESENHOS PELAS PALAVRAS DO QUADRO:



DÁ



SAPATO
LEITE
MAMÃE
VACA



É DA



SAPATO
LEITE
MAMÃE
VACA



É DO



BOLA
MENINA
BOLO
MENINO

1. LEIA A FRASE:

BILU É O CACHORRINHO DE BELA.



2. O NOME DO CACHORRINHO É:

- () BALU
- () BELU
- () BILU
- () BELA



3. O NOME DA MENINA É:

- () BALA
- () BELA
- () BILU
- () BETA

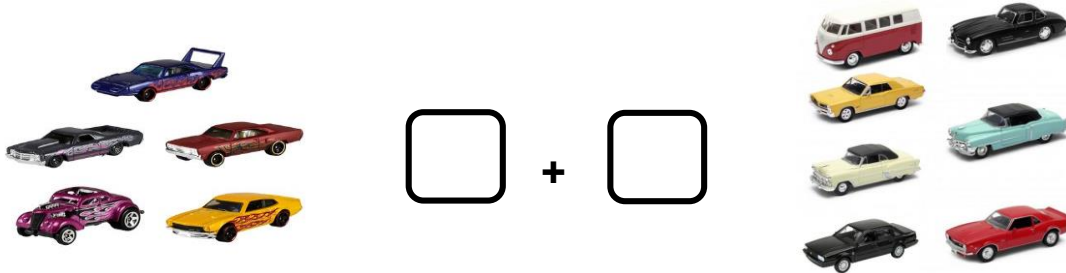


ATIVIDADES DE MATEMÁTICA- 2º ANO (13ª SEMANA – 03/05 À 07/05)

SENHORES PAIS OU RESPONSÁVEIS, A CRIANÇA PRECISARÁ DE SEU AUXÍLIO PARA REALIZAR A LEITURA DOS ENUNCIADOS DAS ATIVIDADES.

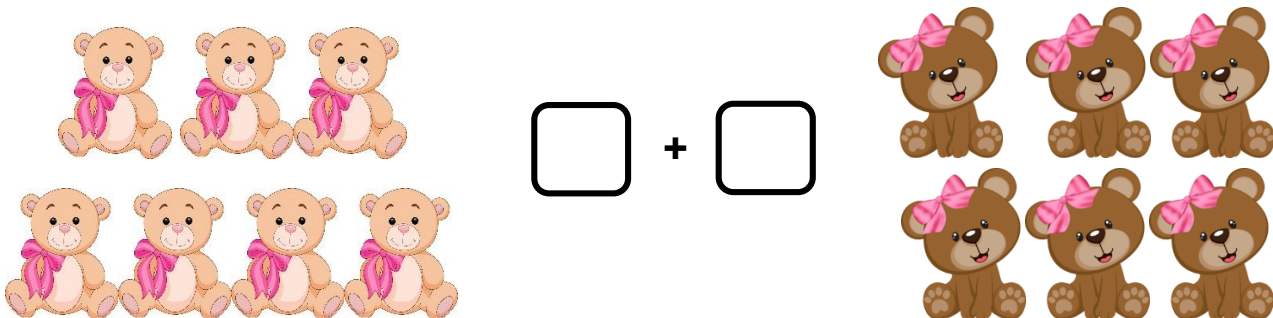
SITUAÇÕES PROBLEMAS

1- MIGUEL TEM 5 CARRINHOS. GANHOU MAIS 7 CARRINHOS DE SEU PAI. QUANTOS CARRINHOS MIGUEL TEM AGORA?




RESPOSTA: MIGUEL FICOU COM _____ CARRINHOS.

2- TALITA TEM 7 URSINHOS E SUA PRIMA ANA TEM 6 URSINHOS. QUANTOS URSINHOS ELAS TÊM JUNTAS?



RESPOSTA: ELAS TÊM JUNTOS _____ URSINHOS.

3- LUCIANA TINHA 12 CALÇAS NO GUARDA ROUPA. LUCIANA RETIROU 6 CALÇAS PARA DOAÇÃO. QUANTAS CALÇAS SOBRARAM?



RESPOSTA: SOBRARAM _____ CALÇAS.



Escola Municipal Carlos Chagas E.I.E.F
Localização: Rua Munhoz de Melo nº78 Centro
CEP: 87840-000 Mirador-PR Fone (44) 3434- 1163
E-mail- escola@mirador.pr.gov.br

ATIVIDADES DE ENSINO RELIGIOSO- 2º ANO (13ª SEMANA – 03/05 À 07/05)

SENHORES PAIS OU RESPONSÁVEIS, A CRIANÇA PRECISARÁ DE SEU AUXÍLIO PARA REALIZAR A LEITURA DOS ENUNCIADOS DAS ATIVIDADES.

AS DIFERENTES RELIGIÕES EXISTENTE NO MUNDO.

NO MUNDO EXISTEM DIFERENTES RELIGIÕES VEJA EXEMPLOS ABAIXO:

		
CRISTIANISMO	BUDISMO	JUDAÍSMO
		
ISLAMISMO	RELIGIÕES INDÍGENAS	RELIGIÕES AFRO-BRASILEIRAS

MUITAS PESSOAS BUSCAM ENSINAMENTOS DA RELIGIÕES PARA TER UMA VIDA FELIZ.

MUITAS RELIGIÕES ENSINAM AS PESSOAS A PRATICAR O BEM, PROMOVER A CARIDADE E A SOLIDARIEDADE.

1- FAÇA DESENHOS SOBRE OS ENSINAMENTOS DAS RELIGIÕES ABAIXO:

RELIGIÕES INDÍGENAS:
RESPEITAR A NATUREZA QUE É
SAGRADA

BUDISMO:
TER COMPAIXÃO POR TODOS OS
SERES



ATIVIDADES DE LÍNGUA PORTUGUESA- 2º ANO (14ª SEMANA – 12/05 À 16/05)

SENHORES PAIS OU RESPONSÁVEIS, A CRIANÇA PRECISARÁ DE SEU AUXÍLIO PARA REALIZAR A LEITURA DOS ENUNCIADOS DAS ATIVIDADES.

VAMOS AGORA COM AJUDA DE UM ADULTO LEIA O TEXTO NO QUADRINHO ABAIXO E RESPONDER ATIVIDADES:

Mãe você é...
Ternura,
carinho e
amor.



1- COMPLETE O QUADRO ABAIXO COM O QUE SE PEDE:

PALAVRA	LETRA INICIAL	LETRA FINAL
Mãe		
Ternura		
Carinho		
Amor		

2- QUANTAS VEZES VOCÊ ABRE A BOCA PARA FALAR AS PALAVRA ABAIXO:

Mãe	
Ternura	
Carinho	
Amor	



Escola Municipal Carlos Chagas E.I.E.F
Localização: Rua Munhoz de Melo nº78 Centro
CEP: 87840-000 Mirador-PR Fone (44) 3434- 1163
E-mail- escola@mirador.pr.gov.br

VOCÊ REPAROU QUE A PALAVRA **Mãe** FOI ESCRITA NO FORMATO DA LETRA DE IMPRENSA. AGORA NOS VAMOS RELEMBRAR A **ALFABETO LETRA DE IMPRENSA MINÚSCULA E MAIÚSCULA:**

A - a	B - b	C - c	D - d	E - e	F - f	G - g	H - h	I - i
J - j	K - k	L - l	M - m	N - n	O - o	P - p	Q - q	R - r
S - s	T - t	U - u	V - v	X - x	W - w	Y - y	Z - z	

1- LIGUE AS LETRAS DE IMPRENSA **MAIÚSCULAS** ÀS SUAS LETRAS **MINÚSCULAS:**

P	f
N	g
D	r
R	p
E	t
G	n
F	d
T	e

2- COM MUITA ATENÇÃO VAMOS QUE ESTÃO ESCRITA EM **MAIÚSCULO** COM A MESMA QUE ESTÁ ESCRITA EM **MINÚSCULO:**

GATO -	- ternura
FACA -	- mãe
MÃE -	- gato
TERNURA -	- faca



3- MARQUE X ONDE TODAS AS PALAVRAS INICIAM COM LETRA **minúsculo**:

- Brasil – bola – cidade – Maria.
- Carolina – faca – lata – pato.
- Davi – Brasil – Ana – Minas Gerais.
- elefante – foca – sapo – tatu.

4- LEIA OS NOMES ABAIXO E **LIGUE** AO DESENHO QUE O REPRESENTA:

boneca



gato



tatu



foca



sapo



rato






ATIVIDADES DE MATEMÁTICA- 2º ANO (14ª SEMANA – 12/05 À 16/05)

SENHORES PAIS OU RESPONSÁVEIS, A CRIANÇA PRECISARÁ DE SEU AUXÍLIO PARA REALIZAR A LEITURA DOS ENUNCIADOS DAS ATIVIDADES.

MAIOR E MENOR QUANTIDADE

1- OBSEVER A IMAGEM ABAIXO COM ATENÇÃO:





O DESENHO AO LADO ESTÁ MOSTRANDO A TURMA DA PROFESSORA MARIA.

RESPONDA:

- NA TURMA DA PROFESSORA MARIA. 2- TEM MAIS MENINAS OU MENINOS?

2- REGISTRE NO QUADRINHO ABAIXO A QUANTIDADE DE MENINOS E MENINAS QUE HÁ NA SALA DE AULA:

MENINOS 	MENINAS 
<input type="text"/>	<input type="text"/>

3- CONFORME O QUE FOI REGISTRADO NA QUANTIDADE DE MENINOS E DE MENINAS. MARQUE X NO NÚMERO MAIOR:

12

13




4- OBSERVE AS FRUTAS NAS CAIXAS E **CIRCULE** O CONJUNTO QUE TEM MAIS FRUTAS, DEPOIS **MARQUE A QUANTIDADE** DE FRUTAS NO QUADRINHO:

_____	_____	_____	_____
_____	_____	_____	_____

5- OBSERVE OS INSETOS, ESCREVA SUAS QUANTIDADES, IDENTIFIQUE O QUE **TEM MENOS** E ESCREVA QUANTOS INSETOS A MENOS DO OUTRO CONJUNTO.

CIRCULE O CONJUNTO QUE TEM MENOS INSETOS.



QUANTOS TEM?



QUANTOS TEM?



EXISTE _____ JOANINHA A MENOS QUE FORMIGAS.



Escola Municipal Carlos Chagas E.I.E.F
Localização: Rua Munhoz de Melo nº78 Centro
CEP: 87840-000 Mirador-PR Fone (44) 3434- 1163
E-mail- escola@mirador.pr.gov.br

ATIVIDADES DE CIÊNCIAS – 2º ANO (14ª SEMANA – 12/05 À 16/05)

SENHORES PAIS OU RESPONSÁVEIS, A CRIANÇA PRECISARÁ DE SEU AUXÍLIO PARA REALIZAR A LEITURA DOS ENUNCIADOS DAS ATIVIDADES.

IMPORTÂNCIA DA VACINAÇÃO.

LEIA E OBSERVE O CARTAZ ABAIXO E RESPONDA O ITEM A SEGUIR.



1- ASSINALE COM UM (X) A AFIRMATIVA CORRETA. O CARTAZ ACIMA ESTÁ INFORMANDO E ANUNCIANDO PARA A POPULAÇÃO QUAL ACONTECIMENTO?

- () A CHEGADA DE UM CIRCO
() CAMPANHA DE VACINAÇÃO

VOCÊ JÁ DEVE TER TOMADO MUITAS VACINAS ATÉ AGORA, MAS SERÁ QUE VOCÊ SABE O QUE É UMA VACINA?

A VACINA É UMA SUBSTÂNCIA QUE PROTEGE NOSSO CORPO CONTRA MICRO-ORGANISMOS, COMO **VÍRUS** E **BACTÉRIAS**. É DIFERENTE DE REMÉDIO, PORQUE O REMÉDIO TOMAMOS QUANDO JÁ ESTAMOS DOENTES, MAS **A VACINA** TEM QUE SER TOMADA PARA PREVENIR AS DOENÇAS, OU SEJA, PARA IMPEDIR QUE ELAS OCORRAM.

3- PINTE COM MUITO CAPRICO O DESENHO SOBRE A VACINAÇÃO:



TODA CRIANÇA TEM DIREITO ÀS VACINAS.



Escola Municipal Carlos Chagas E.I.E.F
Localização: Rua Munhoz de Melo nº78 Centro
CEP: 87840-000 Mirador-PR Fone (44) 3434- 1163
E-mail- escola@mirador.pr.gov.br

ATIVIDADES DE GEOGRAFIA – 2º ANO (14ª SEMANA – 12/05 À 16/05)

SENHORES PAIS OU RESPONSÁVEIS, A CRIANÇA PRECISARÁ DE SEU AUXÍLIO PARA REALIZAR A LEITURA DOS ENUNCIADOS DAS ATIVIDADES.



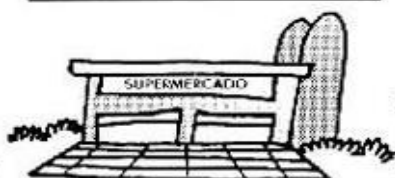
ESPAÇO DE VIVÊNCIA

LUGARES SÃO ESPAÇO DE VIVÊNCIA OU SEJA ESPAÇO CRIADO E PERCEBIDO PELO HOMEM ONDE REALIZAMOS ATIVIDADES.

A CADA ESPAÇO DE VIVÊNCIA TEM SUAS CARACTERÍSTICAS DIFERENTES.
POR EXEMPLO:

SUA CASA
UMA PRAÇA
A ESCOLA
A RUA

1- MARQUE X NA IMAGEM NO QUAL O LUGAR DE VIÊNCIA VOCÊ USA PARA BRINCAR:





ATIVIDADES DE ENSINO RELIGIOSO – 2º ANO (14ª SEMANA – 12/05 À 16/05)

SENHORES PAIS OU RESPONSÁVEIS, A CRIANÇA PRECISARÁ DE SEU AUXÍLIO PARA REALIZAR A LEITURA DOS ENUNCIADOS DAS ATIVIDADES.

CONVIVENDO COM PESSOAS DE DIFERENTES RELIGIÕES.

AS PESSOAS DE TODAS AS RELIGIÕES DEVEM SER TRATADAS COM RESPEITO E ATENÇÃO.

RESPEITAR OS OUTROS SIGNIFICA:

- **VIVER SEM BRIGAS, CULTURAS SEMPRE A PAZ;**
- **NÃO FAER AOS OUTROS O QUE NÃO QUEREMOS QUE OS OUTROS NOS FAÇAM;**
- **AJUDAR OS OUTROS E ACEITAR A AJUDA DELES;**
- **DIALOGAR COM AS PESSOAS;**
- **PROCURAR SER SOLIDÁRIO, PRINCIPALMENTE COM AQUELES QUE MAIS PRECISAM DE NOSSA AJUDA.**

1- AGORA QUE SABEMOS COMO DEVEMOS CONVIVER COM PESSOAS DE DIFERENTES RELIGIÕES. PINTÉ AS ATITUDES QUE DEVEMOS TER COM AS PESSAS PARA VIVERNOS EM PAZ.





Escola Municipal Carlos Chagas E.I.E.F
Localização: Rua Munhoz de Melo nº78 Centro
CEP: 87840-000 Mirador-PR Fone (44) 3434- 1163
E-mail- escola@mirador.pr.gov.br

ESCOLA MUNICIPAL CARLOS CHAGAS. ED.INFANTIL E ENSINO FUNDAMENTAL.

ALUNO(A): _____

PROFESSORA: TATIANA GOMES.

2º ANO B

2ª AVALIAÇÃO 1º TRIMESTRE – 2º ANO

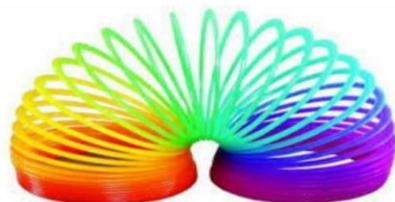
LINGUA PORTUGUESA (TERÇA - FEIRA – 04/05)

SENHORES PAIS OU RESPONSÁVEIS, A CRIANÇA PRECISARÁ DE SEU AUXÍLIO PARA REALIZAR A LEITURA DOS ENUNCIADOS DAS ATIVIDADES.

1- ESCREVA SEU NOME COMPLETO NO QUADRO ABAIXO: (D 28)

2- MARQUE X ONDE ESTÁ ESCRITO O NOME DO DESENHO EM LETRA miúscula: (D 04)

- Bola
- MOLA
- mola
- BOLA



3- MARQUE O QUADRO DA SÍLABA QUE COMEÇA O NOME DO DESENHO:(D 08)

- BI
- LU
- GO
- TA





Escola Municipal Carlos Chagas E.I.E.F
Localização: Rua Munhoz de Melo nº78 Centro
CEP: 87840-000 Mirador-PR Fone (44) 3434- 1163
E-mail- escola@mirador.pr.gov.br

4- COMPLETE COM AS SÍLABAS BA – BE - BI – BO – BU AS PALAVRAS ABAIXO: (D 08)



____ LANÇA



A ____ CAXI



____ LO



____ LANÇO



____ TERIA



____ Ú



____ TERRABA

5- PINTE QUANTAS VEZES VOCÊ ABRE A BOCA PARA FALAR AS PALAVRA ABAIXO: (D 10)

VESTIDO	
VIZINHA	
VASILHA	

6- LEIA COM AUXÍLIO DE UM ADULTO E MARQUE X NA RESPOSTA ABAIXO: (D 14)

PAI,
FUI JOGAR BOLA NO CAMPINHO.
BEIJO
BETO

- O TEXTO ACIMA SERVE PARA QUE:

- CONTAR UMA PIADA.
- DAR UM RECADO.
- ENSINAR UM JOGO
- FAZER UM CONVITR



2ª AVALIAÇÃO 1º TRIMESTRE – 2º ANO


MATEMÁTICA (QUINTA - FEIRA – 06/05)

SENHORES PAIS OU RESPONSÁVEIS, A CRIANÇA PRECISARÁ DE SEU AUXÍLIO PARA REALIZAR A LEITURA DOS ENUNCIADOS DAS ATIVIDADES.


1- VEJA O DESENHO DO PALHAÇO PICOLÉ:




FAÇA UM X NO QUADRINHO QUE REPRESENTA A FORMA GEOMÉTRICA QUE ENFEITA A ROUPA DO PALHAÇO.



A)

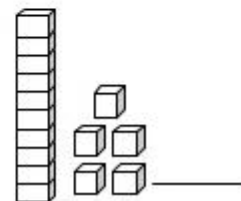
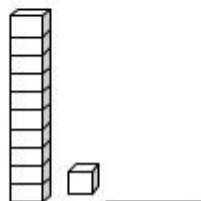
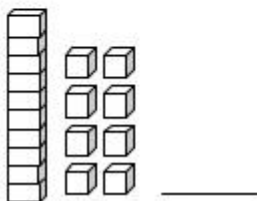
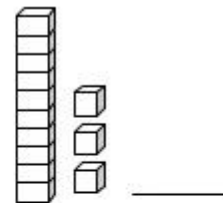
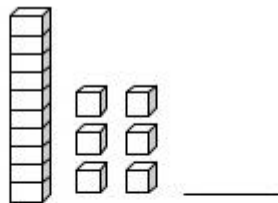
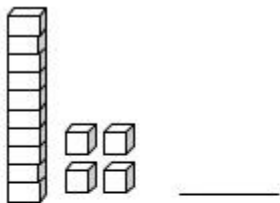


B)



C)

2- COLOQUE NAS LINHAS AO LADO O NÚMERO CORRESPONDENTE O QUE ESTÁ SENDO REPRESENTADO PELO MATERIAL DOURADO:





Escola Municipal Carlos Chagas E.I.E.F
Localização: Rua Munhoz de Melo nº78 Centro
CEP: 87840-000 Mirador-PR Fone (44) 3434- 1163
E-mail- escola@mirador.pr.gov.br

3- LIGUE OS NÚMEROS ABAIXO A SUA ESCRITA POR EXTENSO:

2
5
7
10

DEZ
SETE
DOIS
CINCO

4- ANA FEZ 14 CAIXINHAS DE MADEIRA, E 4 SE QUEBRARAM, QUANTAS RESTARAM?



A) 9

B) 10

C) 11

5- RODRIGO TEM 15 BOLINHAS DE GUDE. ELE TERÁ QUE GUARDA LAS EM 3 SAQUINHOS QUE DEVERÁ TER A MESMA QUANTIDADE.

VAMOS AJUDA-LO DESENHANDO NOS SAQUINHOS AS BOLINHAS DE GUDE COM AS MESMA QUANTIDADE:



FAÇA UM X NO QUADRADINHO QUE MOSTRA QUANTAS BOLINHAS DE GUDE SERÃO GUARDADAS EM CADA SAQUINHO.

A) 15

B) 3

C) 5



Escola Municipal Carlos Chagas E.I.E.F
Localização: Rua Munhoz de Melo nº78 Centro
CEP: 87840-000 Mirador-PR Fone (44) 3434- 1163
E-mail- escola@mirador.pr.gov.br

2ª AVALIAÇÃO 1º TRIMESTRE – 2º ANO

CIÊNCIA (QUARTA - FEIRA – 05/05)

SENHORES PAIS OU RESPONSÁVEIS, A CRIANÇA PRECISARÁ DE SEU AUXÍLIO PARA REALIZAR A LEITURA DOS ENUNCIADOS DAS ATIVIDADES.

1- SABEMOS PARA TERMOS UMA VIDA SAUDÁVEL PRECISAMOS SE ALIMENTAR COM ALIMENTOS SAUDÁVEIS.

AGORA **CIRCULE** NAS IMAGENS ABAIXO OS **ALIMENTOS SAUDÁVEIS**:



2- MARQUE X NO CARDÁPIO ABAIXO EM QUE DEVEMOS EVITAR PARA TERMOS UMA VIDA SAUDÁVEL:



