



Escola Municipal Carlos Chagas E.I.E.F
Rua: Munhoz de Melo nº78 Centro Fone (44) 3434- 1163
CEP: 87840-000 Mirador-PR
E-mail- escola@mirador.pr.gov.br – E-mail:escolacarloschagasmira@gmail.com

8º Quinzena : 17/05 a 28/05

Turma: 2º ANO

Nome do aluno (a):

Professor (a): Rosinete Militão

COMPONENTE CURRICULAR: LÍNGUA PORTUGUESA.



O PATINHO

O PATINHO AMARELINHO SAIU DA CASCA DO OVO.
E DEPRESSA FOI PROCURAR O LAGUINHO PARA NADAR.
E DEPOIS BEM MOLHADINHO SAIU PELA MAMÃE A PROCURAR
E A MAMÃE PATA BEM DEPRESSA, LEVOU-O PARA O NINHO
QUENTINHO.

QUESTÕES

1) QUAL É O TÍTULO DO TEXTO?

R: _____

2) QUAL É A COR DO PATINHO?

R: _____

3) COMO NASCEU O PATINHO?

R: _____

4) O QUE O PATINHO FEZ DEPOIS DE SAIR DO OVO?

R: _____

5) O QUE ELE FEZ DEPOIS DE NADAR?

R: _____

6) FAÇA UMA ILUSTRAÇÃO DA HISTÓRIA:



Escola Municipal Carlos Chagas E.I.E.F
Rua: Munhoz de Melo nº78 Centro Fone (44) 3434- 1163
CEP: 87840-000 Mirador-PR
E-mail- escola@mirador.pr.gov.br – E-mail:escolacarloschagasmira@gmail.com

8º Quinzena : 17/05 a 28/05


Turma: 2º ANO

Nome do aluno (a):

Professor (a): Rosinete Militão

COMPONENTE CURRICULAR: MATEMÁTICA.

ESSES SÃO ALGUNS ALUNOS DO 2º ANO. ENUMERE-OS.



○ ○ ○ ○ ○ ○ ○ ○ ○ ○

OBSERVE:

QUANTAS MENINAS? _____

QUANTOS MENINOS? _____

QUANTOS COM BONÉS? _____

QUANTAS MENINAS COM CABELO PRESO? _____

TÊM MAIS MENINAS OU MENINOS? _____

SOME.



$$\begin{array}{|c|} \hline \text{4} \\ \hline \end{array} + \begin{array}{|c|} \hline \text{3} \\ \hline \end{array} = \square$$

$$\begin{array}{|c|} \hline \text{4} \\ \hline \end{array} + \begin{array}{|c|} \hline \text{1} \\ \hline \end{array} = \square$$

$$\begin{array}{|c|} \hline \text{4} \\ \hline \end{array} + \begin{array}{|c|} \hline \text{4} \\ \hline \end{array} = \square$$

$$\begin{array}{|c|} \hline \text{4} \\ \hline \end{array} + \begin{array}{|c|} \hline \text{1} \\ \hline \end{array} = \square$$

$$\begin{array}{|c|} \hline \text{4} \\ \hline \end{array} + \begin{array}{|c|} \hline \text{5} \\ \hline \end{array} = \square$$

$$\begin{array}{|c|} \hline \text{4} \\ \hline \end{array} + \begin{array}{|c|} \hline \text{3} \\ \hline \end{array} = \square$$



8º Quinzena : 17/05 a 28/05

Turma: 2º ANO

Nome do aluno (a):

Professor (a): Rosinete Militão

COMPONENTE CURRICULAR: LÍNGUA PORTUGUESA.

O PATO DE EDU

DONA NINA DEU UM PATO AO SEU NETO EDU.

EDU VIU A AVE E DISSE:

— VOVÓ, O PATO É TÃO BONITO! ELE SABE NADAR?

— SIM, EDU, ELE NADA MUITO BEM!

Graça Boquet

Dani Educar



FAÇA UM X NA ALTERNATIVA CORRETA

1. QUAL O NOME DO ANIMAL DA HISTÓRIA?

- A) TATU
- B) SAPO
- C) VACA
- D) PATO

2. O QUE DONA NINA É DE EDU?

- A) MÃE
- B) VOVÓ
- C) PAI
- D) TIA

3. EDU PERGUNTOU SE COM O PATO SABIA:

- A) NADAR
- B) AFUNDAR
- C) COMER
- D) CORRER



Escola Municipal Carlos Chagas E.I.E.F
Rua: Munhoz de Melo nº78 Centro Fone (44) 3434- 1163
CEP: 87840-000 Mirador-PR
























E-mail- escola@mirador.pr.gov.br – E-mail:escolacarloschagasmira@gmail.com

8º Quinzena : 17/05 a 28/05

Turma: 2º ANO

Nome do aluno (a):

Professor (a): Rosinete Militão

	A 	E 	I 	O 	U 
B 	BA	BE	BI	BO	BU
C 	CA			CO	CU
D 	DA	DE	DI	DO	DU
F 	FA	FE	FI	FO	FU
G 	GA			GO	GU
H 	HA	HE	HI	HO	HU
J 	JA	JE	JI	JO	JU
L 	LA	LE	LI	LO	LU
M 	MA	ME	MI	MO	MU
N 	NA	NE	NI	NO	NU
P 	PA	PE	PI	PO	PU
Q 		QUE	QUI		
R 	RA	RE	RI	RO	RU
S 	SA	SE	SI	SO	SU
T 	TA	TE	TI	TO	TU
V 	VA	VE	VI	VO	VU
X 	XA	XE	XI	XO	XU
Z 	ZA	ZE	ZI	ZO	ZU

AS LETRAS **K**, **W** E **Y** FAZEM PARTE DO ALFABETO E SÃO MUITO UTILIZADAS EM NOMES PRÓPRIOS.



Escola Municipal Carlos Chagas E.I.E.F
Rua: Munhoz de Melo nº78 Centro Fone (44) 3434- 1163
CEP: 87840-000 Mirador-PR
E-mail- escola@mirador.pr.gov.br – E-mail:escolacarloschagasmira@gmail.com

8º Quinzena : 17/05 a 28/05


Turma: 2º ANO

Nome do aluno (a):

Professor (a): Rosinete Militão

COMPONENTE CURRICULAR: CIÊNCIAS.

O PLANETA TERRA



A TERRA É O PLANETA EM QUE VIVEMOS.
NELA ENCONTRAMOS O MAR, AS PLANTAS, AS
PESSOAS E OS ANIMAIS.
A TERRA NÃO TEM LUZ PRÓPRIA.
ELA RECEBE A LUZ E O CALOR DO SOL.

1) QUAL É O NOME DO PLANETA EM QUE VIVEMOS?

2) RETIRE DO TEXTO

A) 3 PALAVRAS QUE COMEÇAM COM A LETRA **P**.

B) 3 PALAVRAS QUE TENHAM 3 LETRAS.

C) DIGA O NÚMERO DE LETRAS DESTAS PALAVRAS:

TERRA

ANIMAIS

RECEBE

CALOR



8º Quinzena : 17/05 a 28/05

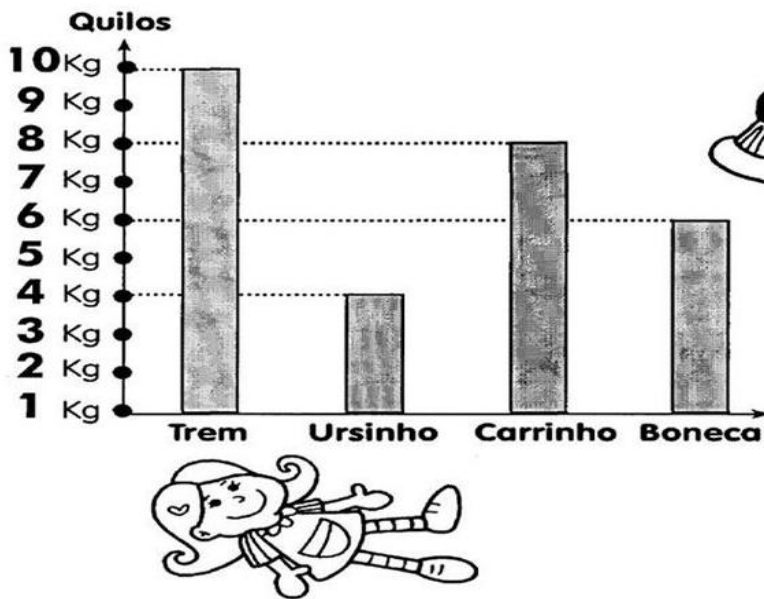
Turma: 2º ANO

Nome do aluno (a):

Professor (a): Rosinete Militão

COMPONENTE CURRICULAR: MATEMÁTICA.

Veja, no gráfico abaixo, quanto pesa cada brinquedo e, depois, responda:



A) Qual o brinquedo **mais pesado**?

- Boneca.
 Trem.
 Carrinho.

B) Quantos quilos pesam o **carrinho** e a **boneca** juntos?

- 12 quilos.
 13 quilos.
 14 quilos.

C) Qual a **diferença** de peso entre a **boneca** e o **ursinho**?

- 2 quilos.
 3 quilos.
 4 quilos.



Escola Municipal Carlos Chagas E.I.E.F
Rua: Munhoz de Melo nº78 Centro Fone (44) 3434- 1163
CEP: 87840-000 Mirador-PR
E-mail- escola@mirador.pr.gov.br – E-mail:escolacarloschagasmira@gmail.com

8º Quinzena : 17/05 a 28/05

Turma: 2º ANO

Nome do aluno (a):

Professor (a): Rosinete Militão

COMPONENTE CURRICULAR: GEOGRAFIA.

O MOVIMENTO DO SOL E AS SOMBRAS



DURANTE O DIA, COM O MOVIMENTO DO SOL, AS SOMBRAS TAMBÉM SE MOVIMENTAM. AO LONGO DE UM DIA, A SOMBRA É MÁXIMA NO NASCER E NO POR DO SOL, E É MÍNIMA AO MEIO-DIA. ISSO EXPLICA AS DIFERENÇAS NO TAMANHO DAS SOMBRAS NO DECORRER DO DIA (MANHÃ, MAIS COMPRIDA; AO MEIO DIA QUASE NÃO SE OBSERVA A SOMBRA; À TARDE, MAIS COMPRIDA), DEVIDO À POSIÇÃO APARENTE DO SOL NO CÉU.

1 -DEPOIS DE LER COM ATENÇÃO O TEXTO ACIMA, AGORA COMPLETE:

- a) DURANTE O ----- , COM O MOVIMENTO DO -----, AS -----
TAMBÉM SE MOVIMENTAM.
- b) AO LONGO DE UM DIA, A SOMBRA É MÁXIMA NO -----E NO -----
DO -----,E É MÍNIMA AO ----- .
- c) ISSO EXPLICA AS -----NO TAMANHO DAS -----
NO DECORRER DO DIA.

2- MARQUE (x) NA RESPOSTA CERTA:

NO DECORRER DO DIA AS SOMBRAS MUDAM DE POSIÇÃO, DEVIDO A POSIÇÃO APARENTE DO SOL NO CÉU.

a) COMO FICAM DE MANHÃ :

() MAIS COMPRIDA. () MAIS CURTA.

b) COMO FICAM Á TARDE :

() MAIS COMPRIDA. () MAIS CURTA.

c) COMO FICAM AO MEIO DIA:

() MAIS COMPRIDA. () QUASE NÃO SE VÊ A SOMBRA.



Escola Municipal Carlos Chagas E.I.E.F
Rua: Munhoz de Melo nº78 Centro Fone (44) 3434- 1163
CEP: 87840-000 Mirador-PR
E-mail- escola@mirador.pr.gov.br – E-mail:escolacarloschagasmira@gmail.com

8º Quinzena : 17/05 a 28/05

Turma: 2º ANO

Nome do aluno (a):

Professor (a): Rosinete Militão

COMPONENTE CURRICULAR: LÍNGUA PORTUGUESA

FICHA DE LEITURA - LETRA P

PA – PE – PI – PO – PU
A PATA PULOU NA LAGOA.



@danieducar.com.br

POTE	PANELA	PULO
PENA	PATINETE	PELUDO
PIPOCA	PEPINO	PERIGO
PETECA	PIADA	PEIXE
PIRULITO	PALITO	PATO

FICHA DE LEITURA - LETRA Q

QUA – QUE – QUI
QUICO COMEU QUIBE E QUEIJO.



@danieducar.com.br

QUILO	QUIABO	QUEIJO
QUIMONO	QUERO	QUIS
QUIBE	QUEDA	QUINZE
QUADRO	QUINDIM	QUEIXO
QUATI	QUATRO	QUINTA



Escola Municipal Carlos Chagas E.I.E.F
Rua: Munhoz de Melo nº78 Centro Fone (44) 3434- 1163
CEP: 87840-000 Mirador-PR
E-mail- escola@mirador.pr.gov.br – E-mail:escolacarloschagasmira@gmail.com

8º Quinzena : 17/05 a 28/05

Turma: 2º ANO

Nome do aluno (a):

Professor (a): Rosinete Militão

COMPONENTE CURRICULAR: ENSINO RELIGIOSO



ESSA É A SUA ÁRVORE. ELA PRECISA SER REGADA DE BONS SENTIMENTOS E ATITUDES PARA QUE VOCÊ SEJA CAPAZ DE PRATICAR E EMPATIA. COM A AJUDA DE UM ADULTO, LEIA AS PALAVRAS ABAIXO E AS PALAVRAS QUE VOCÊ COLOCARIA DENTRO DOS CORAÇÕES.

NÃO SE ESQUEÇA QUE EMPATIA É SABER SE COLOCAR NO LUGAR DO PRÓXIMO!

AMOR

ABANDONO

AFETO

PAZ

ÓDIO

CUIDADO

RAIVA

DOAÇÃO

CARINHO

nos corações.





8º Quinzena : 17/05 a 28/05

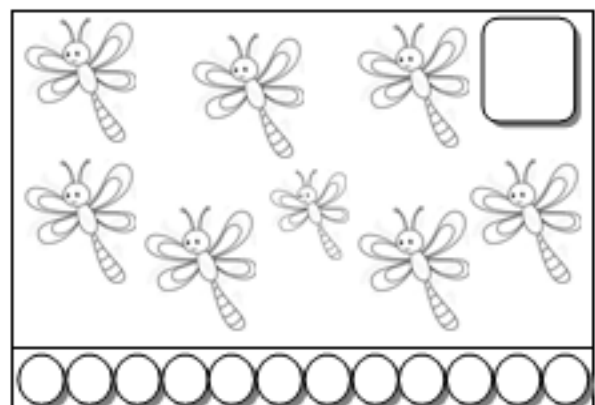
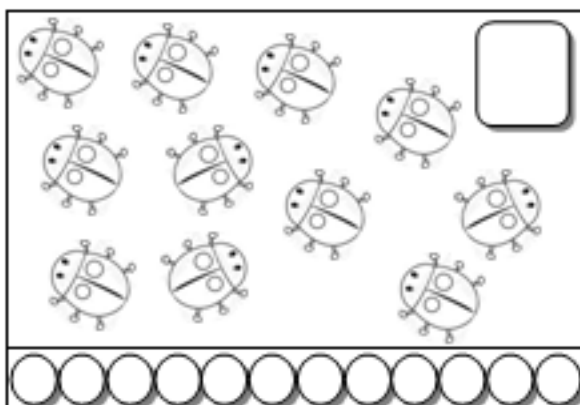
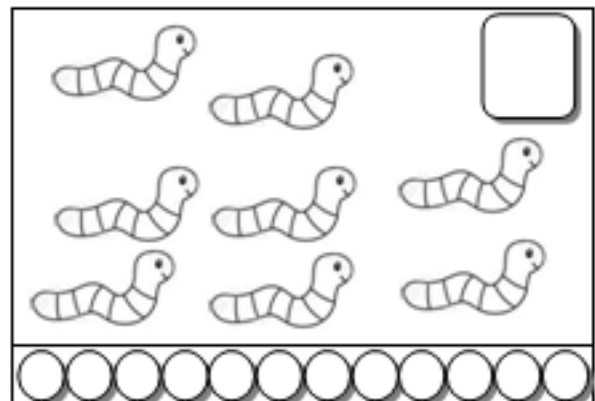



Turma: 2º ANO

Nome do aluno (a):

Professor (a): Rosinete Militão

COMPONENTE CURRICULAR: MATEMÁTICA

- Conte e descubra quantos animais há em cada conjunto:



- Colorir o conjunto que tem o maior número de animais.





Escola Municipal Carlos Chagas E.I.E.F
Rua: Munhoz de Melo nº78 Centro Fone (44) 3434- 1163
CEP: 87840-000 Mirador-PR
E-mail- escola@mirador.pr.gov.br – E-mail:escolacarloschagasmira@gmail.com

8º Quinzena : 17/05 a 28/05

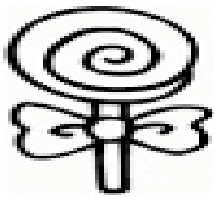
Turma: 2º ANO

Nome do aluno (a):

Professor (a): Rosinete Militão

COMPONENTE CURRICULAR: LÍNGUA PORTUGUESA.

COMPLETE A MÚSICA



QUE BATE BATE

PIRULITO QUE JÁ

QUEM DE MIM É ELA

QUEM GOSTA DELA EU

DE ACORDO COM A MÚSICA ORGANIZE AS FRASES ABAIXO:

QUEM GOSTA DE MIM É ELA

PIRULITO QUE BATE BATE

QUEM GOSTA DELA SOU EU

PIRULITO QUE JÁ BATEU



8º Quinzena : 17/05 a 28/05

Turma: 2º ANO


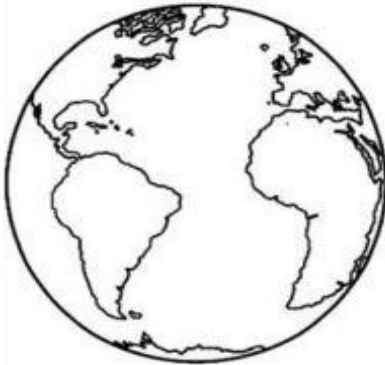
Nome do aluno (a):

Professor (a): Rosinete Militão

COMPONENTE CURRICULAR: CIÊNCIAS

NOSSO PLANETA

1 – PINTE O DESENHO QUE REPRESENTA NOSSO PLANETA.



2 – OBSERVANDO OS PLANETAS ACIMA, VOCÊ PODE DIZER QUE TODOS ELES SÃO:

- TRIANGULARES
- QUADRADOS
- ARREDONDADOS
- RETANGULARES





8º Quinzena : 17/05 a 28/05

Turma: 2º ANO

Nome do aluno (a):

Professor (a): Rosinete Militão

NOSSO PLANETA

1 – LIGUE O NOSSO PLANETA AO SEU NOME.

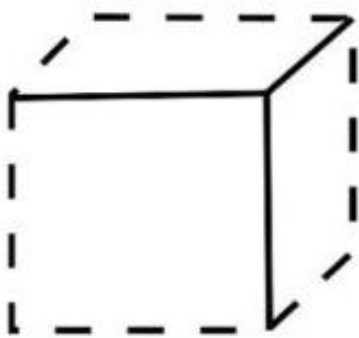


TERRA

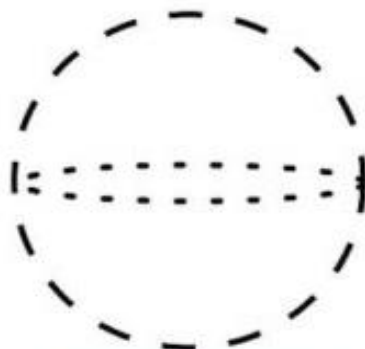
VÊNUS

MARTE

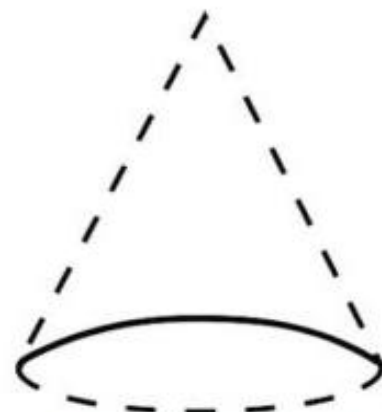
2 – OBSERVE AS FIGURAS GEOMÉTRICAS, CUBRA O TRACEJADO E CIRCULE A FORMA QUE É PARECIDA COM A FORMA DO NOSSO PLANETA.



CUBO



ESFERA



CONE



Escola Municipal Carlos Chagas E.I.E.F
Rua: Munhoz de Melo nº78 Centro Fone (44) 3434- 1163
CEP: 87840-000 Mirador-PR

E-mail- escola@mirador.pr.gov.br – E-mail:escolacarloschagasmira@gmail.com

8º Quinzena : 17/05 a 28/05

Turma: 2º ANO

Nome do aluno (a):

Professor (a): Rosinete Militão

COMPONENTE CURRICULAR: MATEMÁTICA

- Conte, descubra quantos animais há em cada conjunto e pinte a resposta certa:

1	2	3	4	5	6
7	8	9	10	11	12
13	14	15	16	17	18

1	2	3	4	5	6
7	8	9	10	11	12
13	14	15	16	17	18

1	2	3	4	5	6
7	8	9	10	11	12
13	14	15	16	17	18

1	2	3	4	5	6
7	8	9	10	11	12
13	14	15	16	17	18

1	2	3	4	5	6
7	8	9	10	11	12
13	14	15	16	17	18

1	2	3	4	5	6
7	8	9	10	11	12
13	14	15	16	17	18



Escola Municipal Carlos Chagas E.I.E.F
Rua: Munhoz de Melo nº78 Centro Fone (44) 3434- 1163
CEP: 87840-000 Mirador-PR
E-mail- escola@mirador.pr.gov.br – E-mail:escolacarloschagasmira@gmail.com

8º Quinzena : 17/05 a 28/05

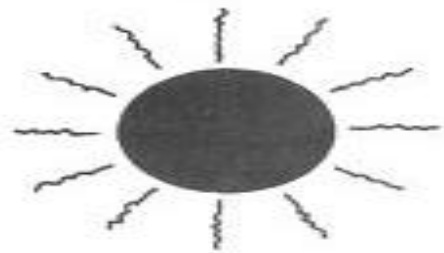
Turma: 2º ANO

Nome do aluno (a):

Professor (a): Rosinete Militão

COMPONENTE CURRICULAR: GEOGRAFIA

- Ligar os elementos iguais à sua sombra.





8º Quinzena : 17/05 a 28/05

Turma: 2º ANO

Nome do aluno (a):

Professor (a): Rosinete Militão

COMPONENTE CURRICULAR: MATEMÁTICA

RESOLVA AS SOMAS E PINTE OS OVOS QUE O RESULTADO SEJA 10.

DEZENAS EXATAS

5+5
7+4
8+1
6+4
9+5
8+2
5+5
4+4
1+9
6+4
4+2
3+7
0+1
2+1
2+8
2+1
0+2
8+2
4+4
2+9



Escola Municipal Carlos Chagas E.I.E.F
Rua: Munhoz de Melo nº78 Centro Fone (44) 3434- 1163
CEP: 87840-000 Mirador-PR
E-mail- escola@mirador.pr.gov.br – E-mail:escolacarloschagasmira@gmail.com

8º Quinzena : 17/05 a 28/05


Turma: 2º ANO

Nome do aluno (a):

Professor (a): Rosinete Militão

COMPONENTE CURRICULAR: LÍNGUA PORTUGUESA

FICHA DE LEITURA - LETRA R



RA – RE – RI – RO – RU

A ROUPA DE RENATA FICOU SUJA. damieducar.com.br

RODO	RALADO	REI
RUA	RABO	REMO
ROLO	ROUPA	RELÓGIO
REDE	ROSA	RETO
RIA	RÁDIO	ROBÔ

FICHA DE LEITURA - LETRA S



SA – SE – SI – SO – SU

MAMÃE FEZ SALADA DE SOJA. damieducar.com.br

SOPA	SELO	SINO
SUADO	SEREIA	SUJO
SECO	SALA	SAÍDA
SALADA	SACOLA	SACO
SAIA	SAPATO	SUCO



8º Quinzena : 17/05 a 28/05

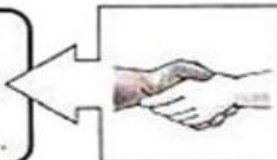
Turma: 2º ANO

Nome do aluno (a):

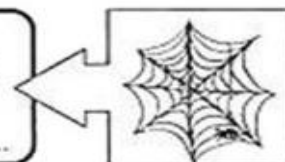
Professor (a): Rosinete Militão

COMPONENTE CURRICULAR: ENSINO RELIGIOSO


★ Ordene as letras e descubra os valores.


M A Z I D A E 


 B O N D E D A

D I D E O A Ç Ã C 

 L E F I C D I E A D

T S U J I A Ç 

 R S E P I T E O

N U I O Ã 

AMIZADE- BONDADE - DEDICAÇÃO - FELICIDADE - JUSTIÇA - RESPEITO - UNIÃO