



Escola Municipal Carlos Chagas E.I.E.F
Rua: Munhoz de Melo, 78 Centro - Fone (44) 3434- 1163.
CEP 87840 000. Mirador-PR
E-mail- escola@mirador.pr.gov.br – E-mail:escolacarloschagasmira@gmail.com

Semana: 19/04 a 30/04/2021

Turma: 2º ANO A

Nome do aluno (a):

Professor (a): Rosinete Militão

6 º QUINZENA DE ATIVIDADES

COMPONENTE CURRICULAR: LÍNGUA PORTUGUESA. (TERÇA - FEIRA – 20/04)

SENHORES PAIS OU RESPONSÁVEIS, A CRIANÇA PRECISARÁ DE SEU AUXÍLIO PARA REALIZAR A LEITURA DOS ENUNCIADOS DAS ATIVIDADES.

LEIA A QUADRINHA: **A E I O U**

SÃO CINCO AS LETRINHAS, E NÃO SÃO
TODAS IGUAIS.

ELAS BRINCAM BEM JUNTINHAS


E SÃO CHAMADAS DE VOGAIS.

(GRAÇA BATITUCI)

- QUANTAS VOGAIS SÃO? _____

- CIRCULE A **PRIMEIRA** E A **ÚLTIMA** PALAVRA NO TEXTO.

- PINTE AS VOGAIS QUE APARECEM NOS NOMES DOS ANIMAIS:





Escola Municipal Carlos Chagas E.I.E.F
Rua: Munhoz de Melo, 78 Centro - Fone (44) 3434- 1163.
CEP 87840 000. Mirador-PR

E-mail- escola@mirador.pr.gov.br – E-mail:escolacarloschagasmira@gmail.com

Semana: 19/04 a 30/04/2021



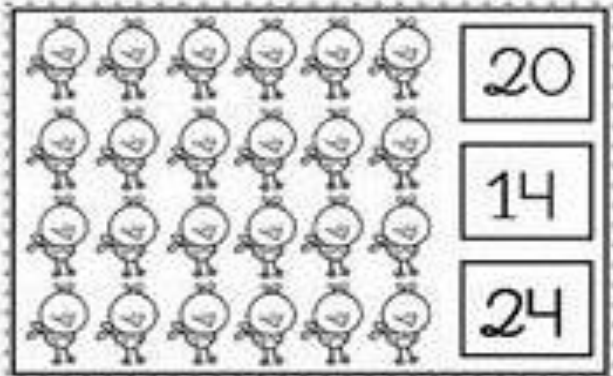

Turma: 2º ANO A

Nome do aluno (a):

Professor (a): Rosinete Militão

COMPONENTE CURRICULAR: MATEMÁTICA. (TERÇA - FEIRA – 20/04)

1- CONTE E PINTE A QUANTIDADE CORRETA EM CADA QUADRO:



2- DÊ O ANTECESSOR E O SUCESSOR DOS NÚMEROS:

_____ 5 _____

_____ 23 _____

_____ 9 _____

_____ 16 _____

_____ 12 _____

_____ 28 _____



Escola Municipal Carlos Chagas E.I.E.F
Rua: Munhoz de Melo, 78 Centro - Fone (44) 3434- 1163.
CEP 87840 000. Mirador-PR
E-mail- escola@mirador.pr.gov.br – E-mail:escolacarloschagasmira@gmail.com

Semana: 19/04 a 30/04/2021






Turma: 2º ANO A

Nome do aluno (a):

Professor (a): Rosinete Militão

COMPONENTE CURRICULAR: MATEMÁTICA. (QUINTA - FEIRA – 22/04)

1) CONTE A QUANTIDADE DE CARRINHOS DE CADA CRIANÇA.

CRIANÇAS	CARRINHOS	TOTAL
ANDRÉ		
ALEXANDRE		
JOÃO		
JEAN		
RENAN		

2) AGORA, RESPONDA:

- QUEM TEM **MAIS** CARRINHOS? _____

- QUEM TEM **MENOS** CARRINHOS? _____

- QUANTOS CARRINHOS TEM **JEAN**? _____

QUANTOS CARRINHOS ELES TÊM **JUNTOS**? _____



Escola Municipal Carlos Chagas E.I.E.F
Rua: Munhoz de Melo, 78 Centro - Fone (44) 3434- 1163.

CEP 87840 000. Mirador-PR

E-mail- escola@mirador.pr.gov.br – E-mail:escolacarloschagasmira@gmail.com

Semana: 19/04 a 30/04/2021

Turma: 2º ANO A

Nome do aluno (a):

Professor (a): Rosinete Militão

COMPONENTE CURRICULAR: GEOGRAFIA. (QUINTA - FEIRA - 22/04)



Geografia








O trabalho na Indústria

Complete e leia: ba tra lham.

Nas cidades as pessoas em indústrias ou fábricas. As indústrias transformam matérias-primas em produtos industrializados. tu re Na za

Matéria-prima é o material que a fornece. Produto industrializado é aquele já transformado pelas qui nas má

Veja os exemplos:

Matéria-prima	Produto industrializado
 TE MA TO <input type="text"/>	● Molho de tomate enlatado  
 RO COU <input type="text"/>	● Sapato  ● Bolsa  ● Sofá 
 DÃO GO AL <input type="text"/>	● Tecido para roupas 



Escola Municipal Carlos Chagas E.I.E.F
Rua: Munhoz de Melo, 78 Centro - Fone (44) 3434- 1163.
CEP 87840 000. Mirador-PR

E-mail- escola@mirador.pr.gov.br – E-mail:escolacarloschagasmira@gmail.com

Semana: 19/04 a 30/04/2021

Turma: 2º ANO A

Nome do aluno (a):

Professor (a): Rosinete Militão

COMPONENTE CURRICULAR: LÍNGUA PORTUGUESA. (SEXTA - FEIRA – 23/04)

PARA LER COM BASTANTE ATENÇÃO:

FICHA DE LEITURA - D

O doce perguntou pro
doce,
Qual é o doce mais doce,
do que o doce, de batata
doce?

O doce respondeu pro
doce,
que o doce mais doce,
do que o doce de batata
doce,
é o doce de batata doce.



DADO

DIA

DOCE

DANONE

DURO

DOÍDO

DOENTE

DENTE

DEVAGAR

DEDO

DATA

DAMA

DEVER

DOR

DÓ

DESCOBRIR

DÚVIDA

DEZENA

DOMINÓ

DÍVIDA

DESAFIO

DESEJO

DUNAS

DIZER



Escola Municipal Carlos Chagas E.I.E.F
Rua: Munhoz de Melo, 78 Centro - Fone (44) 3434- 1163.

CEP 87840 000. Mirador-PR

E-mail- escola@mirador.pr.gov.br – E-mail:escolacarloschagasmira@gmail.com

Semana: 19/04 a 30/04/2021

Turma: 2º ANO A

Nome do aluno (a):

Professor (a): Rosinete Militão

COMPONENTE CURRICULAR: MATEMÁTICA. (SEXTA - FEIRA – 23/04)

LEIA E RESPONDA:

O NÚMERO DA MINHA CASA É:



NÚMERO DE PESSOAS QUE
COMPÕE A MINHA FAMÍLIA:



NÚMERO DE ANIMAIS DE
ESTIMAÇÃO:



NÚMERO DE COLEGAS DE
MINHA TURMA NA ESCOLA:





Escola Municipal Carlos Chagas E.I.E.F
Rua: Munhoz de Melo, 78 Centro - Fone (44) 3434- 1163.
CEP 87840 000. Mirador-PR
E-mail- escola@mirador.pr.gov.br – E-mail:escolacarloschagasmira@gmail.com

Semana: 19/04 a 30/04/2021

Turma: 2º ANO A

Nome do aluno (a):

Professor (a): Rosinete Militão

COMPONENTE CURRICULAR: MATEMÁTICA. (TERÇA - FEIRA – 27/04)

★ COMPLETE COM O QUE ESTÁ FALTALDO:

	11		13
DEZ		DOZE	
	15		17
QUATORZE		DEZESSEIS	
		19	
	DEZOITO		

★ ESCREVA OS NUMERAIS EM ORDEM CRESCENTE :



Escola Municipal Carlos Chagas E.I.E.F
Rua: Munhoz de Melo, 78 Centro - Fone (44) 3434- 1163.
CEP 87840 000. Mirador-PR

E-mail- escola@mirador.pr.gov.br – E-mail:escolacarloschagasmira@gmail.com

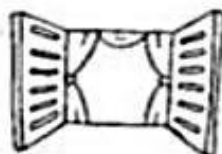


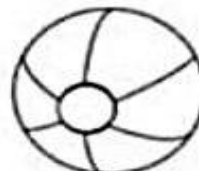
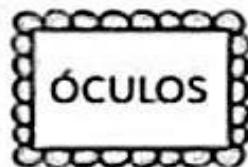

Semana: 19/04 a 30/04/2021

Turma: 2º ANO A

Nome do aluno (a):

Professor (a): Rosinete Militão

COMPONENTE CURRICULAR: LÍNGUA PORTUGUESA. (QUARTA - FEIRA – 28/04)





Escola Municipal Carlos Chagas E.I.E.F
Rua: Munhoz de Melo, 78 Centro - Fone (44) 3434- 1163.
CEP 87840 000. Mirador-PR

E-mail- escola@mirador.pr.gov.br – E-mail:escolacarloschagasmira@gmail.com

Semana: 19/04 a 30/04/2021

Turma: 2º ANO A

Nome do aluno (a):

Professor (a): Rosinete Militão

COMPONENTE CURRICULAR: CIÊNCIAS. (QUARTA - FEIRA – 28/04)

Leia e responda:



O sol é uma estrela muito grande e muito quente que nos dá a luz e o calor.

Sem o sol, não poderia existir animais, plantas ou pessoas. Embora o sol está muito longe do nosso planeta, a Terra, é a estrela mais próxima

de nós. É por isso que a vemos maior que as outras.



O que é o sol?

Como é o sol?

O que o sol nos dá?

Como o nosso planeta é chamado?



Escola Municipal Carlos Chagas E.I.E.F
Rua: Munhoz de Melo, 78 Centro - Fone (44) 3434- 1163.
CEP 87840 000. Mirador-PR

E-mail- escola@mirador.pr.gov.br – E-mail: escolacarloschagasmira@gmail.com

Semana: 19/04 a 30/04/2021

Turma: 2º ANO A

Nome do aluno (a):

Professor (a): Rosinete Militão









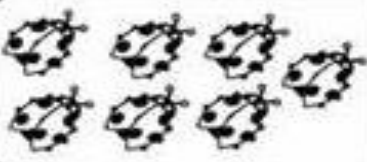

COMPONENTE CURRICULAR: MATEMÁTICA. (QUINTA - FEIRA - 29/04)



Vamos somar?



1. Depois de somar que tal pintar as figurinhas com suas cores prediletas?

HAVIAM	CHEGARAM	TOTAL
		$\begin{array}{r} 4 \\ + 3 \\ \hline 7 \end{array}$
		$\begin{array}{r} \text{.....} \\ + \\ \hline \text{.....} \end{array}$
		$\begin{array}{r} \text{.....} \\ + \\ \hline \text{.....} \end{array}$
		$\begin{array}{r} \text{.....} \\ + \\ \hline \text{.....} \end{array}$
		$\begin{array}{r} \text{.....} \\ + \\ \hline \text{.....} \end{array}$



Semana: 19/04 a 30/04/2021

Turma: 2º ANO A

Nome do aluno (a):

Professor (a): Rosinete Militão

COMPONENTE CURRICULAR: GEOGRAFIA. (QUINTA - FEIRA – 29/04)

O TRABALHO É IMPORTANTE

O TRABALHO É MUITO BOM
 ENGRANDECE O CIDADÃO,
 AMANDO O QUE FAÇO
 NÃO IMPORTA A PROFISSÃO!

- QUANTAS LETRAS?

TRABALHO

PROFISSÃO

BOM

CIDADÃO



- COLOQUE A LETRA INICIAL DE CADA PROFISSÃO.











Escola Municipal Carlos Chagas E.I.E.F
Rua: Munhoz de Melo, 78 Centro - Fone (44) 3434- 1163.
CEP 87840 000. Mirador-PR

E-mail- escola@mirador.pr.gov.br – E-mail:escolacarloschagasmira@gmail.com

Semana: 19/04 a 30/04/2021

Turma: 2º ANO A

Nome do aluno (a):


Professor (a): Rosinete Militão

COMPONENTE CURRICULAR: LÍNGUA PORTUGUESA. (SEXTA - FEIRA – 30/04)

LEIA COM MUITA ATENÇÃO:

FICHA DE LEITURA - E

Onde vais, elefantinho
Correndo pelo caminho
Assim tão desconsolado?
Andas perdido, bichinho
Espetaste o pé no espinho
Que sentes, pobre coitado?



— Estou com um medo
danado
Encontrei um passarinho!

Vinicius de Moraes

ESCOLA
ESPELHO
ELEFANTE
ESTUDAR
ESCUDO
ESCADA
ESCURO
EMA

ESTOJO
ÉPOCA
ENTRADA
ESTAÇÃO
EMOÇÃO
ESPETO
ELEVADOR
ERVILHA

ELA
EMÍLIA
ESCOVA
ESTRELA
EMPADA
ELOGIO
ESTADO
ESPONJA



Escola Municipal Carlos Chagas E.I.E.F
Rua: Munhoz de Melo, 78 Centro - Fone (44) 3434- 1163.
CEP 87840 000. Mirador-PR
E-mail- escola@mirador.pr.gov.br – E-mail:escolacarloschagasmira@gmail.com

Semana: 19/04 a 30/04/2021

Turma: 2º ANO A

Nome do aluno (a):

Professor (a): Rosinete Militão

COMPONENTE CURRICULAR: MATEMÁTICA. (SEXTA - FEIRA – 30/04)

Vamos aprender adição



1. Responda as questões e depois pinte o desenho

0 + 6 =

4 + 4 =

2 + 2 =

8 + 3 =

4 + 2 =

9 + 4 =

1 + 6 =

3 + 5 =

6 + 1 =

8 + 2 =



Escola Municipal Carlos Chagas E.I.E.F
Rua: Munhoz de Melo, 78 Centro - Fone (44) 3434- 1163.
CEP 87840 000. Mirador-PR
E-mail- escola@mirador.pr.gov.br – E-mail:escolacarloschagasmira@gmail.com

Semana: 19/04 a 30/04/2021

Turma: 2º ANO A

Nome do aluno (a):

Professor (a): Rosinete Militão

COMPONENTE CURRICULAR: ENSINO RELIGIOSO. (SEXTA - FEIRA – 30/04)

O QUE SÃO SÍMBOLOS RELIGIOSOS?

Diná Raquel D. da Costa

OS SÍMBOLOS RELIGIOSOS SÃO LINGUAGENS QUE COMUNICAM IDÉIAS SOBRE O SAGRADO.

EXISTEM MUITOS SÍMBOLOS RELIGIOSOS E PODEM TER SIGNIFICADOS DIFERENTES.



O CORAÇÃO PODE SER SÍMBOLO DO AMOR.



A POMBA O SÍMBOLO DA PAZ.



AS FLORES PODEM SIMBOLIZAR A GRATIDÃO.



O SINO PODE SIMBOLIZAR ADORAÇÃO E O CHAMADO À ORAÇÃO.



A VELA PODE REPRESENTAR A FÉ E A LUZ DA VIDA.

ATIVIDADE:

1)- DESENHE ALGUM DOS SIMBOLOS RELIGIOSOS QUE VOCÊ APRENDEU E ESCREVA SEU NOME: