



Escola Municipal Carlos Chagas E.I.E.F
Localização: Rua Munhoz de Melo nº78 Centro
CEP: 87840-000 Mirador-PR Fone (44) 3434- 1163
E-mail- escola@mirador.pr.gov.br

ESCOLA MUNICIPAL CARLOS CHAGAS. ED.INFANTIL E ENSINO FUNDAMENTAL.

ALUNO(A): _____

PROFESSORA: Rosinete Militão.

2º ANO A

AVALIAÇÃO 1º TRIMESTRE – 2º ANO **LINGUA PORTUGUESA (TERÇA - FEIRA – 23/03)**

SENHORES PAIS OU RESPONSÁVEIS, A CRIANÇA PRECISARÁ DE SEU AUXÍLIO PARA REALIZAR A LEITURA DOS ENUNCIADOS DAS ATIVIDADES.

1- ESCREVA **SEU NOME** NO QUADRO ABAIXO:

--

2- COMPLETE AS LETRAS QUE ESTÃO FALTANDO NO ALBABETO ABAIXO:

A			D		F			I		K		
	O			R		T			W	Y		Z

3- LIGUE A **LETRA INICIAL** DE CADA FIGURA:



R
V
E
F
U
M





4- OBSERVE AS IMAGENS A SEGUIR E ASSINALE O NOME CORRESPONDENTE:

		
CABIDE	SAPO	FIGO
COPO	SINO	FOGA
CAVALO	SELA	FAMA

5- CIRCULE A **SÍLABA** QUE FAZ PARTE DO NOME DA FIGURA ABAIXO:



TE BO DA FI LU

6- OBSERVE A IMAGEM E PINTE AS SÍLBAS QUE FORMAM CADA PALAVRA:

	LO	PI	VE	PO	SU	CA
	RE	VU	MA	ZI	CA	CO
	SA	GI	BU	PA	TO	NE
	JU	LI	VA	SO	CA	XI



AVALIAÇÃO 1º TRIMESTRE – 2º ANO

MATEMÁTICA (QUINTA - FEIRA – 25/03)

SENHORES PAIS OU RESPONSÁVEIS, A CRIANÇA PRECISARÁ DE SEU AUXÍLIO PARA REALIZAR A LEITURA DOS ENUNCIADOS DAS ATIVIDADES.

1- OBSERVE A FIGURA A SEGUIR: (D 01)



MARQUE UM X NO QUADRADINHO QUE MOSTRA A QUANTIDADE DE CARRINHOS QUE APARECEU NA FIGURA:




A) 4

B) 9

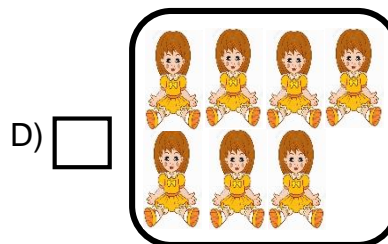
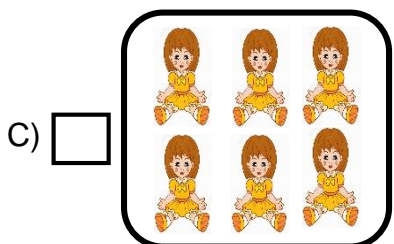
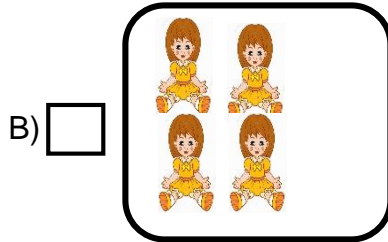
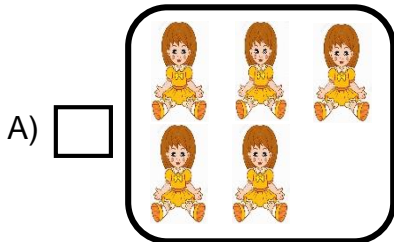
C) 12

D) 20

2- OBSERVE COMO MARCELA ORGANIZOU SUAS BONECAS: (D 03)



MARQUE UM X NO QUADRADINHO QUE MOSTRA A CAIXA COM MENOR QUANTIDADE DE BONECAS:






3- SANDRA TEM UM AQUÁRIO COM 7 PEIXES O PAI DE SANDRA TROUXE MAIS 4 PEIXES. (D 10)



FAÇA UM X NO QUADRINHO QUE MOSTRE COM QUANTOS PEIXES SANDRA FICOU NO TOTAL.

- A) 14 B) 9 C) 8 D) 11

4- FAÇA UM X NO QUADRINHO QUE MOSTRE O PRÓXIMO NÚMERO DA CONTAGEM NA BRINCADEIRA DE PULAR CORDA CONTE 1 EM 1: (D 04)



- A) 19 B) 22 C) 25 D) 24

5- EMANUEL FOI À PADARIA E COMPROU 7 PÃES. VEJA ABAIXO.(D 10)



AO CHEGAR EM CASA JUNTO COM SUA FAMÍLIA, COMERAM 2 PÃES. QUANTOS PÃES RESTARAM? MARQUE X NA RESPOSTA CORRETA:

- A) 4 B) 5 C) 1 D) 6



Escola Municipal Carlos Chagas E.I.E.F
Localização: Rua Munhoz de Melo nº78 Centro
CEP: 87840-000 Mirador-PR Fone (44) 3434- 1163
E-mail- escola@mirador.pr.gov.br

AVALIAÇÃO 1º TRIMESTRE – 2º ANO

CIÊNCIA (QUARTA - FEIRA – 24/03)

SENHORES PAIS OU RESPONSÁVEIS, A CRIANÇA PRECISARÁ DE SEU AUXÍLIO PARA REALIZAR A LEITURA DOS ENUNCIADOS DAS ATIVIDADES.










1- TER BONS HÁBITOS DE HIGIENE E IMPORTANTE PARA TERMOS UMA VIDA SAUDÁVEL. AGORA LIGUE A ANA OS PRODUTOS QUE USAMOS PARA TOMAR BANHO:



2- PINTE AS FIGURAS ABAIXO QUE REPRESENTAM OS PRODUTOS QUE USAMOS PARA OBTER UMA BOA SAÚDE BUCAL:



3- LIGUE CADA ÓRGÃO DO SENTIDO AO QUE ELE NOS PERMITE FAZER:

 <p>POSSO <u>TOCAR</u>.</p>	 <p>VISÃO</p>  <p>OLFATO</p>  <p>GUSTAÇÃO</p>  <p>AUDIÇÃO</p>  <p>TATO</p>	 <p>POSSO <u>OUVIR</u>.</p>  <p>POSSO <u>VER</u>.</p>  <p>POSSO SENTIR O <u>CHEIRO</u>.</p>
--	---	--



Escola Municipal Carlos Chagas E.I.E.F
Localização: Rua Munhoz de Melo nº78 Centro
CEP: 87840-000 Mirador-PR Fone (44) 3434- 1163
E-mail- escola@mirador.pr.gov.br

AVALIAÇÃO 1º TRIMESTRE – 2º ANO

GEOGRAFIA (QUARTA - FEIRA – 25/03)

SENHORES PAIS OU RESPONSÁVEIS, A CRIANÇA PRECISARÁ DE SEU AUXÍLIO PARA REALIZAR A LEITURA DOS ENUNCIADOS DAS ATIVIDADES.

PONTOS DE REFERÊNCIA - TRAJETOS – CASA À ESCOLA.

1- AO SAIR DA ESCOLA, OS ALUNOS DO 2º ANO VÃO PARA SUAS CASAS.

- **PEDRO** MORA PERTO DE UM BAIRRO COM MUITAS FÁBRICAS E INDÚSTRIAS;
- **MANOELA** MORA EM UM BAIRRO COM MUITAS LOJAS, CINEMA;
- **TIAGO** MORA EM UM BAIRRO COM MUITAS CASAS.

PINTE, COM CORES DIFERENTES, O CAMINHO QUE CADA CRIANÇA IRÁ FAZER PARA CHEGAR EM CASA:

