



Escola Municipal Carlos Chagas E.I.E.F
Rua: Munhoz de Melo, 78 Centro - Fone (44) 3434- 1163.

CEP 87840 000. Mirador-PR

E-mail- escola@mirador.pr.gov.br – E-mail:escolacarloschagasmira@gmail.com

QUINZENA: 31/05 a 11/06/2021

Turma: 2º ANO B

Nome do aluno (a):

Professor (a): Rosinete Militão

COMPONENTE CURRICULAR: LÍNGUA PORTUGUESA. (TERÇA - FEIRA – 14/09)





Escola Municipal Carlos Chagas E.I.E.F
Rua: Munhoz de Melo, 78 Centro - Fone (44) 3434- 1163.
CEP 87840 000. Mirador-PR

E-mail- escola@mirador.pr.gov.br – E-mail: escolacarloschagasmira@gmail.com

QUINZENA: 31/05 a 11/06/2021

Turma: 2º ANO B

Nome do aluno (a):

Professor (a): Rosinete Militão

PINTE A IMAGEM E LEIA O TEXTO COM UM RESPONSÁVEL.



A FAMÍLIA DE D. PEDRO, QUERIA QUE O BRASIL
PERTENCESSE A PORTUGAL
ELE MONTOU EM SEU CAVALO COM SEUS
CAVALEIROS E FOI ATÉ AS MARGENS DO RIO
IPIRANGA EM SÃO PAULO E GRITOU:
INDEPENDENCIA OU MORTE.

AGORA RESPONDA:

1) OQUE D.PEDRO GRITOU AS MARGENS DO RIO IPIRANGA:



Escola Municipal Carlos Chagas E.I.E.F
Rua: Munhoz de Melo, 78 Centro - Fone (44) 3434- 1163.

CEP 87840 000. Mirador-PR

E-mail- escola@mirador.pr.gov.br – E-mail:escolacarloschagasmira@gmail.com

QUINZENA: 31/05 a 11/06/2021

Turma: 2º ANO B

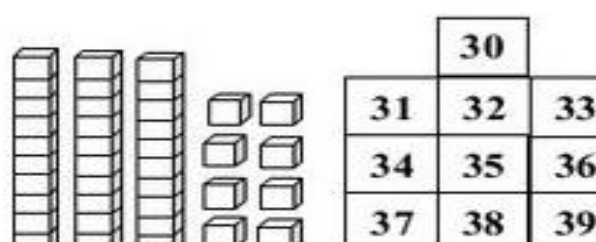
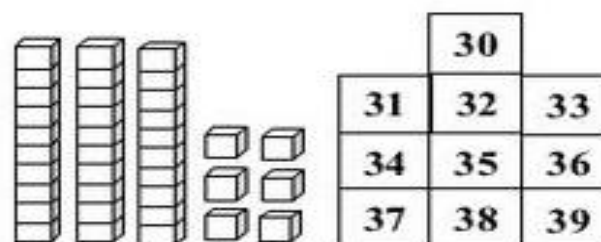
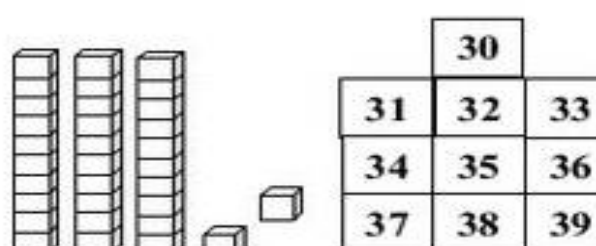
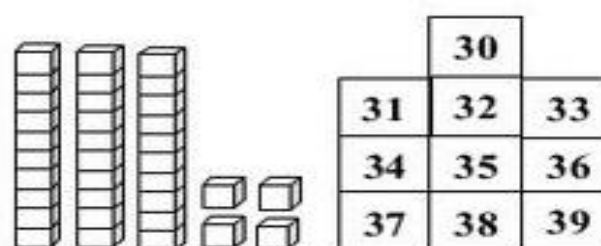
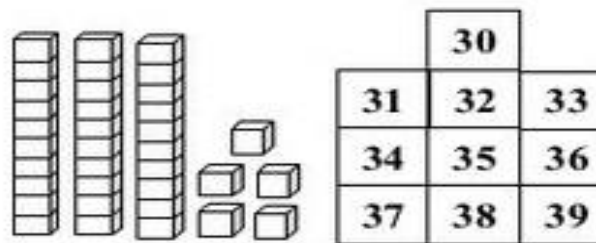
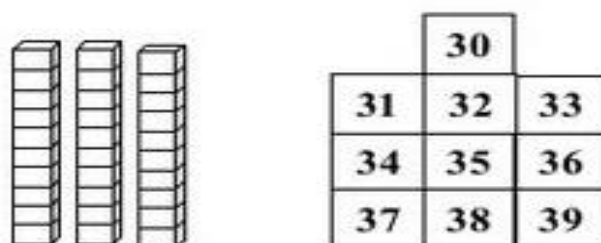
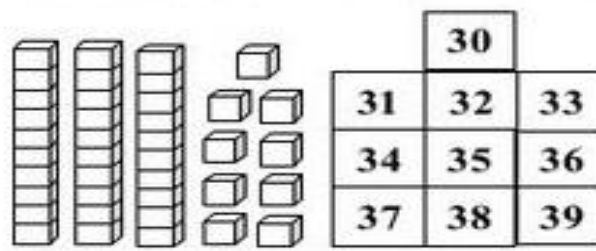
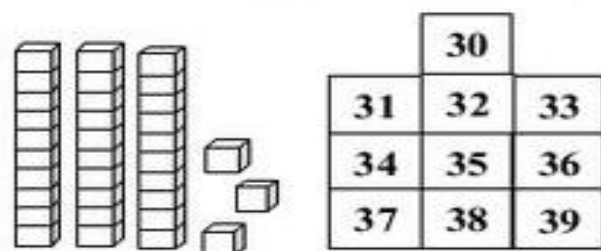
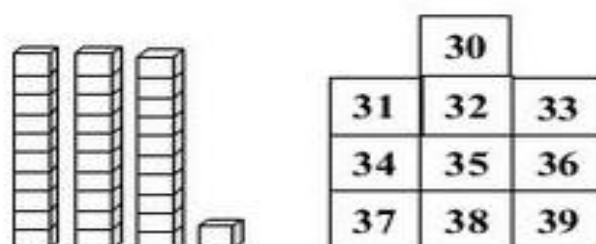
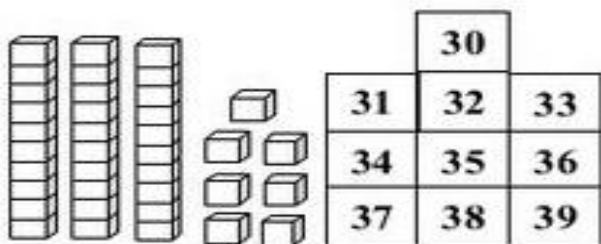
Nome do aluno (a):

Professor (a): Rosinete Militão

COMPONENTE CURRICULAR: MATEMÁTICA. (TERÇA - FEIRA – 14/09)

Números de 30 até 39

1 – PINTE O NÚMERO CORRESPONDENTE AO MATERIAL DOURADO.





Escola Municipal Carlos Chagas E.I.E.F
Rua: Munhoz de Melo, 78 Centro - Fone (44) 3434- 1163.
CEP 87840 000. Mirador-PR
E-mail- escola@mirador.pr.gov.br – E-mail:escolacarloschagasmira@gmail.com

QUINZENA: 31/05 a 11/06/2021

Turma: 2º ANO B

Nome do aluno (a):

Professor (a): Rosinete Militão

COMPONENTE CURRICULAR: LÍNGUA PORTUGUESA. (QUARTA - FEIRA – 15/09)

7 DE SETEMBRO – INDEPENDÊNCIA DO BRASIL



ESTA É A BANDEIRA DO _____

QUAIS SÃO AS CORES DA BANDEIRA?

O QUE ESTÁ ESCRITO NA BANDEIRA?

QUANTAS SÃO AS ESTRELAS? ()



Escola Municipal Carlos Chagas E.I.E.F
Rua: Munhoz de Melo, 78 Centro - Fone (44) 3434- 1163.

CEP 87840 000. Mirador-PR

E-mail- escola@mirador.pr.gov.br – E-mail:escolacarloschagasmira@gmail.com

QUINZENA: 31/05 a 11/06/2021

Turma: 2º ANO B

Nome do aluno (a):

Professor (a): Rosinete Militão

COMPONENTE CURRICULAR: : CIÊNCIAS. (QUARTA - FEIRA – 15/09)



NATUREZA

1. MARQUE CORRETAMENTE:

PARA QUE SERVE A ÁGUA:

- () BEBER
- () COLOCAR O LIXO
- () ESCREVER
- () LAVAR AS MÃOS



2. PINTE AS PLAQUINHAS QUE COMPLETAM A FRASE CORRETAMENTE:

À ÁGUA BOA PARA BEBER É...

DA TORNEIRA

SUJA

FILTRADA

POLUIDA

LIMPA





Escola Municipal Carlos Chagas E.I.E.F
Rua: Munhoz de Melo, 78 Centro - Fone (44) 3434- 1163.

CEP 87840 000. Mirador-PR

E-mail- escola@mirador.pr.gov.br – E-mail:escolacarloschagasmira@gmail.com

QUINZENA: 31/05 a 11/06/2021


Turma: 2º ANO B

Nome do aluno (a):

Professor (a): Rosinete Militão


COMPONENTE CURRICULAR: MATEMÁTICA. (QUINTA - FEIRA – 16/09)

Siga o exemplo:




| | |
|---|---|
| D | U |
| 2 | 0 |

$$20 + 0 = 20$$




| | |
|---|---|
| D | U |
| | |

$$\underline{\quad} + \underline{\quad} = \underline{\quad}$$




| | |
|---|---|
| D | U |
| | |

$$\underline{\quad} + \underline{\quad} = \underline{\quad}$$



| | |
|---|---|
| D | U |
| | |

$$\underline{\quad} + \underline{\quad} = \underline{\quad}$$




| | |
|---|---|
| D | U |
| | |

$$\underline{\quad} + \underline{\quad} = \underline{\quad}$$




| | |
|---|---|
| D | U |
| | |

$$\underline{\quad} + \underline{\quad} = \underline{\quad}$$




| | |
|---|---|
| D | U |
| | |

$$\underline{\quad} + \underline{\quad} = \underline{\quad}$$



| | |
|---|---|
| D | U |
| | |

$$\underline{\quad} + \underline{\quad} = \underline{\quad}$$



| | |
|---|---|
| D | U |
| | |

$$\underline{\quad} + \underline{\quad} = \underline{\quad}$$



| | |
|---|---|
| D | U |
| | |

$$\underline{\quad} + \underline{\quad} = \underline{\quad}$$



Escola Municipal Carlos Chagas E.I.E.F
Rua: Munhoz de Melo, 78 Centro - Fone (44) 3434- 1163.

CEP 87840 000. Mirador-PR

E-mail- escola@mirador.pr.gov.br – E-mail:escolacarloschagasmira@gmail.com

QUINZENA: 31/05 a 11/06/2021

Turma: 2º ANO B

Nome do aluno (a):

Professor (a): Rosinete Militão

COMPONENTE CURRICULAR: GEOGRAFIA. (QUINTA - FEIRA – 16/09)

ANTES E DEPOIS:

O tempo passa e as pessoas mudam.




Ana com 4 anos.




Ana com 10 anos.

Desenhe Marcelo com 10 anos.



Marcelo com 4 anos.



Marcelo com 10 anos.



Escola Municipal Carlos Chagas E.I.E.F
Rua: Munhoz de Melo, 78 Centro - Fone (44) 3434- 1163.

CEP 87840 000. Mirador-PR

E-mail- escola@mirador.pr.gov.br – E-mail:escolacarloschagasmira@gmail.com

QUINZENA: 31/05 a 11/06/2021

Turma: 2º ANO B

Nome do aluno (a):

Professor (a): Rosinete Militão

COMPONENTE CURRICULAR: LÍNGUA PORTUGUESA. (SEXTA - FEIRA – 17/09)

♥ OBSERVE A PALAVRA “**BRASIL**” E RESPONDA.

- QUANTAS VEZES VOCÊ ABRE A BOCA PARA FALAR ESTA PALAVRA?

- QUAL É O PRIMEIRO PEDACINHO DA PALAVRA?

CADA VEZ QUE VOCÊ ABRE A BOCA PARA FALAR AS PARTES DE UMA PALAVRA, ESTÁ FALANDO UMA **SÍLABA**. OS PEDACINHOS SÃO CHAMADOS DE **SÍLABAS**.

♥ AGORA LEIA E COLOQUE O NÚMERO DE SÍLABAS.


BRASILEIRO

PÁTRIA

PAÍS

JUSTIÇA

CRIANÇA



♥ LEIA E CIRCULE AS PALAVRAS QUE COMEÇAM COM A PRIMEIRA SÍLABA DA PALAVRA “**BRASIL**”.

BRÓCOLIS – BRAÇO – BREJO – BRINCO – BRAVO – BRILHANTE

BRACELETE – BRUXA – BRAÇADEIRA – BRUNA – BRASÍLIA –

BRASÃO – BROTA – BRUNO – BRÍGIDA – BRENO – BRASA



Escola Municipal Carlos Chagas E.I.E.F
Rua: Munhoz de Melo, 78 Centro - Fone (44) 3434- 1163.

CEP 87840 000. Mirador-PR

E-mail- escola@mirador.pr.gov.br – E-mail:escolacarloschagasmira@gmail.com

QUINZENA: 31/05 a 11/06/2021

Turma: 2º ANO B

Nome do aluno (a):

Professor (a): Rosinete Militão

COMPONENTE CURRICULAR: MATEMÁTICA. (SEXTA - FEIRA – 17/09)

ESCREVA OS VIZINHOS MAIS PRÓXIMOS DOS NUMERAIS ABAIXO:

| | | | | |
|---|---|---|----|---|
| 3 | 5 | 2 | 10 | 7 |
| 1 | 6 | 8 | 4 | 9 |

LEIA OS NUMERAIS E ESCREVA NO LUGAR CORRESPONDENTE.

SEIS - DOIS - UM - DEZ - TRÊS - OITO
QUATRO - SETE - NOVE - CINCO

1 - _____
2 - _____
3 - _____
4 - _____
5 - _____

6 - _____
7 - _____
8 - _____
9 - _____
10 - _____

VAMOS CONTAR COM OS DEDINHOS:

+ = _____
 + = _____
 + = _____
 + = _____
 + = _____
 + = _____

RESOLVA AS CONTINHAS.

| | | | | | |
|---|---|---|---|---|---|
| $\begin{array}{r} + 2 \\ 3 \\ \hline \end{array}$ | $\begin{array}{r} + 4 \\ 1 \\ \hline \end{array}$ | $\begin{array}{r} + 5 \\ 2 \\ \hline \end{array}$ | $\begin{array}{r} + 2 \\ 1 \\ \hline \end{array}$ | $\begin{array}{r} + 5 \\ 3 \\ \hline \end{array}$ | $\begin{array}{r} + 4 \\ 0 \\ \hline \end{array}$ |
|---|---|---|---|---|---|



Escola Municipal Carlos Chagas E.I.E.F
Rua: Munhoz de Melo, 78 Centro - Fone (44) 3434- 1163.

CEP 87840 000. Mirador-PR

E-mail- escola@mirador.pr.gov.br – E-mail:escolacarloschagasmira@gmail.com

QUINZENA: 31/05 a 11/06/2021

Turma: 2º ANO B

Nome do aluno (a):

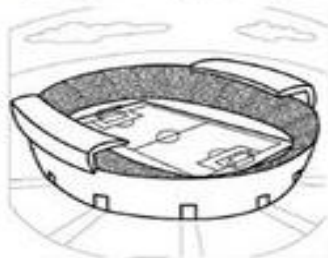
Professor (a): Rosinete Militão

COMPONENTE CURRICULAR: ENSINO RELIGIOSO. (SEXTA - FEIRA – 17/09)

ESPAÇOS SAGRADOS

SÃO LUGARES ONDE AS PESSOAS VIVENCIAM A SUA RELIGIÃO E O CONTATO COM O SAGRADO.

QUAIS DESTES LUGARES REPRESENTAM ESPAÇOS SAGRADOS?
PINTE-OS:





Escola Municipal Carlos Chagas E.I.E.F
Rua: Munhoz de Melo, 78 Centro - Fone (44) 3434- 1163.

CEP 87840 000. Mirador-PR

E-mail- escola@mirador.pr.gov.br – E-mail:escolacarloschagasmira@gmail.com

QUINZENA: 31/05 a 11/06/2021

Turma: 2º ANO B

Nome do aluno (a):

Professor (a): Rosinete Militão

COMPONENTE CURRICULAR: LÍNGUA PORTUGUESA. (TERÇA - FEIRA – 21/09)

1-LEIA AS PALAVRAS E ESCREVA NOS QUADROS, QUANTAS LETRAS E SÍLABAS TÊM CADA UMA.

| DESENHO | PALAVRA | LETRAS | SÍLABAS |
|---|----------|--------|---------|
|  | BONECA | | |
|  | VACA | | |
|  | PICOLÉ | | |
|  | BALÃO | | |
|  | PIRULITO | | |



Escola Municipal Carlos Chagas E.I.E.F
Rua: Munhoz de Melo, 78 Centro - Fone (44) 3434- 1163.

CEP 87840 000. Mirador-PR

E-mail- escola@mirador.pr.gov.br – E-mail:escolacarloschagasmira@gmail.com

QUINZENA: 31/05 a 11/06/2021

Turma: 2º ANO B

Nome do aluno (a):

Professor (a): Rosinete Militão

COMPONENTE CURRICULAR: MATEMÁTICA. (TERÇA - FEIRA – 21/09)

MATEMÁTICA

1. ESCREVA OS NÚMEROS:

DOIS _____

CINCO _____

SETE _____

QUATRO _____

TRÊS _____



UM _____

SEIS _____

NOVE _____

OITO _____

DEZ _____

2. COMPLETE AS SEQUÊNCIAS COM OS NÚMEROS FALTOSOS.

| | | | | | | | | | |
|---|--|---|---|--|--|--|---|--|----|
| 1 | | 3 | 4 | | | | 8 | | 10 |
|---|--|---|---|--|--|--|---|--|----|

| | | | | | | | | | |
|--|---|--|--|---|--|---|--|--|--|
| | 2 | | | 5 | | 7 | | | |
|--|---|--|--|---|--|---|--|--|--|

| | | | | | | | | | |
|---|--|--|---|--|---|--|---|---|--|
| 1 | | | 4 | | 6 | | 8 | 9 | |
|---|--|--|---|--|---|--|---|---|--|

3. QUEM VEM ANTES E DEPOIS:

_____ 3 _____ _____ 7 _____ _____ 8 _____

_____ 5 _____ _____ 9 _____ _____ 4 _____





Escola Municipal Carlos Chagas E.I.E.F
Rua: Munhoz de Melo, 78 Centro - Fone (44) 3434- 1163.
CEP 87840 000. Mirador-PR
E-mail- escola@mirador.pr.gov.br – E-mail:escolacarloschagasmira@gmail.com

QUINZENA: 31/05 a 11/06/2021

Turma: 2º ANO B

Nome do aluno (a):

Professor (a): Rosinete Militão

COMPONENTE CURRICULAR: LÍNGUA PORTUGUESA. (QUARTA - FEIRA – 22/09)

FAZER A LEITURA DAS PALAVRAS ABAIXO E APÓS COLOCÁ-LAS NA TABELA CADA QUAL NA SUA LETRA CORRESPONDENTE.

| | | | | |
|-----------|-----------|----------|-----------|----------|
| ZEBRA | WALTER | HOMEM | ABACAXI | QUERIDO |
| MORANGO | BOLACHAS | GIRAFÁ | CAMINHADA | YURI |
| FAROFA | DINHEIRO | JORNAL | ESTADO | IMAGEM |
| LOBISOMEM | KILO | NAMORADO | PLANTA | ÓCULOS |
| RISADA | SAPATILHA | URUBU | TELEFONE | VASSOURA |
| XÍCARA | | | | |

| | | | |
|---|--|---|--|
| A | | N | |
| B | | O | |
| C | | P | |
| D | | Q | |
| E | | R | |
| F | | S | |
| G | | T | |
| H | | U | |
| I | | V | |
| J | | W | |
| K | | X | |
| L | | Y | |
| M | | Z | |



Escola Municipal Carlos Chagas E.I.E.F
Rua: Munhoz de Melo, 78 Centro - Fone (44) 3434- 1163.

CEP 87840 000. Mirador-PR

E-mail- escola@mirador.pr.gov.br – E-mail:escolacarloschagasmira@gmail.com

QUINZENA: 31/05 a 11/06/2021

Turma: 2º ANO B

Nome do aluno (a):

Professor (a): Rosinete Militão

COMPONENTE CURRICULAR: CIÊNCIAS. (QUARTA - FEIRA – 22/09)

CAÇA-PALAVRAS

PROCURE NA ARVOREZINHA O NOME DE QUATRO COMPONENTES DOS QUAIS ELA MAIS PRECISA PARA VIVER:

A H B C D E R T Y R E D B H J K L O P Ç M B C
E D X I Y R W I U T R D F E C V H J K M V X Z
J G D R T U I O S O L E W S C F G H Á N V F D
C X Z R T E W Y R E W E O U T G H J G Ç N V G
U F B H D E W S X I U T R A D E U I U V H J K
A E G T E R R A E D S J B A T R E I A T E S L
A S D U Y E W S K O P A S A L N V D S Q U T Y
D X I O P A W Y U I T E W O P L M B C X Z Q A
V C S W E A D U B O W Q A I O U T R F G J L Ç





Escola Municipal Carlos Chagas E.I.E.F
Rua: Munhoz de Melo, 78 Centro - Fone (44) 3434- 1163.
CEP 87840 000. Mirador-PR

E-mail- escola@mirador.pr.gov.br – E-mail:escolacarloschagasmira@gmail.com

QUINZENA: 31/05 a 11/06/2021

Turma: 2º ANO B

Nome do aluno (a):

Professor (a): Rosinete Militão

COMPONENTE CURRICULAR: MATEMÁTICA. (QUINTA - FEIRA - 23/09)

OBSERVE ATENTAMENTE O NOME DO NUMERO E PINTE-O.

| | | |
|----------|-----------|------------|
| NOVE | CINCO | DEZ |
| 1 5 9 | 4 5 6 | 10 11 12 |
| OITO | | QUATRO |
| 6 7 8 | | 4 5 6 |
| UM | | TRÊS |
| 0 1 2 | | 1 2 3 |
| SEIS | DOIS | SETE |
| 4 5 6 | 2 4 5 | 5 6 7 |



Escola Municipal Carlos Chagas E.I.E.F
Rua: Munhoz de Melo, 78 Centro - Fone (44) 3434- 1163.

CEP 87840 000. Mirador-PR

E-mail- escola@mirador.pr.gov.br – E-mail:escolacarloschagasmira@gmail.com

QUINZENA: 31/05 a 11/06/2021

Turma: 2º ANO B




Nome do aluno (a):

Professor (a): Rosinete Militão

COMPONENTE CURRICULAR: GEOGRAFIA. (QUINTA - FEIRA – 23/09)

PAISAGENS NATURAIS E PAISAGENS CULTURAIS

➤ Marque (N) nas paisagens naturais e (C) nas paisagens culturais.



suportegeografico77.blogspot.com.br

OBSERVAÇÃO PINTE OS DESENHOS BEM CRIATIVOS:



Escola Municipal Carlos Chagas E.I.E.F
Rua: Munhoz de Melo, 78 Centro - Fone (44) 3434- 1163.

CEP 87840 000. Mirador-PR

E-mail- escola@mirador.pr.gov.br – E-mail:escolacarloschagasmira@gmail.com

QUINZENA: 31/05 a 11/06/2021


Turma: 2º ANO B

Nome do aluno (a):

Professor (a): Rosinete Militão

COMPONENTE CURRICULAR: LÍNGUA PORTUGUESA. (SEXTA - FEIRA – 24/09)

COLOQUE CADA FIGURA EM SUA ORDEM ALFABÉTICA



| | | |
|---|----|----|
| 1 | 9 | 17 |
| 2 | 10 | 18 |
| 3 | 11 | 19 |
| 4 | 12 | 20 |
| 5 | 13 | 21 |
| 6 | 14 | 22 |
| 7 | 15 | 23 |
| 8 | 16 | 24 |



Escola Municipal Carlos Chagas E.I.E.F
Rua: Munhoz de Melo, 78 Centro - Fone (44) 3434- 1163.
CEP 87840 000. Mirador-PR

E-mail- escola@mirador.pr.gov.br – E-mail:escolacarloschagasmira@gmail.com

QUINZENA: 31/05 a 11/06/2021


Turma: 2º ANO B

Nome do aluno (a):

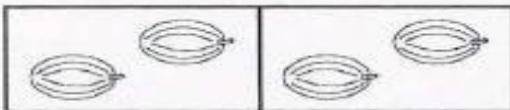
Professor (a): Rosinete Militão

COMPONENTE CURRICULAR: MATEMÁTICA. (SEXTA - FEIRA – 24/09)

Tabuada Ilustrada



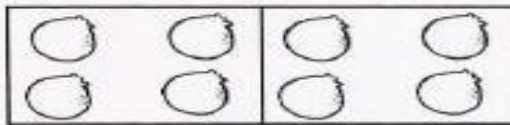
$2 \times 1 = \square$




$2 \times 2 = \square$




$2 \times 3 = \square$



$2 \times 4 = \square$



$2 \times 5 = \square$



$2 \times 6 = \square$



$2 \times 7 = \square$



$2 \times 8 = \square$



$2 \times 9 = \square$



$2 \times 10 = \square$



Escola Municipal Carlos Chagas E.I.E.F
Rua: Munhoz de Melo, 78 Centro - Fone (44) 3434- 1163.
CEP 87840 000. Mirador-PR
E-mail- escola@mirador.pr.gov.br – E-mail:escolacarloschagasmira@gmail.com

QUINZENA: 31/05 a 11/06/2021

Turma: 2º ANO B

Nome do aluno (a):

Professor (a): Rosinete Militão

COMPONENTE CURRICULAR: ENSINO RELIGIOSO. (SEXTA - FEIRA – 24/09)

LEIA O TEXTO ABAIXO COM AJUDA DE UM RESPONSÁVEL:

SÍMBOLOS RELIGIOSOS NA VIDA DAS PESSOAS

Emerli Schlögl



VOCÊ JÁ REPAROU COMO EXISTEM PESSOAS QUE CARREGAM OU USAM OBJETOS COMO SE ELES FOSSEM MUITO ESPECIAIS?

UMA FOTO
UM ROSÁRIO
UMA ORAÇÃO ESCRITA
UM SALMO DA BÍBLIA
UMA MEDALHA
UMA FITINHA, ETC.

SE VOCÊ PERGUNTAR PARA ESTAS PESSOAS O QUE SIGNIFICA CADA UM DESSES OBJETOS, ELAS PODERÃO LHE CONTAR HISTÓRIAS DE SUAS VIDAS E DE COMO ESSES OBJETOS LHES TOCARAM O CORAÇÃO. E COMO AS PROTEGEM, SERVEM DE ALÍVIO, CONSOLO OU TRANSMITEM PAZ.

CADA RELIGIÃO POSSUI SÍMBOLOS PARA REPRESENTÁ-LA.

VEJA ALGUNS EXEMPLOS:



A ESTRELA DE SEIS PONTAS É UM SÍMBOLO DE SABEDORIA E PROTEÇÃO PARA OS SEGUIDORES DO JUDAÍSMO.

A CRUZ É SÍMBOLO DE SALVAÇÃO PARA MUITOS CRISTÃOS.

A LUA CRESCENTE É UM SÍMBOLO DO ISLAMISMO.

O SOL REPRESENTA O PODER DA VIDA PARA AS TRADIÇÕES RELIGIOSAS NATIVAS COMO AS INDÍGENAS.

A RODA COM OITO RAIOS É UM SÍMBOLO DO BUDISMO E REPRESENTA OS ENSINAMENTOS DE BUDA.