



Escola Municipal Carlos Chagas E.I.E.F

Rua: Munhoz de Melo nº78 Centro Fone (44) 3434- 1163

CEP: 87840-000 Mirador-PR

E-mail- escola@mirador.pr.gov.br – E-mail:escolacarloschagasmira@gmail.com







ESCOLA MUNICIPAL CARLOS CHAGAS. EDUCAÇÃO INFANTIL E ENSINO FUNDAMENTAL
MIRADOR, 17 DE MAIO DE 2021.

ALUNO(A): _____ 1º ANO B

PROFESSORA: CRISTIANA FERNANDES

RECUPERAÇÃO 2 DE LÍNGUA PORTUGUESA

1) COLOQUE NO CIRCULO QUAL VOGAL COMEÇA CADA DESENHO.



2) LIGUE A SÍLABA INICIAL DE CADA DESENHO.



DO

CA

BU

BE

DU

CE

BA

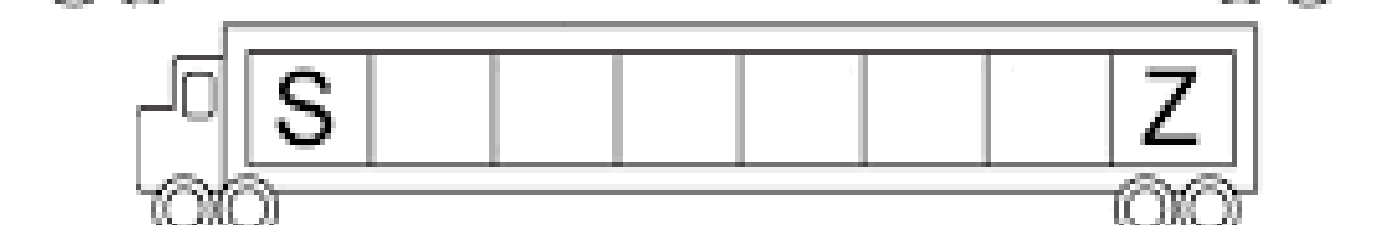
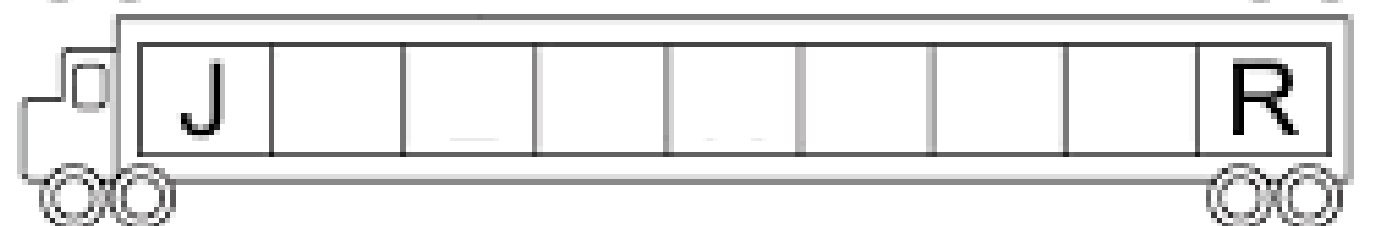
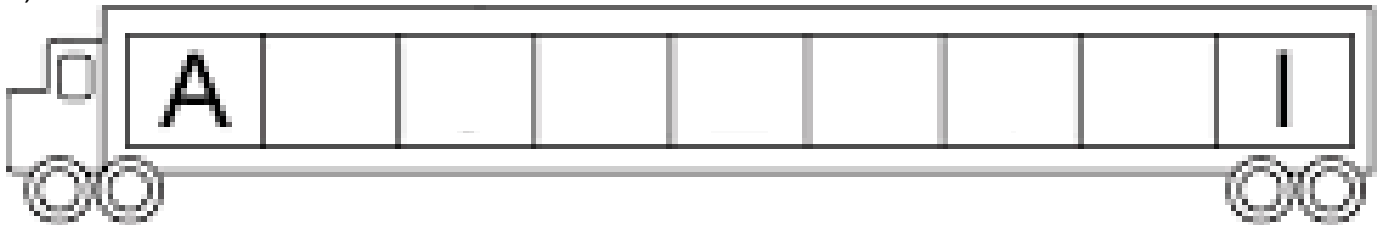
CI

DI

BO



2) COMPLETE O ALFABETO.





Escola Municipal Carlos Chagas E.I.E.F

Rua: Munhoz de Melo nº78 Centro Fone (44) 3434- 1163

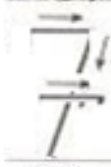
CEP: 87840-000 Mirador-PR

E-mail- escola@mirador.pr.gov.br – E-mail: escolacarloschagasmira@gmail.com

ESCOLA MUNICIPAL CARLOS CHAGAS. EDUCAÇÃO INFANTIL E ENSINO FUNDAMENTAL
ALUNO(A) _____ 1º ANO

ATIVIDADE DE MATEMÁTICA 17/05/2021 (segunda-feira)

1) AS SETAS INDICAM O TRAÇADO CORRETO DOS NÚMEROS, COMPLETE A LINHA COM OS NUMERAIS FAZENDO O TRAÇADO SEGUINDO O EXEMPLO.





Escola Municipal Carlos Chagas E.I.E.F

Rua: Munhoz de Melo nº78 Centro Fone (44) 3434- 1163

CEP: 87840-000 Mirador-PR

E-mail- escola@mirador.pr.gov.br – E-mail:escolacarloschagasmira@gmail.com

**ESCOLA MUNICIPAL CARLOS CHAGAS. EDUCAÇÃO INFANTIL E ENSINO FUNDAMENTAL
MIRADOR, 18 DE MAIO DE 2021.**

ALUNO(A): _____ 1º ANO

PROFESSORA:

RECUPERAÇÃO 2 DE GEOGRAFIA

1) LIGUE CADA CRIANÇA A ESTAÇÃO DO ANO QUE ELA ESTÁ.



VERÃO



INVERNO



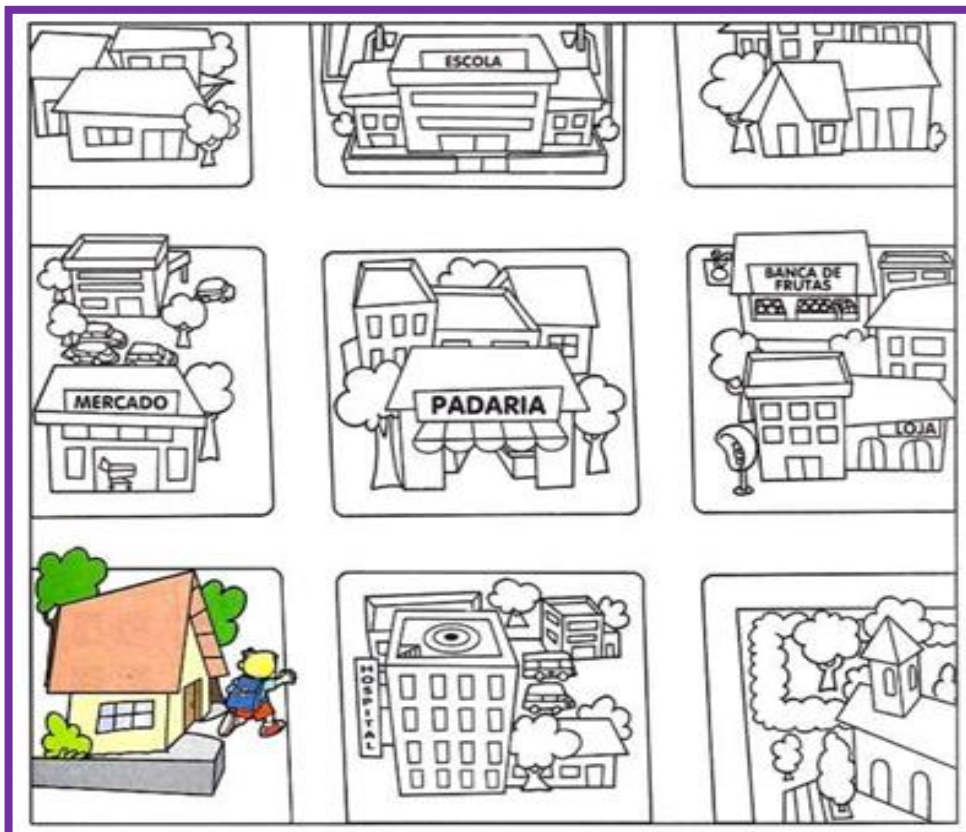
OUTONO



PRIMAVERA



2) VAMOS LEVAR PEDRO À ESCOLA, ELE VAI PASSAR POR 2 PONTOS DE REFERÊNCIA. ELE DEVE PASSAR PELA PADARIA E PELA BANCA DE FRUTA. TRACE O CAMINHO QUE ELE DEVE SEGUIR





Escola Municipal Carlos Chagas E.I.E.F

Rua: Munhoz de Melo nº78 Centro Fone (44) 3434- 1163

CEP: 87840-000 Mirador-PR

E-mail- escola@mirador.pr.gov.br – E-mail: escolacarloschagasmira@gmail.com

ESCOLA MUNICIPAL CARLOS CHAGAS. EDUCAÇÃO INFANTIL E ENSINO FUNDAMENTAL

ALUNO(A) _____

1º ANO

ATIVIDADE DE MATEMÁTICA 18/05/2021 (terça-feira)

1) CONTE E DESCUBRA QUANTOS ANIMAIS TEM EM CADA CONJUNTO E PINTE A RESPOSTA CORRETA.

10	11	12	13	14	17	18	19	20	21	15	16	17	18	19	17	18	19	20	21
16	17	18	19	20	13	14	15	16	17	8	9	10	11	12	13	14	15	16	17

1) CONTE, REGISTRE E LIGUE OS CONJUNTOS COM A MESMA QUANTIDADE:

	<input type="radio"/>	<input type="radio"/>	
	<input type="radio"/>	<input type="radio"/>	
	<input type="radio"/>	<input type="radio"/>	
	<input type="radio"/>	<input type="radio"/>	



Escola Municipal Carlos Chagas E.I.E.F

Rua: Munhoz de Melo nº78 Centro Fone (44) 3434- 1163

CEP: 87840-000 Mirador-PR

E-mail- escola@mirador.pr.gov.br – E-mail:escolacarloschagasmira@gmail.com

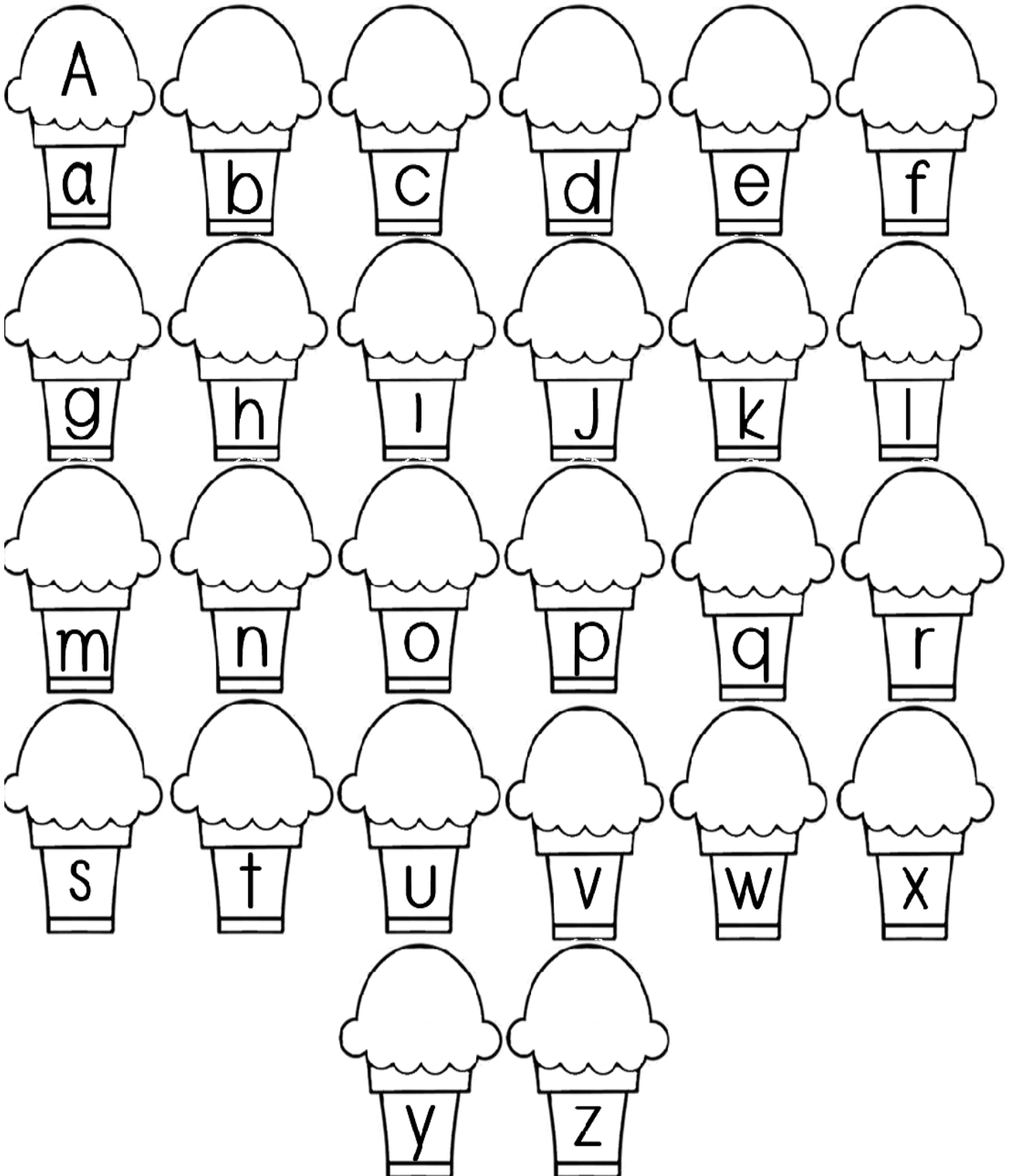
ESCOLA MUNICIPAL CARLOS CHAGAS. EDUCAÇÃO INFANTIL E ENSINO FUNDAMENTAL

ALUNO(A) _____

1º ANO

ATIVIDADE DE LÍNGUA PORTUGUESA 19/05/2021 (quarta-feira)

ESCREVA NOS SORVETES AS LETRAS MAIÚCULAS CORRESPONDENTE AS LETRAS MINÚSCULAS.





Escola Municipal Carlos Chagas E.I.E.F

Rua: Munhoz de Melo nº78 Centro Fone (44) 3434- 1163

CEP: 87840-000 Mirador-PR

E-mail- escola@mirador.pr.gov.br – E-mail: escolacarloschagasmira@gmail.com

**ESCOLA MUNICIPAL CARLOS CHAGAS. EDUCAÇÃO INFANTIL E ENSINO FUNDAMENTAL
MIRADOR, 19 DE MAIO DE 2021.**

ALUNO(A): _____ 1º ANO

PROFESSORA:

RECUPERAÇÃO 2 DE CIÊNCIAS

ORIGEM E UTILIZAÇÃO DOS MATERIAIS NO COTIDIANO

A CAMA, O DESPERTADOR, A CORTINA, A JANELA, OS LIVROS, O VASO COM A PLANTA, TUDO É FEITO DE ALGUM MATERIAL, OS OBJETOS AO NOSSO REDOR PODEM SER FEITOS UTILIZANDO DIVERSOS MATERIAIS.

1- IDENTIFIQUE NA IMAGEM ABAIXO O QUE PODE SER FEITO DE:

1

PAPEL

3

MADEIRA

5

VIDRO

2

TECIDO

4

PLÁSTICO


6

METAL

FAÇA A CORRESPONDÊNCIA ESCRREVENDO DE QUE É FEITO OS OBJETOS DA IMAGEM.



2- OBSERVE AS CENAS E ESCREVA CERTO OU ERRADO EM RELAÇÃO ÀS ATITUDES:





Escola Municipal Carlos Chagas E.I.E.F

Rua: Munhoz de Melo nº78 Centro Fone (44) 3434- 1163

CEP: 87840-000 Mirador-PR


E-mail- escola@mirador.pr.gov.br – E-mail:escolacarloschagasmira@gmail.com

ESCOLA MUNICIPAL CARLOS CHAGAS. EDUCAÇÃO INFANTIL E ENSINO FUNDAMENTAL

ALUNO(A): _____ 1º ANO B

ATIVIDADE DE LÍNGUA PORTUGUESA 21/05/2021(sexta-feira)

1) QUAL É A LETRA INICIAL DE CADA FIGURA.



--	--	--	--	--	--



--	--	--	--	--	--



--	--	--	--	--	--



--	--	--	--	--	--



--	--

2) COMPLETE:

A

I					
O					
U					Z



Escola Municipal Carlos Chagas E.I.E.F

Rua: Munhoz de Melo nº78 Centro Fone (44) 3434- 1163

CEP: 87840-000 Mirador-PR

E-mail- escola@mirador.pr.gov.br – E-mail: escolacarloschagasmira@gmail.com

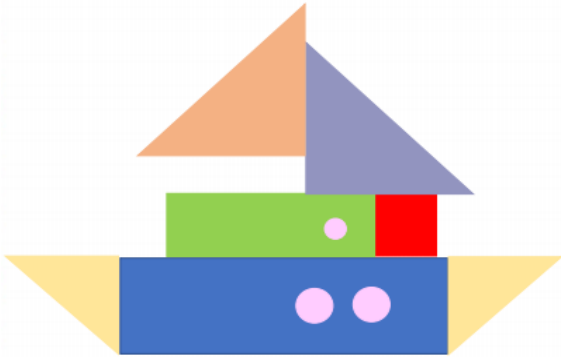
ESCOLA MUNICIPAL CARLOS CHAGAS. EDUCAÇÃO INFANTIL E ENSINO FUNDAMENTAL
MIRADOR, 21 DE MAIO DE 2021.

ALUNO(A): _____ 1º ANO B

PROFESSORA: CRISTIANA FERNANDES

RECUPERAÇÃO 2 DE MATEMÁTICA

1) OBSERVE A IMAGEM E SUAS FORMAS GEOMÉTRICAS E RESPONDA O QUE SE PEDE.



A) QUANTOS CÍRCULOS TEM? () 6 () 3

B) QUANTOS RETÂNGULOS TEM? () 4 () 2

C) QUANTOS TRIÂNGULOS. TEM? () 4 () 8

D) QUANTOS QUADRADOS TEM? () 2 () 1

2) COMPLETE A TABELA COM O PRÓXIMO DIA DA SEMANA.

DOMINGO - SEGUNDA - TERÇA - QUARTA - QUINTA - SEXTA - SABÁDO

QUARTA - QUINTA - SEXTA

SEGUNDA - TERÇA - QUARTA

SEXTA - SABÁDO - DOMINGO

3) COMPLETE COM A SEQUÊNCIA DE NUMERAIS:

1	2	3	4	5	6	7	8	9	10
									20
									30

4) FAÇA O QUE SE PEDE:

QUANTOS ANIMAIS TEM?
DENTRO FORA



CIRCULE QUEM ESTÁ DO
LADO DIREITO E UM X DO
LADO ESQUERDO.



QUANTOS PINTINHOS TEM?
FRENTE ATRÁS





Escola Municipal Carlos Chagas E.I.E.F

Rua: Munhoz de Melo nº78 Centro Fone (44) 3434- 1163

CEP: 87840-000 Mirador-PR

E-mail- escola@mirador.pr.gov.br – E-mail:escolacarloschagasmira@gmail.com

ESCOLA MUNICIPAL CARLOS CHAGAS. EDUCAÇÃO INFANTIL E ENSINO FUNDAMENTAL
ALUNO(A) _____ 1º ANO

ATIVIDADES DE LÍNGUA PORTUGUESA 24/05/2021 (segunda-feira)

GÊNERO PARLENDA: SUBGÊNERO DO POEMA É FORMADA POR VERSOS, ESTROFES QUE PODEM OU NÃO RIMAR, APRESENTA TEMÁTICA INFANTIL, ARRUMAÇÃO RÍTMICA. TEM A FUNÇÃO DE DIVERTIR, ENTRETER, DISTRAIR AS CRIANÇAS, GERALMENTE ENVOLVEM BRINCADEIRA, JOGO OU MOVIMENTO CORPORAL.

1) COM AJUDA DE UM ADULTO LEIA A PARLENDA E COMPLETE O QUE FALTA NO QUADRO AO LADO.

A FOCA
 QUER VER A FOCA
 FICAR FELIZ?
 É PÔR UMA BOLA
 NO SEU NARIZ.

QUER VER A FOCA
 BATER PALMINHA?
 É DAR A ELA
 UMA SARDINHA.

VINIcius DE MORAES



A FOCA
 QUER VER A _____
 FICAR _____?
 É PÔR UMA _____
 NO SEU _____.

QUER VER A _____
 BATER _____?
 É DAR A _____
 UMA _____.

VINIcius DE MORAES

2) ASSINALE A ALTERNATIVA CORRETA.

- A) O TEXTO QUE VOCÊ LEU É UMA. () PARLENDA () CANTIGA.
- B) O TÍTULO DO TEXTO É? () A BOLA () A FOCA
- C) O QUE PÕE NO NARIZ DA FOCA PRA ELA FICAR FELIZ? () PEIXE () BOLA.
- D) O QUE A FOCA FAZ QUANDO DÁ SARDINHA PRA ELA? () PALMINHA () PULINHO.

3) VAMOS COBRIR O PONTILHADO IGUAL AO EXEMPLO:

--	--

4) REESCREVA A FRASE COLOCANDO CADA LETRA NOS QUADRADOS EM BRANCO:

QUER VER A FOCA

--	--	--	--	--	--	--	--	--	--	--	--

FICAR FELIZ?

										?
--	--	--	--	--	--	--	--	--	--	---



Escola Municipal Carlos Chagas E.I.E.F

Rua: Munhoz de Melo nº78 Centro Fone (44) 3434- 1163

CEP: 87840-000 Mirador-PR

E-mail- escola@mirador.pr.gov.br – E-mail:escolacarloschagasmira@gmail.com

ESCOLA MUNICIPAL CARLOS CHAGAS. EDUCAÇÃO INFANTIL E ENSINO FUNDAMENTAL
ALUNO(A) _____ 1º ANO

ATIVIDADE DE GEOGRAFIA - DIA 25/05/2021 (terça-feira)

AMBIENTE RURAL E URBANO (CAMPO E CIDADE)

AS PESSOAS MORAM NO AMBIENTE URBANO, OUTRAS MORAM NO AMBIENTE RURAL.
VAMOS CONHECER O **AMBIENTE RURAL** (CAMPO) E **AMBIENTE URBANO** (CIDADE)




AMBIENTE RURAL É O CAMPO É CONHECIDO TAMBÉM COMO ZONA RURAL É REGIÃO QUE FICA FORA DA CIDADE. AS PESSOAS QUE VIVEM NO CAMPO MORAM EM SÍTIOS, CHÁCARAS E FAZENDAS. CUIDANDO DAS LAVOURAS E DO GADO




AMBIENTE URBANO SÃO AS CIDADES E SÃO CONHECIDAS TAMBÉM COMO ZONA URBANA. NAS CIDADES HÁ MUITAS COISAS COMO SERVIÇOS DE ELETRICIDADES, ÁGUA E ESGOTO, BANCOS E COMÉRCIOS. AS PESSOAS QUE VIVEM NAS CIDADES MORAM EM CASAS OU EM APARTEMENTOS SÃO CONSTRUÍDOS UNS JUNTOS AOS OUTROS


1- OBSERVE ABAIXO A IMAGEM DO **AMBIENTE RURAL – CAMPO** E MARQUE X SOMENTE NO QUE PERTENCE AO **MEIO RURAL**:



ZONA RURAL



2) PINTE NO QUADRO ABAIXO O QUE ENCONTRAMOS NA ZONA URBANA (CIDADE).





Escola Municipal Carlos Chagas E.I.E.F

Rua: Munhoz de Melo nº78 Centro Fone (44) 3434- 1163

CEP: 87840-000 Mirador-PR


E-mail- escola@mirador.pr.gov.br – E-mail: escolacarloschagasmira@gmail.com






ESCOLA MUNICIPAL CARLOS CHAGAS. EDUCAÇÃO INFANTIL E ENSINO FUNDAMENTAL

ALUNO(A): _____ 1º ANO

ATIVIDADE DE MATEMÁTICA – 25/05/2021 (terça-feira)

1) FAÇA A CONTAGEM DAS FIGURAS E COMPLETE A TABELA DE ACORDO COM A QUANTIDADE.



2) ESTA É A TURMA DO 1º ANO E A PROFESSORA VAI DISTRIBUIR “MASSINHA DE MODELAR” PARA AS CRIANÇAS BRINCAREM EM **DUPLAS**. VAMOS AJUDÁ-LA A DIVIDIR A TURMA? CIRCULE OS ALUNOS DE 2 EM 2. DEPOIS RESPONDA:



QUANTAS CRIANÇAS HÁ NA TURMA?

QUANTAS DUPLAS FORAM FORMADAS?

FICOU ALGUMA CRIANÇA SOZINHA? SIM NÃO

QUANTOS MENINOS? QUANTAS MENINAS?



Escola Municipal Carlos Chagas E.I.E.F

Rua: Munhoz de Melo nº78 Centro Fone (44) 3434- 1163

CEP: 87840-000 Mirador-PR

E-mail- escola@mirador.pr.gov.br – [E-mail:escolacarloschagasmira@gmail.com](mailto:escolacarloschagasmira@gmail.com)

ESCOLA MUNICIPAL CARLOS CHAGAS. EDUCAÇÃO INFANTIL E ENSINO FUNDAMENTAL

ALUNO(A) _____ 1º ANO

ATIVIDADE DE LÍNGUA PORTUGUESA 26/05/2021 (quarta-feira)

1) LIGUE OS NOMES AS FIGURAS DA PARLENDA “A FOCA”.



SARDINHA



NARIZ



FOCA



BOLA

2) NO TEXTO DO DIA 24/05 (SEGUNDA-FEIRA) ENCONTRE E ESCREVA PALAVRAS DE RIMAM COM.

FELIZ	
FOCA	
PALMINHA	

3) UNA A LETRA F COM CADA VOGAL E FORME SÍLABAS.

A diagram with a large letter 'F' on the left. Five arrows point from 'F' to five boxes containing the vowels: A, E, I, O, and U. To the right of each vowel box is an empty rectangular box for writing a syllable.

4) LEIA AS FIGURAS, COMPLETE AS PALAVRAS COM F E COPIE.

Four rows of illustrations with corresponding word templates and empty boxes for copying:

- Illustration of a leaf: **__OLHA** (with empty boxes below)
- Illustration of a stove: **__OGÃO** (with empty boxes below)
- Illustration of a girl: **__ADA** (with empty boxes below)
- Illustration of an iron: **__ERRO** (with empty boxes below)
- Illustration of beans: **__EIJÃO** (with empty boxes below)
- Illustration of a pen: **__LAUTA** (with empty boxes below)



Escola Municipal Carlos Chagas E.I.E.F

Rua: Munhoz de Melo nº78 Centro Fone (44) 3434- 1163

CEP: 87840-000 Mirador-PR

E-mail- escola@mirador.pr.gov.br – E-mail: escolacarloschagasmira@gmail.com

ESCOLA MUNICIPAL CARLOS CHAGAS. EDUCAÇÃO INFANTIL E ENSINO FUNDAMENTAL
ALUNO(A) _____ 1º ANO

ATIVIDADE DE CIÊNCIAS - DIA 26/05/2021 (quarta-feira)

SERES VIVOS E SERES NÃO VIVOS

TUDO O QUE EXISTE NA NATUREZA CHAMAMOS DE **SERES**. CLASSIFICAMOS ESSES SERES EM DOIS GRUPOS: **SERES VIVOS** E **SERES NÃO VIVOS**.

OS **SERES VIVOS** SÃO AQUELES QUE **NASCEM, CRESCEM, SE REPRODUZEM E MORREM**, COMO OS ANIMAIS (INCLUSIVE O HOMEM), FUNGOS, PLANTAS, ALGAS, PROTOZOÁRIOS E BACTÉRIAS.







EXEMPLO:

				
ÁRVORE	CAVALO	PÁSSAROS	FLORES	PESSOAS


OS **SERES NÃO VIVOS** SÃO AQUELES INANIMADOS, **QUE NÃO POSSUEM VIDA**, MAS QUE TAMBÉM SÃO DA NATUREZA, COMO O AR, A ÁGUA, O SOLO E AS PEDRAS.

EXISTEM AINDA OS OBJETOS CRIADOS PELO HOMEM, QUE NÃO SÃO VIVOS, COMO OS CARROS, AS ROUPAS, OS COMPUTADORES, OS BRINQUEDOS E VÁRIOS OUTROS

EXEMPLO:

					
VENTO	PEDRA	ÁGUA	CARRO	COMPUTADOR	URSO

1 – OBSERVE AS IMAGENS ABAIXO E CIRCULE DE **VERDE** O QUE SÃO **SERES VIVOS** E DE **VERMELHO** OS **SERES NÃO VIVOS**:





Escola Municipal Carlos Chagas E.I.E.F

Rua: Munhoz de Melo nº78 Centro Fone (44) 3434- 1163

CEP: 87840-000 Mirador-PR

E-mail- escola@mirador.pr.gov.br – E-mail: escolacarloschagasmira@gmail.com


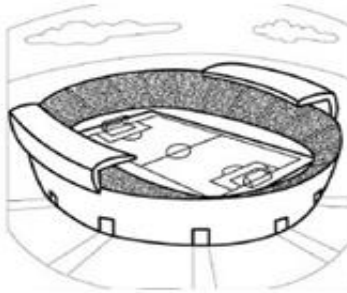
ESCOLA MUNICIPAL CARLOS CHAGAS. EDUCAÇÃO INFANTIL E ENSINO FUNDAMENTAL
ALUNO(A) _____ 1º ANO

ATIVIDADE DE ENSINO RELIGIOSO - DIA 27/05/2021 (quinta-feira)

ESPAÇOS SAGRADOS

SÃO LUGARES ONDE AS PESSOAS VIVENCIAM A SUA RELIGIÃO
E O CONTATO COM O SAGRADO.

QUAIS DESTES LUGARES REPRESENTAM ESPAÇOS SAGRADOS?
PINTE-OS:





Escola Municipal Carlos Chagas E.I.E.F

Rua: Munhoz de Melo nº78 Centro Fone (44) 3434- 1163

CEP: 87840-000 Mirador-PR

E-mail- escola@mirador.pr.gov.br – E-mail:escolacarloschagasmira@gmail.com

ESCOLA MUNICIPAL CARLOS CHAGAS. EDUCAÇÃO INFANTIL E ENSINO FUNDAMENTAL
ALUNO(A) _____ 1º ANO

ATIVIDADE DE LÍNGUA PORTUGUESA – 28/05/2021 (sexta-feira)

1) COM A AJUDA DE UM ADULTO LEIA O TEXTO E ENCONTRE PALAVRAS COM:

A FOCA
 QUER VER A FOCA
 FICAR FELIZ?
 É PÔR UMA BOLA
 NO SEU NARIZ.

QUER VER A FOCA
 BATER PALMINHA?
 É DAR A ELA
 UMA SARDINHA.
 VINICIUS DE MORAES

2 LETRAS					
3 LETRAS					
4 LETRAS					
5 LETRAS					

2) OBSERVE A PARLENDIA A FOCA E COMPLETE AS SÍLABAS DAS PALAVRAS.

CA

SAR NHA

RIZ

LIZ

PAL NHA

CAR

LA

TER

3) COMPLETE AS PALAVRAS E ESCREVA AS INFORMAÇÕES NO QUADRO.

IMAGEM	LETRA INICIAL	LETRA FINAL	NÚMERO DE LETRAS	REESCRITA DA PALAVRA
 F _ C _				
 B _ L _				
 N _ R _ Z				



Escola Municipal Carlos Chagas E.I.E.F

Rua: Munhoz de Melo nº78 Centro Fone (44) 3434- 1163

CEP: 87840-000 Mirador-PR

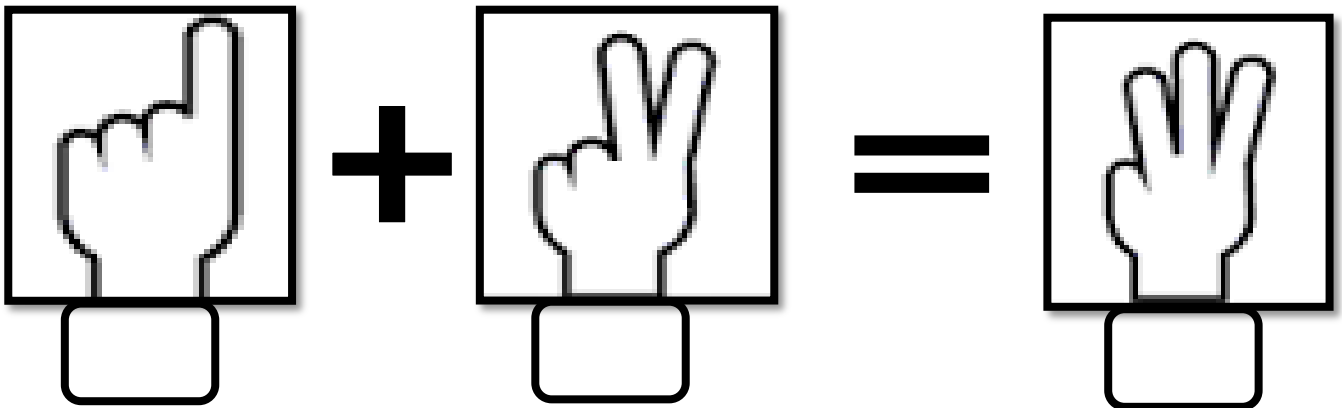
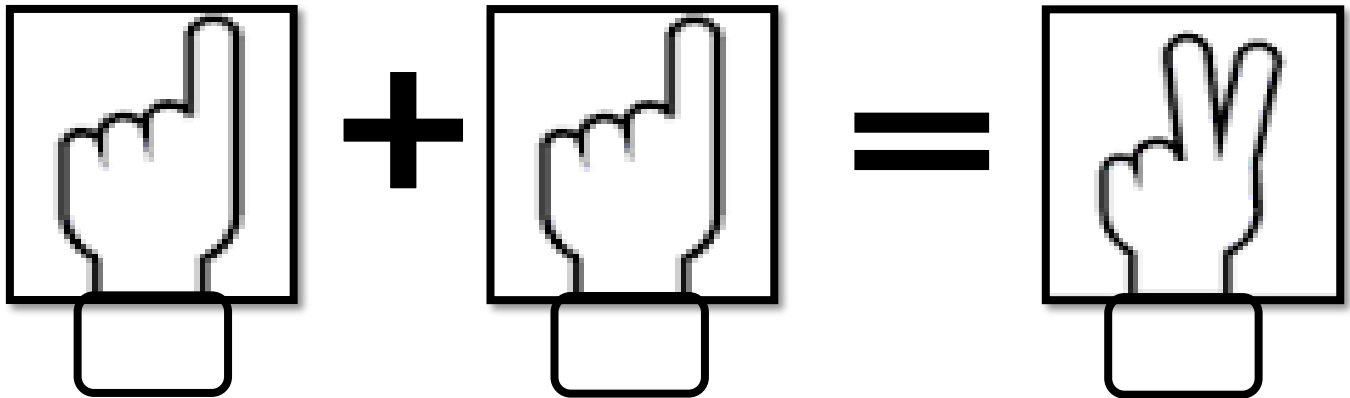
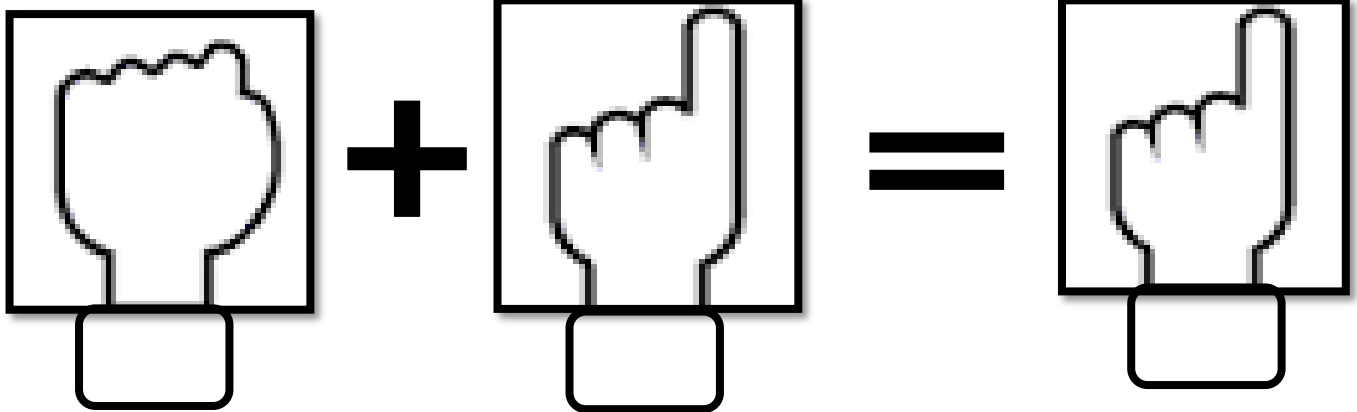
E-mail- escola@mirador.pr.gov.br – E-mail: escolacarloschagasmira@gmail.com

ESCOLA MUNICIPAL CARLOS CHAGAS. EDUCAÇÃO INFANTIL E ENSINO FUNDAMENTAL

ALUNO(A): _____ 1º ANO B

ATIVIDADE DE MATEMÁTICA – 28/05/2021 (sexta-feira)

1) REGISTRE OS NÚMEROS QUE OS DEDINHOS MOSTRAM E DESCUBRA A SOMA.



2) VOCÊ SABE QUE DIA DA SEMANA É HOJE? MARQUE A RESPOSTA CORRETA;

() DOMINGO () SEGUNDA-FEIRA () TERÇA-FEIRA () QUARTA-FEIRA
() QUINTA-FEIRA () SEXTA-FEIRA () SÁBADO

3) COMPLETE O QUADRO COM O DIA DA SEMANA QUE ESTA FALTANDO.

1º	DOMINGO	5º	QUINTA-FEIRA
2º		6º	
3º	TERÇA-FEIRA	7º	SÁBADO
4º			