




Semana: 08/03/2021 A 19/03/2021
Aluno(a) _____

Turma: 1º ANO- B

COMPONENTE CURRICULAR: LÍNGUA PORTUGUESA

08/03/2021

CEBOLINHA COMPROU FLORES PARA PRESENTEAR A MÔNICA PELO "DIA INTERNACIONAL DA MULHER".
VAMOS AJUDÁ-LO A ENTREGAR COMPLETANDO O CAMINHO COM AS LETRAS DO ALFABETO!





Semana: 08/03/2021 A 19/03/2021
Aluno(a) _____


Turma: 1º ANO- B

COMPONETE CURRICULAR: MATEMÁTICA

08/03/2021



1) CIRCULE O NUMERAL CORRESPONDENTE AOS ELEMENTOS DE CADA CONJUNTO.



6 - 9 - 3 - 1



2 - 7 - 4 - 5




8 - 6 - 9 - 7



4 - 3 - 5 - 1

2) COMPLETE OS CONJUNTOS PARA QUE FIQUEM COM AS QUANTIDADES PEDIDAS.






Semana: 08/03/2021 A 19/03/2021
Aluno(a) _____

Turma: 1º ANO- B

COMPONENTE CURRICULAR: MATEMÁTICA 09/03/2021

1- COMPLETE A SEQUÊNCIA DOS NUMERAIS
NOS VAGÕES DO TREM DO CEBOLINHA.





Semana: 08/03/2021 A 19/03/2021
Aluno(a) _____

Turma: 1º ANO- B

COMPONENTE CURRICULAR: GEOGRAFIA 09/03/2021

ESTE É O LUGAR ONDE EU MORO

O NOME DA MINHA RUA É...

COMPONENTE CURRICULAR: MATEMÁTICA 09/03/2021

1- LEIA E COPIE OS NUMERAIS

1	2	3	4
5	6	7	8
9	10	11	12
13	14	15	16
17	18	19	20



Semana: 08/03/2021 A 19/03/2021
 Aluno(a) _____

Turma: 1º ANO- B

COMPONENTE CURRICULAR: LÍNGUA PORTUGUESA

10/03/2021

DE OZHO NA ATIVIDADE

1. VAMOS TREINAR ?

A

--	--	--	--



E

--	--	--	--



I

--	--	--	--



O

--	--	--	--



U

--	--	--	--





Semana: 08/03/2021 A 19/03/2021
Aluno(a) _____

Turma: 1º ANO- B

















COMPONENTE CURRICULAR: MATEMÁTICA

10/03/2021

QUEM VEM DEPOIS?



1- ESCREVA O NUMERAL VIZINHO QUE VEM DEPOIS DENTRO DE CADA MAÇÃ.

 2	 _____	 6	 _____
 9	 _____	 4	 _____
 1	 _____	 8	 _____
 5	 _____	 3	 _____



Semana: 08/03/2021 A 19/03/2021
Aluno(a) _____

Turma: 1º ANO- B

COMPONENTE CURRICULAR: LÍNGUA PORTUGUESA 12/03/2021


A LETRA DO DIA É...

E

PINTE DE AZUL A LETRA E.

E

PINTE O DESENHO.



ESTRELA

CIRCULE AS LETRAS E.

G I V E
S E D Z

FAÇA O TRACEJADO DA LETRA.

E E E E E E E

PINTE SOMENTE AS BOLINHAS COM A LETRA E.

Y E C B D E V



Semana: 08/03/2021 A 19/03/2021

Turma: 1º ANO- B

Aluno(a) _____

COMPONENTE CURRICULAR: CIÊNCIAS 12/03/2021



**O DIA É CLARO
PORQUE O SOL BRILHA.
A NOITE É ESCURA
A LUA E AS ESTRELAS
APARECEM À NOITE.**



- Observar como o dia está hoje e fazer um bonito desenho.

- Observar como está a noite e desenhar com bastante capricho.

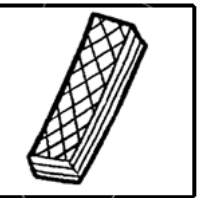


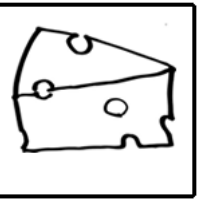





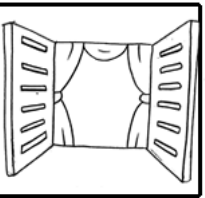




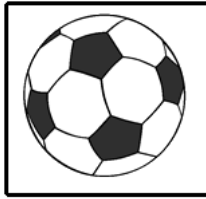



Semana: 08/03/2021 A 19/03/2021
Aluno(a) _____

Turma: 1º ANO- B

COMPONENTE CURRICULAR: LÍNGUA PORTUGUESA 15/03/2021

LETRA INICIAL



1- ESCREVA A LETRA INICIAL DE CADA
DESENHO E COMPLETE O...

ALFABETO








Semana: 08/03/2021 A 19/03/2021
Aluno(a) _____

Turma: 1º ANO- B

COMPONENTE CURRICULAR: MATEMÁTICA 15/03/2021

CONTANDO E REGISTRANDO





Semana: 08/03/2021 A 19/03/2021
Aluno(a) _____

Turma: 1º ANO- B

COMPONENTE CURRICULAR: MATEMÁTICA 16/03/2021

CONTINUE A ESCREVER OS NUMERAIS EM PALAVRAS.

1 UM

U	
---	--

2 DOIS

D			
---	--	--	--

3 TRÊS

T			
---	--	--	--

4 QUATRO

Q					
---	--	--	--	--	--

5 CINCO

C				
---	--	--	--	--

6 SEIS

S			
---	--	--	--

7 SETE

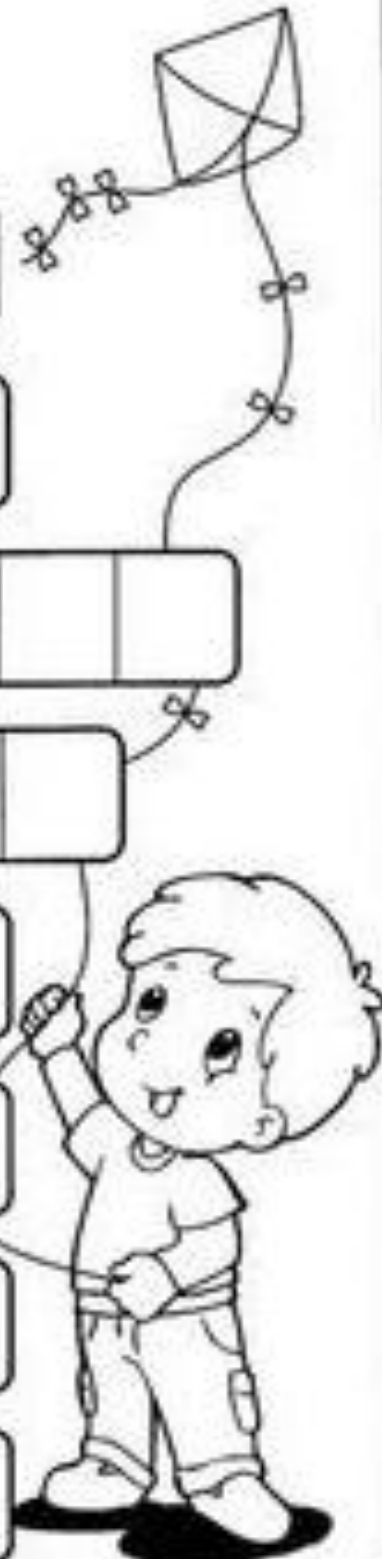
S			
---	--	--	--

8 OITO

O			
---	--	--	--

9 NOVE

N			
---	--	--	--





Escola Municipal Carlos Chagas E.I.E.F

Rua: Munhoz de Melo nº78 Centro Fone (44) 3434- 1163

CEP: 87840-000 Mirador-PR

E-mail- escola@mirador.pr.gov.br – E-mail:escolacarloschagasmira@gmail.com

Semana: 08/03/2021 A 19/03/2021

Turma: 1º ANO- B


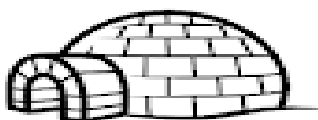
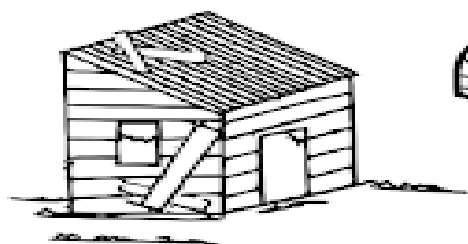
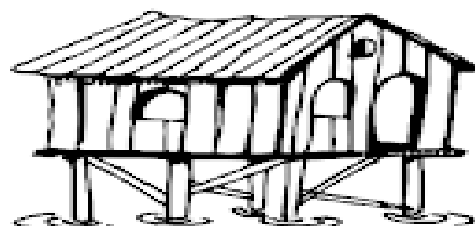
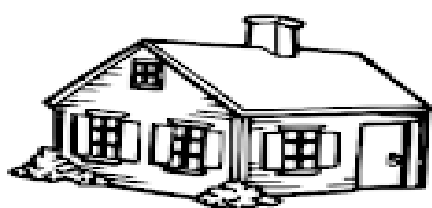
Aluno(a) _____

COMPONENTE CURRICULAR: GEOGRAFIA 16/03/2021

TIPOS DE MORADIA

TUDO SER HUMANO NECESSITA DE UM LUGAR PARA MORAR E SE ABRIGAR DA CHUVA, DO SOL, DO FRIO, E DO CALOR. UM LUGAR PARA SE PROTEGER!

OBSERVE ABAIXO, ALGUNS TIPOS DE MORADIAS.



AGORA DESENHE A SUA CASA.




Semana: 08/03/2021 A 19/03/2021
Aluno(a) _____



























Turma: 1º ANO- B

COMPONENTE CURRICULAR: LÍNGUA PORTUGUESA 17/03/2021

1- QUANTAS LETRAS TEM O ALFABETO?

2- ENUMERE CADA LETRA DENTRO DAS
PLAQUINHAS E DESCUBRA.






Semana: 08/03/2021 A 19/03/2021
Aluno(a) _____

Turma: 1º ANO- B






COMPONENTE CURRICULAR: MATEMÁTICA

17/03/2021

- PARECE QUE O ARTISTA DEIXOU SEUS OBJETOS ESPALHADOS PELO ATELIÊ: LÁPIS, VIDROS DE TINTA, TESOURA, PAPEL E PINCEL.



- PINTE OS QUADRINHOS DE ACORDO COM A QUANTIDADE DE CADA OBJETO:



Semana: 08/03/2021 A 19/03/2021
Aluno(a) _____

Turma: 1º ANO- B

COMPONENTE CURRICULAR: LÍNGUA PORTUGUESA 19/03/2021

QUE LETRA VEM

DEPOIS ?



A	B	_	D	_	F
C	D	E	_	G	_
F	_	H	_	J	K
J	K	_	M	N	_
L	M	N	_	P	_
T	_	V	_	X	_



Semana: 08/03/2021 A 19/03/2021
Aluno(a) _____



Turma: 1º ANO- B

COMPONENTE CURRICULAR: CIÊNCIAS

19/03/2021

LIGUE-CERTO

- Ligar os desenhos às roupas que usamos durante o dia e à noite.



- Pedir às crianças que observem o céu à noite para poderem comentar na rodinha.