



# Escola Municipal Carlos Chagas E.I.E.F

Rua: Munhoz de Melo nº78 Centro Fone (44) 3434- 1163

CEP: 87840-000 Mirador-PR

E-mail- [escola@mirador.pr.gov.br](mailto:escola@mirador.pr.gov.br) – E-mail: [escolacarloschagasmira@gmail.com](mailto:escolacarloschagasmira@gmail.com)

MIRADOR, 26 DE JULHO DE 2021.

ALUNO(A): \_\_\_\_\_ 1º ANO B

PROFESSORA: CRISTIANA FERNANDES

## ATIVIDADE DE LÍNGUA PORTUGUESA

1) COM AJUDA DE UM ADULTO LEIA O TEXTO E REALIZE AS ATIVIDADES NO TEXTO:

O **K** É UMA LETRA DIFERENTE. APARECE EM MARCAS DE PRODUTOS E EM NOME DE GENTE.

KARINA, KNORR, KIBON, KELLY E KARAOKÊ. ESCREVER ASSIM É TÃO BOM! ENTÃO, VOU ESTUDAR PARA VALER!

WENIDARC CINTRA.

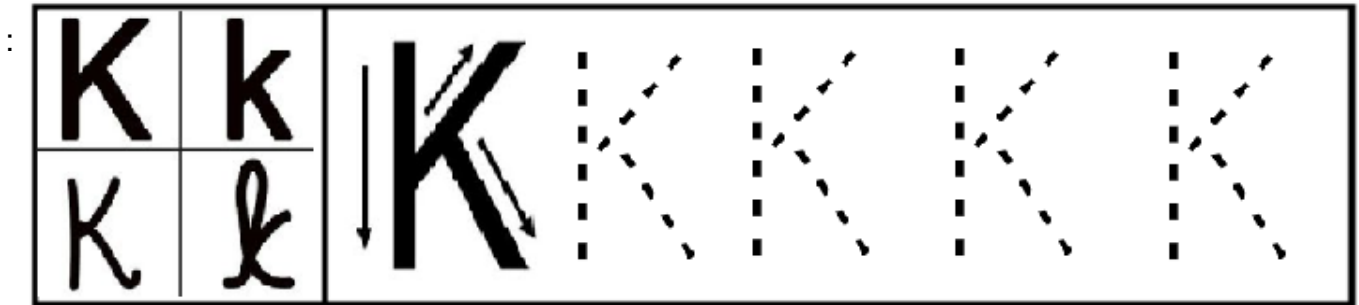
a) CIRCULE DE VERMELHO OS NOMES DE PESSOAS INICIADOS COM K.

b) PINTE DE AMARELO OS NOMES DAS MARCAS INICIADAS COM K

c) ESCREVA UM NOME INICIADO COM A LETRA K \_\_\_\_\_

2) QUANTAS PALAVRAS TEM O TEXTO: \_\_\_\_\_

3) CONHEÇA DIFERENTES TRAÇADOS DA LETRA **K** E TRACE OS PONTILHADOS.



4) LIGUE AS IMAGENS AOS NOMES:

5) UNA A LETRA **K** AS VOGAIS E FORME SÍLABAS



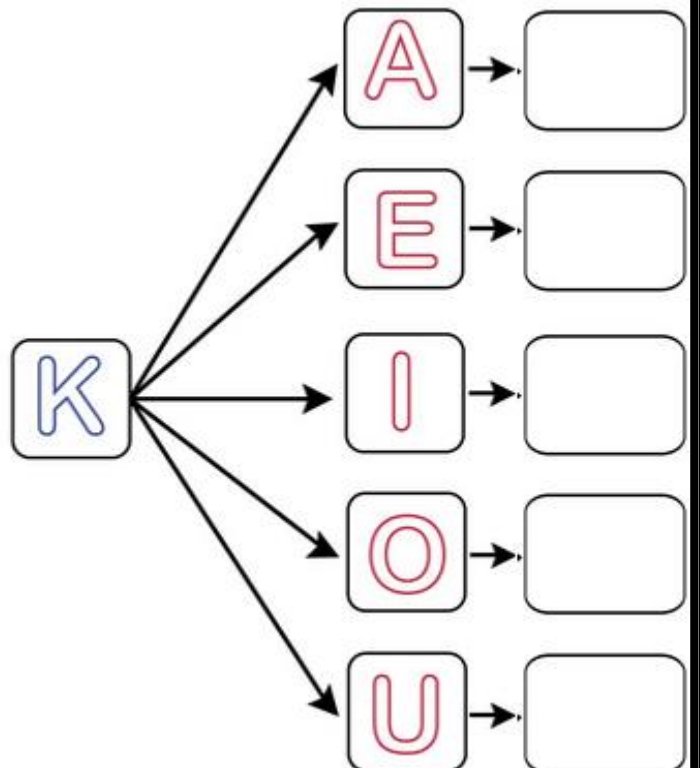
KIBON

KOMBI

KARATÊ

KNORR

KARAOKÊ





ALUNO(A) \_\_\_\_\_ 1º ANO

ATIVIDADE DE MATEMÁTICA 26/07/2021 (segunda-feira)

1) RESOLVA OS PROBLEMAS.

ANA GANHOU... ESTOUROU... QUANTOS RESTARAM?

$4 \text{ balões} - 1 \text{ balão} = \text{ } \bigcirc$

GUTO TINHA... COMEU... QUANTAS RESTARAM?

$5 \text{ doces} - 2 \text{ doces} = \text{ } \bigcirc$

JOÃO PEGOU... CAÍRAM... QUANTAS RESTARAM?

$6 \text{ bolas} - 4 \text{ bolas} = \text{ } \bigcirc$

LUÍZA COMPROU... GANHOU... QUANTAS FICARAM?

$8 \text{ doces} + 3 \text{ doces} = \text{ } \bigcirc$

ANA TINHA... GANHOU... QUANTAS FICARAM?

$3 \text{ bonecas} + 1 \text{ boneca} = \text{ } \bigcirc$

JOÃO TINHA... GANHOU... QUANTAS FICARAM?

$4 \text{ caminhões} + 2 \text{ caminhões} = \text{ } \bigcirc$



## Escola Municipal Carlos Chagas E.I.E.F

Rua: Munhoz de Melo nº78 Centro Fone (44) 3434- 1163

CEP: 87840-000 Mirador-PR

E-mail- [escola@mirador.pr.gov.br](mailto:escola@mirador.pr.gov.br) – E-mail: [escolacarloschagasmira@gmail.com](mailto:escolacarloschagasmira@gmail.com)

MIRADOR, 27 DE JULHO DE 2021.

ALUNO(A): \_\_\_\_\_ 1º ANO B

PROFESSORA: \_\_\_\_\_

### ATIVIDADES DE GEOGRAFIA

COMO ESTUDAMOS NA AULA PASSADA SOBRE BRINCADEIRAS DAS FESTAS JUNINAS, VAMOS FALAR SOBRE AS BRINCADEIRAS DE ANTIGAMENTE. HOJE EM DIA HÁ BRINQUEDOS MOVIDOS A CONTROLE REMOTO, JOGOS EM CELULARES E VIDEOGAMES MODERNOS. NO PASSADO, OS BRINQUEDOS E AS BRINCADEIRAS ERAM DIFERENTES, MAS TAMBÉM DIVERTIAM AS CRIANÇAS. AGORA IREMOS CONHECER ALGUMAS BRINCADEIRAS ANTIGAS.



BOLINHAS DE GUDE




PULA SELA



JOGAR PIÃO



AMARELINHA



PULAR ELÁSTICO



PULAR CORDA



JOGAR PETECA



CAVALINHO DE PAU

AGORA CONVERSE COM SUA FAMÍLIA E DESCUBRA MAIS BRINCADEIRAS ANTIGAS DESENHE ABAIXO E ESCREVA O NOME DA BRINCADEIRA.



# Escola Municipal Carlos Chagas E.I.E.F

Rua: Munhoz de Melo nº78 Centro Fone (44) 3434- 1163


CEP: 87840-000 Mirador-PR

E-mail- [escola@mirador.pr.gov.br](mailto:escola@mirador.pr.gov.br) – E-mail: [escolacarloschagasmira@gmail.com](mailto:escolacarloschagasmira@gmail.com)

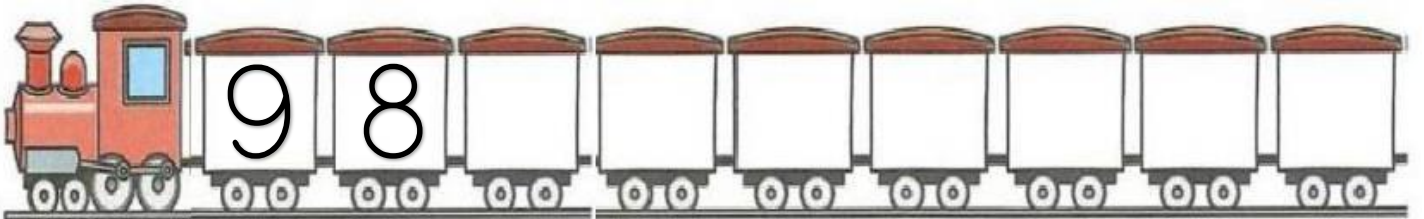
.ALUNO(A) \_\_\_\_\_ 1º ANO

## ATIVIDADE DE MATEMÁTICA 27/07/2021 (terça-feira)

1) COMPLETE O TREM COM A ORDEM CRESCENTE (DO MENOR PARA O MAIOR)



2) COMPLETE O TREM COM A ORDEM DECRESCENTE (DO MAIOR PARA O MENOR)



3) OBSERVE O QUADRO COM OS NUMERAIS DE 1 À 60. EM SEGUIDA, COMPLETE A TABELA COM OS NUMERAIS QUE ESTAM FALTANDO.

1	2	3	4	5	6	7	8	9	10
11	12	13	14	15	16	17	18	19	20
21	22	23	24	25	26	27	28	29	30
31	32	33	34	35	36	37	38	39	40
41	42	43	44	45	46	47	48	49	50
51	52	53	54	55	56	57	58	59	60

1		3		5		7		9	
	12		14		16		18		20
21		23		25		27		29	
	32		34		36		38		40
41		43		45		47		49	
	52		54		56		58		60





# Escola Municipal Carlos Chagas E.I.E.F

Rua: Munhoz de Melo nº78 Centro Fone (44) 3434- 1163

CEP: 87840-000 Mirador-PR

E-mail- [escola@mirador.pr.gov.br](mailto:escola@mirador.pr.gov.br) – E-mail: [escolacarloschagasmira@gmail.com](mailto:escolacarloschagasmira@gmail.com)

ALUNO(A) \_\_\_\_\_ 1º ANO B

## ATIVIDADE DE LÍNGUA PORTUGUESA 28/07/2021 (quarta-feira)

1) COMPLETE AS PALAVRAS COM AS SÍLABAS INICIAIS:



\_\_\_ TCHUP



\_\_\_ T



\_\_\_ RATÊ



\_\_\_ MBI



\_\_\_ WI



\_\_\_ RT

2) COLOQUE AS PALAVRAS EM ORDEM ALFABÉTICA FAZENDO UMA LISTA:

KARATÊ – JANELA – ABELHA - DADO – IGREJA - CASA – BONECA

ESCOLA - FOCA - GATO - HOSPITAL - LIMÃO

1-

7-

2-

8-

3-

9-

4-

10-

5-

11-

6-

12-



## Escola Municipal Carlos Chagas E.I.E.F

Rua: Munhoz de Melo nº78 Centro Fone (44) 3434- 1163

CEP: 87840-000 Mirador-PR

E-mail- [escola@mirador.pr.gov.br](mailto:escola@mirador.pr.gov.br) – E-mail: [escolacarloschagasmira@gmail.com](mailto:escolacarloschagasmira@gmail.com)

MIRADOR, 28 DE JULHO DE 2021.

ALUNO(A): \_\_\_\_\_ 1º ANO B

PROFESSORA:

### ATIVIDADES DE CIÊNCIAS ALIMENTAÇÃO SAUDÁVEL

PARA CRESCER FORTE E SAUDÁVEL É PRECISO COMER DIARIAMENTE ALIMENTOS COMO CEREAIS (ARROZ, MILHO), GRÃOS (FEIJÃO, ERVILHA), TUBÉRCULOS (BATATAS), RAÍZES (MANDIOCA, MACAXEIRA E AIPIM), CARNES E PEIXES, PÃES E MASSAS, DISTRIBUINDO ESSES ALIMENTOS NAS REFEIÇÕES E LANCHES AO LONGO DO DIA. ALÉM DE COMER LEGUMES E VERDURAS NAS DUAS PRINCIPAIS REFEIÇÕES DO DIA E FRUTAS NAS SOBREMESAS E LANCHES.

1) CIRCULE DE VERDE OS ALIMENTOS SAUDÁVEIS E FAÇA UM X NOS ALIMENTOS QUE NÃO FAZEM BEM PRA SAÚDE.



2) ESCREVA QUAL ALIMENTO VOCÊ MAIS GOSTA DE COMER.

---

---



# Escola Municipal Carlos Chagas E.I.E.F

Rua: Munhoz de Melo nº78 Centro Fone (44) 3434- 1163

CEP: 87840-000 Mirador-PR

E-mail- [escola@mirador.pr.gov.br](mailto:escola@mirador.pr.gov.br) – E-mail: [escolacarloschagasmira@gmail.com](mailto:escolacarloschagasmira@gmail.com)

ALUNO(A): \_\_\_\_\_

PROFESSORA: \_\_\_\_\_ 1º ANO

## ATIVIDADE DE LÍNGUA PORTUGUESA 29/07/2021 (sexta-feira)

1) ORDENE AS FRASES E REESCREVAS:

**AMO KIBON SORVETE EU DA .**

**LUTA KUNG-FU KARINA .**

2) COLORA OS CÍRCULOS QUE FORMAM OS NOMES DAS IMAGENS.



KI

DU

MO

BA

NO



FA

KIN

CO

DER

GI

3) COMPLETE COM AS LETRAS QUE FALTAM.



M	I	C	K	E	Y
M		C		E	
	I		K		Y



K	A	R	T
	A		T
K		R	

4) CIRCULE AS LETRAS **K** DAS PALAVRAS.

**KART**

**Kinder**

Mickey

milk-shake

skate

Karina



# Escola Municipal Carlos Chagas E.I.E.F

Rua: Munhoz de Melo nº78 Centro Fone (44) 3434- 1163

CEP: 87840-000 Mirador-PR

E-mail- [escola@mirador.pr.gov.br](mailto:escola@mirador.pr.gov.br) – E-mail:[escolacarloschagasmira@gmail.com](mailto:escolacarloschagasmira@gmail.com)

MIRADOR, 29 DE JULHO DE 2021.

ALUNO(A): \_\_\_\_\_ 1º ANO B

PROFESSORA: CRISTIANA FERNANDES

## ATIVIDADES DE MATEMÁTICA

EXISTE UM SISTEMA DE ESCREVER NÚMEROS EM QUE CADA ALGARISMO OCUPA UMA **POSIÇÃO** OU **ORDEM** E VOCÊS CONHECERAM DUAS ORDENS DESSE SISTEMA. SÃO ELAS AS **DEZENAS** E AS **UNIDADES**.

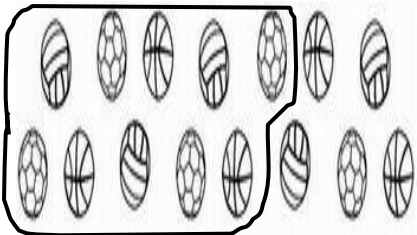
TEMOS O NÚMERO 12

DEZENA	UNIDADES
1	2

=

UMA DEZENA = 10  
MAIS DUAS UNIDADES = 2

.AGORA VEJA OUTRO EXEMPLO: AGRUPE DE 10 EM 10 AS BOLINHAS E REGISTRE A QUANTIDADE DE GRUPOS FORMADOS E DAS BOLINHAS QUE SOBRARAM




15

O NÚMERO 1 DEVE SER REGISTRADO NA ORDEM DAS DEZENAS E O 5 NA ORDEM DAS UNIDADES. O NÚMERO 15 TEM 1 DEZENA MAIS 5 UNIDADES

DEZENA	UNIDADES
1	5

1) CONTINUE AGRUPANDO DE 10 EM 10 E REGISTRE COMO NO EXEMPLO:

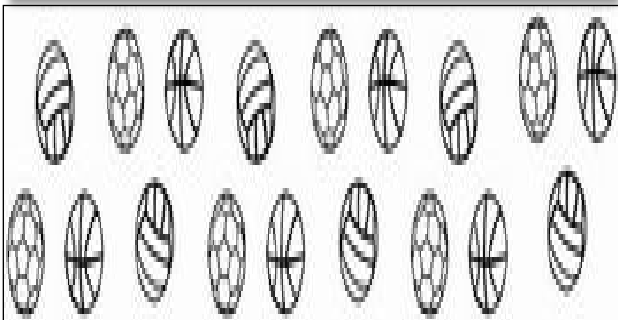


TOTAL DE BOLINHAS:

QUANTIDADE DE GRUPOS DE 10:

QUANTIDADE DE BOLINHAS QUE SOBRARAM:

DEZENA	UNIDADES

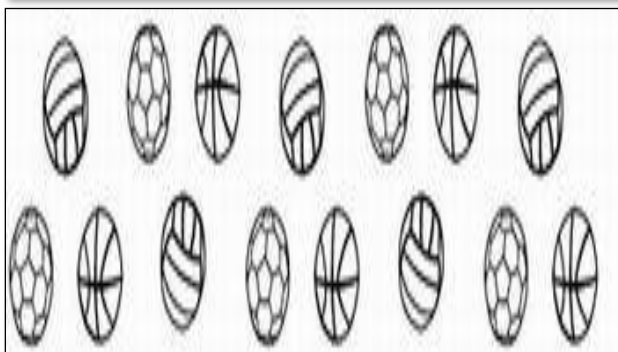


TOTAL DE BOLINHAS:

QUANTIDADE DE GRUPOS DE 10:

QUANTIDADE DE BOLINHAS QUE SOBRARAM:

DEZENA	UNIDADES



TOTAL DE BOLINHAS:

QUANTIDADE DE GRUPOS DE 10:

QUANTIDADE DE BOLINHAS QUE SOBRARAM:

DEZENA	UNIDADES





# Escola Municipal Carlos Chagas E.I.E.F

Rua: Munhoz de Melo nº78 Centro Fone (44) 3434- 1163

CEP: 87840-000 Mirador-PR

E-mail- [escola@mirador.pr.gov.br](mailto:escola@mirador.pr.gov.br) – E-mail: [escolacarloschagasmira@gmail.com](mailto:escolacarloschagasmira@gmail.com)

ALUNO(A) \_\_\_\_\_ 1º ANO B

## ATIVIDADES DE LÍNGUA PORTUGUESA 02/08/2021 (segunda-feira)

1) ESCUTE O VÍDEO DA CANÇÃO, EM SEGUIDA PINTE OS ESPAÇOS ENTRE AS PALAVRAS.



### MEU LIMÃO

Will Holt



MEU LIMÃO, MEU LIMOEIRO  
MEU PÉ DE JACARANDÁ  
UMA VEZ TINDÔ LÊ LÊ  
OUTRA VEZ TINDÔ LÁ LÁ

2) RESPONDA DE ACORDO COM A MÚSICA:

a) NOME DA MÚSICA:

( ) MEU LIMÃO

( ) CAPELINHA DE MELÃO

b) DE QUAL FRUTA A MÚSICA FALA:

( ) LARANJA ( ) LIMÃO

3) CIRCULE DE VERMELHO NO TEXTO TODAS AS LETRAS **L**.

4) CONHEÇA DIFERENTES TRAÇADOS DA LETRA **L** E TRACE OS PONTILHADOS.:


4) UNA A LETRA **L** AS VOGAIS E FORME SÍLABAS.

5) LIGUE AS IMAGENS AOS NOMES:

		→	<input type="text"/>
		→	<input type="text"/>
		→	<input type="text"/>
		→	<input type="text"/>
		→	<input type="text"/>






# Escola Municipal Carlos Chagas E.I.E.F

Rua: Munhoz de Melo nº78 Centro Fone (44) 3434- 1163

CEP: 87840-000 Mirador-PR

E-mail- [escola@mirador.pr.gov.br](mailto:escola@mirador.pr.gov.br) – E-mail:[escolacarloschagasmira@gmail.com](mailto:escolacarloschagasmira@gmail.com)

ALUNO(A) \_\_\_\_\_ 1º ANO

## ATIVIDADE DE MATEMÁTICA – 03/07/2021 (terça-feira)

1) CIRCULAR CADA DEZ UNIDADES DOS DESENHOS PARA FORMAR DEZENAS E O QUE SOBRAR SERÁ O NÚMERO DA UNIDADE. ANOTE NO QUATRO AO LADO QUANTOS GRUPOS DE DEZENAS E O QUE SOBROU SERÁ A UNIDADE.

	DEZENAS	UNIDADES
	<input type="text"/>	<input type="text"/>

	DEZENAS	UNIDADES
	<input type="text"/>	<input type="text"/>

	DEZENAS	UNIDADES
	<input type="text"/>	<input type="text"/>

	DEZENAS	UNIDADES
	<input type="text"/>	<input type="text"/>

	DEZENAS	UNIDADES
	<input type="text"/>	<input type="text"/>

	DEZENAS	UNIDADES
	<input type="text"/>	<input type="text"/>



# Escola Municipal Carlos Chagas E.I.E.F

Rua: Munhoz de Melo nº78 Centro Fone (44) 3434- 1163

CEP: 87840-000 Mirador-PR

E-mail- [escola@mirador.pr.gov.br](mailto:escola@mirador.pr.gov.br) – E-mail:[escolacarloschagasmira@gmail.com](mailto:escolacarloschagasmira@gmail.com)


ALUNO(A) \_\_\_\_\_

1º ANO


## ATIVIDADE DE LÍNGUA PORTUGUESA 04/08/2021 (quarta-feira)

1) COM A AJUDA DE UM ADULTO LEIA O TEXTO E CIRCULE TODAS PALAVRAS QUE INICIAM COM A LETRA **L**.

TEM NO LIVRO E NO LÁPIS  
 NA LARANJA E NO LIMÃO  
 TEM NA LUIVA E NA LUIA  
 NA LAGARTA E NO LEÃO



2) COMPLETE COM **LA – LE – LI – LO – LU**.



3) ORGANIZE AS PALAVRAS DE ACORDO COM A SÍLABA INICIAL.

LATA – LIXO – LUA – LEÃO – LOJA – LOBO – LEITE – LAÇO - LIVRO

<b>LA</b>	<input type="text"/>	<input type="text"/>	<b>LO</b>	<input type="text"/>	<input type="text"/>
<b>LE</b>	<input type="text"/>	<input type="text"/>	<b>LU</b>	<input type="text"/>	<input type="text"/>
<b>LI</b>	<input type="text"/>	<input type="text"/>			





**ALUNO(A)** \_\_\_\_\_ **1º ANO**

**ATIVIDADE DE CIÊNCIAS - DIA 04/08/2021 (quarta-feira)**

**FONTE DE LUZ E CALOR**

LUZ E CALOR SÃO FORMAS DE ENERGIA TRANSFERIDA DE UM CORPO PARA OUTRO QUANDO HÁ DIFERENÇA DE TEMPERATURA ENTRE ELES.

AS FONTES DE LUZ E CALOR PODEM SER NATURAIS QUE SÃO AQUELAS QUE EXISTEM NA NATUREZA COMO EXEMPLO TEMOS AS ESTRELAS, ENTRE ELAS O SOL, QUE NÃO NESSECITA DA INTERVENÇÃO HUMANA PARA SUA OCORRÊNCIA E AS ARTIFICIAIS QUE SÃO AS QUE NECESSITA DA INTERVENÇÃO HUMANA PARA EXISTIR COMO AS LÂMPADAS, FOGUEIRAS E OUTROS.



1) LIGUE AS IMAGENS NAS FONTES DE ENERGIA NATURAL OU ARTIFICIAL CORRETAMENTE.:



**NATURAL**



**ARTIFICIAL**





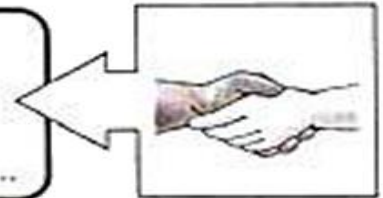
ALUNO(A) \_\_\_\_\_ 1º ANO

**ATIVIDADE DE ENSINO RELIGIOSO - DIA 05/08/2021 (quinta-feira)**

TODAS AS RELIGIÕES TRABALHAM VALORES DE AMOR AO PRÓXIMO E RESPONSABILIDADE, É UMA TAREFA DIFÍCIL, MAS ATRAVÉS DESSES ENSINAMENTOS AS CRIANÇAS COMEÇAM A COMPREENDER E PRATICAR TAIS VALORES.


1) ORDENE AS PALAVRAS, ESCREVA ABAIXO E DESCUBRA CADA VALOR A SER SEGUIDO.

M A Z I D A E



B O N D E D A

D I D E O A Ç Ã C



L E F I C D I E A D

T S U J I A Ç



R S E P I T E O

N U I O Ã





# Escola Municipal Carlos Chagas E.I.E.F

Rua: Munhoz de Melo nº78 Centro Fone (44) 3434- 1163

CEP: 87840-000 Mirador-PR

E-mail- [escola@mirador.pr.gov.br](mailto:escola@mirador.pr.gov.br) – E-mail:[escolacarloschagasmira@gmail.com](mailto:escolacarloschagasmira@gmail.com)

ALUNO(A) \_\_\_\_\_ 1º ANO

## ATIVIDADE DE LÍNGUA PORTUGUESA – 06/08/2021 (sexta-feira)

1) ORDENE AS LETRAS E ESCREVA NO RETÂNGULO:



S L I Á P



P A U L



R O L V I



A B L O

2) COMPLETE A CRUZADINHA.



1  
[ ]  
[ ]  
[ ]



2  
[ ]  
[ ]



3  
[ ] [ ] [ ] [ ] [ ] [ ] [ ]



[ ]  
[ ]



5  
[ ] [ ] [ ] [ ]



7  
[ ] [ ] [ ] [ ]

LATA  
LUA  
LARANJA  
LIMÃO  
LIXO  
LEÃO  
LOBO

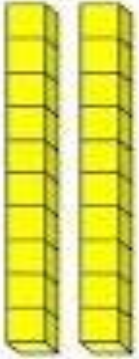


ALUNO(A): \_\_\_\_\_ 1º ANO B

ATIVIDADE DE MATEMÁTICA – 06/08/2021 (sexta-feira)

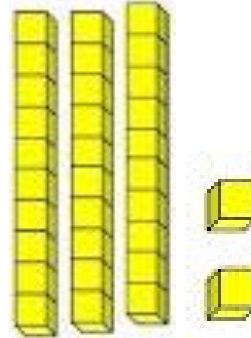
1)

OBSERVE



D	U
2	0

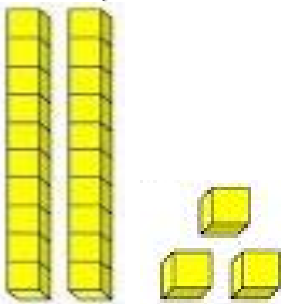
2 DEZENAS E 0 UNIDADE



D	U

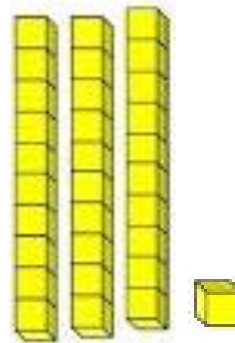
\_\_\_\_\_ DEZENAS E \_\_\_\_\_ UNIDADES.

1) QUANTOS HÁ? COMPLETE.



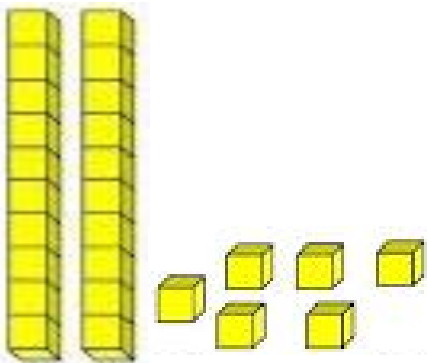
D	U

\_\_\_\_\_ DEZENAS E \_\_\_\_\_ UNIDADES.



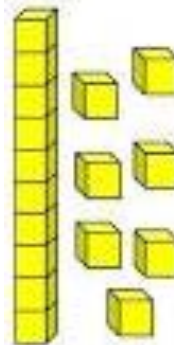
D	U

\_\_\_\_\_ DEZENAS E \_\_\_\_\_ UNIDADES.



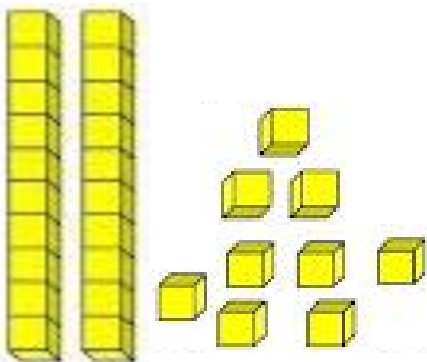
D	U

\_\_\_\_\_ DEZENAS E \_\_\_\_\_ UNIDADES.



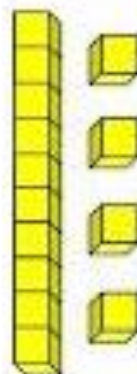
D	U

\_\_\_\_\_ DEZENAS E \_\_\_\_\_ UNIDADES.



D	U

\_\_\_\_\_ DEZENAS E \_\_\_\_\_ UNIDADES.



D	U

\_\_\_\_\_ DEZENAS E \_\_\_\_\_ UNIDADES.