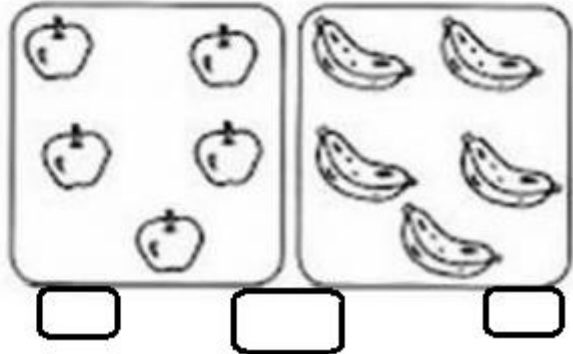
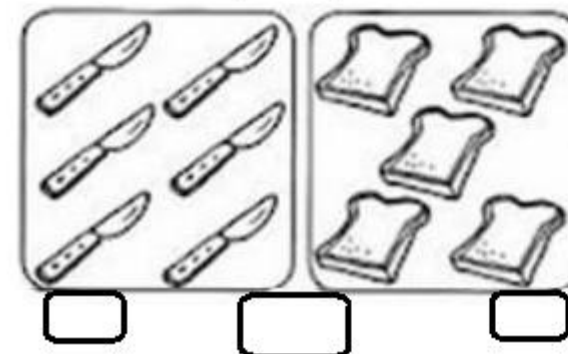

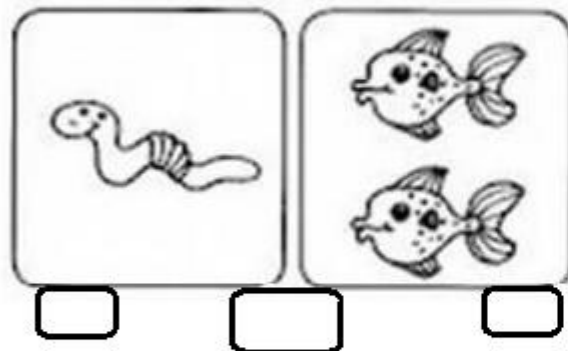

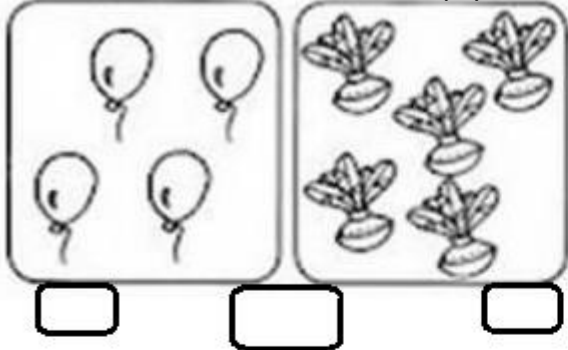





ALUNO(A) _____ 1º ANO

ATIVIDADE DE MATEMÁTICA 14/06/2021 (segunda-feira)

1) CONTE OS ELEMENTOS DE CADA CONJUNTO, ESCREVA O NUMERAL CORRESPONDENTE E DEPOIS USE O SINAL DE IGUAL (=) OU DIFERENTE (≠).



2) COLORA OS NÚMEROS AQUÁRIO NAS CORES DA LEGENDA:





Escola Municipal Carlos Chagas E.I.E.F

Rua: Munhoz de Melo nº78 Centro Fone (44) 3434- 1163

CEP: 87840-000 Mirador-PR

E-mail- escola@mirador.pr.gov.br – E-mail: escolacarloschagasmira@gmail.com

MIRADOR, 15 DE JUNHO DE 2021.

ALUNO(A): _____ 1º ANO B

PROFESSORA:

ATIVIDADE AVALIATIVA DE GEOGRAFIA

1) MARQUE (R) PARA RURAL E (U) PARA URBANO:

- | | | |
|----------------|-------------|--------------|
| () TRATOR | () CAMPOS | () MERCADOS |
| () LOJAS | () VACAS | () SÍTIOS |
| () HOSPITAIS | () TÁXI | () PORCOS |
| () PLANTAÇÕES | () FAZENDA | () PRAÇAS |

2) NO CAÇA PALAVRAS ENCONTRE AS PALAVRAS DA ZONA RURAL PINTE DE VERDE E ZONA URBANA PINTE DE AMARELO:

PORCO
HORTA
FAZENDA
POMAR
GALINHA
VACA
CINEMA
LOJAS
ÔNIBUS
PRAÇA

Q	W	E	Ô	N	I	B	U	S	T	Y	U	G
I	P	O	P	A	S	D	F	V	A	C	A	A
H	R	J	K	L	O	J	A	S	L	F	Ç	L
Z	A	V	B	N	M	Z	Q	W	E	A	R	I
P	Ç	A	C	I	N	E	M	A	S	Z	D	N
O	A	F	G	H	J	K	L	M	N	E	B	H
M	V	C	H	O	R	T	A	F	W	N	E	A
A	T	S	U	I	O	M	G	D	T	D	E	U
R	C	V	P	O	R	C	O	H	R	A	C	N

3) COM A AJUDA DE UM ADULTO, LEIA OS QUADRINHOS E DECUBRA A PROFISSÃO:

COZINHEIRA - MOTORISTA - BOMBEIRO - PEDREIRO



Com rapidez e coragem
O fogaréu eu apago
Escada, água e mangueira,
Alívio e salvamento eu trago.

Sou o _____



Arroz, feijão e saladinha
Com carinho vou preparar
Fazer uma comida gostosinha,
Para nos alimentar.

Sou o _____



Sou muito paciente
Carrego todo mundo
Quando paro no sinal
Espero abrir muito contente.

Sou o _____



Pá, cimento e pedra
Com barro vou trabalhar
Faço uma linda casinha,
Para quem quiser morar.

Sou o _____



ALUNO(A) _____ 1º ANO

ATIVIDADE DE MATEMÁTICA 15/06/2021 (terça-feira)

1) AJUDE A TURMA DA MÔNICA A RESOLVER OS PROBLEMINHAS.

DICA: PARA AJUDAR A CRIANÇA USE OBJETOS COMO TAMPINHAS DE GARRAFAS, PALITOS, ETC. ISSO IRÁ FACILITAR O CÁLCULO.

SITUAÇÃO PROBLEMA

MAGALI DESENHOU PARA SUA PROFESSORA 4 ABACAXIS E 3 MELANCIAS. QUANTAS FRUTAS ELA DESENHOU?



ROSINHA ENCONTROU UM NINHO COM 3 PASSARINHOS. CHEGARAM MAIS 6. QUANTOS PASSARINHOS TEM NO TOTAL?



NO SÍTIO DE CHICO BENTO TEM 5 GALINHAS E 3 VACAS. QUANTOS ANIMAIS ELE TEM AO TODO?



MAGALI PLANTOU PELA MANHÃ NO SEU JARDIM 6 FLORES E A TARDE MAIS 3. QUANTAS FLORES TEM NO JARDIM DELA?





ALUNO(A) _____ 1º ANO B

ATIVIDADE DE LÍNGUA PORTUGUESA 16/06/2021 (quarta-feira)

1) LEIA O TEXTO E COM A AJUDA DE SEU RESPONSÁVEL RESPONDA ÀS QUESTÕES:



a) ESTE É UM TEXTO EM QUAL FORMATO?

() BILHETE () CONVITE

b) O TEXTO QUE VOCÊ LEU FALA QUAL FESTA?

() FESTA JUNINA () FESTA DIA DAS MÃES

c) ONDE SERÁ A FESTA?

() SALÃO DE FESTA () EM UM SÍTIO

2) AS CONSOANTES SUMIRAM VAMOS COMPLETAR:



[] [A] [] [] [O] [] [A]



[] [I] [] [] [] [O]



[A] [] [E] [] [] [] [] [O] [I] [] []



[] [I] [] [] [O] [] [A]



[] [A] [] [] [ã] [O]

3) COMPLETE COM AS VOGAIS QUE SE PEDE:

CURSIVA MAIÚSCULA	IMPrensa MAIÚSCULA	IMPrensa MINÚSCULA
Ç		
É		
Í		
Ó		
Ú		

4) PRESTE ATENÇÃO EM QUANTAS VEZES VOCÊ ABRE A BOCA PARA DIZER O NOME DAS FIGURAS E REGISTRE A QUANTIDADE NO QUADRINHO:



[]



[]



[]



[]



[]



[]



Escola Municipal Carlos Chagas E.I.E.F

Rua: Munhoz de Melo nº78 Centro Fone (44) 3434- 1163

CEP: 87840-000 Mirador-PR

E-mail- escola@mirador.pr.gov.br – E-mail:escolacarloschagasmira@gmail.com





MIRADOR, 16 DE JUNHO DE 2021.

ALUNO(A): _____ 1º ANO B

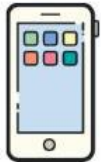

PROFESSORA:

ATIVIDADE AVALIATIVA DE CIÊNCIAS

1) NAS FIGURAS ABAIXO APENAS UM ELEMENTO NÃO É SER VIVO, PINTE-O:




2) ESCREVA NOS QUADRADOS **1** PARA SERES VIVOS **2** PARA SERES NÃO VIVOS.



3) OBSERVE A FIGURA ABAIXO E LOCALIZE AS PARTES DO CORPO HUMANO.

CABEÇA – TRONCO
MEMBRO SUPERIOR - MEMBRO INFERIOR



4) ESCREVA EM QUAL PARTE DO CORPO CADA FIGURA É USADA.

CABEÇA – TRONCO – PÉ -- MÃO





Escola Municipal Carlos Chagas E.I.E.F

Rua: Munhoz de Melo nº78 Centro Fone (44) 3434- 1163

CEP: 87840-000 Mirador-PR

E-mail: escola@mirador.pr.gov.br – E-mail: escolacarloschagasmira@gmail.com


ALUNO(A): _____

PROFESSORA: _____ 1º ANO

ATIVIDADE DE LÍNGUA PORTUGUESA 18/06/2021 (sexta-feira)

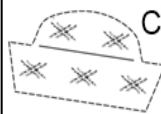
A FESTA JUNINA É COLORIDA E CHEIA DE ALEGRIA

1) ESCREVA AS PALAVRAS NOS QUADRINHOS E RESPONDA:




BALÃO

QUANTAS LETRAS TEM? _____



CHAPÉU

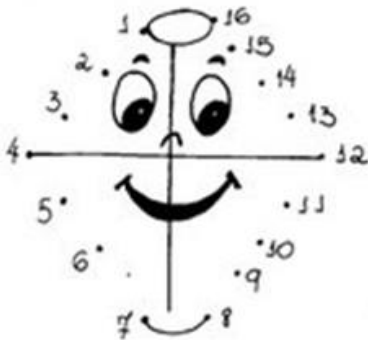
QUANTAS LETRAS TEM? _____




FOGUEIRA

QUANTAS LETRAS TEM? _____

2) LIGUE OS PONTINHOS PARA DESCOBRIR A FIGURA E DEPOIS PREENCHA O QUADRO:



B	A	L	Ã	O	LETRA INICIAL:
	A		Ã	O	LETRA FINAL:
B		L			QUANTAS LETRAS:
					QUANTAS SÍLABAS:



P	I	P	O	C	A	LETRA INICIAL:
P		P		C		LETRA FINAL:
	I		O		A	QUANTAS LETRAS:
						QUANTAS SÍLABAS:

3) MARQUE UM X NA PALAVRA QUE RIMA COM:


BALÃO



FEIJÃO

CHAPÉU


PIPOCA



SACO

PAÇOCA

MILHO



OLHO

BARRACA


FOGUEIRA



PINHÃO

PENEIRA

BANDEIRINHA



PAPEL

LINHA



Escola Municipal Carlos Chagas E.I.E.F

Rua: Munhoz de Melo nº78 Centro Fone (44) 3434- 1163

CEP: 87840-000 Mirador-PR

E-mail- escola@mirador.pr.gov.br – E-mail: escolacarloschagasmira@gmail.com

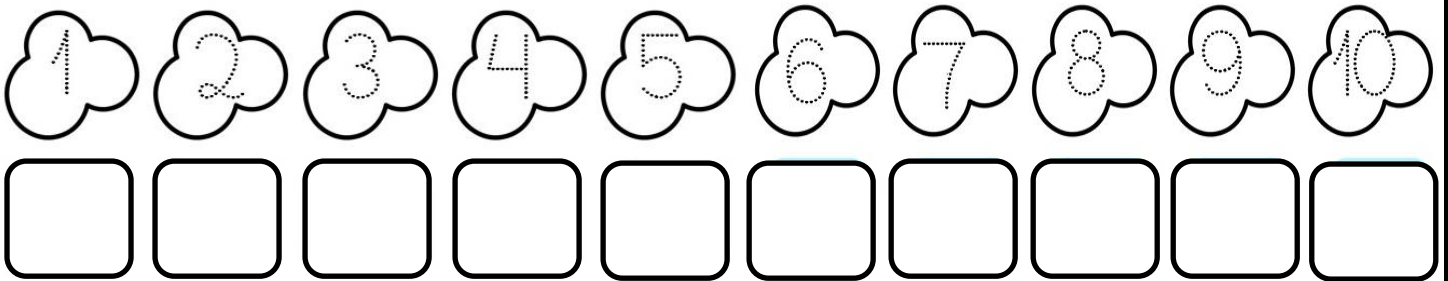
MIRADOR, 18 DE JUNHO DE 2021.

ALUNO(A): _____ 1º ANO B

PROFESSORA: CRISTIANA FERNANDES

ATIVIDADE AVALIATIVA DE MATEMÁTICA

1) CUBRA OS PONTILHADOS E ESCREVA OS NUMERAIS NOS QUADRADOS.



2) OBSERVE A POSIÇÃO DAS CRIANÇAS PARA PEGAR DOCES E CONTINUE NUMERANDO-AS SEGUINDO A ORDEM:



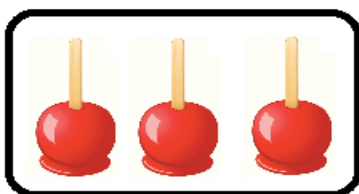
3) RESOLVA OS PROBLEMAS NA CANTINA DA FESTA JUNINA:

MÔNICA


TINHA

COMPROU


AGORA TEM



+



=




CEBOLINHA


TINHA

COMPROU


AGORA TEM



+



=



MAGALI

TINHA

COMPROU


AGORA TEM



+



=





ALUNO(A) _____ 1º ANO B

ATIVIDADES DE LÍNGUA PORTUGUESA 21/06/2021 (segunda-feira)

1) VEJA A IMAGEM DAS VINTE E SEIS LETRAS DO ALFABETO ABAIXO.


**K D W I Z A P T J
U C M O R E B S L
F N G X H Y Q V**

**QUE BAGUNÇA! COLOQUE
O ALFABETO EM ORDEM
NOS ESPAÇOS ABAIXO
DAS LETRAS.**



Fonte: DREAMSTIME.
(2020).

2) PINTE AS PALAVRAS QUE INICIAM SEGUINDO AS CORES DA BANDEIRINHA:



DADO	CASAL	BOLO	FUBÁ	GALHO	DAMAS	BALÃO	FOGÃO
GAIOLA	DOCE	FOGUETE	CORES	DIAS	BANDEIRA	FORRÓ	GOLA
CABANA	BARRACA	DINHEIRO	BALA	FICHA	CANJICA	DANÇA	BAILE



Escola Municipal Carlos Chagas E.I.E.F

Rua: Munhoz de Melo nº78 Centro Fone (44) 3434- 1163

CEP: 87840-000 Mirador-PR

E-mail- escola@mirador.pr.gov.br – E-mail:escolacarloschagasmira@gmail.com

ALUNO(A) _____ 1º ANO

ATIVIDADE MATEMÁTICA 21/06/2021 (segunda-feira)



1) OLHE O CONVITE DA FESTA JUNINA E RESPONDA:

a) QUAL DIA DA SEMANA FOI A FESTA?

() DOMINGO () QUINTA-FEIRA

b) QUANTOS DIAS TEM O MÊS DE JUNHO?

() 30 DIAS () 31 DIAS


c) A FESTA JUNINA SERÁ EM QUAL PERÍODO?

() NOITE () DIA

d) COLORA DE AZUL NO CALENDÁRIO QUAL DIA FOI MARCADA A FESTA.

e) COLORA DE AMARELO NO CALENDÁRIO QUAL DIA FOI DEPOIS DA FESTA.

2) CONTE AS PIPOCAS E REGISTRE A QUANTIDADE.



3) CIRCULE EM CONJUNTOS DE 3 UNIDADES SEGUINDO O EXEMPLO:





ALUNO(A) _____ 1º ANO

ATIVIDADE DE GEOGRAFIA - DIA 22/06/2021 (terça-feira)

ZONA RURAL OU URBANA

1) COLOQUE (V) PARA VERDADEIRO E (F) PARA FALSO.

- () A ZONA URBANA É FORMADA PELO CENTRO DA CIDADE E BAIRROS.
- () NA ZONA RURAL UMA CASA FICA DISTANTE DA OUTRA.
- () NA ZONA RURAL TEM GRANDES LOJAS.
- () EU ESTUDO NA ZONA RURAL.
- () AS FRUTAS, VERDURAS E LEGUMES VEM DA ZONA RURAL.
- () NA ZONA RURAL O AR É POLUÍDO.
- () NA ZONA URBANA TEM MUITA MOVIMENTAÇÃO E TRÂNSITO.

2) OBSERVE AS PROFISSÕES ABAIXO E NUMERE CONFORME OS OBJETOS QUE TEM A VER COM SEU TRABALHO:

1



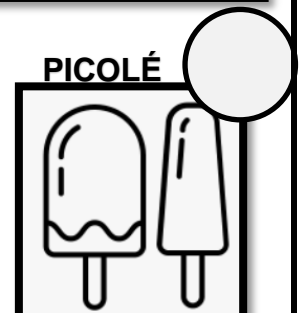

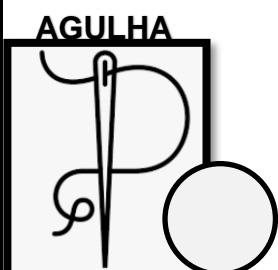


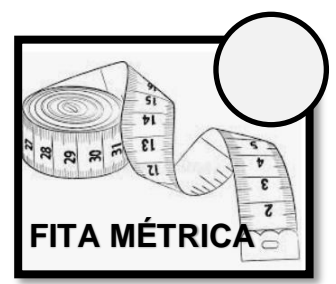

2



3



4





Escola Municipal Carlos Chagas E.I.E.F

Rua: Munhoz de Melo nº78 Centro Fone (44) 3434- 1163

CEP: 87840-000 Mirador-PR

E-mail- escola@mirador.pr.gov.br – E-mail:escolacarloschagasmira@gmail.com

ALUNO(A): _____ 1º ANO

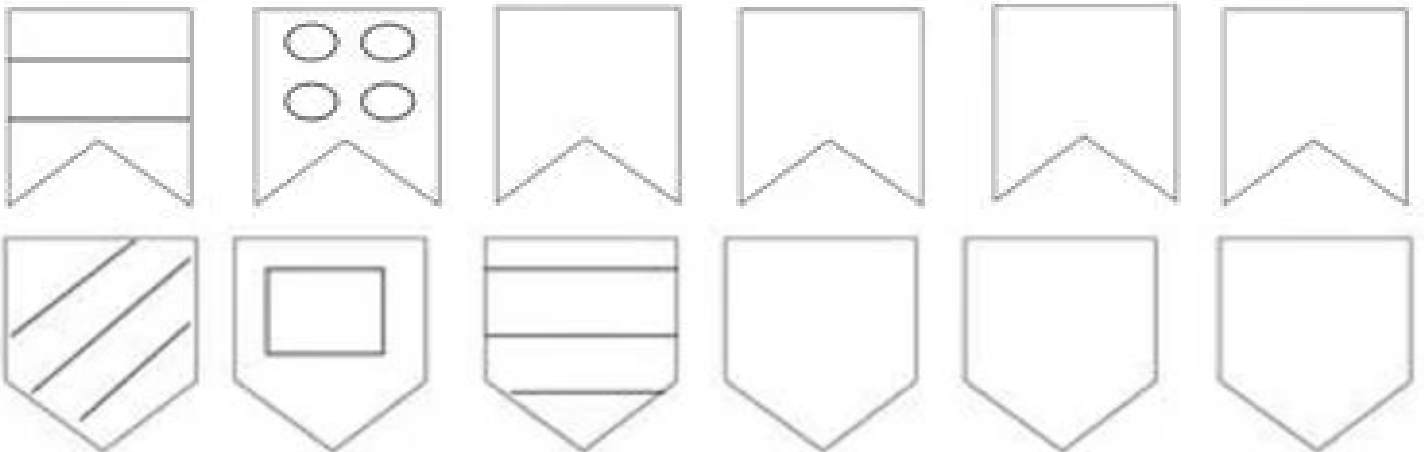
ATIVIDADE DE MATEMÁTICA – 22/06/2021 (terça-feira)

QUANTOS DOCES GOSTOSOS! SÃO PARA A FESTA JUNINA!

1) VAMOS CONTAR QUANTOS DOCES TÊM EM CADA BANDEJA E REGISTRAR!




2) COMPLETE AS BANDEIRINHAS SEGUINDO A SEQUÊNCIA:



3) LIGUE A ORDEM ESCRITA POR EXTENSO A TURMA DA MÔNICA QUE VAI A FESTA JUNINA

TERCEIRO	QUARTO	PRIMEIRO	SEGUNDO	SETIMO	QUINTO	SEXTO
----------	--------	----------	---------	--------	--------	-------





Escola Municipal Carlos Chagas E.I.E.F

Rua: Munhoz de Melo nº78 Centro Fone (44) 3434- 1163

CEP: 87840-000 Mirador-PR

E-mail- escola@mirador.pr.gov.br – E-mail: escolacarloschagasmira@gmail.com

ALUNO(A) _____ 1º ANO

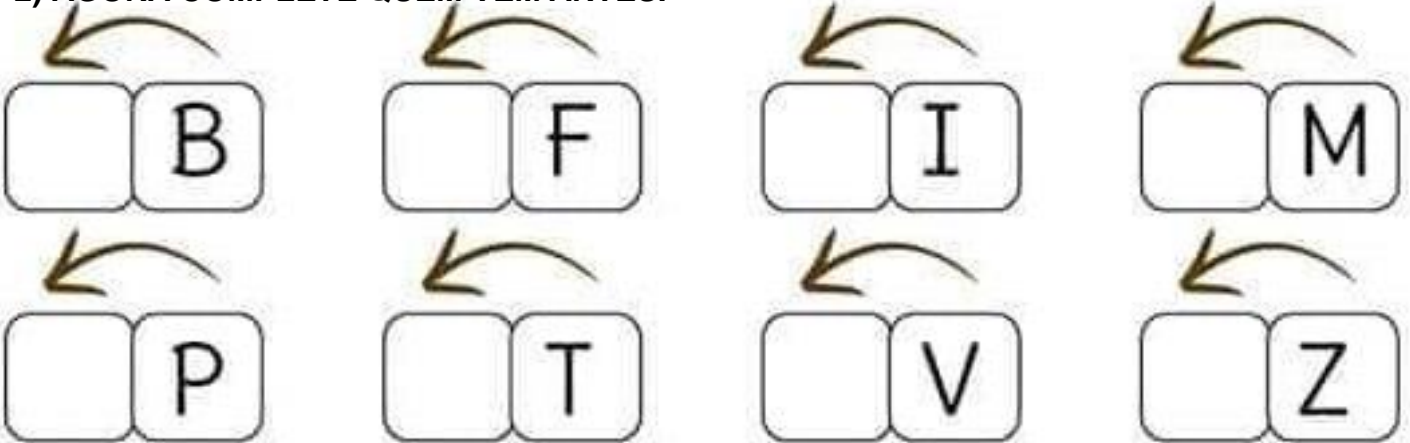
ATIVIDADE DE LÍNGUA PORTUGUESA 23/06/2021 (quarta-feira)

1) LEIA O ALFABETO.

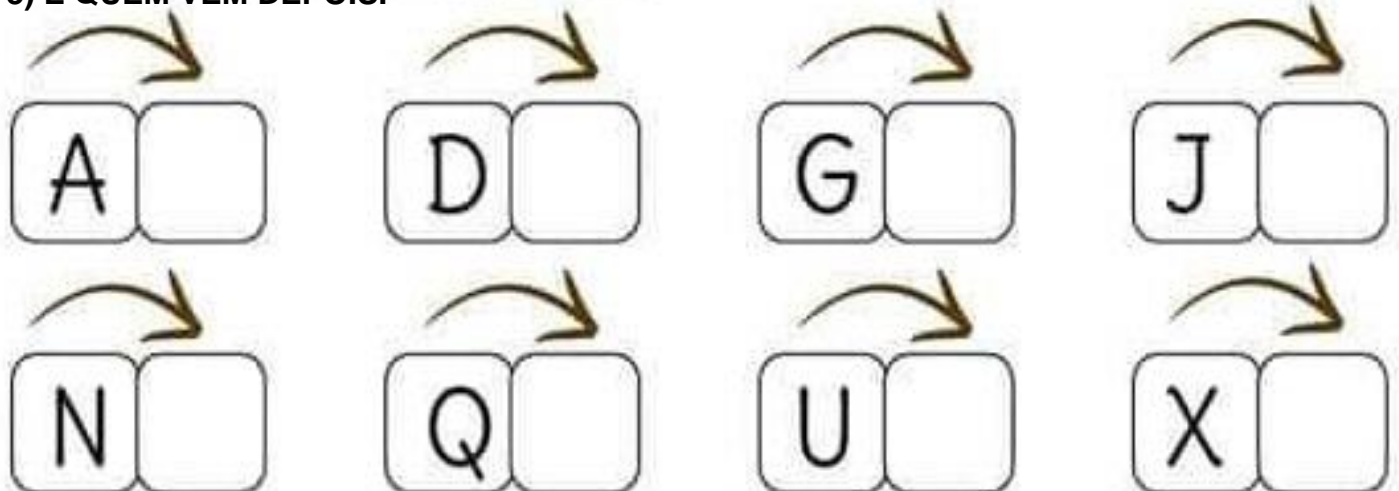


A	B	C	D	E	F	G	H	I	J
K	L	M	N	O	P	Q	R	S	T
U	V	W	X	Y	Z				


2) AGORA COMPLETE QUEM VEM ANTES.



3) E QUEM VEM DEPOIS.



4) ESCREVA AS VOGAIS NOS SAQUINHOS DAS PIPOCAS.





Escola Municipal Carlos Chagas E.I.E.F

Rua: Munhoz de Melo nº78 Centro Fone (44) 3434- 1163

CEP: 87840-000 Mirador-PR

E-mail- escola@mirador.pr.gov.br – E-mail:escolacarloschagasmira@gmail.com

ALUNO(A) _____ 1º ANO

ATIVIDADE DE CIÊNCIAS - DIA 23/06/2021 (quarta-feira)

O CORPO HUMANO É FORMADO POR CABEÇA, TRONCO E MEMBROS SUPERIORES (BRAÇOS E MÃOS) E INFERIORES (PERNAS E PÉS). CADA UM DE NÓS POSSUI CARACTERÍSTICAS FÍSICAS QUE PODEM SER PARECIDAS OU DIFERENTES DOS OUTROS.

MARQUE COM UM (X) SUAS CARACTERÍSTICAS FÍSICAS:

<p>♦ MEUS OLHOS SÃO:</p>  <p><input type="checkbox"/> AZUIS <input type="checkbox"/> PRETOS <input type="checkbox"/> CASTANHOS <input type="checkbox"/> VERDES <input type="checkbox"/> CASTANHOS CLARO</p>	<p>♦ MEU CABELO É:</p>  <p><input type="checkbox"/> PRETO <input type="checkbox"/> RUIVO <input type="checkbox"/> LOIRO <input type="checkbox"/> CASTANHO <input type="checkbox"/> CACHEADO <input type="checkbox"/> LISO <input type="checkbox"/> ONDULADO <input type="checkbox"/> CRESPO</p>
<p>♦ MINHA PELE É:</p>  <p><input type="checkbox"/> BRANCA <input type="checkbox"/> NEGRA <input type="checkbox"/> AMARELA <input type="checkbox"/> PARDA</p>	<p>♦ EU SOU:</p>  <p><input type="checkbox"/> ALTO (A) <input type="checkbox"/> BAIXO (A)</p>

LEIA O NOME DE CADA PARTE DO CORPO HUMANO COM A AJUDA DE SEU RESPONSÁVEL, COLE EM SEU DEVIDO LUGAR.

