



Escola Municipal Carlos Chagas E.I.E.F
Rua: Munhoz de Melo nº78 Centro Fone (44) 3434- 1163
CEP: 87840-000 Mirador-PR
E-mail- escola@mirador.pr.gov.br – E-mail:escolacarloschagasmira@gmail.com

PROFESSORA: SHAYENNE 1º ANO-A 9º QUNZENA 31/05 Á 11/06


ALUNO(A):

COMPONETE CURRICULAR: LINGUA PORTUGUESA (31/05/2021) SEGUNDA-FEIRA

OBSERVAÇÃO: PAIS E RESPONSAVEIS NESTA ATIVIDADE A CRIANÇA NECESSITARÁ DE AJUDÁ PARA CANTAR A CANÇÃO ABAIXO:

CONHEÇO UM JACARÉ

EU CONHEÇO UM JACARÉ
QUE GOSTA DE COMER.
ESCONDA SUA CABEÇA *
SENÃO O JACARÉ
COME SUA CABEÇA *
E O DEDÃO DO PÉ.



2- FAÇA UM DESENHO SOBRE A CANÇÃO QUE VOCÊ OUVIU E CONTOU:

3- CIRULE E PINTE A PALAVRA JACARÉ NA CANÇÃO ACIMA E COPIE NO QUADRO ABAIXO:



Escola Municipal Carlos Chagas E.I.E.F
Rua: Munhoz de Melo nº78 Centro Fone (44) 3434- 1163
CEP: 87840-000 Mirador-PR
E-mail- escola@mirador.pr.gov.br – E-mail:escolacarloschagasmira@gmail.com

PROFESSORA: SHAYENNE 1º ANO-A 9º QUNZENA 31/05 Á 11/06

ALUNO(A):

4- PINTE OS NOMES QUE COMEÇAM COM O MESMO SOM DE **JACARÉ**:



CANECA

JANELA

MACACO

PIPOCA

JACA

JALECO

5 UNA A LETRA **J** COM CADA VOGAL E FORME SILABAS COMO MO EXEMPLO:

J + A = JA

J	A	→	
	E	→	
	I	→	
	O	→	
	U	→	

ATIVIDADES DE MATEMÁTICA – 1º ANO

CONTANDO E CALCULANDO

1- CONTE OS JACARÉS DO ZOOLÓGICO:



QUANTOS SÃO?



Escola Municipal Carlos Chagas E.I.E.F
Rua: Munhoz de Melo nº78 Centro Fone (44) 3434- 1163
CEP: 87840-000 Mirador-PR
E-mail- escola@mirador.pr.gov.br – E-mail:escolacarloschagasmira@gmail.com

PROFESSORA: SHAYENNE 1º ANO-A 9º QUNZENA 31/05 Á 11/06

ALUNO(A):

COMPONENETE CURRICULAR: MATEMATICA E GEOGRAFIA (01/06/2021) TERÇA-FEIRA

OBSERVAÇÃO: PAIS E RESPONSÁVEIS NESTA ATIVIDADE A CRIANÇA NECESSITARÁ DE AJUDA PARA A LEITURA DOS ENUNCIADOS

2- IMAGINE QUE HAVIA 4 JACARÉS E CHEGARAM AO ZOOLOGICO MAIS 6 JACARÉS. QUANTOS JACARÉS FICARÃO JUNTOS?

3- FAÇA DESENHOS PARA DEMONSTRAR COMO VOCÊ RESOLVEU ESTE DESAFIO:

ATIVIDADES DE GEOGRAFIA AMBIENTE RURAL (CAMPO) E SUA IMPORTÂNCIA.

NA ATIVIDADE PASSADA FALAMOS SOBRE AMBIENTE URBANO E RURAL. NESTA ATIVIDADE FALAREMOS SOBRE A IMPORTÂNCIA DO AMBIENTE RURAL.

AMBIENTE RURAL (CAMPO): TAMBÉM CONHECIDO COMO ZONA RURAL É IMPORTANTE PARA NOSSA VIDA. PORTANTO É NESTE AMBIENTE QUE SE PRODUZ OS ALIMENTOS QUE CONSUMIMOS PARA VIVIER.

1- DOS ALIMENTOS ABAIXO, CIRCULE SOMENTE OS ALIMENTOS QUE CONSUMIMOS QUE VEM DA ZONA RURAL.





Escola Municipal Carlos Chagas E.I.E.F
Rua: Munhoz de Melo nº78 Centro Fone (44) 3434- 1163
CEP: 87840-000 Mirador-PR
E-mail- escola@mirador.pr.gov.br – E-mail:escolacarloschagasmira@gmail.com

PROFESSORA: SHAYENNE 1º ANO-A 9º QUNZENA 31/05 Á 11/06

ALUNO(A):

COMPONENTE CURRICULAR: LÍNGUA PORTUGUESA E CIÊNCIAS (02/06/2021) QUARTA-FEIRA

OBSERVAÇÃO: PAIS E RESPONSÁVEIS NESTA ATIVIDADE A CRIANÇA NECESSITARÁ DE AJUDA PARA A LEITURA DOS ENUNCIADOS.

1- PINTE OS NOMES QUE COMEÇAM COM O MESMO SOM DE **JACARÉ**:



CANECA

JANELA

MACACO

PIPOCA

JACA

JALECO

2- **PINTE** AS SÍLABAS CONFORME **A LEGENDA** E FORME PALAVRAS:

JA	JE	JI	JO	JU
CA	BU	PE	LI	BA
RÉ	VA	TI	LÓ	TA
GO	JUM	VEM	ÃO	SUS

LEGENDA

JÁ + CA + RÉ = **AMARELO**

JE + JUM = **AZUL**

JI + PE = **VERDE**

JO + ÆO = **LARANJA**

ATIVIDADES DE CIÊNCIAS

1- PINTE DE **VERDE** O QUE ENCONTRAMOS NO **AMBIENTE NATURAL** E DE **VERMELHO** O QUE ENCONTRAMOS NA **PAISAGEM MODIFICADA**:

RIOS

SUPERMEERCADOS

ESTRADAS

MONTANHAS

PRÉDIOS

CACHOEIRAS

2 - PINTE AGORA SOMENTE O **AMBIENTE MODIFICADO** PELO HOMEM:





Escola Municipal Carlos Chagas E.I.E.F
Rua: Munhoz de Melo nº78 Centro Fone (44) 3434- 1163
CEP: 87840-000 Mirador-PR
E-mail- escola@mirador.pr.gov.br – E-mail:escolacarloschagasmira@gmail.com

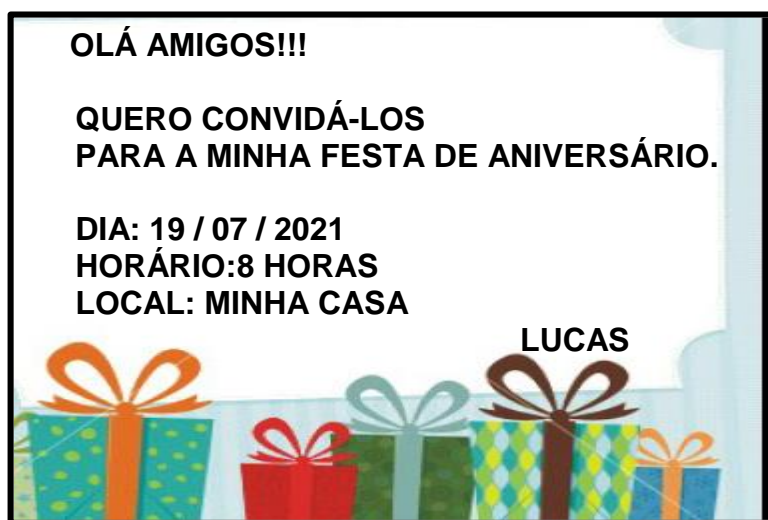
PROFESSORA: SHAYENNE 1º ANO-A 9º QUNZENA 31/05 Á 11/06

ALUNO(A):

**COMPONENTE CURRICULAR DE LÍNGUA PORTUGUESA E MATEMÁTICA(04/06/2021)
SEXTA -FEIRA**

**SENHORES PAIS OU RESPONSÁVEIS, A CRIANÇA PRECISARÁ DE SEU AUXÍLIO
PARA REALIZAR A LEITURA DOS ENUNCIADOS DAS ATIVIDADES.**

ESSE É O **CONVITE DE ANIVERSÁRIO** DO LUCAS. LEIA JUNTO COM UM ADULTO:



CONVERSANDO SOBRE O TEXTO.

**VOCÊ JÁ RECEBEU ALGUM CONVITE? QUAIS AS INFORMAÇÕES VOCÊ ACHA QUE NÃO
PODEM FALTAR EM UM CONVITE?**

UM CONVITE TEM QUE TER:

TIPO DA FESTA (ANIVERSÁRIO, CASAMENTO E OUTRAS FESTAS).

DATA (DIA, MÊS E ANO).

HORÁRIO (HORA QUE ACONTECERÁ A FESTA).

LOCAL (LUGAR ONDE SERÁ A FESTA).

NOME DE QUEM ESTÁ CONVIDANDO.

ATIVIDADES:

- 1- PROCURE NO CONVITE UMA PALAVRA QUE COMEÇA COM A LETRA **A** E CIRCULE
- 2- ONDE VAI SER A FESTA DO LUCAS?



() CASA



() ESCOLA



() PRAÇA



Escola Municipal Carlos Chagas E.I.E.F
Rua: Munhoz de Melo nº78 Centro Fone (44) 3434- 1163
CEP: 87840-000 Mirador-PR
E-mail- escola@mirador.pr.gov.br – E-mail:escolacarloschagasmira@gmail.com

PROFESSORA: SHAYENNE 1º ANO-A 9º QUNZENA 31/05 Á 11/06

ALUNO(A):

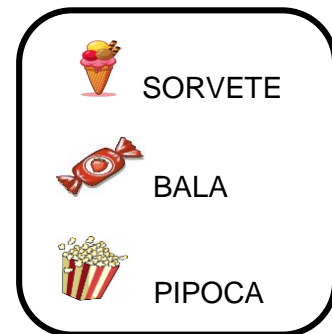
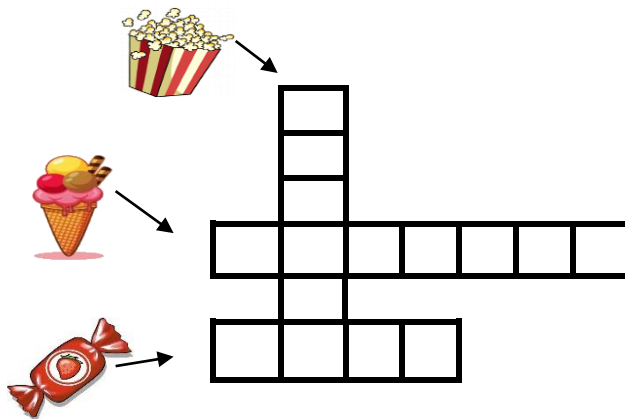
3- MARQUE X NA **DATA** QUE OCORRERAR A FESTA DE ANIVERSÁRIO DE LUCAS.

() 19/07/2021

() 25/03/2011

() 01/01/2001

4- VAMOS TENTAR DESCOBRIR O NOME DAS COISAS GOSTOSAS DA FESTA DO LUCAS?
UTILIZE O BANCO DE PALAVRAS PARA COMPLETAR A CRUZADINHA.





Escola Municipal Carlos Chagas E.I.E.F
Rua: Munhoz de Melo nº78 Centro Fone (44) 3434- 1163
CEP: 87840-000 Mirador-PR
E-mail- escola@mirador.pr.gov.br – E-mail:escolacarloschagasmira@gmail.com

PROFESSORA: SHAYENNE 1º ANO-A 9º QUNZENA 31/05 Á 11/06

ALUNO(A):

COMPONENETE CURRICULAR DE ENSINO RELIGIOSO.

(03/06/2021) QUINTA-FEIRA

ATIVIDADE DE ENSINO RELIGIOSOS

1- QUEM SÃO AS PERSONALIDADES DESTAS ORGANIZAÇÕES RELIGIOSAS, ENUMERE A SEGUNDA COLUNA DE ACORDO COM A PRIMEIRA.

(1) BUDA

() INDÍGENA

(2) PAJÉ E CACIQUE

() UMBANDA E
CANDOMBLÉ

(3) OXUM

() CRISTIANISMO

(4) PAPA

() BUDISMO



Escola Municipal Carlos Chagas E.I.E.F
 Rua: Munhoz de Melo nº78 Centro Fone (44) 3434- 1163
 CEP: 87840-000 Mirador-PR
 E-mail- escola@mirador.pr.gov.br – E-mail:escolacarloschagasmira@gmail.com

PROFESSORA: SHAYENNE 1º ANO-A 9º QUNZENA 31/05 Á 11/06

ALUNO(A):

COMPONETE CURRICULAR: LINGUA PORTUGUESA (07/06/2021) SEGUNDA-FEIRA

TRABALHANDO A LETRA L.

1- ESCREVA A LETRA L ABAIXO.

L - L _____

2- COM AJUDA DE UM ADULTO FAÇA A LEITURA!

O L ESTÁ NA LATA NO LEITE E NA LIXA,
 TEM NA LOJA E NA LUVA.

3- PINTE NA COR LARANJADO OS ESPAÇOS DAS FRASES ACIMA.

4- CILCULE AS PALAVRAS INICIADAS COM A LETRA L.

5- COPIE AS PALAVRAS DE ACORDO COM A SUA FAMILIA SÍLABICA.

LA	
LE	
LI	
LO	
LU	





Escola Municipal Carlos Chagas E.I.E.F
Rua: Munhoz de Melo nº78 Centro Fone (44) 3434- 1163
CEP: 87840-000 Mirador-PR
E-mail- escola@mirador.pr.gov.br – E-mail:escolacarloschagasmira@gmail.com

PROFESSORA: SHAYENNE 1º ANO-A 9º QUNZENA 31/05 Á 11/06

ALUNO(A):

OBSERVE A SEQUENCIA

0	1	2	3	4	5	6	7	8	9
10	11	12	13	14	15	16	17	18	19
20	21	22	23	24	25	26	27	28	29

AGORA, COMPLETE O QUADRO COM OS NÚMEROS QUE FALTAM.

0	1		3		5		7		9
10		12		14		16		18	
20	1	22	3	24	2	2	27		29

2-OBSEVE A FIGURA E ESCREVA A QUANTIDADE DENTRO DOS QUADROS:

Below the main illustration, there are seven small icons, each with a blank box next to it for counting:

- Banner:
- Star:
- Table:
- Cake:
- Campfire:
- Boy:
- Girl:



Escola Municipal Carlos Chagas E.I.E.F
Rua: Munhoz de Melo nº78 Centro Fone (44) 3434- 1163
CEP: 87840-000 Mirador-PR
E-mail- escola@mirador.pr.gov.br – E-mail:escolacarloschagasmira@gmail.com


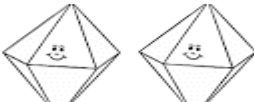
PROFESSORA: SHAYENNE 1º ANO-A 9º QUNZENA 31/05 Á 11/06

ALUNO(A):

COMPONETE CURRICULAR: MATEMATICA GEOGRAFIA (08/06/2021) TERÇA-FEIRA

1- AGORA VAMOS CALCULAR SOMANDO AS ADIÇÕES ABAIXO:



 +  =

 +  =

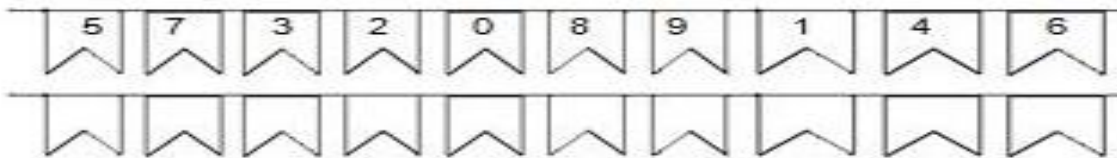
 +  =

 +  =

 +  =

 +  =

2- ARRUME VOCÊ TAMBÉM OS NÚMEROS ABAIXO COMEÇANDO DO MENOR PARA O MAIOR (ORDEM CRESCENTE).



3- OBSERVE AS BARRAQUINHAS E ESCREVA OS NÚMEROS QUE VEM ANTES OU DEPOIS:





Escola Municipal Carlos Chagas E.I.E.F
Rua: Munhoz de Melo nº78 Centro Fone (44) 3434- 1163
CEP: 87840-000 Mirador-PR
E-mail- escola@mirador.pr.gov.br – E-mail:escolacarloschagasmira@gmail.com

PROFESSORA: SHAYENNE 1º ANO-A 9º QUNZENA 31/05 À 11/06

ALUNO(A):

AMBIENTE URBANO (CIDADE).

OBSERVE A IMAGEM ABAIXO:



VOCÊ RECONHECE ESTE LUGAR?

() SIM () NÃO

ESTA É UMA FOTO DA NOSSA CIDADE QUE SE CHAMA **MIRADOR.**

SABEMOS QUE O **AMBIENTE URBANA SÃO AS CIDADES.** AS **CIDADES** SÃO AGRUPAMENTO DE PESSOAS. ESTE ESPAÇO E FORMADO POR RUAS, CASAS, PRAÇAS, ESCOLAS, LOJAS DO COMÉRCIO, IGREJAS E FÁBRICAS. VEJA EXEMPLO ABAIXO:



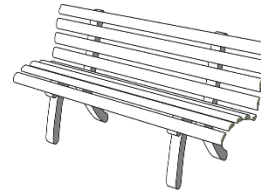


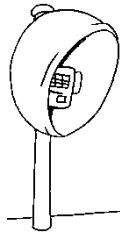


Escola Municipal Carlos Chagas E.I.E.F
Rua: Munhoz de Melo nº78 Centro Fone (44) 3434- 1163
CEP: 87840-000 Mirador-PR
E-mail- escola@mirador.pr.gov.br – E-mail:escolacarloschagasmira@gmail.com

PROFESSORA: SHAYENNE 1º ANO-A 9º QUNZENA 31/05 À 11/06

ALUNO(A):

1- PINTE OS ELEMENTOS QUE ENCONTRAMOS NUM **AMBIENTE URBANO**:



2- CIRCULE OS ELEMENTOS QUE NÃO FAZEM PARTE **AMBIENTE URBANO**:





Escola Municipal Carlos Chagas E.I.E.F
Rua: Munhoz de Melo nº78 Centro Fone (44) 3434- 1163
CEP: 87840-000 Mirador-PR
E-mail- escola@mirador.pr.gov.br – E-mail:escolacarloschagasmira@gmail.com

PROFESSORA: SHAYENNE 1º ANO-A 9º QUNZENA 31/05 Á 11/06

ALUNO(A):

COMPONETE CURRICULAR: LÍNGUA PORTUGUESA E CIÊNCIAS (09/06/2021) QUARTA-FEIRA.

LEIA O TEXTO E CIRCULE A PALAVRA QUE COMEÇA COM A LETRA L.

A LUA

A LUA PINTA A RUA DE PRATA
E NA MATA A LUA PARECE
UM BISCOITO DE NATA.


QUEM SERÁ QUE ESQUECEU
A LUA ACESA NO CÉU?



ROSEANA MURRAY

1. O NOME DO DESENHO É:

- () RUA
- () CÉU
- () LUA



2. A PALAVRA **LUA** COMEÇA COM:

BU VU LU DU

3. A LUA PARECE UM:

BIS

BISCOITO

OITO

PRATA



Escola Municipal Carlos Chagas E.I.E.F
Rua: Munhoz de Melo nº78 Centro Fone (44) 3434- 1163
CEP: 87840-000 Mirador-PR
E-mail- escola@mirador.pr.gov.br – E-mail:escolacarloschagasmira@gmail.com

PROFESSORA: SHAYENNE 1º ANO-A 9º QUNZENA 31/05 À 11/06

ALUNO(A):

SERES VIVOS E AMBIENTES NATURAIS- ANIMAIS SELVAGENS.

COMO VIMOS NA ATIVIDADE ANTERIOR EXISTEM **AMBIENTES NATURAIS** E **AMBIENTES MODIFICADOS** PELO HOMEM.


AGORA VAMOS CONHECER OS SERES VIVOS QUE VIVEM NOS **AMBIENTES NATURAIS.**

ALÉM DAS PLANTAS NO AMBIENTE NATURAL EXISTE OS ANIMAIS QUE SÃO CONHECIDOS COMO **ANIMAIS SELVAGENS** OU **ANIMAIS SILVESTRE:**

OS ANIMAIS SELVAGENS VIVEM **LIVRES E SOLTOS NA NATUREZA**, EM SEU HABITAT NATURAL ONDE ENCONTRAM FORMAS DE SE ALIMENTAR E SOBREVIVER SOZINHOS. COMO EU O **LEÃO.**



1- PINTE NA IMAGEM ABAIXO SOMENTE OS **ANIMAIS SELVAGENS:**





Escola Municipal Carlos Chagas E.I.E.F
Rua: Munhoz de Melo nº78 Centro Fone (44) 3434- 1163
CEP: 87840-000 Mirador-PR
E-mail- escola@mirador.pr.gov.br – E-mail:escolacarloschagasmira@gmail.com

PROFESSORA: SHAYENNE 1º ANO-A 9º QUNZENA 31/05 Á 11/06

ALUNO(A):

COMPONETE CURRICULAR: ENSINO RELIGIOSO (10/06/2021) QUINTA-FEIRA.

A INDUMENTARIA RELIGIOSA É A VESTIMENTA QUE DISTINGUE O RELIGIOSO EM SUA ATIVIDADE PRÁTICA EM NOME DA RELIGIÃO. SENDO ASSIM SEMPRE QUE FOMOS REALIZAR ALGO EM NOME DA NOSSA RELIGIÃO DEVEMOS FAZÊ-LO DEVIDAMENTE APARAMENTADO COM A VESTIMENTA QUE NOS IDENTIFICA COMO PRATICANTE DE DETERMINADA RELIGIÃO.

1- OBSERVE AS INDUMENTÁRIAS (VESTIMENTAS, ROUPAS) RELIGIOSAS E LIGUE CADA p






Escola Municipal Carlos Chagas E.I.E.F
Rua: Munhoz de Melo nº78 Centro Fone (44) 3434- 1163
CEP: 87840-000 Mirador-PR
E-mail- escola@mirador.pr.gov.br – E-mail:escolacarloschagasmira@gmail.com

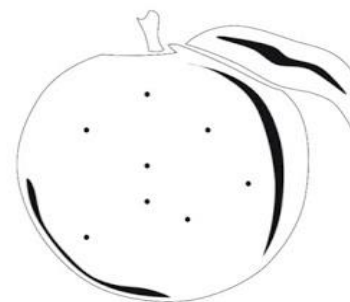
PROFESSORA: SHAYENNE 1º ANO-A 9º QUNZENA 31/05 Á 11/06

ALUNO(A):

COMPONETE CURRICULAR: LÍNGUA PORTUGUESA E MATEMATICA (11/06/2021) SEXTA-FEIRA.



TEM NA LATA TEM NO LAGO
NA LARANJA E NO LIMÃO
TEM NOS LÁBIOS DA LUCINHA
NO LAGARTO E NO LEITÃO



ATIVIDADE

CIRCULE NO TEXTO TODAS AS LETRAS L:
VAMOS CONTAR?

NOME	NÚMERO DE LETRAS	PRIMEIRA LETRA	ÚLTIMA LETRA
LATA			
LEITÃO			
LÁBIOS			
LAGARTA			
LARANJA			



PROFESSORA: SHAYENNE 1º ANO-A 9º QUNZENA 31/05 Á 11/06

ALUNO(A):

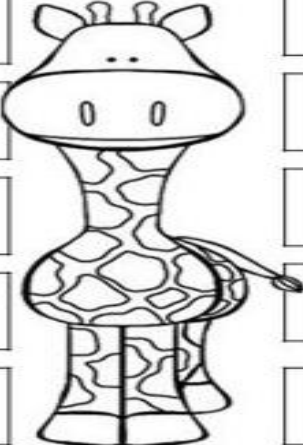
COMPLETE COM AS LETRINHAS DO ALFABETO QUE ESTÃO FALTANDO.

A D H M
N Q T X Z






AGORA ESCREVA AS VIZINHAS:

<input type="text"/>	J	<input type="text"/>	<input type="text"/>	<input type="text"/>	S	<input type="text"/>
<input type="text"/>	N	<input type="text"/>	<input type="text"/>	<input type="text"/>	H	<input type="text"/>
<input type="text"/>	E	<input type="text"/>	<input type="text"/>	<input type="text"/>	X	<input type="text"/>
<input type="text"/>	A	<input type="text"/>	<input type="text"/>	<input type="text"/>	D	<input type="text"/>
<input type="text"/>	Q	<input type="text"/>	<input type="text"/>	<input type="text"/>	V	<input type="text"/>



PINTE A LETRA INICIAL DO NOME DAS FIGURAS:

 J L M	 R E X	 U T A
 B D V	 T I C	 W C Q
 H K D	 C M N	 S Ç A
 B L O	 V C M	 R P O
 F S U	 F B L	 X N V