



Escola Municipal Carlos Chagas E.I.E.F

Rua: Munhoz de Melo nº78 Centro Fone (44) 3434- 1163

CEP: 87840-000 Mirador-PR

E-mail- escola@mirador.pr.gov.br – E-mail:escolacarloschagasmira@gmail.com


DIA 03 DE MAIO DE 2021 SEGUNDA- FEIRA
AVALIAÇÃO DE LINGUA PORTUGUESA VALOR 5,0

PROFESSORA: JUDYTH SHAYENNE 1º ANO-A

ALUNO(A) _____

1-FORME AS SILABAS COM A LETRA C	2- FORME AS SILABAS COM A LETRA D
C+A=	D+A=
C+E=	D+E=
C+I=	D+I=
C+O=	D+O=
C+U=	D+U=

3 – COMPLETE AS PALAVRAS COM O SOM INICIAL



MA



NOURA



RCO



PO



BO

4- LIGUE AS FIGURAS DE ACORDO COM AS SÍLABAS INICIAL:



DA



DE



DI



DO



DU



VAMOS PINTAR?

OBSERVE AS FIGURAS ABAIXO E PINTE APENAS AQUELAS QUE SE INICIAM COM A LETRA D.



DENTE



DAMA



BOLA



DEDO

2

DOIS



FADA



DADO



CASA



Escola Municipal Carlos Chagas E.I.E.F

Rua: Munhoz de Melo nº78 Centro Fone (44) 3434- 1163

CEP: 87840-000 Mirador-PR

E-mail- escola@mirador.pr.gov.br – E-mail:escolacarloschagasmira@gmail.com

DIA _____ DE _____ DE 2021. (03/05/2021)

ALUNO(A) _____


PROFESSORA: JUDYTH SHAYENNE 1º ANO- A

COMPONENTE CURRICULAR: MATEMÁTICA




MAIS LEVE E MAIS PESADO

1) FAÇA UMA + NO ANIMAL MAIS PESADO E CIRCULE O ANIMAL MAIS LEVE.




2) PINTE QUEM ESTÁ SEGURANDO O OBJETO MAIS LEVE.




ESPESSURA: LARGO E ESTREITO

1) FAÇA UMA + NA GRAVATA MAIS ESTREITA.



2) DESENHE BOLINHAS NO LAÇO MAIS LARGO.



3) PINTE A CAMISETA MAIS LARGA.
RISQUE A CAMISETA MAIS ESTREITA.





Escola Municipal Carlos Chagas E.I.E.F

Rua: Munhoz de Melo nº78 Centro Fone (44) 3434- 1163

CEP: 87840-000 Mirador-PR

E-mail- escola@mirador.pr.gov.br – E-mail:escolacarloschagasmira@gmail.com

DIA 04 DE MAIO DE 2021 TERÇA- FEIRA AVALIAÇÃO DE GEOGRAFIA VALOR 5,0

PROFESSORA: JUDYTH SHAYENNE 1º ANO-A
ALUNO(A) _____

GEOGRAFIA

AMIGOS DO PLANETA TERRA

SOMOS TODOS RESPONSÁVEIS PELA
CONSERVAÇÃO DO MEIO AMBIENTE.

CADA UM DEVE SER UM CIDADÃO
CONSCIENTE.

CUIDAR DAS PLANTAS, DA PRAÇA,
DA RUA E TAMBÉM DO PARQUE E DO JARDIM.

SER AMIGO DO PLANETA É BOM PARA
VOCÊ E PARA TAMBÉM MIM.

Djenane Alves



ATIVIDADE 1: EU ESCREVO COM: A) MÃO ESQUERDA B) MÃO DIREITA

* GIOVANNA CRIOU UM LINDO JARDIM PARA CUIDAR DO PLANETA TERRA. VAMOS OB-
SERVAR ALGUNS DETALHES NELE.

1: QUAL É O OBJETO QUE ESTÁ A FRENTE DA GIOVANNA:

A) NUVEM B) FONTE C) ÁRVORE


2: QUAIS SÃO OS ANIMAIS QUE ESTÃO ATRÁS DELA::

A) FLORES B) PÁSSAROS C) BORBOLETAS

ATIVIDADE 2: JHONY GUILHERME E EMILY ESTÃO ATRASADOS PARA ESCOLA, VAMOS
AJUDÁ-LOS! QUAL O CAMINHO QUE ELES DEVEM SEGUIR?

A) FRENTE E ESQUERDA

B) FRENTE E DIREITA











COMPOENETE CURRICULAR DE MATEMÁTICA

VAMOS SUBTRAIR?

MARCANDO NO RELÓGIO DIGITAL

* A QUE HORAS VOCÊ REALIZA CADA UMA DAS ATIVIDADES
ABAIXO? MARQUE UM X NO HORÁRIO E, DEPOIS, REGISTRE NO
RELÓGIO DIGITAL.

COLUNA 1	COLUNA 2	COLUNA 3
EU ACORDO E ME LEVANTO ÀS... 	<input type="radio"/> 7 HORAS <input type="radio"/> 8 HORAS <input type="radio"/> 9 HORAS	
EU ALMOÇO ÀS... 	<input type="radio"/> 10 HORAS <input type="radio"/> 11 HORAS <input type="radio"/> 12 HORAS	
VOU PARA A ESCOLA ÀS... 	<input type="radio"/> 7 HORAS <input type="radio"/> 12 HORAS <input type="radio"/> 13 HORAS	
VOU DORMIR ÀS... 	<input type="radio"/> 20 HORAS <input type="radio"/> 21 HORAS <input type="radio"/> 22 HORAS	



Escola Municipal Carlos Chagas E.I.E.F

Rua: Munhoz de Melo nº78 Centro Fone (44) 3434- 1163

CEP: 87840-000 Mirador-PR

E-mail- escola@mirador.pr.gov.br – E-mail:escolacarloschagasmira@gmail.com

DIA 05 DE MAIO DE 2021 QUARTA- FEIRA

AVALIAÇÃO DE CIÊNCIAS VALOR 5,0

PROFESSORA: JUDYTH SHAYENNE 1º ANO-A

ALUNO(A) _____

DIA _____ DE _____ DE 2021 (05/05/2021)

PROFESSORA: JUDYTH SHAYENNE 1º ANO-A

ALUNO(A) _____

COMPONENTE CURRICULAR: LÍNGUA PORTUGUESA.

SEPRE AS SÍLABAS.

RECICLAGEM DO LIXO

NUMERE A 2ª COLUNA DE ACORDO COM A 1ª.

1		<input type="checkbox"/>	
2		<input type="checkbox"/>	
3		<input type="checkbox"/>	
4		<input type="checkbox"/>	

PALAVRAS				Nº DE SÍLABAS	LETRA INICIAL	LETRA FINAL
AMORA						
AMIGO						
BOCA						
BEXIGA						
CABIDE						
CAMA						
DEDO						
DOMINÓ						

PINTE OS DESENHOS QUE COMEÇAM COM A LETRA AO LADO.

A				
B				
C				
D				



Escola Municipal Carlos Chagas E.I.E.F

Rua: Munhoz de Melo nº78 Centro Fone (44) 3434- 1163

CEP: 87840-000 Mirador-PR


E-mail- escola@mirador.pr.gov.br – E-mail:escolacarloschagasmira@gmail.com

DIA _____ DE _____ DE 2021 (06/05/2021)
PROFESSORA: JUDYTH SHAYENNE 1º ANO-A
ALUNO(A) _____

COMPONENTE CURRICULAR: ENSINO RELIGIOSO.

QUESTÃO 01

OS VALORES SÃO ENSINAMENTO QUE RECEBEMOS DESDE PEQUENOS E SÃO PASSADOS POR Nossos pais para que possamos crescer sabendo o certo e o errado. AGORA, OBSERVE A IMAGEM ABAIXO:



A IMAGEM ESTÁ DEMONSTRANDO O QUÊ?

- A) UM ATO DE RESPEITO COM O COLEGA.
- B) UM ATO DE AFETO E RESPEITO PELO PRÓXIMO.
- C) UM ATO DE DESRESPEITO E FALTA DE AMOR AO PRÓXIMO.
- D) UM ATO DE AMOR AO PRÓXIMO.

AGORA FAÇA UM DESENHO DEMONSTRANDO UM ATO DE AFETO E RESPEITO PELO PRÓXIMO.



Escola Municipal Carlos Chagas E.I.E.F

Rua: Munhoz de Melo nº8 Centro Fone (44) 3434- 1163

CEP: 87840-000 Mirador-PR

E-mail- escola@mirador.pr.gov.br – E-mail:escolacarloschagasmira@gmail.com

DIA 07 DE MAIO DE 2021 SEXTA- FEIRA
AVALIAÇÃO DE MATEMATICA VALOR 5,0


PROFESSORA: JUDYTH SHAYENNE 1º ANO-A
ALUNO(A) _____


1- COMPLETE A SEQUENCIA DE 0 ATÉ 30

0		2			5				
10			13			16			19
	21			24			27		
30									

MATEMÁTICA

- OBSERVE A CENA E RESOLVA.



- 1 - QUANTAS CRIANÇAS ESTÃO BRINCANDO NO BALANÇO?
 - 2 - QUANTAS BRINCAM NO ESCORREGADOR?
 - 3 - QUANTAS BRINCAM COM AREIA?
 - 4 - QUANTAS CRIANÇAS AO TODO?
 - 5 - QUANTOS BALDINHOS HÁ NA CENA?
- 

1. VAMOS CONTAR DE 2 EM 2 E REALIZAR AGRUPAMENTO. NÃO ESQUEÇA DE MARCAR A QUANTIDADE NO LUGAR INDICADO.



- A) QUANTAS MAÇÃS TEMOS NO TOTAL? _____
- B) QUANTOS GRUPOS VOCÊ FORMOU? _____
- C) QUANTAS MAÇÃS SOBRARAM? _____



Escola Municipal Carlos Chagas E.I.E.F

Rua: Munhoz de Melo nº78 Centro Fone (44) 3434- 1163

CEP: 87840-000 Mirador-PR

E-mail- escola@mirador.pr.gov.br – E-mail:escolacarloschagasmira@gmail.com

DIA _____ DE _____ DE 2021 (10/05/2021)
PROFESSORA: JUDYTH SHAYENNE 1º ANO-A
ALUNO(A) _____

COMPONENTE CURRICULAR: LÍNGUA PORTUGUESA.


FAMÍLIA SILÁBICA

FA FE FI FO FU

1- COMPLETE AS PALAVRAS COM O SOM INICIAL:



CA



IJÃO



TA



GO








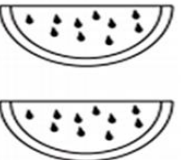
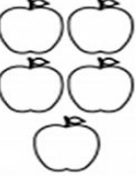

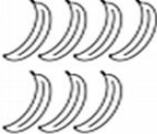



MAÇA

COMPONENTE CURRICULAR: MATEMATICA



SOMANDO COM OS DESENHOS



 $3 + 4 = \square$	 $2 + 3 = \square$	 $3 + 2 = \square$	 $5 + 5 = \square$
 $1 + 2 = \square$	 $7 + 8 = \square$	 $4 + 6 = \square$	 $3 + 4 = \square$
 $7 + 8 = \square$	 $4 + 6 = \square$	 $3 + 4 = \square$	 $3 + 4 = \square$

SITUAÇÃO PROBLEMA

FRAN.IINHA FF7 5 ROI HAS DE SARÃO GRANDES F 5 PFOIJNAS



Escola Municipal Carlos Chagas E.I.E.F

Rua: Munhoz de Melo nº78 Centro Fone (44) 3434- 1163

CEP: 87840-000 Mirador-PR

E-mail- escola@mirador.pr.gov.br – E-mail:escolacarloschagasmira@gmail.com

DIA _____ DE _____ DE 2021 (11/05/2021)
PROFESSORA: JUDYTH SHAYENNE 1º ANO-A

ALUNO(A) _____

COMPONENTE CURRICULAR: MATEMATICA.

PROBLEMINHA



1- OBSERVE A CENA E RESPONDA COM ATENÇÃO:

♡ QUANTAS CRIANÇAS BRINCANDO?

♡ QUANTAS SÃO MENINOS?

♡ QUANTAS SÃO MENINAS?

♡ QUANTAS BORBOLETAS?

♡ QUANTOS BALÕES A MENINA
ESTÁ SEGURANDO?

♡ QUANTAS FLORES?

COMPONENTE CURRICULAR: GEOGRAFIA

A CONVIVÊNCIA FAMILIAR

TODA CRIANÇA TEM O DIREITO DE CONVIVER COM UMA FAMÍLIA, ESTÁ PREVISTO DO ESTATUTO DA CRIANÇA E DO ADOLESCENTE E NA CONVENÇÃO INTERNACIONAL DOS DIREITOS DA CRIANÇA.

A CONVIVÊNCIA FAMILIAR É O PRIMEIRO ESPAÇO ONDE APRENDEMOS O QUE É A VIDA E O MUNDO EM NOSSA VOLTA. DESCOBRIMOS NOSSAS EMOÇÕES E SENTIMENTOS. APRENDEMOS A VIVER E DESCOBRIMOS OS VALORES IMPORTANTES PARA VIVER BEM UNS COM OS OUTROS. É NA FAMÍLIA QUE CRIAMOS VÍNCULOS QUE PODEM DURAR UMA VIDA INTEIRA.



QUEM SÃO OS MEMBROS DA SUA FAMÍLIA?

NOME DO SEU PAI:

NOME DA SUA MÃE:

VOCÊ TEM IRMÃOS?

QUANTOS SÃO?

COMO ELES SE CHAMAM?

AGORA DESENHE A SUA FAMÍLIA!



Escola Municipal Carlos Chagas E.I.E.F

Rua: Munhoz de Melo nº78 Centro Fone (44) 3434- 1163

CEP: 87840-000 Mirador-PR

E-mail- escola@mirador.pr.gov.br – E-mail:escolacarloschagasmira@gmail.com

DIA ____ DE ____ DE 2021 (11/05/2021)
PROFESSORA: JUDYTH SHAYENNE 1º ANO-A
ALUNO(A) _____

COMPONENTE CURRICULAR: LÍNGUA PORTUGUESA.

ALFABETO EM QUADRINHAS

FALANTE É A LETRA **F**
FALA FEITO UM TELEFONE
FICA FELIZ COM A FOCA
E COM A FADA SEM NOME!



Isabel Cristina S. Soares

1 - A LETRA **F** FALA FEITO UM:



2 - A LETRA **F** FICA FELIZ COM:


- () A FADA E O TELEFONE.
- () A FOCA E O MICROFONE.
- () A FOCA E A FADA SEM NOME.

3 - PINTE TODA LETRA **F** NA QUADRINHA.

DIA ____ DE ____ DE 2021 (12/05/2021)
PROFESSORA: JUDYTH SHAYENNE 1º ANO-A
ALUNO(A) _____

COMPONENTE CURRICULAR: CIÊNCIAS

LABIRINTO! VAMOS AJUDAR ESSAS CRIANÇAS A ENCONTRAR A LIXEIRA.





Escola Municipal Carlos Chagas E.I.E.F

Rua: Munhoz de Melo nº78 Centro Fone (44) 3434- 1163

CEP: 87840-000 Mirador-PR

E-mail- escola@mirador.pr.gov.br – E-mail:escolacarloschagasmira@gmail.com

DIA _____ DE _____ DE 2021 (13/05/2021)
PROFESSORA: JUDYTH SHAYENNE 1º ANO-A
ALUNO(A) _____

COMPONENTE CURRICULAR: ENSINO RELIGIOSO

SÍMBOLOS RELIGIOSOS NA VIDA DAS PESSOAS

Emerli Schlögl



VOCÊ JÁ REPAROU COMO EXISTEM PESSOAS QUE CARREGAM OU USAM OBJETOS COMO SE ELES FOSSEM MUITO ESPECIAIS?

UMA FOTO
UM ROSÁRIO
UMA ORAÇÃO ESCRITA
UM SALMO DA BÍBLIA
UMA MEDALHA
UMA FITINHA, ETC.

SE VOCÊ PERGUNTAR PARA ESTAS PESSOAS O QUE SIGNIFICA CADA UM DESSES OBJETOS, ELAS PODERÃO LHE CONTAR

HISTÓRIAS DE SUAS VIDAS E DE COMO ESSES OBJETOS LHE TOCARAM O CORAÇÃO. E COMO AS PROTEGEM, SERVEM DE ALÍVIO, CONSOLO OU TRANSMITEM PAZ.

CADA RELIGIÃO POSSUI SÍMBOLOS PARA REPRESENTÁ-LA.

VEJA ALGUNS EXEMPLOS:



A ESTRELA DE SEIS PONTAS É UM SÍMBOLO DE SABEDORIA E PROTEÇÃO PARA OS SEGUIDORES DO JUDAÍSMO.

A CRUZ É SÍMBOLO DE SALVAÇÃO PARA MUITOS CRISTÃOS.

A LUA CRESCENTE É UM SÍMBOLO DO ISLAMISMO.

O SOL REPRESENTA O PODER DA VIDA PARA AS TRADIÇÕES RELIGIOSAS NATIVAS COMO AS INDÍGENAS.

A RODA COM OITO RAIOS É UM SÍMBOLO DO BUDISMO E REPRESENTA OS ENSINAMENTOS DE BUDA.

1) VOCÊ CONHECE ALGUNS SÍMBOLOS RELIGIOSOS? DESENHE-OS E ESCREVA O NOME DELES.



Escola Municipal Carlos Chagas E.I.E.F

Rua: Munhoz de Melo nº78 Centro Fone (44) 3434- 1163

CEP: 87840-000 Mirador-PR

E-mail- escola@mirador.pr.gov.br – E-mail:escolacarloschagasmira@gmail.com

DIA _____ DE _____ DE 2021 (14/05/2021)
PROFESSORA: JUDYTH SHAYENNE 1º ANO-A
ALUNO(A) _____

COMPONENTE CURRICULAR: LÍNGUA PORTUGUESA

4 - QUANTAS PALAVRAS COMEÇAM COM A LETRA **F**, NA QUADRINHA?

5 - ESCREVA NOS RETÂNGULOS ABAIXO, AS PALAVRAS DA QUADRINHA QUE INCIAM COM A LETRA **F**.

Grid of dashed boxes for writing words starting with F.

6 - LIGUE OS NOMES AOS DESENHOS.

- FACA
- FOCA
- FADA



7 - COMPLETE:

F - _____

WWW.BEBOLEAS.COM

COMPONENTE CURRICULAR: MATEMÁTICA

NUMERAIS

0 - 1 - 2 - 3 - 4 - 5 - 6 - 7 - 8 - 9
10 - 11 - 12 - 13 - 14 - 15 - 16 - 17 - 18 - 19

COMPLETE A SEQUÊNCIA NUMÉRICA.



0				
				19



QUEM VEM ANTES?

Circles containing 11 and 18, and two empty circles.

QUEM VEM DEPOIS?

Circles containing 15 and 12, and two empty circles.



Escola Municipal Carlos Chagas E.I.E.F

Rua: Munhoz de Melo nº78 Centro Fone (44) 3434- 1163

CEP: 87840-000 Mirador-PR

E-mail- escola@mirador.pr.gov.br – E-mail:escolacarloschagasmira@gmail.com

CALENDÁRIO MAIO - 2021



DOMINGO	SEGUNDA - FEIRA	TERÇA- FEIRA	QUARTA- FEIRA	QUINTA- FEIRA	SEXTA- FEIRA	SÁBADO
						1
2	3	4	5	6	7	8
9	10	11	12	13	14	15
16	17	18	19	20	21	22
23	24	25	26	27	28	29
30	31					

ATIVIDADE DO CALENDARIO.

1- QUÁL É O NOME DOS MÊS QUE ESTAMOS?

2- QUANTOS DIAS ESTE MÊS TEM? _____

3- ESTE MÊS SE INICIA EM QUAL DIA DA SEMANA? _____

- PINTE DE VERMELHO CLARO O DOMINGO E O SABADO.
- PINTE DE AZUL A SEGUNDA FEIRA.
- PINTE DE AMARELO A TERÇA FEIRA
- PINTE DE ROSA A QUARTA FEIRA
- PINTE DE LARANJA A QUINTA FEIRA
- PINTE DE VERDE A SEXTA FEIRA.
- CIRCULE DE PRETO O DIA 09 DE MAIO DIA DAS MÃES.