



PROFESSORA: SHAYENNE 1º ANO-A 13º QUNZENA 09/08 À 20/08
ALUNO(A):


COMPONENTE CURRICULAR DE LINGUA PORTUGUES

PARLENDA


1- LEIA A PARLENDA E MARQUE NO RELÓGIO O HORÁRIO INDICADO.



MEIO-DIA
MACACO ASSOBIÁ
PANELA NO FOGO
BARRIGA VAZIA



MEIO-DIA
MACACA SOFIA
FAZENDO CARETA
PRA DONA MARIA



2- RECORTE E COLE AS PALAVRAS, COMPLETANDO A PARLENDA.

MEIO-DIA

ASSOBIÁ

NO FOGO

BARRIGA VAZIA

MEIO-DIA

MACACA

FAZENDO

PRA DONA MARIA

CARETA

SOFIA

MACACO

PANELA



PROFESSORA: SHAYENNE 1º ANO-A 13ª QUNZENA 09/08 À 20/08

ALUNO(A):

COMPONENTE CURRICULAR DE MATEMATICA

Aprende os símbolos > e <

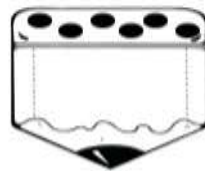
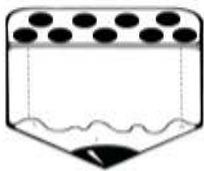
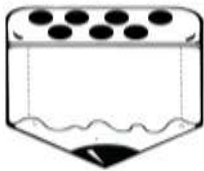
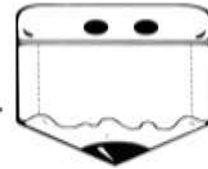
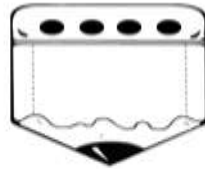
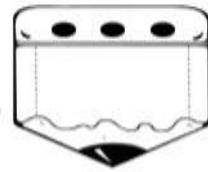
MAIOR QUE

MENOR QUE



MAIOR > ou < MENOR

1- CONTE, ESCREVA O NUMERAL E COMPARE AS QUANTIDADES, USANDO OS SINAIS > OU < .



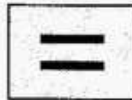


PROFESSORA: SHAYENNE 1º ANO-A 13º QUNZENA 09/08 À 20/08

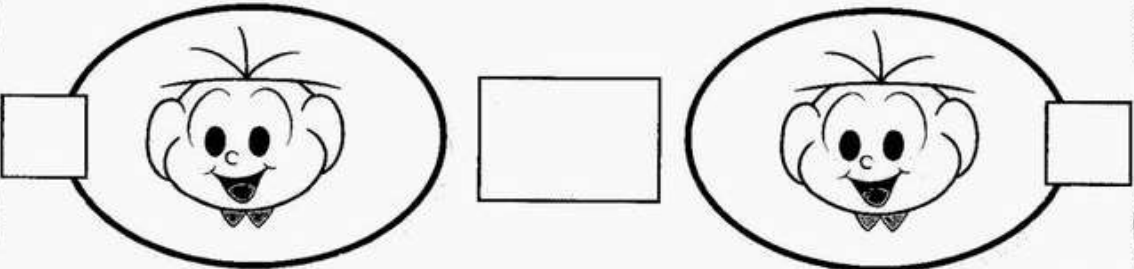
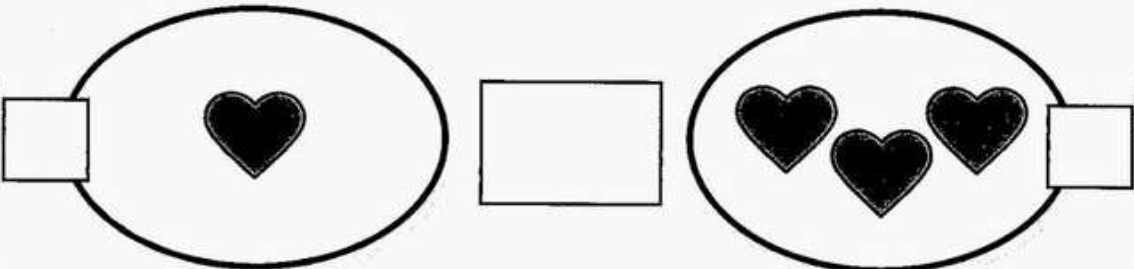
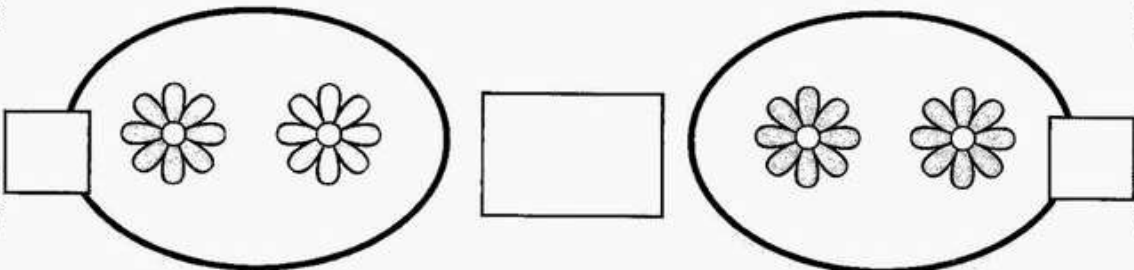
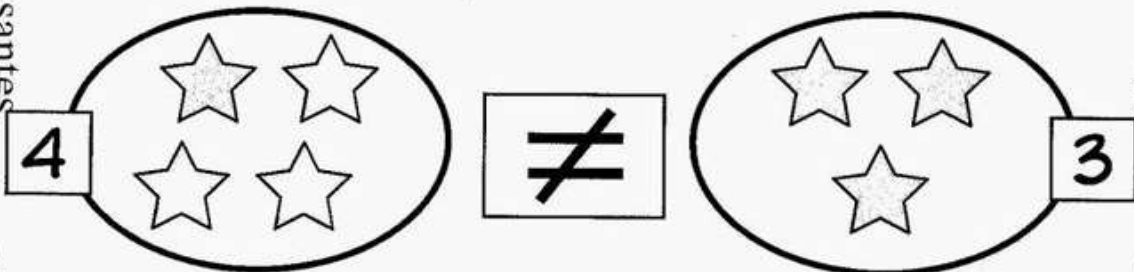
ALUNO(A):

COMPONENTE CURRICULAR DE MATEMATICA

IGUAL OU DIFERENTE



VAMOS PREENCHER OS ESPAÇOS ENTRE OS CONJUNTOS COM O SINAL DE IGUAL (=) SE ELES TIVEREM A MESMA QUANTIDADE DE ELEMENTOS, E COM O SINAL DE DIFERENTE (≠) SE NÃO TIVEREM A MESMA QUANTIDADE?



Maurício




PROFESSORA: SHAYENNE 1º ANO-A 13º QUNZENA 09/08 À 20/08

ALUNO(A):

COMPONENTE CURRICULAR DE GEOGRAFIA

G E O G R A F I A
O TEMPO

1 - OLHANDO ATRAVÉS DA JANELA, PINTE A PLAQUINHA QUE INDICA COMO ESTÁ O TEMPO.



CHUVOSO

NUBLADO

ENSOLARADO

2 - OLHE ATRAVÉS DA SUA JANELA E DESENHE A PAISAGEM INDICANDO COMO ESTÁ O DIA HOJE.





PROFESSORA: SHAYENNE 1º ANO-A 13º QUNZENA 09/08 À 20/08

ALUNO(A):

COMPONENTE CURRICULAR DE LINGUA PORTUGUES

 VAMOS LER!

MEIO-DIA
MACACO ASSOBIÁ
PANELA NO FOGO
BARRIGA VAZIA.



 PINTE NA PARLENDÁ, AS PALAVRAS QUE RIMAM E ESCREVA-AS ABAIXO.

 QUAL É O NOME DO ANIMAL QUE APARECE NA PARLENDÁ?

LETRA INICIAL



LETRA FINAL



NÚMERO DE LETRAS



NÚMERO DE SÍLABAS





PROFESSORA: SHAYENNE 1º ANO-A 13º QUNZENA 09/08 À 20/08

ALUNO(A):



COMPONENTE CURRICULAR DE CIÊNCIAS



ATIVIDADE DE CIÊNCIAS

VAMOS AJUDAR A CHIQUINHA?


1. ARRASTE A PLAQUINHA PARA IDENTIFICAR AS PARTES DO CORPO



TRONCO



MEMBROS



CABEÇA

2. LIGUE, COM QUAL PARTE DO CORPO PODEMOS?

FALAR



VER



TOCAR






COMPONENTE CURRICULAR DE MATEMATICA

MEDIDAS DE CAPACIDADE


O LITRO É A UNIDADE UNIVERSAL DAS MEDIDAS DE CAPACIDADE.

PARA MEDIR ÁGUA, SUCO, GASOLINA E OUTROS LÍQUIDOS, USAMOS O LITRO.



- A METADE DO LITRO É MEIO LITRO.
- UM LITRO TEM DOIS MEIOS LITROS.

OBSERVE:



1 LITRO É IGUAL A DOIS $\frac{1}{2}$ LITROS.

$\frac{1}{2}$ LITRO É IGUAL A $\frac{2}{4}$ LITROS.

$\frac{4}{4}$ DE LITROS É IGUAL A 1 LITRO.

A ILUSTRAÇÃO INDICA QUE O LITRO, COMO UNIDADE DE MEDIDA, PODE SER DIVIDIDO.





Escola Municipal Carlos Chagas E.I.E.F
Rua: Munhoz de Melo nº78 Centro Fone (44) 3434- 8042
CEP: 87840-000 Mirador-PR


E-mail- escola@mirador.pr.gov.br – E-mail:escolacarloschagasmira@gmail.com

PROFESSORA: SHAYENNE 1º ANO-A 13º QUNZENA 09/08 À 20/08

ALUNO(A):

COMPONENTE CURRICULAR DE ENSINO RELIGIOSO

**A BIBLIA É UM SIMBOLO SAGRADO .
AJUDE O PADRE A CHEGAR ATÉ ELA.**





PROFESSORA: SHAYENNE 1º ANO-A 13º QUNZENA 09/08 À 20/08

ALUNO(A):

COMPONENTE CURRICULAR DE LINGUA PORTUGUES

1) LEIA O TEXTO:

**PARLENDA DO MACACO
FOLCLORE**

MEIO-DIA
MACACO ASSOBIÁ
PANELA NO FOGO
BARRIGA VAZIA.



MEIO-DIA
MACACA SOFIA
FAZENDO CARETA
PRA DONA MARIA.

2) RESPONDA DE ACORDO COM O TEXTO:

A) COMO SE CHAMA A MACACA?

B) PARA QUEM A MACACA FAZ CARETA?

C) O QUE O MACACO FAZ?

D) QUE HORAS SÃO NO TEXTO?

E) ONDE A PANELA ESTÁ?



PROFESSORA: SHAYENNE 1º ANO-A 13ª QUNZENA 09/08 À 20/08

ALUNO(A):


COMPONENTE CURRICULAR DE MATEMATICA

NOSSOS MATERIAIS

AJUDE O LUCAS A DESCOBRIR O TOTAL DE CADA MATERIAL. REGISTRE USANDO UM NÚMERO:



CONTE USANDO OS DEDINHOS.



NA LOJA DE BRINQUEDOS

UMA LOJA VENDE BRINQUEDOS. VEJA QUANTOS JÁ FORAM VENDIDOS E CALCULE QUANTOS SOBARAM:



_____ - _____ = _____

EU QUERO COMPRAR UM URSINHO DE PELÚCIA!



_____ - _____ = _____



_____ - _____ = _____





PROFESORA: SHAYENNE 1º ANO-A 13º QUNZENA 09/08 À 20/08

ALUNO(A):

ATIVIDADE AVALIATIVA DE LINGUA PORTUGUESA

LEIA O TEXTO

PIRULITO QUE BATE-BATE
PIRULITO QUE JÁ BATEU
QUEM GOSTA DE MIM É ELA
QUEM GOSTA DELA SOU EU!



- 1- CIRCULE TODA LETRA P QUE APARECE NA CANTIGA.
- 2- ESCREVA O NOME DOS DOCES E CIRCULE O DOCE QUE APARECE NA CANTIGA?



- 3- SEPARE AS SILABAS DA PALAVRA **PIRULITO**.

--	--	--	--

QUAL É A LETRA INICIAL? _____

QUAL A LETRA FINAL? _____

QUAL O NUMERO DE SÍLABAS? _____

- 4- FORME UMA FRASE COM A PALAVRA **PIRULITO**.



Escola Municipal Carlos Chagas E.I.E.F
Rua: Munhoz de Melo nº78 Centro Fone (44) 3434- 8042
CEP: 87840-000 Mirador-PR

E-mail- escola@mirador.pr.gov.br – E-mail:escolacarloschagasmira@gmail.com

PROFESSORA: SHAYENNE 1º ANO-A 13º QUNZENA 09/08 À 20/08

ALUNO(A):

ATIVIDADE AVALIATIVA DE LINGUA PORTUGUESA

COLOQUE OS VERSOS DA MÚSICA NA ORDEM CERTA:

QUEM GOSTA DE MIM É ELA

PIRULITO QUE BATE BATE

QUEM GOSTA DELA SOU EU

PIRULITO QUE JÁ BATEU



PROFESSORA: SHAYENNE 1º ANO-A 13ª QUNZENA 09/08 À 20/08

ALUNO(A):

ATIVIDADE AVALIATIVA DE MATEMATICA



VAMOS SUBTRAIR?

RESOLVA OS PROBLEMINHAS

1

GUTO TINHA... COMEU... QUANTAS RESTARAM?

$5 - 2 = \text{○}$

2

ANA GANHOU... ESTOUROU... QUANTOS RESTARAM?

$4 - 1 = \text{○}$

3

JOÃO PEGOU... CAÍRAM... QUANTAS RESTARAM?


$6 - 4 = \text{○}$

4


LUÍZA COMPROU... DEU... QUANTOS RESTARAM?

$8 - 3 = \text{○}$


1) DESENHE TRÊS MAÇÃS NA ÁRVORE MAIS ALTA.



2) DESENHE UM PRÉDIO MAIS BAIXO QUE ESTE.



3) FAÇA UMA + NO ANIMAL QUE, NA SUA OPINIÃO, É MAIS ALTO QUE VOCÊ E CIRCULE OS ANIMAIS QUE SÃO MAIS BAIXOS QUE VOCÊ.






PROFESSORA: SHAYENNE 1º ANO-A 13º QUNZENA 09/08 À 20/08

ALUNO(A):

ATIVIDADE AVALIATIVA DE MATEMATICA

MATEMÁTICA




1) COMPLETE A SEQUÊNCIA NUMÉRICA.

1						7		
			14					
							28	

2) ESCREVA QUEM VEM ANTES E DEPOIS.

	14	
	9	
	30	
	19	






PROFESSORA: SHAYENNE 1º ANO-A 13ª QUINZENA 09/08 À 20/08

ALUNO(A):

ATIVIDADE AVALIATIVA DE MATEMÁTICA


MATEMÁTICA = NÚMEROS NATURAIS

1 - PINTAR 10 MAÇÃS.



2 - QUANTAS MAÇÃS

FIGURAM SEM PINTAR?



3 - DÊ O RESULTADO DE CADA ADIÇÃO E DESENHE AS BOLINHAS QUE FALTAM.

$10 + 0 = \underline{\quad}$

$10 + 1 = \underline{\quad}$

$10 + 2 = \underline{\quad}$

$10 + 3 = \underline{\quad}$

$10 + 4 = \underline{\quad}$

$10 + 5 = \underline{\quad}$

$10 + 6 = \underline{\quad}$

$10 + 7 = \underline{\quad}$

$10 + 8 = \underline{\quad}$

$10 + 9 = \underline{\quad}$



Escola Municipal Carlos Chagas E.I.E.F
Rua: Munhoz de Melo nº78 Centro Fone (44) 3434- 8042
CEP: 87840-000 Mirador-PR


E-mail- escola@mirador.pr.gov.br – E-mail: escolacarloschagasmira@gmail.com

PROFESSORA: SHAYENNE 1º ANO-A 13º QUNZENA 09/08 À 20/08

ALUNO(A):

ATIVIDADE AVALIATIVA DE MATEMATICA

OS ALUNOS DO PRIMEIRO ANO FIZERAM UMA PESQUISA SOBRE QUAIS ERAM OS BRINQUEDOS PREFERIDOS DA TURMA, COM AS RESPOSTAS ELES MONTARAM UM GRÁFICO.



COM AS INFORMAÇÕES DO GRÁFICO VAMOS COMPLETAR A TABELA ABAIXO E RESPONDER ALGUMAS PERGUNTAS.

1- COMPLETE A TABELA COM O NÚMERO DE CRIANÇAS QUE ESCOLHERAM CADA BRINQUEDO.

BRINQUEDO	NÚMERO DE CRIANÇAS
URSO	
AVIÃO	
CARRO	
TARTARUGA	

2- QUAL FOI O BRINQUEDO MAIS VOTADO?

3- QUAL A DIFERENÇA DE VOTOS ENTRE O URSO E O CARRO?

4- QUANTAS CRIANÇAS PARTICIPARAM DA PESQUISA?





PROFESSORA: SHAYENNE 1º ANO-A 13ª QUINZENA 09/08 À 20/08


ALUNO(A):

ATIVIDADE AVALIATIVA DE MATEMÁTICA




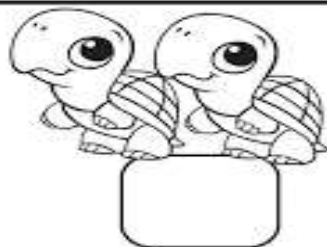


IGUAL E DIFERENTE

1) CONTE OS ELEMENTOS DE CADA CONJUNTO E ESCREVA O NUMERAL CORRESPONDENTE. DEPOIS, USE O SINAL = OU \neq .



2) COMPARE AS QUANTIDADES, USANDO OS SINAIS:

$>$ MAIOR $<$ MENOR OU $=$ IGUAL



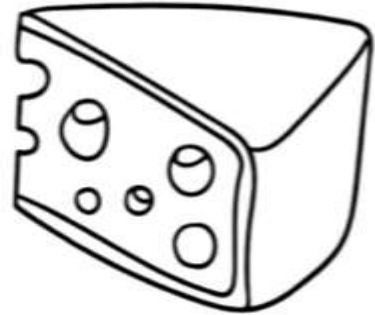


PROFESSORA: SHAYENNE 1º ANO-A 13º QUNZENA 09/08 Á 20/08

ALUNO(A):

ATIVIDADE AVALIATIVA DE MATEMATICA

1. PINTE O QUE COMPRAMOS POR LITRO:





ATIVIDADE AVALIATIVA DE GEOGRAFIA

MANHÃ - TARDE - NOITE

O DIA PODE SER DIVIDIDO EM DIFERENTES PERÍODOS: MANHÃ, TARDE E NOITE.

1. OBSERVE AS ILUSTRAÇÕES E MARQUE A ALTERNATIVA CORRETA:



MANHÃ



TARDE



NOITE

PELA MANHÃ O MENINO:

ACORDOU

BRINCOU

TOMOU BANHO

À TARDE O MENINO:

ESTUDOU

ACORDOU

ALMOÇOU

À NOITE O MENINO:

ALMOÇOU

FOI DORMIR

TOMOU BANHO.

2. SELECIONE A JANELA QUE MOSTRA QUE É NOITE:



3. ESCREVE **M** PARA AS ATIVIDADES QUE VOCÊ FAZ PELA MANHÃ, **T** PARA AS ATIVIDADES QUE VOCÊ FAZ À TARDE E **N** PARA AS ATIVIDADES QUE VOCÊ FAZ A NOITE:



TOMAR CAFÉ



TOMAR BANHO



ESCOVAR OS DENTES



ACORDAR



FAZER TAREFAS



BRINCAR



RELAXAR



DORMIR



JANTAR



ASSISTIR TV



PROFESSORA: SHAYENNE 1º ANO-A 13º QUNZENA 09/08 À 20/08

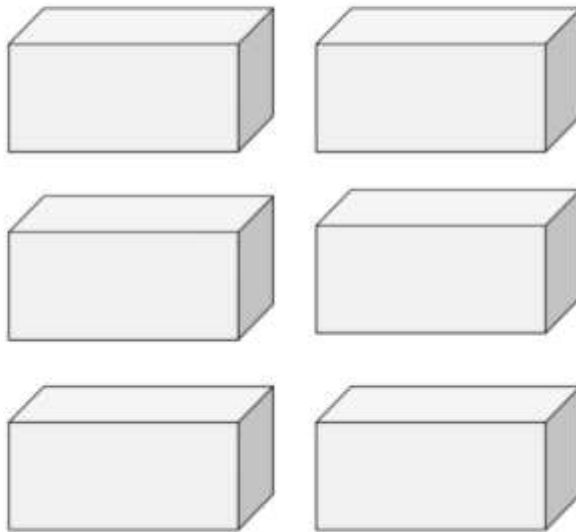
ALUNO(A):

NA LOJA DE CALÇADOS

OS CALÇADOS SÃO VENDIDOS AOS PARES. CADA **PAR** TEM 2 CALÇADOS, UM PARA CADA PÉ. AJUDE AO VENDEDOR A GUARDAR OS PARES DE CALÇADOS NAS CAIXAS.

LEMBRE-SE:


CADA PAR TEM DOIS CALÇADOS IGUAIS!!!



37

AS CENTOPÉIAS E SEUS SAPATINHOS

AJUDE A DONA JOANINHA A COLOCAR OS SAPATOS NA CENTOPEINHA:



DE QUANTOS PARS DE CALÇADO ELA PRECISOU?

38



Escola Municipal Carlos Chagas E.I.E.F
Rua: Munhoz de Melo nº78 Centro Fone (44) 3434- 8042
CEP: 87840-000 Mirador-PR

E-mail- escola@mirador.pr.gov.br – E-mail: escolacarloschagasmira@gmail.com

PROFESSORA: SHAYENNE 1º ANO-A 13º QUNZENA 09/08 À 20/08

ALUNO(A):

ATIVIDADE AVALIATIVA DE CIÊNCIAS

LEVE CADA PARTE DO CORPO AO SEU LUGAR CORRESPONDENTE:

