



Escola Municipal Carlos Chagas E.I.E.F
Rua: Munhoz de Melo nº78 Centro Fone (44) 3434- 1163
CEP: 87840-000 Mirador-PR

E-mail- escola@mirador.pr.gov.br – E-mail:escolacarloschagasmira@gmail.com

PROFESSORA: SHAYENNE 1º ANO-A 12º QUNZENA 21/07 À 06/08

ALUNO(A):

COMPONETE CURRICULAR: LINGUA PORTUGUESA E MATEMATICA

LEIA O TEXTO:

A PIPA DO PEPITO

PEPITO GANHOU UMA PIPA DO
PAPAI.

ERA UMA PIPA COLORIDA.
PEPITO CORRE, CORRE COM A
PIPA E ELA VOA BEM ALTO.
PEPITO AMA BRINCAR DE PIPA.



COMPREENSÃO DA LEITURA

1. QUAL É O TÍTULO DA LEITURA?

2. O QUE PEPITO GANHOU?

3. COMO ERA A PIPA?

4. O QUE PEPITO FAZ COM A PIPA?





Escola Municipal Carlos Chagas E.I.E.F

Rua: Munhoz de Melo nº78 Centro Fone (44) 3434- 1163

CEP: 87840-000 Mirador-PR

E-mail- escola@mirador.pr.gov.br – E-mail:escolacarloschagasmira@gmail.com

PROFESSORA: SHAYENNE 1º ANO-A 12º QUNZENA 21/07 À 06/08

ALUNO(A):

OI TURMA!!

NA ATIVIDADE DE HOJE VAMOS RECONHECER OBJETOS REPRESENTADOS NO PLANO A PARTIR DA VISTA SUPERIOR, FRONTAL E LATERAL.

OBSERVE ABAIXO A POSIÇÃO QUE VEMOS DOS OBJETOS ATRAVÉS DESTES 3 PONTO DE VISTA.

PONTO VISTA SUPERIOR:



O PONTO DE VISTA SUPERIOR É QUANDO A IMAGEM É REPRESENTADA DE CIMA PARA BAIXO ESTE PONTO DE VISTA PODE TAMBÉM SER CHAMADO DE VERTICAL. OBSERVE O DESENHO AO LADO.

PONTO VISTA FRONTAL:



O PONTO DE VISTA FRONTAL É QUANDO A IMAGEM É REPRESENTADA DE FRENTE.

PONTO VISTA LATERAL:



O PONTO DE VISTA LATERAL É QUANDO A IMAGEM É REPRESENTADA DE LADO.



Escola Municipal Carlos Chagas E.I.E.F

Rua: Munhoz de Melo nº78 Centro Fone (44) 3434- 1163


CEP: 87840-000 Mirador-PR

E-mail- escola@mirador.pr.gov.br – E-mail:escolacarloschagasmira@gmail.com

PROFESORA: SHAYENNE 1º ANO-A 12º QUNZENA 21/07 Á 06/08

ALUNO(A):

•LIGUE CADA FIGURA À SUA VISTA SUPERIOR:



•LIGUE A POSIÇÃO DO CARRO AO PONTO DE VISTA QUE ELE ESTÁ DETERMINANDO:



VISÃO FRONTAL.

VISÃO LATERAL.

VISÃO SUPERIOR.

•CIRCULE A IMAGEM QUE REPRESENTA O AVIÃO PELO PONTO DE VISTA DE LATERAL OU SEJA DE LADO:





Escola Municipal Carlos Chagas E.I.E.F
Rua: Munhoz de Melo nº78 Centro Fone (44) 3434- 1163
CEP: 87840-000 Mirador-PR

E-mail- escola@mirador.pr.gov.br – E-mail: escolacarloschagasmira@gmail.com

PROFESSORA: SHAYENNE 1º ANO-A 12º QUNZENA 21/07 Á 06/08







ALUNO(A):

COMPONENETE CURRICULAR: LINGUA PORTUGUESA E MATEMATICA

OBSERVE AS FORMAS E CONTINUE A SEQUENCIA.



VAMOS CALCULAR

HAVIAM	CHEGARAM	TOTAL
		$\begin{array}{r} 4 \\ + 3 \\ \hline 7 \end{array}$
		$\begin{array}{r} \dots\dots \\ + \dots\dots \\ \hline \dots\dots \end{array}$
		$\begin{array}{r} \dots\dots \\ + \dots\dots \\ \hline \dots\dots \end{array}$



Escola Municipal Carlos Chagas E.I.E.F

Rua: Munhoz de Melo nº78 Centro Fone (44) 3434- 1163

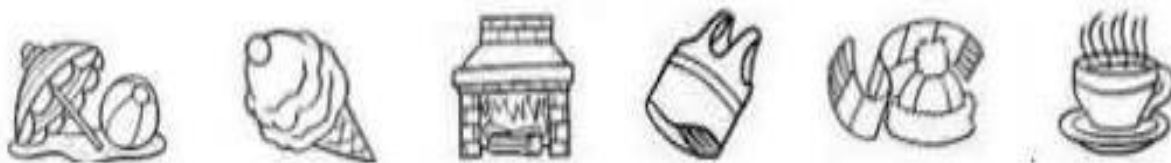
CEP: 87840-000 Mirador-PR

E-mail- escola@mirador.pr.gov.br – E-mail: escolacarloschagasmira@gmail.com

PROFESSORA: SHAYENNE 1º ANO-A 12º QUNZENA 21/07 Á 06/08

ALUNO(A):

1) CIRCULE DE **AZUL** O QUE É MAIS COMUM NO **INVERNO** E DE **VERMELHO** O QUE É MAIS COMUM NO **VERÃO**:



3) MARQUE UM X DE COMO ESTÁ O DIA HOJE:



OBSERVE OS DESENHO E LIGUE AO NOME DA ESTAÇÃO DO ANO CORRESPONDENTE.



OUTONO



VERÃO



PRIMAVERA



INVERNO



Escola Municipal Carlos Chagas E.I.E.F
Rua: Munhoz de Melo nº78 Centro Fone (44) 3434- 1163
CEP: 87840-000 Mirador-PR
E-mail- escola@mirador.pr.gov.br – E-mail:escolacarloschagasmira@gmail.com

PROFESSORA: SHAYENNE 1º ANO-A 12º QUNZENA 21/07 Á 06/08

ALUNO(A):

1. UNA A LETRA P COM CADA VOGAL E FORME SILABAS COMO MO EXEMPLO:

P + A = PA

A

E

I

O

U

COMPLETE O NOME DAS FIGURAS COM A SÍLABAS QUE ESTÁ FALTANDO E DEPOIS COPIE PALAVRA NA LINHA ABAIXO

	PI _____ _____		____TECA _____
	____ANO _____		SA ____ _____
	____IXE _____		____TA _____
	____LHAÇO _____		____TO _____



Escola Municipal Carlos Chagas E.I.E.F

Rua: Munhoz de Melo nº78 Centro Fone (44) 3434- 1163

CEP: 87840-000 Mirador-PR


E-mail- escola@mirador.pr.gov.br – E-mail: escolacarloschagasmira@gmail.com

PROFESSORA: SHAYENNE 1º ANO-A 12º QUNZENA 21/07 Á 06/08

ALUNO(A):

•JUNTE AS SÍLABAS E ESCREVA AS PALAVRAS LINHAS E APÓS LEIA:

PE → LA - DO _____
→ PI - NO _____
→ LU - DO _____

 PO → TE _____
→ MA - DA _____
PI → PO - CA _____

•LIGUE AS FIGURAS A SEUS NOMES:



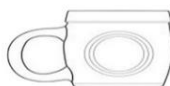
PIPOCA

PERA

PIPA

PÃO

•CIRCULE OS DESENHOS NO QUAL SEU NOME CONTÉM AS SÍLABAS **P**





Escola Municipal Carlos Chagas E.I.E.F

Rua: Munhoz de Melo nº78 Centro Fone (44) 3434- 1163

CEP: 87840-000 Mirador-PR

E-mail- escola@mirador.pr.gov.br – E-mail: escolacarloschagasmira@gmail.com

PROFESSORA: SHAYENNE 1º ANO-A 12º QUNZENA 21/07 Á 06/08

ALUNO(A):

OI TURMA! EU SOU ANA.
HOJE MINHA MÃE PEDIU PARA IR A
FEIRA COMPRAR 12 MAÇAS, 12 OVOS, 6
PERAS. LÁ EU APRENDI O QUE É **DÚZIA** E
MEIA DÚZIA.
E AI VOCÊS SABEM O QUE É **DÚZIA**?
ENTÃO PRESTE ATENÇÃO PORQUE
VAMOS APRENDER JUNTOS O QUE É
DÚZIA.



1 DÚZIA É A JUNÇÃO DE 12
UNIDADE



MEIA DÚZIA É 6 UNIDADE QUE
É A METADE DE 1 DÚZIA.



- VAMOS VER SE VOCÊ APRENDEU SOBRE DÚZIA:
- UMA DÚZIA DE OVOS SÃO _____ OVOS.



- MEIA DÚZIA DE OVOS SÃO _____ OVOS





Escola Municipal Carlos Chagas E.I.E.F

Rua: Munhoz de Melo nº78 Centro Fone (44) 3434- 1163


CEP: 87840-000 Mirador-PR

E-mail- escola@mirador.pr.gov.br – E-mail:escolacarloschagasmira@gmail.com

PROFESSORA: SHAYENNE 1º ANO-A 12º QUNZENA 21/07 Á 06/08

ALUNO(A):

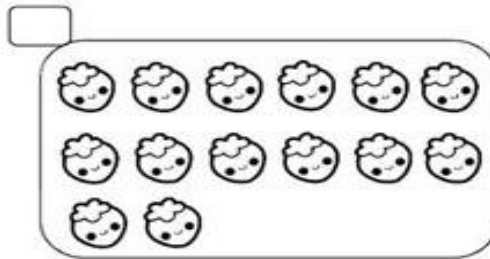

OBSERVE O DESENHO ABAIXO



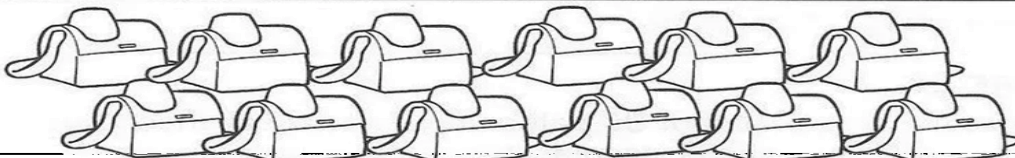


QUANTOS OVOS AO TODO?

ISTO SIGNIFICA QUE ACIMA TEM UMA _____ DE OVOS.

MARQUE UM X NO CONJUNTO QUE TEM UMA DÚZIA.



PINTE OS OBJETOS ATÉ FORMAR UMA DÚZIA





Escola Municipal Carlos Chagas E.I.E.F

Rua: Munhoz de Melo nº78 Centro Fone (44) 3434- 1163









CEP: 87840-000 Mirador-PR

E-mail- escola@mirador.pr.gov.br – E-mail:escolacarloschagasmira@gmail.com

PROFESSORA: SHAYENNE 1º ANO-A 12º QUNZENA 21/07 Á 06/08

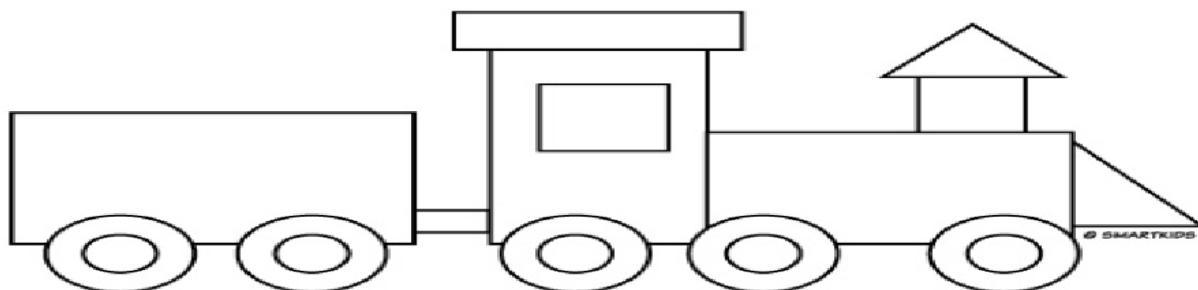
ALUNO(A):

VAMOS CONHECER AGORA AS FORMAS GEOMETRICAS PLANAS:
AS FORMAS GEOMÉTRICAS SÃO A FACE (OU LADO) DE UMA FORMA GEOMÉTRICA
ESPACIAL COMO NOS EXEMPLOS ABAIXO:

		A <u>FACE AZUL</u> DESSE CUBO É UMA FIGURA PLANA CHAMADA <u>QUADRADO</u> .
		A <u>FACE VERMELHO</u> DESSE CILÍNDRIO É UMA FIGURA PLANA CHAMADA <u>CIRCULO</u> .
		A <u>FACE VERDE</u> DESSE PARALELEPIPEDO É UMA FIGURA PLANA CHAMADA <u>RETÂNGULO</u>
		A <u>FACE AMARELA</u> DESSE PIRÂMIDE É UMA FIGURA PLANA CHAMADA <u>TRIÂNGULO</u>

1- OBSERVE O DESENHO:

- PINTE OS **QUADRADOS** DE AMARELO.
- PINTE OS **TRIÂNGULOS** DE AZUL.
- PINTE OS **CIRCULOS** DE VERDE.
- PINTE OS **RETÂGULOS** DE VERMELHO.






Escola Municipal Carlos Chagas E.I.E.F
Rua: Munhoz de Melo nº78 Centro Fone (44) 3434- 1163
CEP: 87840-000 Mirador-PR
escola@mirador.pr.gov.br – E-mail: escolacarloschagasmira@gmail.com

NO-A 12º QUNZENA 21/07 Á 06/08

VOCÊ SABE DE ONDE VEM O PAPEL EM QUE NÓS ESCREVEMOS E DESENHAMOS?

O PAPEL É FEITO A PARTIR DA MADEIRA DE UMA ÁRVORE. TODAS AS ÁRVORES POSSUEM EM SUAS CÉLULAS UMA SUBSTÂNCIA CHAMADA DE CELULOSE. É A PARTIR DELA QUE O PAPEL É FABRICADO.

MAS PARA PROTEÇÃO DO **MEIO AMBIENTE** AS ÁRVORES UTILIZADAS PARA FABRICAÇÃO DO PAPEL NOS DIAS DE HOJE VEM DAS **ÁRVORES DE REFLORESTAMENTO**.



CIRCULE ABAIXO OBJETOS QUE SÃO FEITOS DE PAPEL QUE VEM DA CELULOSE DAS ÁRVORES.







Escola Municipal Carlos Chagas E.I.E.F
Rua: Munhoz de Melo nº78 Centro Fone (44) 3434- 1163
CEP: 87840-000 Mirador-PR
E-mail- escola@mirador.pr.gov.br – E-mail:escolacarloschagasmira@gmail.com


PROFESSORA: SHAYENNE 1º ANO-A 12º QUNZENA 21/07 À 06/08


ALUNO(A):

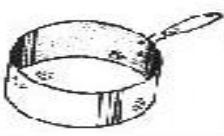
PINTE AS SILABAS E FORME O NOME DAS FIGURAS E DEPOIS ESCREVA ABAIXO


	PI	PA	PE
	PU	PO	CU
	CE	CO	CA
.....			

	PE	PA	PU
	PI	PO	TA
	TE	TO	TI
.....			



	PA	PE	PI
	TA	TE	TI
	CE	CA	CU
.....			

	PA	PE	PI
	E	I	A
	NA	NI	NO
.....			

	PI	PA	PO
	NE	NU	NA
	LI	LO	LA
.....			

	PA	PE	PI
	PO	PU	A
	E	I	ÃO
.....			

3 - DITADO RECORTADO.



PERIQUITO

PIÃO

PENA

PORCO

POLVO

PIANO