



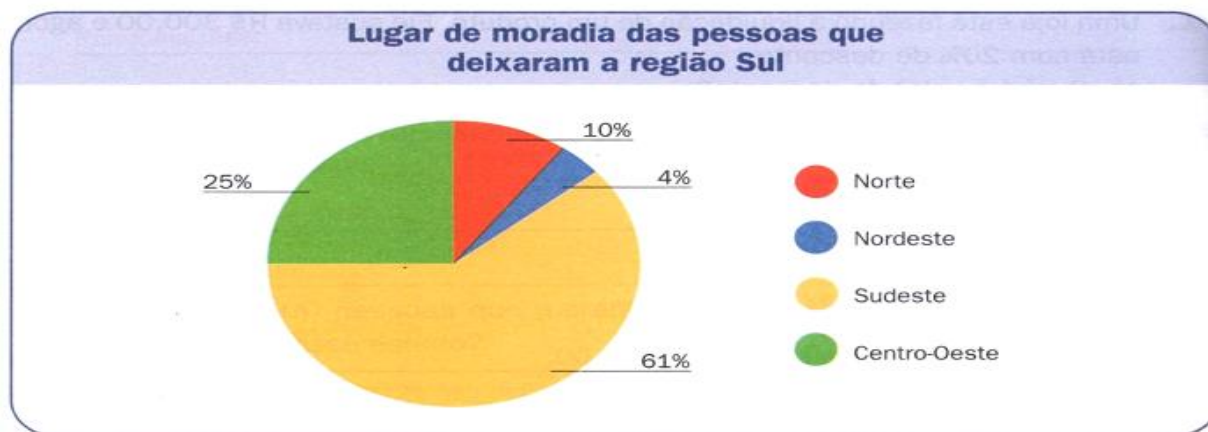
Escola Municipal Carlos Chagas E.I.E.F  
Localização: Rua Munhoz de Melo nº78 Centro  
CEP: 87840-000 Mirador-PR Fone (44) 3434- 1163  
E-mails- [escolacarloschagasmira@gmail.com](mailto:escolacarloschagasmira@gmail.com) ou [escola@mirador.pr.gov.br](mailto:escola@mirador.pr.gov.br)

Professora	Fabiana Teixeira
Turma	4º ano
Aluno <sup>a</sup>	

## MATEMÁTICA

### Interpretando gráficos

1º) O número de pessoas nascidas na região Sul do Brasil que moravam em outras regiões totalizava, em 2009, aproximadamente 2.516.000 habitantes. O gráfico a seguir mostra para quais regiões do país essa população se mudou.



Fonte: Pesquisa Nacional por amostra de Domicílio (PNAD), 2009.

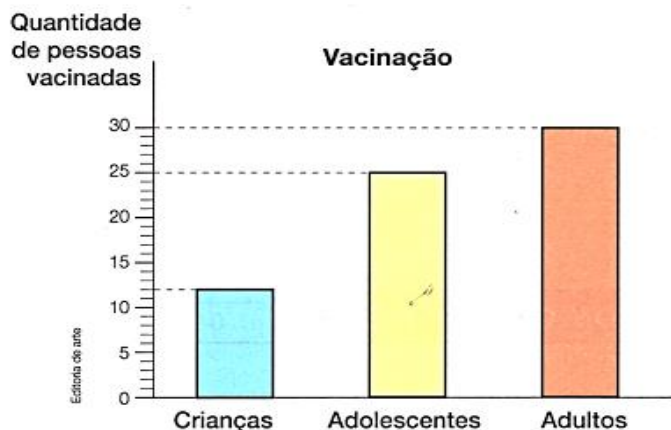
a) Para qual região a população da região Sul mais migrou?

.....

b) Qual a região com menor migração de sulistas?

.....

2º) A maneira mais eficaz para prevenir doenças é a vacina. Ao se vacinar, a pessoa fica imunizada. Por isso, é importante participar das campanhas de vacinação em todas as idades. Observe no gráfico quantas pessoas, entre crianças, adolescentes e adultos, foram vacinadas hoje no Posto de Saúde no bairro em que Sérgio mora.



Quantas crianças foram vacinadas?.....

b) Quantos foram os adolescentes vacinados?.....

c) Quantos adultos receberam vacina?.....



Escola Municipal Carlos Chagas E.I.E.F

Localização: Rua Munhoz de Melo nº78 Centro  
CEP: 87840-000 Mirador-PR Fone (44) 3434- 1163

E-mails- [escolacarloschagasmira@gmail.com](mailto:escolacarloschagasmira@gmail.com) ou [escola@mirador.pr.gov.br](mailto:escola@mirador.pr.gov.br)

<b>Professora</b>	<b>Fabiana Teixeira</b>
<b>Turma</b>	<b>4º ano</b>
<b>Aluno<sup>a</sup></b>	

1º) Dona Diva anotou o total de faltas de seus alunos em cada dia da semana passada e construiu o gráfico abaixo.



De acordo com o gráfico, responda:

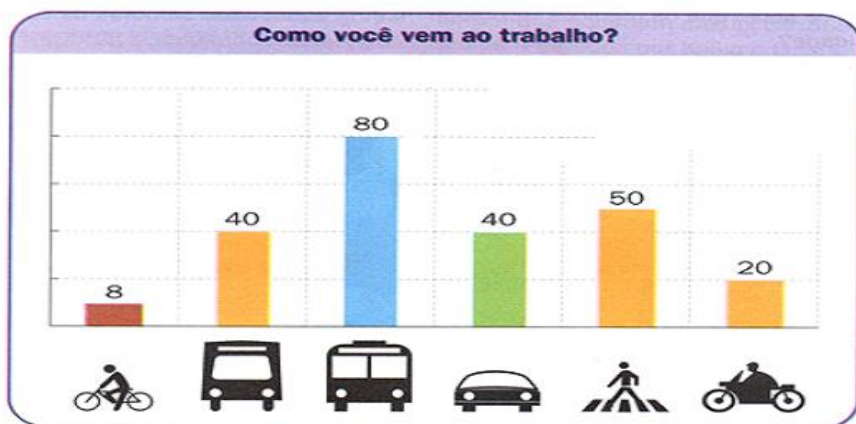
a) Qual foi o dia em que houve o maior número de faltas?.....

b) Quantos alunos faltaram na terça-feira?.....

2º) Renato possui uma loja que vende eletrodomésticos. Em certo mês, foram vendidos 8 refrigeradores, 10 fogões, 5 fornos elétricos e 14 liquidificadores. Assinale o gráfico que representa corretamente a quantidade de itens vendidos.



3º) Uma fábrica fez uma pesquisa para descobrir o meio de transporte utilizados pelos seus funcionários para ir ao trabalho. Observe o gráfico obtido:



Quantas pessoas vão ao trabalho de carro?.....

b) O que significa o número 50 que aparece no gráfico?

.....

.....



Escola Municipal Carlos Chagas E.I.E.F

Localização: Rua Munhoz de Melo nº78 Centro  
CEP: 87840-000 Mirador-PR Fone (44) 3434- 1163

E-mails- [escolacarloschagasmira@gmail.com](mailto:escolacarloschagasmira@gmail.com) ou [escola@mirador.pr.gov.br](mailto:escola@mirador.pr.gov.br)

<b>Professora</b>	<b>Fabiana Teixeira</b>
<b>Turma</b>	<b>4º ano</b>
<b>Aluno<sup>a</sup></b>	

## MATEMÁTICA

Efetuar adições, subtrações, multiplicações e divisões. utilizando as técnicas operatórias com números naturais.

1. Arme e efetue as adições abaixo.

a) $576 + 96 =$	b) $736 + 209 =$	c) $866 + 981 =$	d) $1.520 + 625 =$	e) $1.548 + 2.899 =$

2. Arme e efetue as subtrações a seguir.

a) $176 + 54 =$	b) $548 + 324 =$	c) $800 + 227 =$	d) $1.465 + 297 =$	e) $2.845 + 1.741 =$

3. Arme e efetue as multiplicações abaixo.

a) $2 \times 245 =$	b) $3 \times 153 =$	c) $4 \times 228 =$	d) $5 \times 5.541 =$	e) $6 \times 4.623 =$

4. Arme e efetue as divisões abaixo.

a) $246 \div 2 =$	b) $696 \div 3 =$	c) $844 \div 4 =$	d) $565 \div 5 =$	e) $690 \div 6 =$



Escola Municipal Carlos Chagas E.I.E.F

Localização: Rua Munhoz de Melo nº78 Centro  
CEP: 87840-000 Mirador-PR Fone (44) 3434- 1163

E-mails- [escolacarloschagasmira@gmail.com](mailto:escolacarloschagasmira@gmail.com) ou [escola@mirador.pr.gov.br](mailto:escola@mirador.pr.gov.br)

Professora	Fabiana Teixeira
Turma	4º ano
Aluno <sup>a</sup>	

## HISTÓRIA

### A Chegada dos Portugueses ao Brasil



A chegada dos Europeus ao Brasil ocorreu no período compreendido como “descobrimento do Brasil” **no ano de 1500**.

Por volta do ano de 1500, Portugal, um país da Europa, participava das grandes navegações. Essas navegações foram facilitadas pelo uso da bússola, do astrolábio e das caravelas, que eram movidas a vento. O rei de Portugal, D. Manuel, ordenou que uma esquadra viajasse para Calicute (uma cidade do estado de Kerala, na costa ocidental da Índia). **Afim de estabelecer o comércio com as Índias**. Essa quadra era composta de dez naus (navios de grande porte) e três caravelas e partiu em 9 de março sob o comando de Pedro Álvares Cabral.

**Pedro Álvares Cabral foi o comandante da primeira expedição portuguesa que chegou ao território que mais tarde receberia o nome de Brasil.** As caravelas lideradas por Cabral chegaram no dia 22 de abril de 1500. Pensando em nossos estudos, antes da chegada dos portugueses ao Brasil, podemos dizer que já existiam pessoas que habitavam este imenso território, que chamavam de índios.

Os lusos quando chegaram encontraram vários habitantes vivendo nas terras e fizeram estes povos aceitar seus costumes, jeito de viver, de falar e incorporar toda uma cultura europeia.

**Lusos: relativo ao Estado europeu Portugal. Que se refere a Portugal. Português, lusitano.**

Mesmo com a descoberta das terras brasileiras, Portugal continuava empenhado no comércio com as Índias, pois as especiarias que os portugueses encontravam lá eram de grande valia para sua comercialização na Europa. As especiarias comercializadas eram: cravo, pimenta, canela, noz moscada, gengibre, porcelanas orientais, seda, etc. Enquanto realizava



**Escola Municipal Carlos Chagas E.I.E.F**  
Localização: Rua Munhoz de Melo nº78 Centro  
CEP: 87840-000 Mirador-PR Fone (44) 3434- 1163  
E-mails- [escolacarloschagasmira@gmail.com](mailto:escolacarloschagasmira@gmail.com) ou [escola@mirador.pr.gov.br](mailto:escola@mirador.pr.gov.br)

<b>Professora</b>	<b>Fabiana Teixeira</b>
<b>Turma</b>	<b>4º ano</b>
<b>Aluno<sup>a</sup></b>	

### As caravelas utilizadas para as longas viagens



Video sobre o descobrimento do Brasil: <https://www.youtube.com/watch?v=70SpiXqFbAk>

### ATIVIDADES

**1. EM QUE ANO OCORREU A CHEGADA DOS PORTUGUESES NO BRASIL?**

( ) 2020                      ( ) 22                      ( ) 1500                      ( ) 1520

**2. QUEM COMANDOU A VIAGEM QUE CHEGARAM AS TERRAS DO BRASIL?**

( ) DOM PEDRO I                      ( ) PEDRO ÁLVARES CABRAL                      ( ) TIRADENTES

**3. A VIAGEM ERA COM DESTINO À QUAL PAIS?**

( ) BRASIL                      ( ) ÍNDIAS                      ( ) PORTUGAL

**4. QUEM ERA OS HABITANTES QUE MORAVAM NAS TERRAS DO BRASIL?**

( ) PORTUGUESES                      ( ) ÍNDIOS                      ( ) AFRICANOS



**Escola Municipal Carlos Chagas E.I.E.F**

Localização: Rua Munhoz de Melo nº78 Centro  
CEP: 87840-000 Mirador-PR Fone (44) 3434- 1163

E-mails- [escolacarloschagasmira@gmail.com](mailto:escolacarloschagasmira@gmail.com) ou [escola@mirador.pr.gov.br](mailto:escola@mirador.pr.gov.br)

<b>Professora</b>	<b>Fabiana Teixeira</b>
<b>Turma</b>	<b>4º ano</b>
<b>Aluno<sup>a</sup></b>	

## **GEOGRAFIA**

### **DISTINGUIR FUNÇÕES E PAPÉIS DOS ÓRGÃOS DO PODER PÚBLICO MUNICIPAL E CANAIS DE PARTICIPAÇÃO SOCIAL NA GESTÃO DO MUNICÍPIO, INCLUINDO A CÂMARA DE VEREADORES E CONSELHOS MUNICIPAIS.**

Quais os órgãos que compõem o município?

No caso do Brasil, o Município é composto, basicamente, pela Prefeitura e pela Câmara Municipal. A Prefeitura é o órgão onde se desempenha o Poder Executivo do Município; é comandada por um prefeito e dividida em secretarias de governo, por exemplo: Secretaria da Saúde, Secretaria da Educação, etc.

A Câmara Municipal (também chamada de Câmara dos Vereadores) é o órgão responsável pelo exercício do Poder Legislativo, no qual se reúnem os Vereadores, de acordo com a Lei Orgânica do Município, para promover a elaboração de leis e realizar o controle da Administração local, principalmente quanto aos atos e as contas do Poder Executivo Municipal. O prefeito exerce, portanto, o Poder Executivo no Município, e o vereador, o Poder Legislativo.

O que é o poder público municipal?

Poder público é o conjunto dos órgãos com autoridade para realizar os trabalhos do Estado, constituído de Poder Legislativo, Poder Executivo e Poder Judiciário. A expressão é utilizada também no plural (poderes públicos), também chamados de poderes políticos.

Quais as responsabilidades de uma prefeitura?

As contas da Prefeitura funcionam como as contas de um lar, existe o dinheiro arrecadado (que seria o salário recebido) e o dinheiro investido (no caso do lar, as compras de supermercado, roupas, material escolar, financiamento de carro ou casa, entre outros).

Quando acontece a eleição para prefeito no Brasil?

No Brasil, o prefeito é eleito a cada quatro anos, podendo ser reeleito mais uma vez em sequência ou por mais vezes em mandatos não consecutivos.

### **Atividades**

1) Marque um (x) na resposta correta. A prefeitura é liderada por quem?

( ) Pelo Presidente da República ( ) Pelo Vereador ( ) Pelo Prefeito ( ) Pelos cidadãos.

2) Quem é o atual prefeito do Município de Mirador?

3) Quando acontece as eleições?



Escola Municipal Carlos Chagas E.I.E.F  
Localização: Rua Munhoz de Melo nº78 Centro  
CEP: 87840-000 Mirador-PR Fone (44) 3434- 1163  
E-mails- [escolacarloschagasmira@gmail.com](mailto:escolacarloschagasmira@gmail.com) ou [escola@mirador.pr.gov.br](mailto:escola@mirador.pr.gov.br)

<b>Professora</b>	<b>Fabiana Teixeira</b>
<b>Turma</b>	<b>4º ano</b>
<b>Aluno<sup>a</sup></b>	

## LÍNGUA PORTUGUESA

1. Leia o texto e responda.

### ELA É SUPER

Conheça as incríveis habilidades da onça-pintada e saiba mais sobre esse felino.

Capaz de se disfarçar na mata, andar com leveza, escalar árvores altas e atravessar rios, a onça parece ter os poderes de invisibilidade de um guerreiro ninja.

Ela usa todas essas habilidades para caçar e se proteger. Costuma ser mais ativa quando o sol se põe e pode caçar à noite, pois enxerga bem no escuro e tem audição e olfato aguçados.

Como tem pernas curtas, ela não corre. Se esconde, segue a presa sem ser percebida e ataca saltando de um galho ou do meio da mata de repente, com uma mordida mais forte do que a de felinos maiores.

Revista Recreio, São Paulo: Abril, n.487, p. 20, 9 de jul. 2009. Fragmento.

1. O texto acima é:

- a) um poema      b) uma lenda      c) uma propaganda      d) um texto informativo

2. O pronome pessoal "**ELA**" expresso no título do texto refere-se a: \_\_\_\_\_.

3. De acordo com o texto, a onça-pintada usa suas habilidades para:

- a) aguçar o olfato.                      c) caçar e se proteger.  
d) ficar invisível.                      b) enxergar no escuro.

4. O significado da palavra "**presa**" expressa no texto refere-se:

- ( ) ao ser vivo que um animal caça para comer.  
( ) cada um dos dentes mais desenvolvidos de um animal.  
( ) unha curva e pontiaguda de ave de rapina: garra.

5. Na frase "... tem audição e olfato **aguçados**." A expressão sublinhada quer dizer:

- a) pouco apurada      b) bem desenvolvidos      c) muito lentos      d) De má qualidade



Escola Municipal Carlos Chagas E.I.E.F

Localização: Rua Munhoz de Melo nº78 Centro  
CEP: 87840-000 Mirador-PR Fone (44) 3434- 1163

E-mails- [escolacarloschagasmira@gmail.com](mailto:escolacarloschagasmira@gmail.com) ou [escola@mirador.pr.gov.br](mailto:escola@mirador.pr.gov.br)

<b>Professora</b>	<b>Fabiana Teixeira</b>
<b>Turma</b>	<b>4º ano</b>
<b>Aluno<sup>a</sup></b>	

## LÍNGUA PORTUGUESA

1. Leia o texto e responda.

### A causa da chuva – Millôr Fernandes

Não chovia há muitos e muitos meses, de modo que os animais ficaram inquietos. Uns diziam que ia chover logo, e outros diziam que ainda ia demorar. Mas não chegavam a uma conclusão.

- Chove só quando a água cai do teto do meu galinheiro – esclareceu a galinha.

- Ora, que bobagem! – disse o sapo de dentro da lagoa. Chove quando a água da lagoa começa a borbulhar suas gotinhas.

- Como assim? – disse a lebre – está visto que só chove quando as folhas das árvores começam a deixar cair as gotas d’ água que tem lá dentro.

Nesse momento começava a chover.

- Viram? – gritou a galinha. O teto do meu galinheiro está pingando. Isso é chuva?

- Ora, não vê que a chuva é a água da lagoa borbulhando? – disse o sapo.

- Mas, como assim? - tornava a lebre. Parecem cegos? Não veem que a água cai das folhas das árvores?

**“Fábulas fabulosas”**

1. Qual a causa principal da inquietação dos animais?

( ) A chuva que caía.

( ) A falta de chuva.

( ) As discussões entre os animais.

( ) A conclusão a que chegaram.

2. A resposta ao item anterior é dada pela seguinte frase:

( ) “Uns diziam que ia chover”.

( ) “Outros diziam que ainda ia demorar”.

( ) “mas não chegavam a uma conclusão”.

( ) “Não chovia a muitos e muitos meses”.

3. Quem disse esta frase: Chove quando a água da lagoa começa a borbulhar suas gotinhas?

a) Millôr Fernandes.

b) A lebre.

c) A galinha.

d) O sapo.

4. Quem disse esta frase: Chove quando a água da lagoa começa a borbulhar suas gotinhas?

a) Millôr Fernandes.

b) A lebre.

c) A galinha.

d) O sapo.





**Escola Municipal Carlos Chagas E.I.E.F**  
Localização: Rua Munhoz de Melo nº78 Centro  
CEP: 87840-000 Mirador-PR Fone (44) 3434- 1163  
E-mails- [escolacarloschagasmira@gmail.com](mailto:escolacarloschagasmira@gmail.com) ou [escola@mirador.pr.gov.br](mailto:escola@mirador.pr.gov.br)

<b>Professora</b>	<b>Fabiana Teixeira</b>
<b>Turma</b>	<b>4º ano</b>
<b>Aluno<sup>a</sup></b>	

## **LÍNGUA PORTUGUESA**

( Ler em voz alta artigo de opinião)

### **A GUERRA CONTRA OS MOSQUITOS**

#### **A ameaça da dengue**

O perigo não mora apenas em áreas desmatadas. A dengue, doença infecciosa febril, causada por um vírus, é transmitida pelo mosquito *Aedes aegypti*, que parecia ter sido erradicado do Brasil e de outros países da América Latina. A urbanização acelerada e a lentidão do governo em reestabelecer medidas de vigilância epidemiológica acabaram facilitando a volta desses transmissores. Isso foi possível porque eles encontraram as condições ideais para se reproduzir em pneus e ferros-velhos, mas também em depósitos de lixo e em locais de água limpa e parada, como vasos de plantas e cisternas, comuns nas grandes cidades.

Com maior quantidade de mosquitos transmissores e de criadouros onde eles podem colocar os ovos, cresceu o número de pessoas expostas à infecção. Atualmente, a dengue é a doença transmissível mais preocupante no Sudeste, tendo sido registrados quase 250 mil casos no Estado do Rio de Janeiro, com 174 mortes durante o ano de 2008 e a ameaça de números igualmente alarmantes para 2009. Preocupa também o fato de que o vírus da dengue se divide em quatro tipos diferentes, que podem causar tanto a manifestação clássica da doença quanto a hemorrágica, muito mais grave. Após a introdução do tipo 2 na região do Rio de Janeiro em 1991, foi observado que os sintomas dos doentes se agravaram e, em 2001, com a epidemia do vírus tipo 3, a doença ficou mais séria ainda. Sete anos depois, com o retorno do tipo 2, surgiram os casos letais para quem já tinha sido infectado anteriormente.

Na realidade, o surgimento da dengue é resultado da expansão do homem para áreas de floresta há muitos séculos, provavelmente na África. “No meio silvestre, o vírus era mantido sob controle, sendo transmitido de forma inofensiva por insetos para macacos que não desenvolvem a doença”, explica Anthony Érico Guimarães, pesquisador da Fiocruz. Esses insetos acompanharam o homem em suas migrações e, provavelmente, chegaram ao Brasil com os navios negreiros há mais de 100 anos. Também por navios, foram levados para o Sudeste Asiático, sul do Pacífico, ilhas do Caribe e outros países da América Latina.

**Sérgio Adeodato.** *Revista Horizonte Geográfico, São Paulo: Ed. Horizonte, n. 121, 2009*



Escola Municipal Carlos Chagas E.I.E.F

Localização: Rua Munhoz de Melo nº78 Centro

CEP: 87840-000 Mirador-PR Fone (44) 3434- 1163

E-mails- [escolacarloschagasmira@gmail.com](mailto:escolacarloschagasmira@gmail.com) ou [escola@mirador.pr.gov.br](mailto:escola@mirador.pr.gov.br)

<b>Professora</b>	<b>Fabiana Teixeira</b>
<b>Turma</b>	<b>4º ano</b>
<b>Aluno<sup>a</sup></b>	

## Estudando o texto



- De que material impresso esse texto foi retirado? \_\_\_\_\_
- Segundo o texto o que é dengue? \_\_\_\_\_  
\_\_\_\_\_  
\_\_\_\_\_
- De acordo com o texto, “o mosquito *Aedes aegypti* parecia ter sido erradicado do Brasil e de outros países da América Latina”, entretanto, algumas condições acabaram facilitando a volta desses transmissores. Que condições foram essas?  
  
 o aumento exagerado do aumento da poluição do ar, da água e do solo.  
 a ingestão de alimentos contaminados com grande quantidade de agrotóxicos.  
 a urbanização acelerada e a lentidão das medidas de vigilância epidemiológica.  
 a utilização de água contaminada por esgotos para irrigar as plantações.
- Em que locais o *Aedes aegypti* encontra as condições ideais para se reproduzir?  
\_\_\_\_\_  
\_\_\_\_\_  
\_\_\_\_\_
- A dengue continua sendo um problema de saúde pública. Assim, conhecendo-se o causador da dengue e seu vetor, podemos usar como medidas de prevenção:  
  
a) vacinação a população contra a bactéria causadora dessa doença.  
b) eliminação dos insetos vetores da bactéria causadora dessa doença.  
c) eliminação dos insetos vetores do vírus causador dessa doença.  
d) distribuição de remédios contra a bactéria causadora dessa doença.
- Segundo o texto existem quantos tipos de vírus da dengue?  
  
 1 – um       3 – três       4 – quatro       5 – cinco       7 – sete
- Qual o nome do mosquito que também pode transmitir a dengue?  
  
a) *Aedes Egito*      b) *Aedes aegypti*      c) *Ades aegypti*      d) *Adson agito*
- Qual o continente de origem do mosquito *Aedes aegypti*?  
  
 América       Ásia       Europa       África       Oceania