



Escola Municipal Carlos Chagas E.I.E.F
Localização: Rua Munhoz de Melo nº78 Centro
CEP: 87840-000 Mirador-PR Fone (44) 3434- 1163
E-mails- escolacarloschagasmira@gmail.com ou escola@mirador.pr.gov.br

Professora Fabiana Teixeira

Turma 4º ano

Aluno^a

LÍNGUA PORTUGUESA



OS PRONOMES SÃO:

Pronomes são palavras que servem para substituir um nome:



Exemplo: **Maria** foi ao parque cedo. **Ela** estava bem disposta.

PRONOME PESSOAL DO CASO RETO:

 Singular	1.ª Pessoa	eu
	2.º Pessoa	tu
	3.ª Pessoa	ele , ela
 Plural	1.ª Pessoa	nós
	2.º Pessoa	vós
	3.ª Pessoa	eles, elas

Pronome pessoal do caso reto

1. Substitua os nomes em destaque por pronomes.

a) **Eu e Valdir** fomos ao clube.

b) **O avião** subiu muito rápido.

c) **Os pássaros** eram coloridos e raros.

d) **A menina** é muito delicada e charmosa.

e) **As crianças** passearam de trem.

3. Complete as frases com um pronome pessoal.

a) _____ gosto de macarrão ao alho e óleo.

b) _____ foram ao zoológico fazer piquenique.

c) _____ vamos viajar nas férias de julho.

LEIA A TIRINHA ABAIXO E CIRCULE TODOS PRONOMES QUE ENCONTRAR





Escola Municipal Carlos Chagas E.I.E.F
Localização: Rua Munhoz de Melo nº78 Centro
CEP: 87840-000 Mirador-PR Fone (44) 3434- 1163
E-mails- escolacarloschagasmira@gmail.com ou escola@mirador.pr.gov.br

Professora Fabiana Teixeira

Turma 4º ano

Aluno^a

MATEMÁTICA

Em cada operação arme o cálculo no quadro abaixo e pinte os resultados;

a) $7\ 145 + 2\ 329$

Resultado :

9 100	9 474	10 130
-------	-------	--------

b) 350×9

Resultado:

4 020	2 700	3 150
-------	-------	-------

c) $8\ 953 - 1\ 941$

Resultado :

7 012	6 013	8 000
-------	-------	-------

d) $1\ 415 - 890$

Resultado:

1 125	215	525
-------	-----	-----

e) $2\ 529 + 2\ 630$

Resultado:

5 159	4 929	6 059
-------	-------	-------

a)	b)	c)
d)	e)	



Escola Municipal Carlos Chagas E.I.E.F
Localização: Rua Munhoz de Melo nº78 Centro
CEP: 87840-000 Mirador-PR Fone (44) 3434- 1163
E-mails- escolacarloschagasmira@gmail.com ou escola@mirador.pr.gov.br

Professora Fabiana Teixeira

Turma 4º ano

Aluno^a

CIÊNCIAS

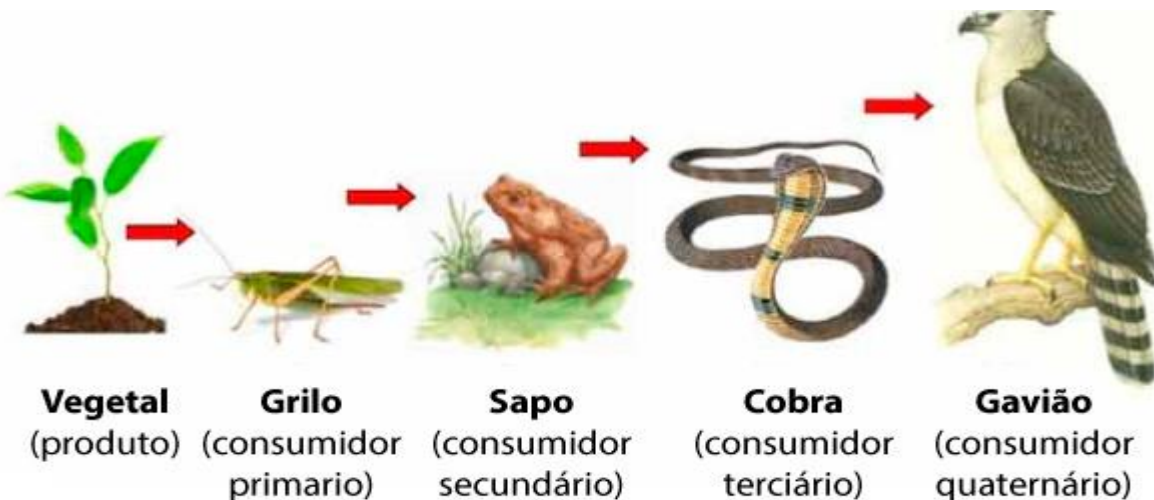
O que é Cadeia Alimentar?

Na cadeia alimentar os seres se relacionam de acordo com o ecossistema em que vivem e o seu tipo de alimentação. A cadeia alimentar é constituída por três fases, sendo elas: **produtores, consumidores e decompositores.**

Todas as fases **possuem relação entre si**, sempre transferindo matéria e energia, ou seja, se houver qualquer mudança em uma das fases irá afetar toda a cadeia.

A cadeia alimentar é exatamente a **sequência em que um ser vivo serve de alimento para outro ser**, como por exemplo quando uma planta é comida pelo grilo, e o grilo serve de alimento para o sapo, e então ele alimenta a cobra, que assim serve de comida pelo gavião, que no final é decomposta por fungos e bactérias.

Importante ressaltar que a união de várias cadeias alimentares recebe o nome de teia alimentar.



1) Complete:

- A cadeia alimentar é constituída por três fases: _____, _____, _____.
- Essas fases possuem relação entre si, sempre transferindo matéria e _____.
- Caso haja alguma mudança nessas fases toda _____ irá ser afetada.
- A cadeia alimentar é uma sequência em que um ser vivo serve de _____ para outro.



Escola Municipal Carlos Chagas E.I.E.F
Localização: Rua Munhoz de Melo nº78 Centro
CEP: 87840-000 Mirador-PR Fone (44) 3434- 1163
E-mails- escolacarloschagasmira@gmail.com ou escola@mirador.pr.gov.br

Professora	Fabiana Teixeira
Turma	4º ano
Aluno ^a	

LÍNGUA PORTUGUESA

RECORTE OS PRONOMES PESSOAIS E COLE NAS FRASES CORRESPONDENTES.

sei andar de bicicleta.

não vieste estudar com a gente ontem.


adora comer bolo de chocolate.

vamos fazer compras hoje.

gostais de filme de terror.

construíram um lindo castelo de areia.

EU	TU	ELE
NÓS	VÓS	ELES



© SIANETEDS



Escola Municipal Carlos Chagas E.I.E.F
Localização: Rua Munhoz de Melo nº78 Centro
CEP: 87840-000 Mirador-PR Fone (44) 3434- 1163
E-mails- escolacarloschagasmira@gmail.com ou escola@mirador.pr.gov.br

Professora Fabiana Teixeira

Turma 4º ano

Aluno^a

MATEMÁTICA

Sistema de numeração decimal

1. Complete as tabelas.

a)

Antecessor	Número dado	Sucessor
	4 709	
	3 099	
	2 010	
	4 789	
	3 999	

b)

Antecessor	Número dado	Sucessor
	3 704	
	2 497	
	4 879	
	4 609	
	3 001	

c)

Antecessor	Número dado	Sucessor
	4 907	
	8 030	
	5 099	
	7 579	
	9 999	

d)

Antecessor	Número dado	Sucessor
	4 697	
	5 407	
	7 469	
	5 709	
	9 001	

2. Observe e continue:

4 674 — 4 676 — 4 678 — — — — — — — — — →

6 004 — 6 003 — 6 002 — — — — — — — — →

— — — — 6 770 — 6 780 — 6 790 — — — →

— — — — 7 850 — 7 900 — 7 950 — — — →