



Escola Municipal Carlos Chagas E.I.E.F
Localização: Rua Munhoz de Melo nº78 Centro
CEP: 87840-000 Mirador-PR Fone (44) 3434- 1163
E-mails- escolacarloschagasmira@gmail.com ou escola@mirador.pr.gov.br

Professora	Fabiana Teixeira
Turma	4º ano
Aluno ^a	


MATEMÁTICA

Faça a leitura da explicação sobre ÂNGULOS

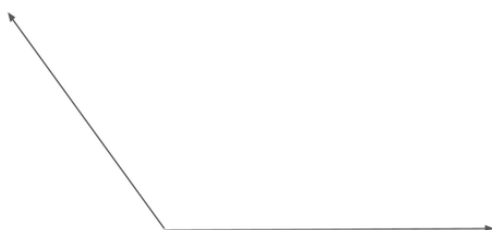
É a medida da abertura entre dois segmentos de reta.

O ângulo pode ser:

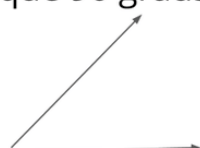
- **Reto:** Quando a abertura entre os segmentos mede exatamente 90 graus.



- **Obtuso:** Quando a abertura entre os segmentos mede mais que 90 graus.



- **Agudo:** Quando a abertura entre os segmentos mede menos que 90 graus.



Podemos perceber o ângulo:

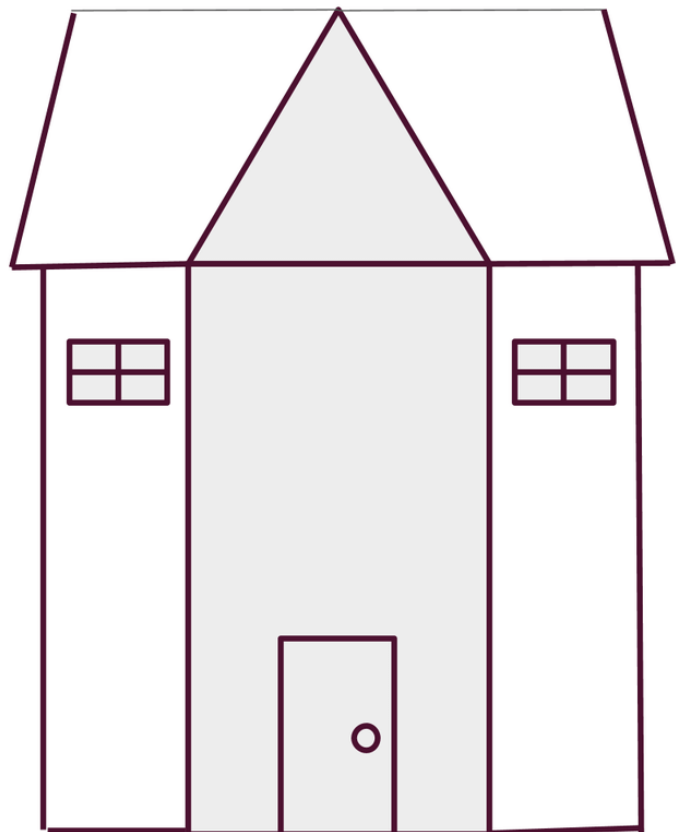

- **Agudo:** no telhado das casas, em algumas das horas representadas em relógios de ponteiros, entre outros.
- **Reto:** em algumas horas, nas janelas, nos cantos das paredes, nos cantos do nosso caderno, entre outros.
- **Obtuso:** em algumas horas, na abertura da tesoura, entre outros.

Vimos que os ângulos estão por toda parte e que são formados por dois segmentos de reta.



Observe o desenho ao lado e identifique nele:

- Ângulos retos, circulando de azul;
- Ângulos agudos, circulando de vermelho;
- Ângulos obtusos, circulando de amarelo.





Escola Municipal Carlos Chagas E.I.E.F
Localização: Rua Munhoz de Melo nº78 Centro
CEP: 87840-000 Mirador-PR Fone (44) 3434- 1163
E-mails- escolacarloschagasmira@gmail.com ou escola@mirador.pr.gov.br

Professora	Fabiana Teixeira
Turma	4º ano
Aluno ^a	

HISTÓRIA

Os meios de comunicação

Leia o texto no livro de história pág.148 e responda as questões abaixo:

1. Qual são os meios de comunicação que sua família mais utiliza?

2. Até trinta anos atrás, quais eram as principais formas de se comunicar?

3. Complete

a) Para ser enviada, toda carta precisa ter um_____.

b) Os selos postais foram criados na _____.

c) _____ foi o segundo país a usar selos.

d) Os selos brasileiros representam a riqueza da_____, o folclore, aspectos da _____e outros temas que mostram as_____.

4. Observe as imagens dos selos e diga em que ano foi criado o selo de luta contra discriminação racial?_____.



Escola Municipal Carlos Chagas E.I.E.F
Localização: Rua Munhoz de Melo nº78 Centro
CEP: 87840-000 Mirador-PR Fone (44) 3434- 1163
E-mails- escolacarloschagasmira@gmail.com ou escola@mirador.pr.gov.br

Prof. **Fabiana Teixeira**

Turma **4º ano**

Aluno^a

LÍNGUA PORTUGUESA

Leia o texto abaixo.

O mau pressentimento

Um grande empresário precisava ir para São Paulo. Chegou para seu guarda-noturno e pediu:

- Por favor, preciso acordar amanhã às 6:00 horas.

Exatamente às 6:00 da manhã, o guarda-noturno o acordou dizendo:

- Patrão, estou com um mau pressentimento, sonhei esta noite que o senhor terá um acidente de avião e morrerá.

O empresário não deu ouvidos e seguiu seu caminho. Sem incidentes chegou a São Paulo e por telefone mandou demitir o guarda-noturno.

Por quê?

Guardas-noturnos não devem dormir em serviço.

www.saladeatividades.com.br

O guarda-noturno foi demitido, porque:

- a não chamou o empresário na hora certa.
- b dormiu durante o serviço.
- c alertou o empresário sobre o acidente.
- d estava errado sobre o acidente.

Marque a alternativa onde todos os verbos estão no pretérito (passado);

a () precisava; chegou; mando.

b () preciso; chega; mando.

c () precisava; chegou; mandou.

Reescreva a frase passando o verbo para o presente;

a. Um grande empresário precisava ir para São Paulo.

b. Chegou para seu guarda-noturno e pediu.



Escola Municipal Carlos Chagas E.I.E.F
Localização: Rua Munhoz de Melo nº78 Centro
CEP: 87840-000 Mirador-PR Fone (44) 3434- 1163
E-mails- escolacarloschagasmira@gmail.com ou escola@mirador.pr.gov.br

Professora	Fabiana Teixeira
Turma	4º ano
Aluno ^a	

GEOGRAFIA

Existe ao seu redor uma grande variedade de objetos confeccionados com diversos materiais.

Pegue qualquer objeto a seu redor, observe-o, e complete o quadro abaixo;

Nome do objeto	
Que forma ele tem?	
Qual é o seu preço?	
Onde encontra esse objeto para comprar?	
Qual é a matéria-prima usada nele?	
Qual é a sua utilidade?	
O material desse objeto pode ser reciclado?	

Ilustre seu objeto escolhido.

--



Professora

Fabiana Teixeira

Turma

4º ano

Aluno^a

LÍNGUA PORTUGUESA

o Uso do Am e ão

AM → Passado

ÃO → Futuro



Eles já jogaram am bola

Eles ainda jogarão ão bola

Quando a palavra indica passado, termina em AM.

Quando a palavra indica futuro, termina em ão.

Eles \leftarrow pularam ontem.
 \leftarrow já comeram esta manhã.

Eles \leftarrow sairão amanhã.
 \leftarrow chegarão depois de você.

- Passe os verbos do passado para o futuro.

- Eles voltaram ontem.

Eles _____ amanhã.

- Vocês andaram demais.

Vocês _____ demais.

- Elas correram na pista.

Elas _____ na pista.

- Elas bateram na porta.


Elas _____ na porta.

- Vocês se reuniram ontem.

Vocês se _____ amanhã.

- Elas venceram a primeira rodada.

Elas _____ a primeira rodada.





Escola Municipal Carlos Chagas E.I.E.F
Localização: Rua Munhoz de Melo nº78 Centro
CEP: 87840-000 Mirador-PR Fone (44) 3434- 1163
E-mails- escolacarloschagasmira@gmail.com ou escola@mirador.pr.gov.br

Professora Fabiana Teixeira

Turma 4º ano

Aluno^a

MATEMÁTICA

De acordo com o que aprendeu sobre ângulos, agora faça o exercício abaixo




Desenhe nos geoplanos abaixo, os ângulos:



RETO

AGUDO

OBTUSO





Escola Municipal Carlos Chagas E.I.E.F
Localização: Rua Munhoz de Melo nº78 Centro
CEP: 87840-000 Mirador-PR Fone (44) 3434- 1163
E-mails- escolacarloschagasmira@gmail.com ou escola@mirador.pr.gov.br

Professora Fabiana Teixeira

Turma 4º ano

Aluno^a


Ciências




Cadeia Alimentar



Escreva em seu caderno o texto abaixo substituindo as figuras pelas palavras (mande foto do texto para professora), depois faça a leitura para um adulto.




Todo ser vivo precisa de  para sobreviver.

Os  produzem o próprio alimento por meio da fotossíntese.

Os  se alimentam de  ou de outros .

Todos os  cumprem o seu papel na . Alguns produzem, outros consomem e outros decompõem.

Não havendo rompimento nessa  tudo permanece em perfeito equilíbrio.





Escola Municipal Carlos Chagas E.I.E.F
Localização: Rua Munhoz de Melo nº78 Centro
CEP: 87840-000 Mirador-PR Fone (44) 3434- 1163
E-mails- escolacarloschagasmira@gmail.com ou escola@mirador.pr.gov.br

Professora	Fabiana Teixeira
Turma	4º ano
Aluno ^a	

LÍNGUA PORTUGUESA

Tempos Verbais

Leia o trecho do poema:

*O vento soprou de leve.
Balançou as flores para lá e para cá.
O vento soprou o frio no rosto dos meninos.*

Mary França. O vento. São Paulo, Ática, 1992.

Veja agora:

*O vento sopra de leve.
Balança as flores para lá e pra cá.
O vento sopra o frio no rosto dos meninos.*

- O primeiro trecho indica fatos que já aconteceram, indicam fatos no passado.
- O segundo trecho indica fatos que acontecem no momento em que se fala, isto é, presente.

Observe:

*O vento soprará de leve.
Balançará as flores para lá e pra cá.
O vento soprará o frio no rosto dos meninos.*

- Este trecho indica fatos que ainda vão acontecer no futuro.

1. Identifique e escreva nos trechos a seguir se estão no presente, no passado ou no futuro.

a) Bateu portas e janelas com força.
O vento soprou...soprou.

b) Seca toda a roupa do varal
Joga no chão todas as folhas amarelas.

c) E o vento levará pro céu.
Meu aviãozinho de papel.

2. Complete as frases, com o verbo (soprar) em destaque no exemplo, de forma que indiquem fatos passados:

Ex: O vento **soprou** de leve.

- a) Os ventos _____ forte.
b) Eu _____ a poeira do livro.
c) A criança _____ a vela do bolo.

3. Completando as frases com o verbo (jogar) em destaque no exemplo, de forma que indiquem tempo presente.

Ex: O vento **joga** no chão as folhas secas.

- a) Os alunos _____ a sujeira no lixo.
b) Eu e meus amigos _____ futebol.
c) Eu _____ uma partida de dominó com minha amiga.



Escola Municipal Carlos Chagas E.I.E.F
Localização: Rua Munhoz de Melo nº78 Centro
CEP: 87840-000 Mirador-PR Fone (44) 3434- 1163
E-mails- escolacarloschagasmira@gmail.com ou escola@mirador.pr.gov.br


Professora Fabiana Teixeira

Turma 4º ano

Aluno^a

MATEMÁTICA

Vamos praticar as divisões:



$2 \overline{) 2}$

$4 \overline{) 2}$

$6 \overline{) 2}$

$8 \overline{) 2}$

$22 \overline{) 2}$

$42 \overline{) 2}$

$26 \overline{) 2}$

$82 \overline{) 2}$

$25 \overline{) 2}$

$47 \overline{) 2}$

$60 \overline{) 2}$

$83 \overline{) 2}$

$10 \overline{) 2}$

$62 \overline{) 2}$

$84 \overline{) 2}$

$46 \overline{) 2}$

$70 \overline{) 2}$

$92 \overline{) 2}$

$51 \overline{) 2}$

$31 \overline{) 2}$