




Professora Fabiana Teixeira

Turma 4º ano

Aluno<sup>a</sup>

## MATEMÁTICA

LEIA COM ATENÇÃO AS SITUAÇÕES PARA DESCOBRIR QUAIS OPERAÇÕES TERÁ QUE FAZER:



1. CARLOS TEM 12 FIGURINHAS REPETIDAS EM SUA COLEÇÃO. ELE RESOLVEU **DIVIDIR** IGUALMENTE COM SEUS 3 AMIGOS. QUANTAS FIGURINHAS CADA UM GANHOU?

2. CARLA TINHA R\$ 532 QUE **SOBRARAM** DE SEU SALÁRIO, ELA GASTOU R\$ 332 PAGANDO AS CONTAS. COM QUANTO DINHEIRO ELA FICOU AGORA?

3. EM UMA CAIXA CABEM 50 MARACUJÁS, SEU JOAQUIM COMPROU 2 CAIXAS. -QUANTOS MARACUJÁS ELE **COMPROU**?

4. EM UMA PAPELARIA EXISTEM 758 CANETAS, NESTA SEMANA FORAM **VENDIDAS** 394. QUANTAS CANETAS A PAPELARIA AINDA TEM A VENDA?

5. EM UMA ESCOLA ESTUDAM 253 ALUNOS NO PERÍODO DA MANHÃ, 111 NO PERÍODO DA TARDE. QUANTOS ALUNOS ESTUDAM AO TODO NESTA ESCOLA?

C	D	U

D	U

C	D	U

C	D	U



**Escola Municipal Carlos Chagas E.I.E.F**  
Localização: Rua Munhoz de Melo nº78 Centro  
CEP: 87840-000 Mirador-PR Fone (44) 3434- 1163  
E-mails- [escolacarloschagasmira@gmail.com](mailto:escolacarloschagasmira@gmail.com) ou [escola@mirador.pr.gov.br](mailto:escola@mirador.pr.gov.br)

<b>Professora</b>	<b>Fabiana Teixeira</b>
<b>Turma</b>	<b>4º ano</b>
<b>Aluno<sup>a</sup></b>	

## **HISTÓRIA**

### **Os meios de comunicação**

Leia o texto no livro de história pág.147 e responda as questões abaixo:

**1. Qual era o meio de comunicação mais usado no passado?**

---

**2. E o mais usados atualmente?**

---

**3. Escreva (v) para verdadeiro e ( F) para falso:**

- ( ) Os meios de comunicação servem para transportar pessoas e objetos de um lugar para o outro.
- ( ) O telefone e o rádio já existem há mais de um século.
- ( ) Atualmente o meio de comunicação mais utilizado é a carta.
- ( ) Os Portugueses escreveram uma carta ao rei de Portugal.
- ( ) A carta funciona igual a internet, chaga no destinatário assim que é enviada.



Escola Municipal Carlos Chagas E.I.E.F  
Localização: Rua Munhoz de Melo nº78 Centro  
CEP: 87840-000 Mirador-PR Fone (44) 3434- 1163  
E-mails- [escolacarloschagasmira@gmail.com](mailto:escolacarloschagasmira@gmail.com) ou [escola@mirador.pr.gov.br](mailto:escola@mirador.pr.gov.br)

Professora	Fabiana Teixeira
Turma	4º ano
Aluno <sup>a</sup>	

## LÍNGUA PORTUGUESA

FAÇA UMA LEITURA COM FLUÊNCIA E DANDO ENTONAÇÃO EM CADA PONTUAÇÃO.

# A VIDRAÇA

- Oi, dona Laura.
- Oi, Zezinho.
- Dona Laura, eu preciso de um favor.
- Pois não.
- Sabe o que é? Preciso entrar em sua casa. Quer dizer, no seu quintal. É para apanhar a minha bola que caiu lá.
- Ah! Foi?
- Foi. E aconteceu um pequeno acidente.
- Acidente?
- Ao cair, sem querer, minha bola acertou sua vidraça dos fundos, dona Laura. E quebrou.
- Minha vidraça, Zezinho?
- Mas pode ter certeza de que foi sem querer. Minha bola não costuma fazer essas coisas.
- Sem querer, não foi?
- Sei como a senhora deve estar se sentindo, dona Laura. Posso pegar minha bola?
- Não. Você só pega a bola depois que seus pais pagarem a minha vidraça.
- Não precisa envolver os meus pais nessa história, dona Laura. Eu mesmo vou pagar a vidraça.
- Você?
- Vou. Mas antes preciso pegar a bola.
- De jeito nenhum. A bola não sai daqui, enquanto você não pagar a vidraça.
- Tem que sair, dona Laura.
- Não sai.
- Então não posso pagar a vidraça.
- Essa eu não entendi, Zezinho.
- Para pagar a vidraça, dona Laura, vou ter que vender a minha bola.

PIMENTEL, Luis. *A gente precisa conversar*. Belo Horizonte: Lê, 1995.

**1) APÓS A LEITURA DO TEXTO PINTE AS PONTUAÇÕES CONFORME A LEGENDA ABAIXO:**

- Vermelho (ponto de interrogação);
- Azul (ponto final);
- Amarelo (travessão);
- Laranja (vírgula).

**2) QUAIS AS FUNÇÕES DAS PONTUAÇÕES:**

Ponto de interrogação \_\_\_\_\_

Ponto final \_\_\_\_\_

Travessão \_\_\_\_\_

Vírgula \_\_\_\_\_

Leia e complete as frases:

a) Que lindo quadro!

Em frases exclamativas, usamos o ponto de \_\_\_\_\_

b) Quem quer ser meu colega?

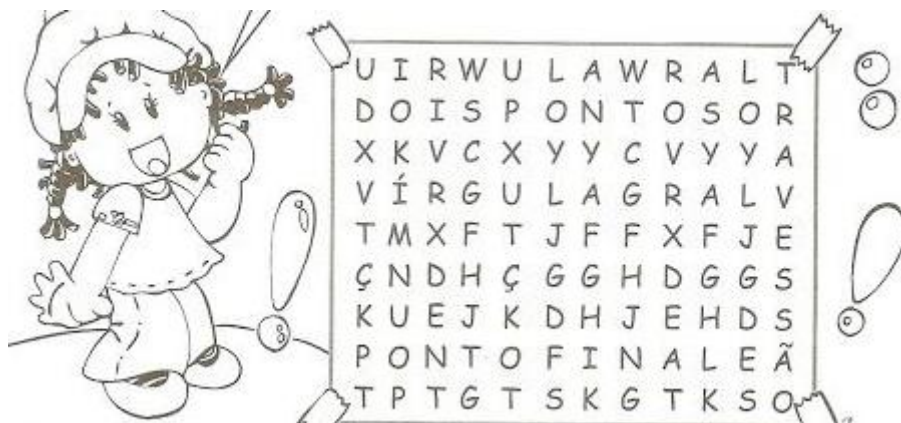
Em frases interrogativas, usamos o ponto de \_\_\_\_\_

c) Clara é minha melhor amiga.

Em final de frases afirmativas usamos e ponto \_\_\_\_\_



ENCONTRE NO DIAGRAMA OS NOMES DAS PONTUAÇÕES \_\_ , : .





Escola Municipal Carlos Chagas E.I.E.F  
 Localização: Rua Munhoz de Melo nº78 Centro  
 CEP: 87840-000 Mirador-PR Fone (44) 3434- 1163  
 E-mails- [escolacarloschagasmira@gmail.com](mailto:escolacarloschagasmira@gmail.com) ou [escola@mirador.pr.gov.br](mailto:escola@mirador.pr.gov.br)

<b>Professora</b>	<b>Fabiana Teixeira</b>
<b>Turma</b>	<b>4º ano</b>
<b>Aluno<sup>a</sup></b>	

## GEOGRAFIA





### Matéria-prima e produtos industrializados

- Matéria-prima é o produto natural usado para a fabricação dos outros produtos, como o algodão (utilizado na fabricação de roupas)
- Produto industrializados é o produto resultante da transformação da matéria-prima como tecidos, fios e roupas (que vieram do algodão)

1. Enumere a segunda coluna de acordo com a primeira:

- |  |                                 |                                   |
|--|---------------------------------|-----------------------------------|
| <input type="checkbox"/> matéria-prima           | <input type="checkbox"/> areia  | <input type="checkbox"/> leite    |
|  | <input type="checkbox"/> sapato | <input type="checkbox"/> petróleo |
| <input type="checkbox"/> produto industrializado | <input type="checkbox"/> bolsa  | <input type="checkbox"/> couro    |
|  | <input type="checkbox"/> pão    | <input type="checkbox"/> algodão  |

2 – A maioria dos produtos que consumimos em nossas casas é de origem animal. Quais produtos que consumimos através de cada matéria- prima citada abaixo?

			
_____	_____	_____	_____
_____	_____	_____	_____
_____	_____	_____	_____

3 – Quais produtos de nossa cidade merecem destaque por serem matéria-prima ou produtos importantes para mercado nacional e até mesmo internacional?

- 1 - \_\_\_\_\_
- 2 - \_\_\_\_\_
- 3 - \_\_\_\_\_
- 4 - \_\_\_\_\_

Muitos produtos do setor primário são matérias-primas levadas para indústrias, a fim de serem transformadas em produtos industrializados.





Escola Municipal Carlos Chagas E.I.E.F  
Localização: Rua Munhoz de Melo nº78 Centro  
CEP: 87840-000 Mirador-PR Fone (44) 3434- 1163  
E-mails- [escolacarloschagasmira@gmail.com](mailto:escolacarloschagasmira@gmail.com) ou [escola@mirador.pr.gov.br](mailto:escola@mirador.pr.gov.br)

Professora Fabiana Teixeira

Turma 4º ano

Aluno<sup>a</sup>

## MATEMÁTICA

### O dinheiro brasileiro

Cada país tem a sua moeda.

No Brasil, o dinheiro chama-se **Real**.

O real existe em forma de cédulas e moedas e seu símbolo é **R\$N**.


Um real divide-se em 100 partes iguais que chamamos de **centavos**.

1 real é igual a 100 centavos.

Para representar quantias usamos o símbolo **R\$** seguido do valor. Para separar os reais dos centavos usamos a vírgula.

Exemplo:

Trinta e cinco reais e vinte e sete centavos = R\$35,27.



Faça a contagem e escreva os valores. **EXEMPLO:**



Quantos reais? R\$ 3,25

**AGORA É SUA VEZ!**



Quantos reais? R\$ \_\_\_\_\_



Quantos reais? R\$ \_\_\_\_\_



Quantos reais? R\$ \_\_\_\_\_



Quantos reais? R\$ \_\_\_\_\_



Quantos reais? R\$ \_\_\_\_\_





Escola Municipal Carlos Chagas E.I.E.F  
Localização: Rua Munhoz de Melo nº78 Centro  
CEP: 87840-000 Mirador-PR Fone (44) 3434- 1163  
E-mails- [escolacarloschagasmira@gmail.com](mailto:escolacarloschagasmira@gmail.com) ou [escola@mirador.pr.gov.br](mailto:escola@mirador.pr.gov.br)

Professora Fabiana Teixeira

Turma 4º ano

Aluno<sup>a</sup>

## CIÊNCIAS

Faça a leitura do texto e procure as palavras grifadas no diagrama.

Pratique bons hábitos de higiene, sua saúde agradece.

### HÁBITOS DE HIGIENE

PARA SERMOS SAUDÁVEIS, DEVEMOS CUIDAR DO NOSSO CORPO.

USAR O LENÇO PARA ASSOAR O NARIZ.  
NÃO ANDAR DESCALÇO.  
MANTER AS MÃOS LIMPAS.  
TOMAR BANHO TODOS OS DIAS.  
ESCOVAR OS CABELOS.  
CORTAR AS UNHAS.  
LAVAR OS ALIMENTOS.  
MANTER SUA CASA LIMPA.  
ESCOVAR OS DENTES APÓS AS REFEIÇÕES.  
USAR ROUPAS LIMPAS.



F	E	C	T	G	H	J	U	Ç	O	P	G	B	N	H	A	S	E	D	F
S	E	A	F	R	D	F	V	B	H	N	M	L	P	Ç	O	U	E	M	H
G	T	B	G	E	E	D	F	L	E	N	Ç	O	A	Q	S	D	F	Ã	N
N	D	E	H	F	G	H	N	M	I	O	L	Ç	I	E	D	F	A	O	M
A	E	L	J	E	R	F	V	B	E	D	E	N	T	E	S	G	U	S	L
R	C	O	U	I	F	A	E	D	F	V	B	H	N	M	J	A	E	D	O
I	V	S	A	Ç	R	L	R	G	H	N	L	Ç	O	R	F	V	A	S	P
Z	B	U	S	Ô	T	I	Q	E	D	F	G	B	N	U	O	L	P	G	Ç
A	G	L	P	E	G	M	S	D	F	D	E	S	C	A	L	Ç	O	H	I
Q	N	P	Ç	S	B	E	Q	E	R	F	G	T	H	F	D	S	A	N	U
F	H	R	O	P	N	N	A	Q	R	O	U	P	A	S	O	L	P	M	C
R	U	Ç	L	Ç	H	T	A	S	D	F	G	H	U	J	K	I	E	L	A
S	J	A	R	O	C	O	Q	S	D	F	G	U	N	H	A	S	B	J	S
B	A	N	H	O	D	S	T	U	J	O	L	P	Ç	Q	E	D	C	U	A
A	Q	S	D	C	V	G	B	N	H	M	J	O	L	P	Ç	Q	S	D	F



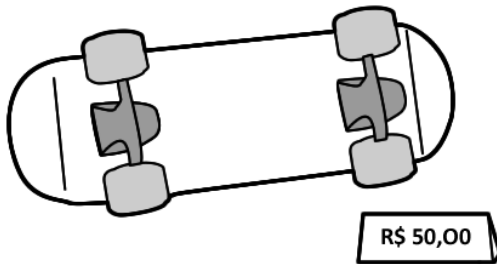


**Escola Municipal Carlos Chagas E.I.E.F**  
Localização: Rua Munhoz de Melo nº78 Centro  
CEP: 87840-000 Mirador-PR Fone (44) 3434- 1163  
E-mails- [escolacarloschagasmira@gmail.com](mailto:escolacarloschagasmira@gmail.com) ou [escola@mirador.pr.gov.br](mailto:escola@mirador.pr.gov.br)

Professora	Fabiana Teixeira
Turma	4º ano
Aluno <sup>a</sup>	

## MATEMÁTICA

1) OBSERVE O VALOR DOS OBJETOS ABAIXO:



2) AGORA, FAÇA O QUE SE PEDE:

A. VOCÊ QUER COMPRAR A BOLA E O SKATE. CIRCULE AS NOTAS QUE VOCÊ PRECISARÁ USAR PARA COMPRAR OS OBJETOS:



B. QUANTO VOCÊ GASTOU PARA COMPRÁ-LOS?

---

---

---

C. SE VOCÊ FOSSE PAGAR COM UMA NOTA DE R\$ 100,00, QUANTO RECEBERIA DE TROCOP?

---

---

---