



Escola Municipal Carlos Chagas Educação Infantil e Ensino Fundamental.

Localização: Rua Munhoz de Melo, nº78 - Centro.

CEP: 87840-000 - Mirador-PR - Fone (44) 3434- 1163.

E-mail- escola@mirador.pr.gov.br - e-mail: escolacarloschagasmira@gmail.com

ATIVIDADE DOMICILIAR DE LINGUA PORTUGUESA

PROFESSORA: MARIZA HIDALGO

Aluno(a) : _____

1) Leia a tirinha e responda as questões.



1- Esse gênero textual é

- (A) uma piada.
- (B) um panfleto.
- (C) uma tira em quadrinhos.
- (D) uma história em quadrinhos.

2- Os personagens dessa tirinha são

- (A) a Magali, o Cebolinha e a Mônica.
- (B) a Magali e o Menino Maluquinho.
- (C) o Cebolinha, o Cascão e a Mônica.
- (D) o Cebolinha e a Mônica.

3- O que estava sendo comemorado na história?

- (A) O aniversário da Mônica.
- (B) O aniversário do Cebolinha.
- (C) O aniversário da Magali.
- (D) O pedido da Magali.

4- O tema dessa história é

- (A) egoísmo.
- (B) avareza.
- (C) solidariedade.
- (D) esperteza.

5- A expressão da Magali no **primeiro quadrinho** é de

- (A) irritação.
- (B) desânimo.
- (C) espanto.
- (D) entusiasmo.

6- A expressão "Hê! Hê!" No **quadrinho**, demonstra que Cebolinha e Mônica estão

- (A) chorando.
- (B) gritando.
- (C) gargalhando.
- (D) murmurando.



7) Leia o poema.

O aniversário da mamãe

De manhã, logo cedinho,
No jardim eu fui buscar
Belos cravos, rosas, lírios,
Para a casa embelezar.

A mamãe faz anos hoje,
Vou fazer-lhe uma surpresa:
Está tudo arrumadinho,
O presente é uma beleza!

Comprei doces e salgados,
Tudo com o dinheirinho
Que eu ajuntei no meu cofre
Durante o ano inteirinho!

Quero ver mamãe contente,
Pois lhe quero muito bem.
Mamãe é muito querida,
Querida como ninguém!

Responda as questões de acordo com o texto.

a) Quem está fazendo aniversário?

R _____

b) O que foi colhido no jardim?

R _____

c) Quem está fazendo a festa, gostaria de ver sua mamãe como?

R _____

d) Você já teve uma festa de aniversário?

R _____

7- De acordo com o modelo, escreva dois adjetivo para cada substantivo.


Rosas: vermelhas, belas.

Doces _____

Mamãe _____

Salgados _____

8) Imagine uma festa de aniversário onde você é o aniversariante, **ilustre e colora**, a festa e os convidados. **Mostre que você é caprichoso e inteligente! Não esqueça de colorir, no desenho deverá ter, os personagens, o lugar onde está acontecendo a festa, se é dia ou noite, o aniversariante deverá aparecer, o bolo também, se possível até a decoração.**



9) Para sua festa você poderá convidar 13 pessoas.

Faça uma lista com os nomes dos seus convidados, não esqueça que nome de pessoas são **substantivos próprios** e são escritos com inicial maiúscula.

- 1 _____
- 2 _____
- 3 _____
- 4 _____
- 6 _____
- 7 _____
- 8 _____
- 9 _____
- 10 _____
- 11 _____
- 12 _____
- 13 _____

ATIVIDADE DOMICILIAR DE MATEMÁTICA

ATIVIDADE DOMICILIAR DE MATEMÁTICA

PROFESSORA – MARIZA FERNANDES HIDALGO.

ALUNO(A) _____

Conteúdo- Unidade temática grandeza e medida= Medida de área, tratamento de informação gráfico, cálculos mentais adição e subtração, tabuada do 6.

Para saber a área de medida de cada cômodo, será preciso contar os quadradinhos correspondente.

Exemplo: A área de medida correspondente a sala é igual 15 quadradinhos, cada um quadradinho corresponde a 1 uma unidade de medida.



Leia o enunciado e responda as questões abaixo.

A figura abaixo é a planta baixa de um apartamento. Observe-a e responda às questões, considerando cada quadradinho uma unidade de medida de área:



1 - Qual é a área do banheiro?

- 2 unidades.
- 3 unidades.
- 6 unidades.
- 4 unidades.

2- Qual é a área total do apartamento?

- 45 unidades.
- 40 unidades.
- 8 unidades.
- 5 unidades.

3- Quais cômodos têm área de 4 unidades?

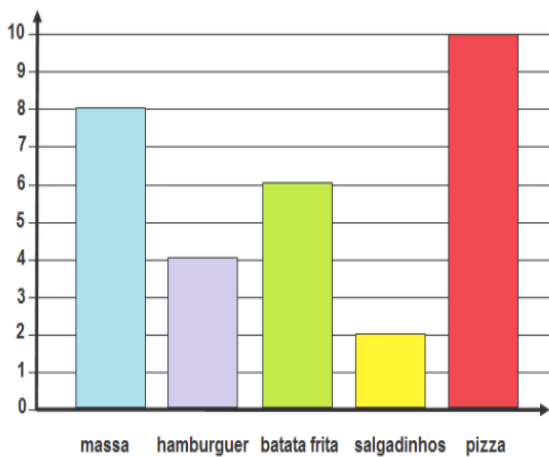
- Banheiro e quarto rosa.
- Banheiro e corredor.
- Corredor e quarto rosa.
- Corredor e quarto azul.

4- Quais cômodos têm área de 6 unidades?

- Quarto rosa e quarto azul.
- Sala e quarto rosa.
- Sala e quarto azul.
- Corredor e banheiro.

5) O gráfico abaixo mostra os alimentos preferido por um turma.

ALIMENTOS PREFERIDOS PELAS CRIANÇAS DA TURMA



a) Qual foi o alimento preferido da turma?

R _____

b) Qual foi o segundo alimento mais preferido pela turma?

R _____

c) Qual foi alimento menos votado?

R _____

d) Se você tivesse participado dessa pesquisa, qual alimento você teria votado?

R _____

6) Cálculo mental: calcule de cabeça! Quanto falta?

a) De 670 reais para 700 reais, quantos reais faltam? _____

b) De 720 reais para 760 reais, quantos reais faltam? _____

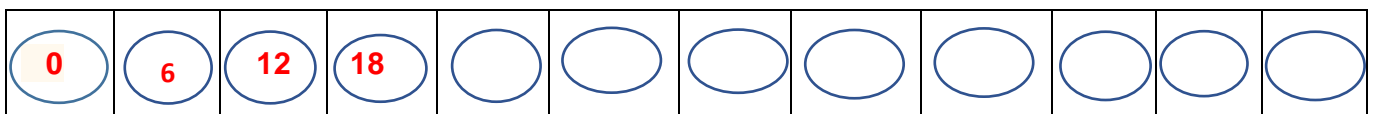
c) De 870 reais para 910 reais, quantas reais faltam? _____

7) Qual o resultado?

a) $148+3=$ _____ c) $300+200=$ _____ e) $370+10=$ _____ g) $600+200=$ _____

b) $148-3=$ _____ d) $300-200=$ _____ f) $370-10=$ _____ h) $600-200=$ _____

8) Descubra o segredo e complete a sequência veja como começou.



9) Complete a tabuada do 6.

a) $6 \times 1 =$ _____	f) $6 \times 6 =$ _____
b) $6 \times 2 =$ _____	g) $6 \times 7 =$ _____
c) $6 \times 3 =$ _____	h) $6 \times 8 =$ _____
d) $6 \times 4 =$ _____	i) $6 \times 9 =$ _____
e) $6 \times 5 =$ _____	j) $6 \times 10 =$ _____

PROFESSORA : MARIZA FERNANDES HIDALGO

ALUNO: _____

ATIVIDADE DOMICILIAR DE CIÊNCIAS

Alimentação Saudável

O ser humano necessita da energia dos alimentos para realizar todas as atividades diárias e ter um desenvolvimento saudável.

Alimentar-se bem não significa apenas comer muito. O mais importante é a qualidade do alimento.


Uma pessoa que come hambúrguer, batata frita, pizza, cachorro-quente, esquecendo-se da verdura, legumes, frutas e leite, certamente terá carência de alguns nutrientes, podendo ficar doente com mais facilidade.



Coloque V para as afirmações verdadeiras e F para as falsas.

- () uma pessoa que come somente hambúrguer, tem uma alimentação saudável.
- () comer pizza e batata frita, pode causar carência de nutrientes.
- () é importante comer verdura, legumes, frutas e leite.
- () alimentar-se bem não significa apenas comer muito.

Encontre no diagrama o nome de alguns nutrientes.



ATIVIDADE DOMICILIAR DE GEOGRAFIA

Professora: Mariza Fernandes Hidalgo

Aluno: _____ 3 ano

Problemas ambientais

Os grupos humanos transformam as paisagens. Algumas dessas transformações trazem melhorias para todos. Outras causam problemas e ameaçam não apenas os seres humanos, mas os outros seres vivos, prejudicando o ambiente.

Ao transformar o ambiente, o ser humano deve respeitá-lo. Mas nem sempre isso acontece. Um problema grave causado pelo desrespeito ao ambiente é a poluição. Veja as ilustrações a seguir e responda as questões.

1) Associe cada imagem ao problema de poluição correspondente.

(A) Poluição do ar.

(B) Poluição da água.

(C) Poluição sonora.



2) Quais tipos de poluição ambiental mostrados nas ilustrações você conhece?

R _____

3) Faça uma única frase com as palavras abaixo.

Rio Verde

cidade

Poluição

R _____

ATIVIDADES DOMICILIAR DE HISTÓRIA – 3º ANO.

Professora: Mariza Fernandes Hidalgo.

Aluno(A): _____ 3º Ano ____

HISTÓRIA DO MUNICÍPIO DE MIRADOR

Mirador é uma cidade do Noroeste do Estado do Paraná , e tem como vizinhos as cidades Amaporã, Paraíso do Norte, Paranavaí e Guaporema. Os habitantes se chamam miradorenses. O município se estende por 221,7 km² e contava com 2.327 habitantes no último censo. No dia 13 de Novembro de 1961 Mirador foi emancipado tornando assim Município. Neste ano de 2020 o nosso Município completou 59 anos. Faz parte do município o poder executivo representado pelo prefeito e o legislativo representado por nove vereadores.

Texto adaptados para fins pedagógicos.

Foto aérea da Cidade de Mirador- Pr



Responda de acordo com o texto acima.

1) Quais cidades são vizinhos de nosso município?

R _____

2) Nosso Município está localizado

- () no Oeste do Paraná.
- () no Leste do Paraná.
- () No Sul do País.
- () no Noroeste do estado do Paraná.

3) Os habitantes da cidade de Mirador são chamados

- () amaporenses.
- () paraisenses.
- () miradorenses.
- () paranavaienses.

O Poder Legislativo

O Poder Legislativo é representado pelos por **nove vereadores** que são eleito pelo povo, os vereadores que elabora as leis municipais e fiscalizar a atuação do Executivo no caso, o prefeito. São os vereadores que propõem, discutem e aprovam as leis a serem aplicadas no município. Veja foto da Câmara Municipal.



1) O poder legislativo é representado

- por secretários.
- por municípes.
- por vereadores.
- por prefeito.

2) A Câmara Municipal de Mirador é composta por

- 10 vereador.
- 12 vereadores
- 2 vereadores.
- 9 vereadores.

3) Os vereadores são eleito

- pelo povo.
- pelo governador.
- pelo presidente.
- pelo prefeito.

4) Você conhece o prefeito que foi eleito para administrar Mirador a partir de 2021. Como ele se chama?

R _____

5) Veja a fotos dos vereadores atual da nossa cidade.



6) Escreva o nome do vereador que você mais conhece.

R _____