



Escola Municipal Carlos Chagas E.I.E.F

Localização: Rua Munhoz de Melo nº78 Centro

CEP: 87840-000 Mirador-PR Fone (44) 3434- 1163

E-mail- escola@mirador.pr.gov.br

Professora Taynara B. Araújo


Aluno: _____

3º DIA

ATIVIDADES DE LÍNGUA PORTUGUESA

Escreva um bilhete para a Professora, lembrando que o bilhete precisa ter:

- Nome da pessoa que receberá o bilhete no começo.
- A mensagem deve ser curta e fácil de ser entendida.
- Deve ter despedida, assinatura com o nome da pessoa que escreveu o bilhete e data.



ATIVIDADES DE MATEMÁTICA




NUMERAIS ORDINAIS

Para indicar ordem, posição ou lugar,
usamos os numerais ordinais.
Conheça os numerais ordinais até 10^o.

| | |
|---------------------------|--------------------------|
| 1 ^o → primeiro | 6 ^o → sexto |
| 2 ^o → segundo | 7 ^o → sétimo |
| 3 ^o → terceiro | 8 ^o → oitavo |
| 4 ^o → quarto | 9 ^o → nono |
| 5 ^o → quinto | 10 ^o → décimo |



1 - Veja a posição das formigas e continue a ordem.



2 – Eu já iguei a 1^o formiga á 3^o formiga. Continue ligando de acordo com o que se pede.

A – a 5^a formiga á 7^a formiga.

B – a 7^a formiga á 9^a formiga.

3 – Desenhe o que se pede nas formigas.

A – uma folha na 6^a formiga.

B – um chapéu na cabeça da 4^a formiga.

C – um laço na cabeça da 9^a formiga



Escola Municipal Carlos Chagas E.I.E.F

Localização: Rua Munhoz de Melo nº78 Centro

CEP: 87840-000 Mirador-PR Fone (44) 3434- 1163

E-mail- escola@mirador.pr.gov.br


4º DIA

ATIVIDADES DE MATEMÁTICA

NÚMEROS ORDINAIS

OS NÚMEROS ORDINAIS SÃO USADOS PARA INDICAR POSIÇÃO, ORDEM OU LUGAR.

OBSERVE A FILA DAS CRIANÇAS.



1 - COMPLETE USANDO OS NUMERAIS ORDINAIS DE ACORDO COM A POSIÇÃO DE CADA CRIANÇA.

2 - QUANTAS CRIANÇAS ESTÃO NA FILA? →

2 - QUEM OCUPA A DÉCIMA POSIÇÃO? →

3 - QUEM É O PRIMEIRO DA FILA? →

4 - QUAL POSIÇÃO É OCUPADA POR GAEL? →

5 - QUEM OCUPA A OITAVA POSIÇÃO? →



Escola Municipal Carlos Chagas E.I.E.F

Localização: Rua Munhoz de Melo nº78 Centro

CEP: 87840-000 Mirador-PR Fone (44) 3434- 1163

E-mail- escola@mirador.pr.gov.br

5º DIA

ATIVIDADES DE LÍNGUA PORTUGUESA

Leia e cante a cantiga e responda as questões.



SAPO CURURU

SAPO CURURU
DA BEIRA DO RIO
QUANDO O SAPO CANTA
OH, MANINHA,
É QUE ESTÁ COM FRIO!

A MULHER DO SAPO
DEVE ESTAR LÁ DENTRO
FAZENDO RENDINHA,
OH, MANINHA
PARA O CASAMENTO!

CANTIGA POPULAR

1 – No texto, qual palavra rima com a palavra “Rio”?

2 – Por que o sapo canta?

3 – O que aconteceu com o sapo?

() cantou, ficou com frio e foi pra beira do rio.

() estava na beira do rio, cantou porque ficou com frio.

() cantou, foi pra beira do rio e fez rendinha.

() estava na beira do rio, ficou com frio e foi pro casamento.

4 – Quais outras palavras do texto rimam?

5 – O que a mulher do sapo estava fazendo?

ATIVIDADES DE HISTÓRIA

Observe as imagens e responda as questões.



Nas imagens temos espaços públicos, que são o que todo podemos frequentar livremente e espaços privados, como supermercados, lojas, entre outros.

1 – Por que é importante cuidar dos espaços públicos da nossa cidade?

2 – Quais são os espaços públicos que temos em nossa cidade?

3 – Quais são os espaços privados que temos em nossa cidade?

4 – Desenhe um espaço público e um espaço privado.

| ESPAÇO PÚBLICO | ESPAÇO PRIVADO |
|----------------|----------------|
| | |

