



Escola Municipal Carlos Chagas E.I.E.F

Localização: Rua Munhoz de Melo nº78 Centro

CEP: 87840-000 Mirador-PR Fone (44) 3434- 1163

E-mail- escola@mirador.pr.gov.br

Professora Taynara B. Araújo

Aluno: _____

1º DIA

ATIVIDADES DE MATEMÁTICA

Dúzia e meia dúzia

Ricardo começou uma coleção de chaveiros e uma coleção de canetas.
Ele já tem 12 chaveiros.



12 chaveiros é o mesmo que **uma dúzia** de chaveiros.

Em sua coleção de canetas, Ricardo já tem 6 canetas.



6 canetas é o mesmo que **meia dúzia** de canetas.

1) Complete as quantidades até formar uma dúzia:





Escola Municipal Carlos Chagas E.I.E.F

Localização: Rua Munhoz de Melo nº78 Centro

CEP: 87840-000 Mirador-PR Fone (44) 3434- 1163

E-mail- escola@mirador.pr.gov.br

Professora Taynara B. Araújo

Aluno: _____

2º DIA

ATIVIDADES DE LÍNGUA PORTUGUESA

Vamos cantar!

Era uma vez

Era uma vez
Um lugarzinho no meio do nada
Com sabor de chocolate
E cheiro de terra molhada
Era uma vez
A riqueza contra a simplicidade
Uma mostrando para outra
Quem dava mais felicidade
Pra gente ser feliz
Tem que cultivar as nossas amizades
Os amigos de verdade
Pra gente ser feliz
Tem que mergulhar na própria fantasia
Na nossa liberdade
Uma história de amor
De aventura e de magia
Só tem a ver
Quem já foi criança um dia.



Álvaro Socci e Cláudio Motta.
Interpretada por Sandy, Júnior e Toquinho.
Nascermos pra cantar. Universal Music Brasil.

1 – Onde era o lugarzinho da música?

2 – Que sabor e cheiro tinha o lugarzinho?

3 – De acordo com o texto, o que a gente tem que fazer para ser feliz?

4 – Você conhece algum lugar como o descrito na música?

ATIVIDADES DE CIÊNCIAS

O EFEITO DA RADIAÇÃO SOLAR

O SOL EMITE LUZ, QUE PODE SER TRANSFORMADA EM CALOR, EM CONTATO COM ALGUNS MATERIAIS E SUPERFÍCIES.

SUPERFÍCIES E OBJETOS ESCUROS ABSORVEM MELHOR O CALOR.

JÁ AS SUPERFÍCIES E OBJETOS CLAROS REFLETEM QUASE TOTALMENTE A RADIAÇÃO. (CALOR)

SUPERFÍCIES LAMINADAS REFLETEM MELHOR A LUZ DO SOL, COMO PAPEL ALUMÍNIO E ESPELHOS.



A LUZ SOLAR É UMA FONTE NATURAL DE CALOR E PODE SER UTILIZADA, DEPENDENDO DAS REAÇÕES DOS MATERIAIS E DAS SUPERFÍCIES EXPOSTOS AOS RAIOS SOLARES.

Se você quisesse usar uma camiseta que esquentasse o menos possível, ela seria:

() preta () branca

Por que os objetos claros geralmente não ficam tão quentes?

() porque eles refletem quase toda a radiação.

() porque eles absorvem melhor o calor.

A luz solar é fonte de que?

Pelo o que você entendeu, todos os objeto e materiais refletem a mesma quantidade de calor?



Escola Municipal Carlos Chagas E.I.E.F

Localização: Rua Munhoz de Melo nº78 Centro

CEP: 87840-000 Mirador-PR Fone (44) 3434- 1163

E-mail- escola@mirador.pr.gov.br

3 ° DIA

ATIVIDADES DE LÍNGUA PORTUGUESA

Se essa rua fosse minha

Cantiga Popular

Se essa rua	Dentro dele
Se essa rua fosse minha	Dentro dele mora um anjo
Eu mandava	Que roubou
Eu mandava ladrilhar	Que roubou meu coração
Com pedrinhas	
Com pedrinhas de brilhante	Se eu roubei
Para o meu	Se eu roubei teu coração
Para o meu amor passar	Tu roubaste
	Tu roubaste o meu também
Nessa rua	Se eu roubei
Nessa rua tem um bosque	Se eu roubei teu coração
Que se chama	É porque
Que se chama solidão	É porque te quero bem

1 – O que a pessoa da música faria se a rua fosse dela?

2 – Como se chama o bosque?

3 – Quem mora no bosque?

4 – Por que o anjo roubou o coração?

ATIVIDADES DE MATEMÁTICA

Roberto comprou 1 dúzia de ovos. Conte os ovos e complete:



1 dúzia= _____ ovos

Ele separou meia dúzia para fazer um bolo.



Conte os ovos que ele separou e complete:


meia dúzia= _____ ovos

12 unidades formam 1 dúzia


6 unidades formam meia dúzia

Pinte:

UMA DÚZIA DE PIMENTAS:



MEIA DÚZIA DE ABACATE:





Escola Municipal Carlos Chagas E.I.E.F

Localização: Rua Munhoz de Melo nº78 Centro


CEP: 87840-000 Mirador-PR Fone (44) 3434- 1163

E-mail- escola@mirador.pr.gov.br

4º DIA

ATIVIDADES DE MATEMÁTICA

1) DONA VÂNIA COMPROU OVOS PARA FAZER UM DELECIOSO PUDIM. QUANTOS OVOS ELA COMPROU?




MEIA DÚZIA

1 DÚZIA

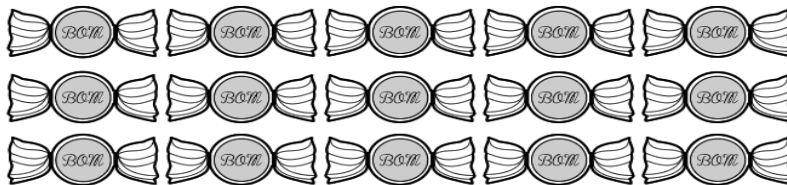
2 DÚZIAS

1 DÚZIA E MEIA

2) QUANTOS PÃES HÁ E CADA CASO?



3. FORME GRUPOS COM MEIA DÚZIA DE DOCES CONTORNANDO COM UMA LINHA CADA GRUPO FORMADO:



QUANTOS GRUPOS FOI POSSÍVEL FORMAR?

SOBRARAM QUANTOS DOCES?

ATIVIDADES DE GEOGRAFIA

A Água

A água é o elemento fundamental para a existência da vida na Terra. Todos os seres vivos dependem dela para sobreviver e para garantir a permanência da espécie – a água sustenta a vida.

O peso corporal de uma pessoa é composto de 60 a 70% de água, a qual tem tanto a função de regular a temperatura interna, quanto garantir o bom funcionamento de todas as funções orgânicas.

O corpo humano adulto precisa, em média, de quatro litros de água por dia para se manter saudável. Além disso, a água também é indispensável para a preparação de mamadeiras, comidas, sucos, imprescindível para a higiene pessoal e do ambiente. Assim, é dever de todos não permitir nenhum tipo de desperdício e garantir uma água segura, com qualidade, pura e cristalina. O seu consumo permite uma vida mais confortável, a começar pelo ato de saciar a sede, de prover alimentos, seja na agricultura, nas indústrias, nos restaurantes ou em cada moradia.

A água também é indispensável para a geração de energia, para os transportes, a recreação, a saúde e para o emprego da população.

Ela não tem cheiro (inodora), não tem cor (incolor), não tem sabor (insípida) e é formada por dois gases: hidrogênio (H) e oxigênio (O₂).

Para que a água se torne potável, ou seja, própria para o consumo, precisa ser tratada. Atualmente, milhões de pessoas em todo mundo não tem água de boa qualidade, e um dos motivos está na contínua poluição dos rios, decorrente da falta de cuidado do homem.

Dizemos que a água está contaminada, ou imprópria para o consumo, quando apresenta sujeira e micro-organismos que causam doenças ao homem e aos animais.



1) Segundo o texto quais são as propriedades principais da água?

2) Além da hidratação humana, quais são os outros possíveis empregos da água?

3) Cite algumas das características da água imprópria para consumo?

4) Qual a função da água no corpo?



Escola Municipal Carlos Chagas E.I.E.F

Localização: Rua Munhoz de Melo nº78 Centro

CEP: 87840-000 Mirador-PR Fone (44) 3434- 1163

E-mail- escola@mirador.pr.gov.br

5º DIA

ATIVIDADES DE LÍNGUA PORTUGUESA

A CASA VINÍCIUS DE MORAIS

**ERA UMA CASA MUITO ENGRAÇADA
NÃO TINHA TETO, NÃO TINHA NADA
NINGUÉM PODIA ENTRAR NELA, NÃO
PORQUE NA CASA NÃO TINHA CHÃO
NINGUÉM PODIA DORMIR NA REDE
PORQUE NA CASA NÃO TINHA PAREDE
NINGUÉM PODIA FAZER PIPI
PORQUE PENICO NÃO TINHA ALI
MAS ERA FEITA COM MUITO E SMERO
NA RUA DOS BOBOS, NUMERO ZERO.**

1 – Circule o endereço da casa e escreva ele abaixo.

2 – Por que ninguém podia dormir na rede?

3 – Quem é o autor da cantiga?

4 - A casa era muito:

() triste () engraçada

() sorridente () chorona