



Escola Municipal Carlos Chagas E.I.E.F
Localização: Rua Munhoz de Melo nº78 Centro
CEP: 87840-000 Mirador-PR Fone (44) 3434- 1163
E-mail- escola@mirador.pr.gov.br
Professora Taynara B. Araújo

Aluno: _____

1º DIA

ATIVIDADES DE MATEMÁTICA

Leitura Informativa!

Quando queremos medir a temperatura de uma pessoa, de um ambiente, de refrigeradores, da água entre outros, utilizamos um objeto chamado de termômetro. Temos três tipos de termômetros, e cada um possui uma utilização.

Para medir a temperatura de ambientes utilizamos o seguinte termômetro:



Na medição de temperaturas de pessoas, refrigeradores, caixas térmicas entre outros, utilizamos o seguinte instrumento digital:



O termômetro de mercúrio é exclusivo para medições de temperaturas de pessoas.





Escola Municipal Carlos Chagas E.I.E.F

Localização: Rua Munhoz de Melo nº78 Centro

CEP: 87840-000 Mirador-PR Fone (44) 3434- 1163

E-mail- escola@mirador.pr.gov.br

Professora Taynara B. Araújo

Aluno: _____

2º DIA

ATIVIDADES DE LÍNGUA PORTUGUESA

Leia a poesia e responda as questões.

Poesia:

Essa não, Jacaré!


(Dirce Guedes)

Eu fui na mata
conhecer a bicharada.
Cada bicho que eu encontrava
me contava uma piada.

O tatu ficou na toca,
jacaré, lá na lagoa.
A coruja, toda prosa,
passeava de canoa.

O jacaré, muito gozado,
quis mexer com o tatu.
Jogou nele uma pedra
que caiu no urubu!

Com um galo na cabeça,
o urubu ficou zangado.
Chamou a dona Coruja
e foi buscar o delegado!




1 – Onde a bicharada morava?

2 – Quais bichos aparecem no texto?


3 - Pinte as amarelo as rimas do texto.

ATIVIDADES DE CIÊNCIAS

1- Escreva o nome de cada parte da planta e depois pinte a sua árvore!



2 -Ache as partes das plantas FLOR, FOLHA, RAIZ, FRUTO E CAULE.





Escola Municipal Carlos Chagas E.I.E.F

Localização: Rua Munhoz de Melo nº78 Centro

CEP: 87840-000 Mirador-PR Fone (44) 3434- 1163

E-mail- escola@mirador.pr.gov.br

Professora Taynara B. Araújo

Aluno: _____

3º DIA

ATIVIDADES DE LÍNGUA PORTUGUESA

UM POEMA PARA OS INSETOS

LOUVA-A-DEUS É LUTADOR
DE CARATÊ E JUDÔ.



ARANHA PENDURADA NA TEIA
BRINCA DE IOIÔ.

BARATA, VELOZ E FESTEIRA,
IMITA CARRINHO DE ROLIMÃ.



BORBOLETA EXISTE
PARA ENFEITAR A MANHÃ.



ONDE O PERNILONGO
APRENDEU A TOCAR VIOLINO?

ONDE A JOANINHA
ESCOLHEU SEU FIGURINO?



MARIPOSA SE ALIMENTA
DE LUZ.



TODA FORMIGA
CARREGA SUA CRUZ.

ELEFANTE, CHAPÉU E MELANCIA: EM TUDO TEM
POESIA, SÃO PAULO

1 – O louva-a-deus luta o que?

2 - De que a mariposa se alimenta?

3 – Quais palavras do poema terminam com sons parecidos? (Rimas)

4 – Escolha uma cor e circule as rimas do poema.

5 - A aranha brinca de:

() corrida

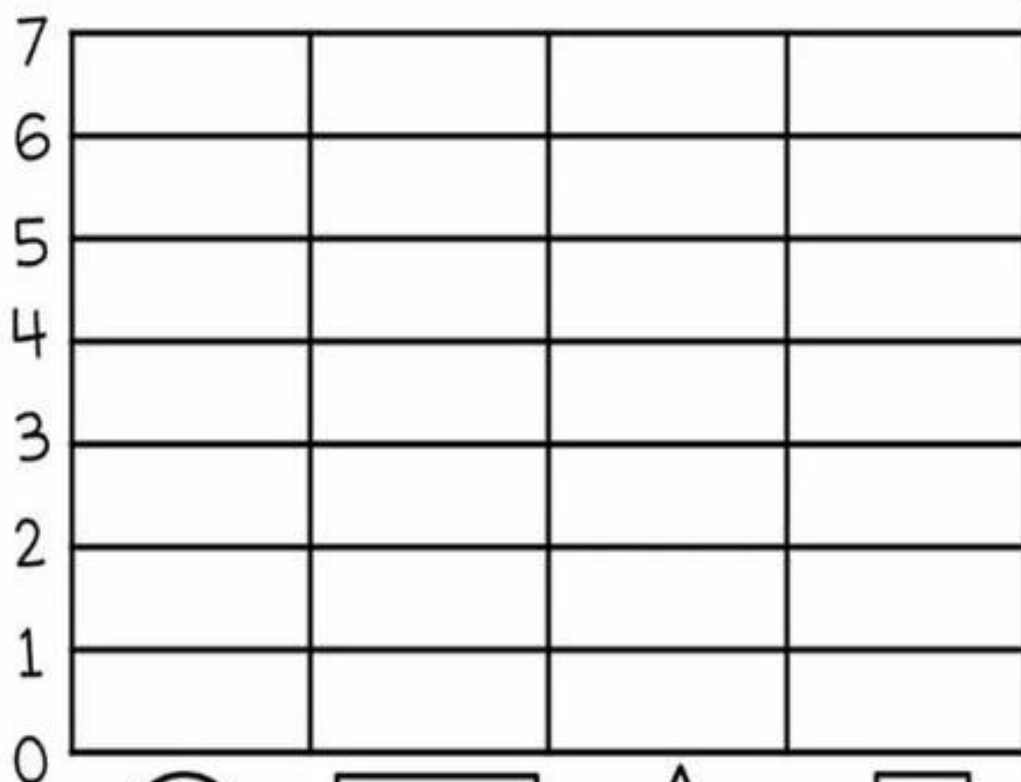
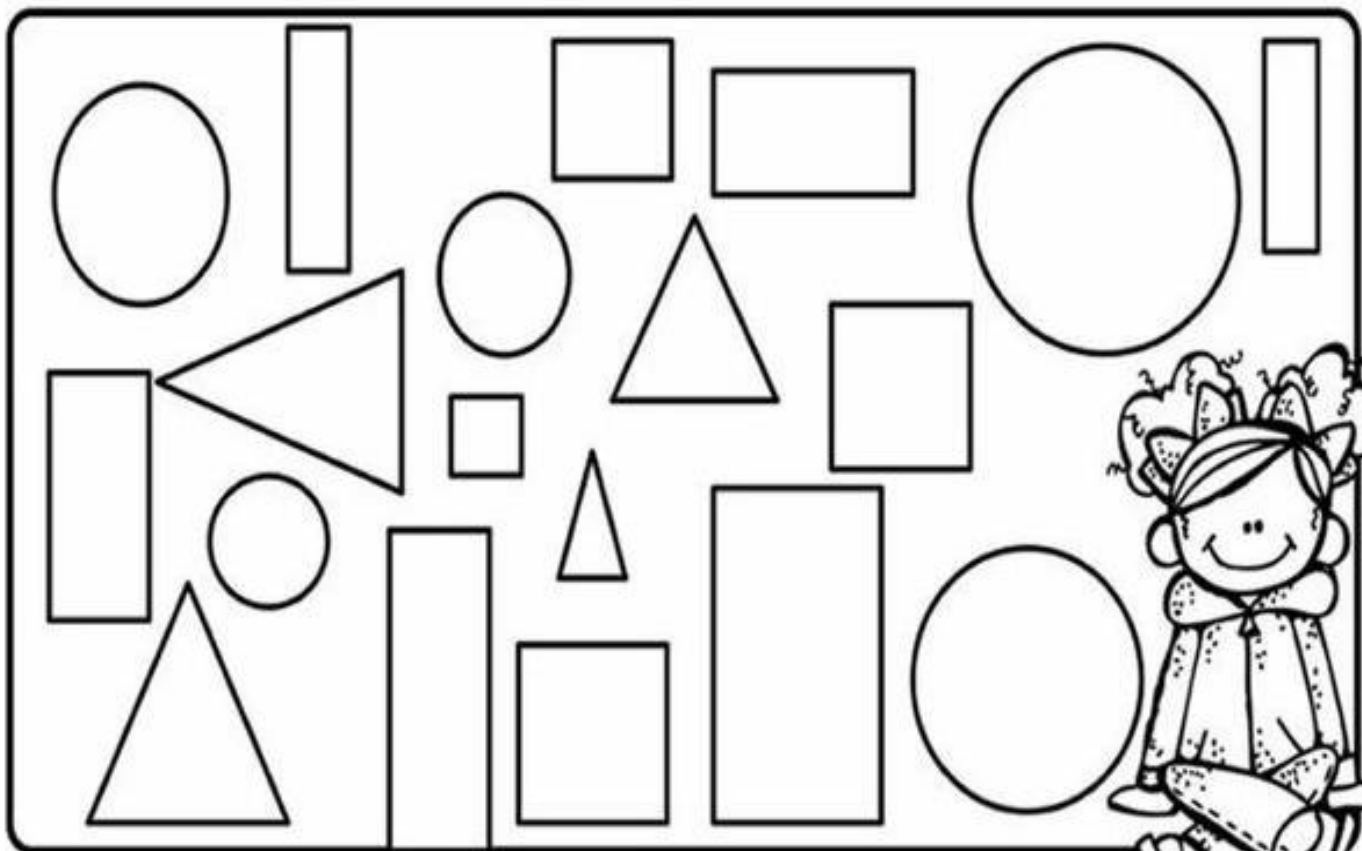
() bola

() ioiô

() balanço

ATIVIDADES DE MATEMÁTICA

Conte as formas geométricas e pinte o gráfico de acordo com a quantidade correspondente para cada uma.




CÍRCULO


RETÂNGULO


TRIÂNGULO


QUADRADO



Escola Municipal Carlos Chagas E.I.E.F

Localização: Rua Munhoz de Melo nº78 Centro

CEP: 87840-000 Mirador-PR Fone (44) 3434- 1163

E-mail- escola@mirador.pr.gov.br

Professora Taynara

Aluno: _____

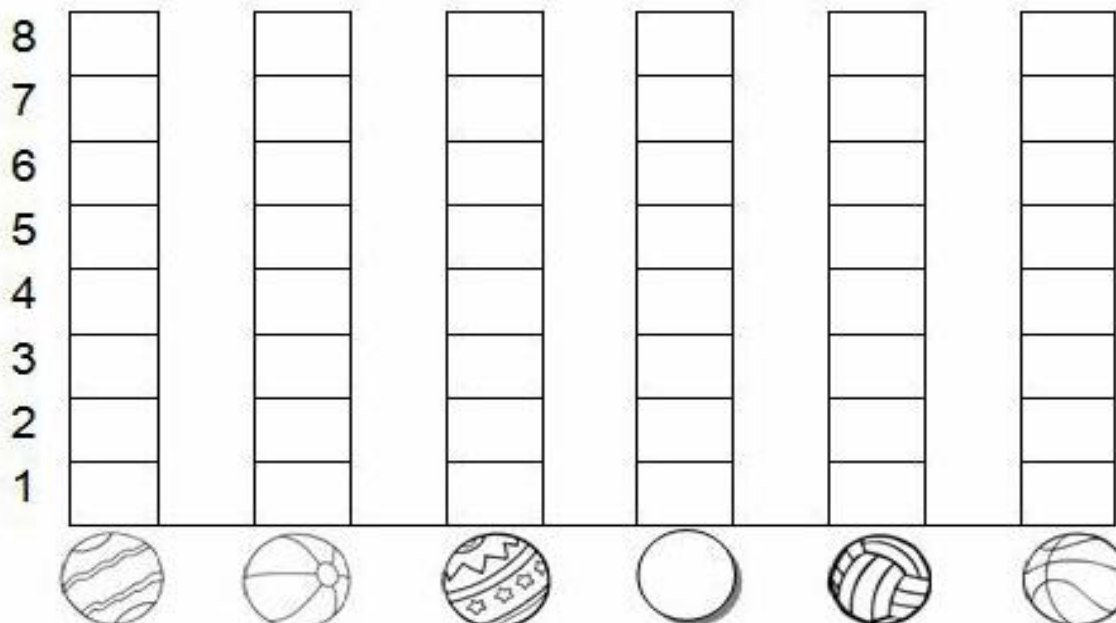
4º DIA

ATIVIDADES DE MATEMÁTICA

Na aula de Educação Física, os alunos foram jogar basquete, descubra quantas bolas cada criança acertou na cesta:

CRIANÇAS	QUANTIDADE DE BOLAS NA CESTA	NÚMERO
CARLOS		
FELIPE		
PEDRO		
GIOVANI		
VÍTOR		
FÁBIO		

Agora, você vai colorir o gráfico com as informações da tabela acima.



ATIVIDADES DE GEOGRAFIA

1 – Observe o dia e responda.

A – Data da observação: _____

B – Hora: _____

C – Pinte o quadrinho de como o tempo.

ensolarado

nublado

chuvoso

2 – Observe a noite e responda.

A – Data da observação: _____

B – Hora: _____

C – Você conseguiu ver a Lua?

Sim

Não


D – Havia muitas estrelas no céu?

Sim

Não

E – Você gostou mais de observar o dia ou a noite? Por que?

3 – Pinte as imagens abaixo, recorte e cole no prato giratório que a professora mandou.





Escola Municipal Carlos Chagas E.I.E.F

Localização: Rua Munhoz de Melo nº78 Centro

CEP: 87840-000 Mirador-PR Fone (44) 3434- 1163

E-mail- escola@mirador.pr.gov.br












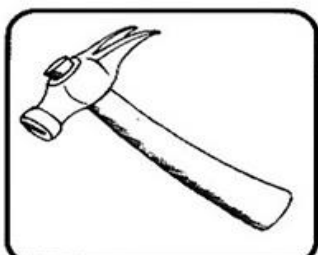
Professora Taynara

Aluno: _____

5º DIA

ATIVIDADES DE LÍNGUA PORTUGUESA

Recorte as palavras e cole-as na figura que rima com ela.



AREIA

MADEIRA

BANHEIRO

VERRUGA

CARECA

LOUÇA

AVIÃO


JOELHO

CARAMELO



ATIVIDADES DE HISTÓRIA

Assim como os brinquedos e brincadeiras da atividade da semana passada, outras coisas também mudaram muito, evoluíram.

Aqui temos a figura de como alguns objetos eram antigamente.




NUMERE DE ACORDO.



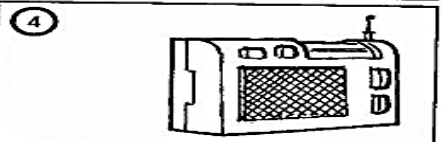
Para escutar música.



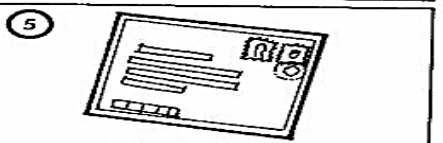
Mensagem que recebo do correio.



Para falar com uma pessoa distante.



Para ler reportagens, notícias, etc.



Para ver o noticiário, novela ou desenho.



Para entrar na internet.