



Escola Municipal Carlos Chagas E.I.E.F  
Localização: Rua Munhoz de Melo nº78 Centro  
CEP: 87840-000 Mirador-PR Fone (44) 3434- 1163  
E-mail- [escola@mirador.pr.gov.br](mailto:escola@mirador.pr.gov.br)  
Professora Taynara B. Araújo

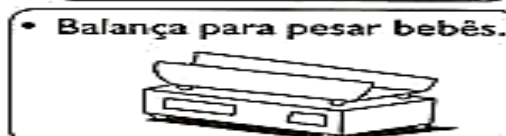
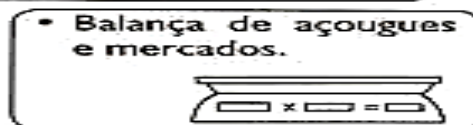
Aluno: \_\_\_\_\_

1º DIA

## ATIVIDADES DE MATEMÁTICA

Para medir o peso das pessoas, animais, arroz, feijão, carne, margarina e vários outros produtos, usamos a unidade de massa chamado **Quilo. (kg)**

São vários os tipos de balanças usadas para medir o quilo:



1 – Pinte os produtos que podem ser comprados a quilo.



2 – Marque um X nos produtos que podem ser comprados a quilo.



- frutas
- refrigerante
- cebola
- sabão
- peixe

- maçãs
- leite
- carne
- batata
- fitas



**Escola Municipal Carlos Chagas E.I.E.F**

Localização: Rua Munhoz de Melo nº78 Centro

CEP: 87840-000 Mirador-PR Fone (44) 3434- 1163

E-mail- [escola@mirador.pr.gov.br](mailto:escola@mirador.pr.gov.br)

Professora Taynara B. Araújo

Aluno: \_\_\_\_\_

## 2º DIA

### ATIVIDADES DE LÍNGUA PORTUGUESA

#### O GULOSO

CARLINHOS OUVIU DIZER  
QUE PARA FICAR FORÇUDO  
DEVIA COMER  
E SEMPRE COMER TUDO.

LOGO O MENINO, COITADO!  
PARA A DESPENSA CORREU;  
MUITA FARINHA E MELADO  
NUM PRATO FUNDO COMEU...

E TAMBÉM UM QUEIJO INTEIRO!  
ATÉ DAR FADIGA,  
PULOU COM DOR DE BARRIGA.



Vicente Guimarães, Anel de vidro, Ed. Americana

1 – Quem é o principal personagem do texto?

\_\_\_\_\_

2 – Será que é saudável comer até ficar com dor de barriga?

\_\_\_\_\_

4 – Pinte as palavras do texto que rimam.

3 – Agora escreva as palavras no texto rimam.

\_\_\_\_\_

\_\_\_\_\_

\_\_\_\_\_



4 - Quais comidas o menino comeu?

\_\_\_\_\_

\_\_\_\_\_

## ATIVIDADES DE CIÊNCIAS

Observe as imagens abaixo e escreva o que a água e o sol (luz) fizeram para ajudar as plantinhas.





Escola Municipal Carlos Chagas E.I.E.F

Localização: Rua Munhoz de Melo nº78 Centro

CEP: 87840-000 Mirador-PR Fone (44) 3434- 1163

E-mail- [escola@mirador.pr.gov.br](mailto:escola@mirador.pr.gov.br)

Professora Taynara B. Araújo

Aluno: \_\_\_\_\_

3º DIA

## ATIVIDADES DE LÍNGUA PORTUGUESA

### TRABALHANDO COM CONVITES



1 – Esse é um convite para qual festa?

\_\_\_\_\_

2 – Quem é o aniversariante?

\_\_\_\_\_

3 – Quantos anos ele está fazendo?

\_\_\_\_\_

4 -Onde será a festa?

\_\_\_\_\_

5 -Qual dia será a festa?

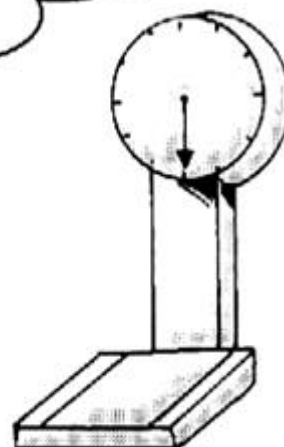

\_\_\_\_\_

## ATIVIDADES DE MATEMÁTICA

# MEDIDA DE MASSA



A unidade de massa mais usada é o quilograma ou quilo.



Complete as frases:

- A \_\_\_\_\_ é o instrumento utilizado para medir a massa.
- Um quilograma é igual a \_\_\_\_\_ gramas.
- Meio quilograma é igual a \_\_\_\_\_ gramas.
- Dois pacotes de 500 gramas é igual a \_\_\_\_\_ quilo.
- Quatro pacotes de 500 gramas é igual a \_\_\_\_\_ quilos.
- Quantos quilos você pesa? \_\_\_\_\_



Marque com um **x** somente o que compramos aos quilos:

- |                                  |                                       |                                 |
|----------------------------------|---------------------------------------|---------------------------------|
| <input type="checkbox"/> arroz   | <input type="checkbox"/> batata       | <input type="checkbox"/> carne  |
| <input type="checkbox"/> vinagre | <input type="checkbox"/> açúcar       | <input type="checkbox"/> frango |
| <input type="checkbox"/> fita    | <input type="checkbox"/> feijão       | <input type="checkbox"/> fubá   |
| <input type="checkbox"/> álcool  | <input type="checkbox"/> refrigerante | <input type="checkbox"/> ovos   |



**Escola Municipal Carlos Chagas E.I.E.F**

Localização: Rua Munhoz de Melo nº78 Centro

CEP: 87840-000 Mirador-PR Fone (44) 3434- 1163

E-mail- [escola@mirador.pr.gov.br](mailto:escola@mirador.pr.gov.br)

**Professora Taynara**

Aluno: \_\_\_\_\_

**4º DIA**

## **ATIVIDADES DE MATEMÁTICA**


Recorte do panfleto e cole:

**Alimentos comprados por quilo.**

**Alimentos comprados por litro.**

## ATIVIDADES DE GEOGRAFIA

As paisagens foram se modificando com o passar do tempo. Pinte as ilustrações, recorte e cole na folha abaixo colocando na ordem correta a transformação.





Escola Municipal Carlos Chagas E.I.E.F

Localização: Rua Munhoz de Melo nº78 Centro

CEP: 87840-000 Mirador-PR Fone (44) 3434- 1163

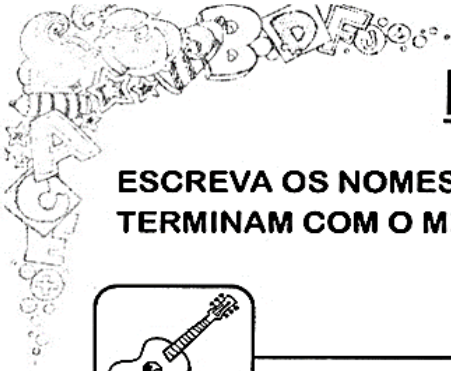
E-mail- [escola@mirador.pr.gov.br](mailto:escola@mirador.pr.gov.br)

Professora Taynara

Aluno: \_\_\_\_\_

5º DIA

## ATIVIDADES DE LÍNGUA PORTUGUESA



### FAZENDO RIMA

ESCREVA OS NOMES DAS FIGURAS E DEPOIS LIGUE AQUELAS QUE TERMINAM COM O MESMO SOM.




\_\_\_\_\_

\_\_\_\_\_



\_\_\_\_\_

\_\_\_\_\_



\_\_\_\_\_

\_\_\_\_\_



\_\_\_\_\_

\_\_\_\_\_



\_\_\_\_\_

\_\_\_\_\_



\_\_\_\_\_

\_\_\_\_\_



\_\_\_\_\_

\_\_\_\_\_





## ATIVIDADES DE HISTÓRIA

1 - Escreva o nome dos brinquedos abaixo e na fonte se é um brinquedo antigo ou atual.



1 -	8 -
2 -	9 -
3 -	10 -
4 -	11 -
5 -	12 -
6 -	13 -
7 -	14 -

2 - Complete a cruzadinha com o nome dos brinquedos.

