



Escola Municipal Carlos Chagas E.I.E.F
Localização: Rua Munhoz de Melo nº78 Centro
CEP: 87840-000 Mirador-PR Fone (44) 3434- 1163
E-mail- escola@mirador.pr.gov.br – E-mail: escolacarloschagasmira@gmail.com

PROFESSORA: Janethe Tiveron

2º ANO A

ALUNO(a): _____

COMPONENTE CURRICULAR: **Matemática/Ciências**

ATIVIDADE DOMICILIAR

PROBLEMAS ENVOLVENDO SISTEMA MONETÁRIO

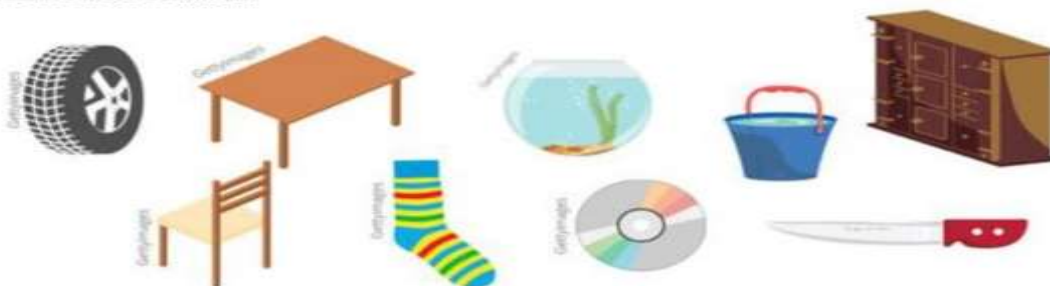
- a) Joana tinha R\$ 100,00 e gastou, dessa quantia, três notas de 20,00 reais, duas notas de 10,00 reais. Quantos reais sobraram?
- b) Luciana tem duas cédulas de R\$5,00, quatro moedas de R\$1,00. Quantos reais Luciana possui?
- c) Nelci tem duas cédulas de R\$10,00, quatro moedas de R\$1,00. Quantos reais Nelci possui?
- d) Gisele tem R\$ 42,00 e Marcelo tem R\$ 67,00. Quantos os dois tem juntos?

CIÊNCIAS

1º) Recorte e cole este texto explicativo no caderno:

Objetos e materiais: O que é isso? Do que isso é feito?

VOCÊ JÁ NOTOU A VARIEDADE DE OBJETOS QUE EXISTEM AO NOSSO REDOR? VEJA, NAS IMAGEM A SEGUIR, COMO UM MESMO MATERIAL PODE SER UTILIZADO PARA A FABRICAÇÃO DE DIFERENTES OBJETOS E COMO OS OBJETOS SÃO FEITOS DE DIFERENTES MATERIAIS. TAMBÉM PODEMOS DIZER QUE HÁ DIFERENTES MATERIAIS PARA UM MESMO OBJETO: OBSERVE.



1º) Agora no caderno responda:

- a) Faça uma lista de cinco objetos madeira que tenha na sua casa .
b) Cinco objetos de plásticos.
c) E cinco de alumínio.



Escola Municipal Carlos Chagas E.I.E.F
Localização: Rua Munhoz de Melo nº78 Centro
CEP: 87840-000 Mirador-PR Fone (44) 3434- 1163
E-mail- escola@mirador.pr.gov.br – E-mail:escolacarloschagasmira@gmail.com

PROFESSORA: Janethe Tiveron

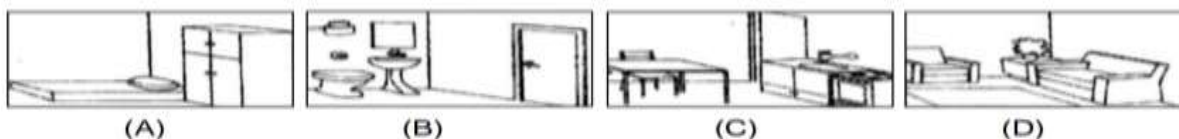
2º ANO A

ALUNO(a): _____


COMPONENTE CURRICULAR: Geografia

ATIVIDADE DOMICILIAR

6. MARQUE A PARTE DA CASA ONDE SE TOMA BANHO:



7. A FIGURA ABAIXO REPRESENTA UM BAIRRO. ESTE BAIRRO PERTENCE A:



- (A) ZONA RURAL
- (B) ZONA URBANA

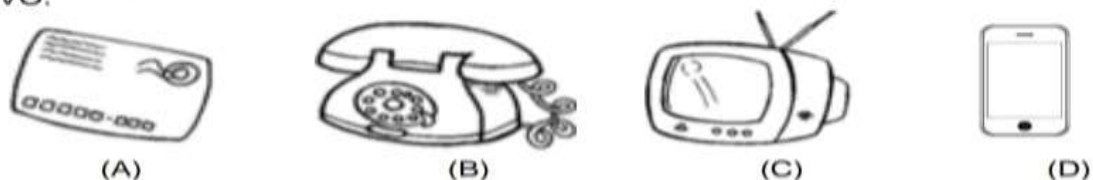
8. O BAIRRO APRESENTADO ACIMA PODE SER CONSIDERADO:

- (A) BAIRRO INDUSTRIAL
- (B) BAIRRO COMERCIAL
- (C) BAIRRO COMERCIAL E RESIDENCIAL

9. QUAL DAS ALTERNATIVAS NÃO APRESENTA UM MEIO DE COMUNICAÇÃO?

- (A) CELULAR
- (B) RÁDIO
- (C) TELEFONE
- (D) CAVALO

10. OS MEIOS DE COMUNICAÇÃO PODEM SER INDIVIDUAIS OU COLETIVOS. MARQUE A ALTERNATIVA QUE APRESENTA UM MEIO DE COMUNICAÇÃO COLETIVO:





Escola Municipal Carlos Chagas E.I.E.F
Localização: Rua Munhoz de Melo nº78 Centro
CEP: 87840-000 Mirador-PR Fone (44) 3434- 1163
E-mail- escola@mirador.pr.gov.br – E-mail:escolacarloschagasmira@gmail.com

PROFESSORA: Janethe Tiveron

2º ANO A

ALUNO(a): _____

COMPONENTE CURRICULAR: Matemática

ATIVIDADE DOMICILIAR

SISTEMA MONETÁRIO

1 - Ligue cada nota de dinheiro ao seu valor correspondente e escreva a quantidade por extenso como no modelo.



R\$ 5,00

Cinco reais

R\$ 10,00

R\$ 2,00

R\$ 20,00

R\$ 50,00

R\$ 100,00

R\$ 20,00



Escola Municipal Carlos Chagas E.I.E.F
Localização: Rua Munhoz de Melo nº78 Centro
CEP: 87840-000 Mirador-PR Fone (44) 3434- 1163
E-mail- escola@mirador.pr.gov.br – E-mail: escolacarloschagasmira@gmail.com

PROFESSORA: Janethe Tiveron

2º ANO A

ALUNO(a): _____

COMPONENTE CURRICULAR: História

Eu gosto de...
Pinte as cenas que mostram como você gosta
de brincar.





Escola Municipal Carlos Chagas E.I.E.F
Localização: Rua Munhoz de Melo nº78 Centro
CEP: 87840-000 Mirador-PR Fone (44) 3434- 1163
E-mail- escola@mirador.pr.gov.br – E-mail:escolacarloschagasmira@gmail.com

ATIVIDADE DOMICILIAR

PROFESSORA: Janethe Tiveron

2º ANO A

ALUNO(a): _____

COMPONENTE CURRICULAR: História / Geografia

ATIVIDADE DOMICILIAR

MEIOS DE TRANSPORTE

Os meios de transporte são classificados de acordo com a via por onde circulam.

1. QUAL ALTERNATIVA APRESENTA UM MEIO DE TRANSPORTE AQUÁTICO?

- (A) AVIÃO
- (B) CARRO
- (C) NAVIO
- (D) MOTO

2. ÔNIBUS, TRENS, MOTOS E BICICLETAS SÃO MEIOS DE TRANSPORTE:

- (A) TERRESTRES
- (B) AQUÁTICOS
- (C) AÉREOS

3. OS TRANSPORTES ABAIXO FORAM AGRUPADOS DE ACORDO COM O LOCAL ONDE CIRCULAM: TERRA, AR OU ÁGUA. ASSINALE A ALTERNATIVA QUE APRESENTA ALGUM TRANSPORTE NO GRUPO ERRADO:



(A)



(B)



(C)

4. QUAL O SIGNIFICADO DA COR EM DESTAQUE NO SEMÁFORO?

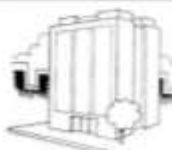
- (A) PARE
- (B) ATENÇÃO
- (C) SIGA
- (D) PASSE RÁPIDO



5. QUAL O PRINCIPAL MATERIAL USADO NA FABRICAÇÃO DE CADA UMA DAS CASAS ABAIXO?



- () TIJOLO
- () PALHA



- () GELO
- () TIJOLO



- () MADEIRA
- () PALHA