



Escola Municipal Carlos Chagas E.I.E.F
Localização: Rua Munhoz de Melo nº78 Centro
CEP: 87840-000 Mirador-PR Fone (44) 3434- 1163
E-mail- escola@mirador.pr.gov.br

PROFESSORA: Janethe Tiveron

2º Ano A

ALUNO(a): _____

COMPONENTE CURRICULAR: Língua Portuguesa

ATIVIDADE DOMICILIAR

A LEBRE E A TARTARUGA

UM DIA, UMA TARTARUGA COMEÇOU A CONTAR VANTAGEM DIZENDO QUE CORRIA MUITO DEPRESSA, QUE A LEBRE ERA MUITO MOLE, E ENQUANTO FALAVA, A TARTARUGA RIA E RIA DA LEBRE. MAS A LEBRE FICOU MESMO IMPRESSIONADA FOI QUANDO A TARTARUGA RESOLVEU APOSTAR UMA CORRIDA COM ELA.

"DEVE SER SÓ DE BRINCADEIRA!", PENSOU A LEBRE.

A RAPOSA ERA O JUIZ E RECEBIA AS APOSTAS. A CORRIDA COMEÇOU, E NA MESMA HORA, CLARO, A LEBRE PASSOU À FRENTE DA TARTARUGA. O DIA ESTAVA QUENTE, POR ISSO LÁ PELO MEIO DO CAMINHO A LEBRE TEVE A IDÉIA DE BRINCAR UM POUCO. DEPOIS DE BRINCAR, RESOLVEU TIRAR UMA SONECA À SOMBRA FRESQUINHA DE UMA ÁRVORE.

"SE POR ACASO A TARTARUGA ME PASSAR, É SÓ CORRER UM POUCO E FICO NA FRENTE DE NOVO", PENSOU.

A LEBRE ACHAVA QUE NÃO IA PERDER AQUELA CORRIDA DE JEITO NENHUM. ENQUANTO ISSO, LÁ VINHA A TARTARUGA COM SEU JEITÃO, ARRASTANDO OS PÉS, SEMPRE NA MESMA VELOCIDADE, SEM DESCANSAR NEM UMA VEZ, SÓ PENSANDO NA CHEGADA. ORA, A LEBRE DORMIU TANTO QUE ESQUECEU DE PRESTAR ATENÇÃO NA TARTARUGA. QUANDO ELA ACORDOU, CADÊ A TARTARUGA? BEM QUE A LEBRE SE LEVANTOU E SAIU ZUNINDO, MAS NEM ADIANTAVA! DE LONGE ELA VIU A TARTARUGA ESPERANDO POR ELA NA LINHA DE CHEGADA.

ESOPHO. FÁBULAS DE ESOPHO. SÃO PAULO: COMPANHIA DAS LETRINHAS, 1994.


TRABALHANDO O TEXTO.

1- QUEM SÃO AS PERSONAGENS DA FÁBULA?

2- POR QUE A LEBRE ACHAVA QUE IA GANHAR A CORRIDA?

3- QUEM FOI A VENCEDORA DA PROVA?

4- QUAL FOI A ATITUDE DA LEBRE QUE AJUDOU A TARTARUGA A CHEGAR PRIMEIRO?





Escola Municipal Carlos Chagas E.I.E.F
Localização: Rua Munhoz de Melo nº78 Centro
CEP: 87840-000 Mirador-PR Fone (44) 3434- 1163
E-mail- escola@mirador.pr.gov.br

RECORTE E COLE OS QUADRINHOS NA ORDEM CERTA DA HISTÓRIA:

A LEBRE E A TARTARUGA



DISCUTA COM SUA FAMÍLIA A MORAL DA HISTÓRIA.

BONS ESTUDOS!!!



Escola Municipal Carlos Chagas E.I.E.F
Localização: Rua Munhoz de Melo nº78 Centro
CEP: 87840-000 Mirador-PR Fone (44) 3434- 1163
E-mail- escola@mirador.pr.gov.br

PROFESSORA: Janethe Tiveron




2º Ano A

ALUNO(a): _____









COMPONENTE CURRICULAR: Ciências

ATIVIDADE DOMICILIAR

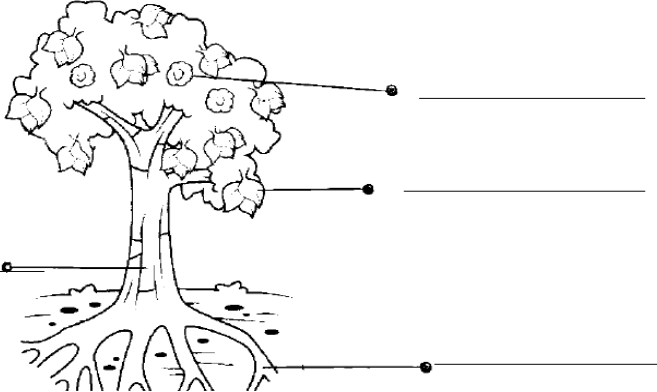
1- TENHO O CORPO COBERTO DE:

	penas
	escamas
	pêlos

2- LIGUE O ANIMAL AO QUE ELE FORNECE:

3- ESCREVA O NOME DAS PARTES DE UMA PLANTA.





Escola Municipal Carlos Chagas E.I.E.F
Localização: Rua Munhoz de Melo nº78 Centro
CEP: 87840-000 Mirador-PR Fone (44) 3434- 1163
E-mail- escola@mirador.pr.gov.br

PROFESSORA: Janethe Tiveron

2º Ano A

Aluno(a): _____

COMPONENTE CURRICULAR: Geografia

ATIVIDADE DOMICILIAR

MEIOS DE TRANSPORTES

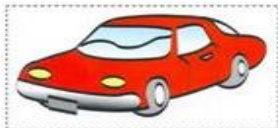
Responda as atividades

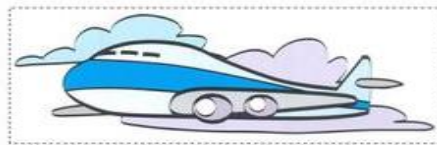
1) Para que servem os meios de transportes ?

R: _____


2) Quais são os 3 tipos de meios de transportes que existem?

3) Escreva o nome de cada transporte e diga se é terrestre, aquático ou aéreo:





4) Esse meio de transporte é conhecido como _____. E como ele pode ser utilizado?





Escola Municipal Carlos Chagas E.I.E.F
Localização: Rua Munhoz de Melo nº78 Centro
CEP: 87840-000 Mirador-PR Fone (44) 3434- 1163
E-mail- escola@mirador.pr.gov.br

PROFESSORA: Janethe Tiveron

2º Ano A

ALUNO(a): _____

COMPONENTE CURRICULAR: **História**

ATIVIDADE DOMICILIAR

Leia o poema e complete as questões



O BAIRRO ONDE EU MORO
O BAIRRO ONDE EU MORO
É PURA ANIMAÇÃO ...
CASAS, RUAS, PESSOAS
E MUITA AGITAÇÃO!

OHI BAIRRO DE MINHA AFEIÇÃO,
HOJE REPLETO EM CONSTRUÇÃO!
GRANDIOSO EM POPULAÇÃO
FICA LEMBRANÇAS NA IMAGINAÇÃO!

(Carmem Lúcia)

É hora de recordar e participar !

1. Responda: (0,4)

- a) O poema fala sobre o quê?
- b) O que há nesse bairro?

2. Coloque **V** para verdadeiro e **F** para falso. (0,4)

- a) (___) Bairro é uma parte da cidade.
- b) (___) Todo bairro tem um nome e uma história.
- c) (___) Nun bairro não é necessário ter ruas asfaltadas e água tratada.
- d) (___) Num bairro há grupos de pessoas que formam diferentes comunidades.

3. Ligue fazendo a correspondência associando os grupos que formam as comunidades. (0,3)




A família

Moradores de uma
rua ou bairro.

Pessoas que
frequentam uma igreja.



Escola Municipal Carlos Chagas E.I.E.F
Localização: Rua Munhoz de Melo nº78 Centro
CEP: 87840-000 Mirador-PR Fone (44) 3434- 1163
E-mail- escola@mirador.pr.gov.br





PROFESSORA: Janethe Tiveron

2º Ano A

ALUNO(a): _____

COMPONENTE CURRICULAR: Matemática

ATIVIDADE DOMICILIAR

1. Dona Maria foi ao supermercado e comprou:

12 maçãs

8 pães

03 leites

Quantos itens ela comprou?



2. Calcule as operações.

$$\begin{array}{r} 35 \\ + 14 \\ \hline \end{array}$$

$$\begin{array}{r} 53 \\ + 16 \\ \hline \end{array}$$

$$\begin{array}{r} 46 \\ + 24 \\ \hline \end{array}$$

3. Pinte da mesma cor as operações que possuem resultados iguais.

$$34 + 26 =$$

$$54 + 22 =$$

$$42 + 18 =$$

$$40 + 36 =$$