



**Escola Municipal Carlos Chagas E.I.E.F**

Localização: Rua Munhoz de Melo nº78 Centro

CEP: 87840-000 Mirador-PR Fone (44) 3434- 1163

E-mail- [escola@mirador.pr.gov.br](mailto:escola@mirador.pr.gov.br)

**COMPONENTE CURRICULAR LÍNGUA PORTUGUESA 2º ANO A**

**PROFESSORA: JANETHE ANTONIO VICENTE TIVERON**

**ALUNO:** \_\_\_\_\_

Leia o texto e complete a interpretação.

### O JABUTI E O JACARE

Joca, um jabuti muito engraçado,  
de pijama todo sujo e amassado,  
lá debaixo de uma linda jaqueira,  
uma jaca ele comia. Que sujeira!

No seu jipe chegou o jacaré  
de cartola e gravata-borboleta.  
convidando para aquela comilança,  
ele pensou: "O que vai ser da minha pança?"



*Música Nesta rua*

• Agora, marque a resposta certa:

1) Quem chegou de jipe foi:

Joca.

o jabuti.

o jacaré.

Juvenal.

2) É a última palavra da primeira estrofe:

engraçado.

sujeira.

pança.

jacaré.

3) Número de versos desta cantiga:

2.

4.

6.

8.



Escola Municipal Carlos Chagas E.I.E.F

Localização: Rua Munhoz de Melo nº78 Centro

CEP: 87840-000 Mirador-PR Fone (44) 3434- 1163

E-mail- [escola@mirador.pr.gov.br](mailto:escola@mirador.pr.gov.br)

COMPONENTE CURRICULAR MATEMÁTICA 2º ANO A

PROFESSORA: JANETHE ANTONIO VICENTE TIVERON

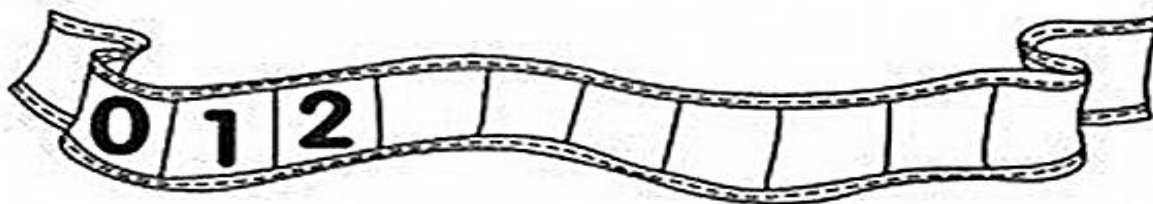
ALUNO: \_\_\_\_\_

Observe os desenhos e complete de acordo com o que se pede: Sequência numérica.


## QUAL É A SEQÜÊNCIA?

1) COMPLETE AS SEQÜÊNCIAS NUMÉRICAS ABAIXO DE ACORDO COM O QUE SE PEDE.

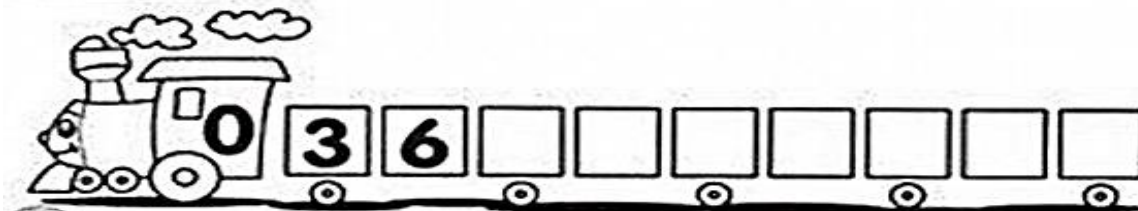
A) DE 1 EM 1



B) DE 2 EM 2



C) DE 3 EM 3





**Escola Municipal Carlos Chagas E.I.E.F**

Localização: Rua Munhoz de Melo nº78 Centro

CEP: 87840-000 Mirador-PR Fone (44) 3434- 1163

E-mail- [escola@mirador.pr.gov.br](mailto:escola@mirador.pr.gov.br)


**COMPONENTE CURRICULAR GEOGRAFIA 2º ANO A**

**PROFESSORA: JANETHE ANTONIO VICENTE TIVERON**

**ALUNO:** \_\_\_\_\_

## **DIA OU NOITE?**

RECORTE AS FIGURAS NO FINAL DA FOLHA E COLE-AS NO QUADRO OBSERVANDO SE A CENA ACONTECE DE DIA OU À NOITE.





**Escola Municipal Carlos Chagas E.I.E.F**

Localização: Rua Munhoz de Melo nº78 Centro

CEP: 87840-000 Mirador-PR Fone (44) 3434- 1163

E-mail- [escola@mirador.pr.gov.br](mailto:escola@mirador.pr.gov.br)

## COMPONENTE CURRICULAR CIÊNCIAS 2º ANO A

**PROFESSORA: JANETHE ANTONIO VICENTE TIVERON**

**ALUNO:** \_\_\_\_\_

Leia o texto e faça a atividade.

Como foi possível observar, os brinquedos são fabricados de diferentes materiais.

Dependendo do material que foram foram fabricados - madeira, papel, metal, borracha, plástico, etc., eles oferecem possibilidades variadas de formas, tamanho e uso nas brincadeiras.

Observe as imagens ao lado e converse com os colegas sobre as questões abaixo:

1. O que representam estas imagens?
2. De que são feitos estes objetos?
3. Você já brincou com algum destes objetos? De que material vocês acham que eles eram fabricados no passado?



Crédito das imagens  
Gettyimages





Escola Municipal Carlos Chagas E.I.E.F

Localização: Rua Munhoz de Melo nº78 Centro

CEP: 87840-000 Mirador-PR Fone (44) 3434- 1163

E-mail- [escola@mirador.pr.gov.br](mailto:escola@mirador.pr.gov.br)

**COMPONENTE CURRICULAR HISTÓRIA 2º ANO A**

**PROFESSORA: JANETHE ANTONIO VICENTE TIVERON**

**ALUNO:** \_\_\_\_\_

Leia a história e complete a atividade.

Colorir os desenhos.




### COMPLETANDO A HISTÓRIA

1) Observe as cenas e complete a história com as palavras do quadro abaixo.

**burrinho – Guilherme – Félix – Rex – corrida  
acompanhar – ração – disparada – barulho**

#### A corrida



Rex é o cãozinho de \_\_\_\_\_.

Ele adora apostar \_\_\_\_\_ com o \_\_\_\_\_ Félix.

Um dia \_\_\_\_\_ ouviu o \_\_\_\_\_ da  
carroça de \_\_\_\_\_ e preparou para segui-lo.

Rex saiu em \_\_\_\_\_. Mas que falta de sorte!  
Ele não conseguiu \_\_\_\_\_ Félix.

Guilherme, com pena de \_\_\_\_\_, deu-lhe uma  
gostosa \_\_\_\_\_.

Quem sabe um dia Rex ganha essa corrida?