



Escola Municipal Carlos Chagas E.I.E.F

Localização: Rua Munhoz de Melo nº78 Centro

CEP: 87840-000 Mirador-PR Fone (44) 3434- 1163

E-mail- escola@mirador.pr.gov.br

ATIVIDADE DE HISTÓRIA 2º ANO A

PROFESSORA: JANETHE ANTONIO VICENTE TIVERON

ALUNO: _____

História de vida da criança, da família e da comunidade.

De onde eu vim

Meus amiguinhos, vou contar uma história que aconteceu comigo e com você também!...

Quando eu vivi dentro da barriga de minha mãe, estava mergulhado na água de uma bolsa muito especial... A água era morninha...
Minha mãe inspirava e expirava por mim...
Imaginem que o ar e os alimentos eram trazidos para mim pelo cordão umbilical!
E eu crescia...Crescia...
Depois nasci e comecei a respirar por mim mesmo...

Extraído de "O Mundo da Criança"

◆ Em que data você nasceu?

◆ Qual foi o seu peso, ao nascer?

Professor:



Escola Municipal Carlos Chagas E.I.E.F

Localização: Rua Munhoz de Melo nº78 Centro

CEP: 87840-000 Mirador-PR Fone (44) 3434- 1163

E-mail- escola@mirador.pr.gov.br

ATIVIDADE DE GEOGRAFIA 2º ANO A

PROFESSORA: JANETHE ANTONIO VICENTE TIVERON

ALUNO: _____




Geografia

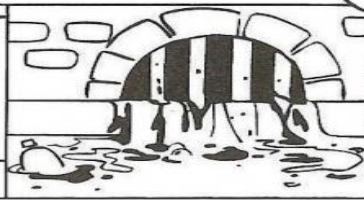
O município

Os serviços públicos

► Os munícipes pagam taxas de:



Á U A




E S O T O




coleta de

L X

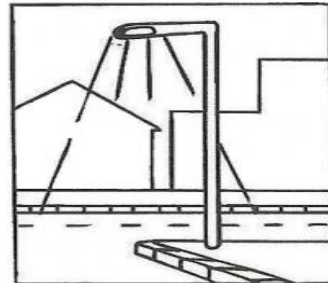
► Também pagam impostos sobre suas propriedades e veículos.



C A S S



V Í C U O



I L M N Ç O

► O dinheiro dos impostos e taxas pagos pelos habitantes do município deve ser usado para melhorar as condições de vida do lugar.



Escola Municipal Carlos Chagas E.I.E.F

Localização: Rua Munhoz de Melo nº78 Centro

CEP: 87840-000 Mirador-PR Fone (44) 3434- 1163

E-mail- escola@mirador.pr.gov.br

ATIVIDADE DE CIENCIAS 2º ANO A

PROFESSORA: JANETHE ANTONIO VICENTE TIVERON


ALUNO: _____

Ciclo de vida dos seres vivos.

Recorte os objetos abaixo e cole no quadro correspondente.

SERES VIVOS	SERES NÃO VIVOS

© SMARTKIDS





Escola Municipal Carlos Chagas E.I.E.F

Localização: Rua Munhoz de Melo nº78 Centro

CEP: 87840-000 Mirador-PR Fone (44) 3434- 1163

E-mail- escola@mirador.pr.gov.br

DIA 18/07/ REPOSIÇÃO DE AULA REFERENTE AO DIA 07/05/2020.

ATIVIDADE DE LINGUA PORTUGUESA 2º ANO A

PROFESSORA: JANETHE ANTONIO VICENTE TIVERON

ALUNO: _____

Decodificação e compreensão de palavras.

Faça a leitura, e complete os pontilhados.

TREINO ORTOGRÁFICO - TR



TRA

trabalho

TRE

trecho

TRI

trilha

TRO

troco

TRU

truque

TRABALHO

TREZE

TRIGO

TROVÃO

TRUQUE

TRATOR

TRÊS

TRIBO

TRONO

TRUFA

TRAVE

TRENÓ

1 - O REI VESTIU O TRAJE E SENTOU-SE NO TRONO.

2 - O TROCADOR DEVOLVEU O TROCO.

3 - A TROPA COMEU FEIJÃO TROPEIRO.



Escola Municipal Carlos Chagas E.I.E.F

Localização: Rua Munhoz de Melo nº78 Centro

CEP: 87840-000 Mirador-PR Fone (44) 3434- 1163

E-mail- escola@mirador.pr.gov.br

DIA 18/07/ REPOSIÇÃO DE AULA REFERENTE AO DIA 07/05/2020.

ATIVIDADE DE LINGUA PORTUGUESA 2º ANO

PROFESSORA: JANETHE ANTONIO VICENTE TIVERON

ALUNO: _____

Leia o texto com atenção antes de começar as atividades.

O burrinho medroso

Tico era um burrinho muito medroso, mas dizia que não tinha medo de nada.

Um dia, seu amigo Teteco colocou um lençol branco na cabeça e ficou atrás do barranco esperando Tico passar.

Quando Tico passou:

_ Buuuuuuuuuuu!

Tico levou um susto tão grande que saiu em disparada!



.....

Interpretando o texto

1) Responda:

a) Qual é o título do texto?

b) Quem é o personagem principal do texto?

c) Quem deu um susto em Tico?



Escola Municipal Carlos Chagas E.I.E.F

Localização: Rua Munhoz de Melo nº78 Centro

CEP: 87840-000 Mirador-PR Fone (44) 3434- 1163

E-mail- escola@mirador.pr.gov.br

DIA 18/07/ REPOSIÇÃO DE AULA REFERENTE AO DIA 07/05/2020.

ATIVIDADE DE MATEMÁTICA 2º ANO A

PROFESSORA: JANETHE ANTONIO VICENTE TIVERON

ALUNO: _____

Medidas de tempo: Horas exatas.

MEDIDAS DE TEMPO

A hora e o minuto


A hora e o minuto são unidades de medidas de tempo marcadas pelo relógio.

Por extenso	Abreviatura
hora	h
minuto	min

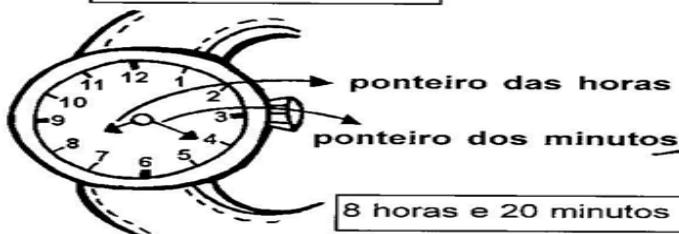
O dia se divide em 24 partes iguais.
Cada parte corresponde a **1 hora**.

A hora se divide em 60 partes iguais.
Cada parte corresponde a **1 minuto**.

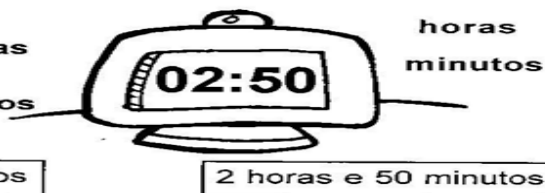
O minuto se divide em 60 partes iguais.
Cada parte corresponde a **1 segundo**.



Relógio de ponteiro



Relógio digital





Escola Municipal Carlos Chagas E.I.E.F

Localização: Rua Munhoz de Melo nº78 Centro

CEP: 87840-000 Mirador-PR Fone (44) 3434- 1163

E-mail- escola@mirador.pr.gov.br

DIA 18/07/ REPOSIÇÃO DE AULA REFERENTE AO DIA 07/05/2020.

ATIVIDADE DE MATEMÁTICA 2º ANO A

PROFESSORA: JANETHE ANTONIO VICENTE TIVERON

ALUNO: _____

Medidas de tempo: Horas exatas.

QUAL É A HORA?

OBSERVE COMO APARECEM OS ALGARISMOS NUM RELÓGIO DIGITAL:

0 1 2 3 4 5 6 7 8 9

1 Para cada hora marcada no relógio digital faça a indicação no relógio de ponteiros.

Lembre-se: O ponteiro menor marca as horas e o ponteiro maior marca os minutos.

